

تم تحميل هذا الملف من موقع المناهج العمانية



نشاط تفاعلي لدرس مقارنة الكسور

[موقع المناهج](#) ← [المناهج العمانية](#) ← [الصف السادس](#) ← [رياضيات](#) ← [الفصل الثاني](#) ← [الملف](#)

تاريخ إضافة الملف على موقع المناهج: 2024-05-20 15:50:37

إعداد: فاطمة عبدالله درويش الشحية

التواصل الاجتماعي بحسب الصف السادس



اضغط هنا للحصول على جميع روابط "الصف السادس"

روابط مواد الصف السادس على تلغرام

[الرياضيات](#)

[اللغة الانجليزية](#)

[اللغة العربية](#)

[التربية الاسلامية](#)

المزيد من الملفات بحسب الصف السادس والمادة رياضيات في الفصل الثاني

[نشاط تفاعلي لدرس الكسور والأعداد الكسرية](#)

1

[اختبار قصير ثاني مع نموذج الإجابة](#)

2

[إجابة الاختبار القصير الثاني](#)

3

[اختبار قصير ثاني](#)

4

[اختبار تجريبي ثاني](#)

5

كن معي

وخذ بيدي

درس: مقارنة الكسور

س١: أيهما أصغر: $\frac{2}{3}$ أم $\frac{2}{9}$ ؟

$$\frac{2}{9} \quad \frac{2}{3}$$

س٢: أكمل $\frac{12}{47} - \frac{12}{46}$ باستخدام $>$ أو $=$ أو $<$.

$$= \quad > \quad <$$


س٣: يفضل ١٦ من ٣٠ بالفصل أ السباحة، ويفضل ١٦ من ٣٧ في الفصل ب السباحة. أوجد أيُّ الفصلين صاحب كسر أكبر يعبر عن نسبة الطلاب الذين يفضلون السباحة.

فصل أ فصل ب



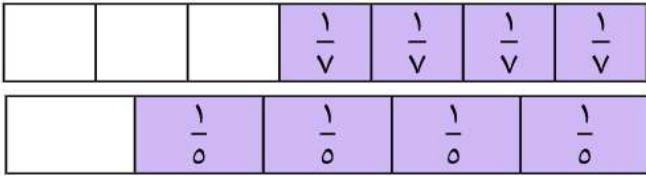
س٤: يطلي كلٌّ من أسامة وعبد الله غرفة نومه، والغرفتان لهما نفس الحجم. طلى أسامة $\frac{3}{4}$ غرفته. طلى عبد الله $\frac{3}{5}$ غرفته. مَنْ مِنهما طلى أكثر من الآخر؟

أسامة عبد الله

س٥: ما قيمة الجزء المظلل؟




س٦: قارن بين الكسور. ما العلامة المجهولة؟

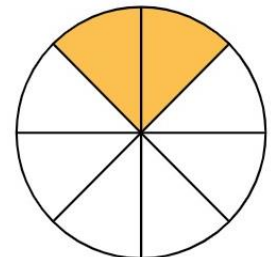
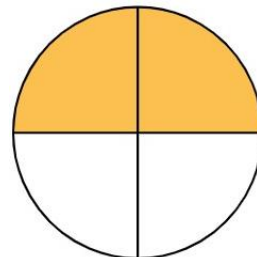


$$\frac{4}{7} = \quad > \quad < \quad \frac{4}{5}$$

$$\frac{1}{2} = \quad > \quad < \quad \frac{1}{4}$$



س٨: صواب أم خطأ: $\frac{2}{8}$ أكبر من $\frac{2}{4}$.



خطأ

صواب

$$\frac{3}{8} = \quad > \quad < \quad \frac{3}{4}$$