

## شكراً لتحميلك هذا الملف من موقع المناهج العمانية



## مذكرة إثرائية في الوحدة الأولى الغلاف الصخري

[موقع المناهج](#) ← [المناهج العمانية](#) ← [الصف السادس](#) ← [اجتماعيات](#) ← [الفصل الأول](#) ← [الملف](#)

تاريخ نشر الملف على موقع المناهج: 2022-11-18 11:45:18 | اسم المدرس: علي بن محمد الحسان

## التواصل الاجتماعي بحسب الصف السادس



## روابط مواد الصف السادس على تلغرام

[الرياضيات](#)


[اللغة الانجليزية](#)

[اللغة العربية](#)

[التربية الاسلامية](#)

## المزيد من الملفات بحسب الصف السادس والمادة اجتماعيات في الفصل الأول

<a href="#">ملخص شامل للمادة</a>	1
<a href="#">مراجعة المدرسين نشأة الجبال والدولة الأموية في الأندلس</a>	2
<a href="#">مراجعة الوحدة الثالثة الغلاف الجوي والمائي</a>	3
<a href="#">حل أنشطة المادة</a>	4
<a href="#">نموذج أسئلة الاختبار الرسمي (جنوب الشرقية)</a>	5



الدراسات الاجتماعية

الصف السادس

٢٠٢٣ / ٢٠٢٢

أسئلة واجوبة

الفصل الدراسي الأول

الوحدة الأولى

درس : نشأة الجبال

علي بن محمد الحسان

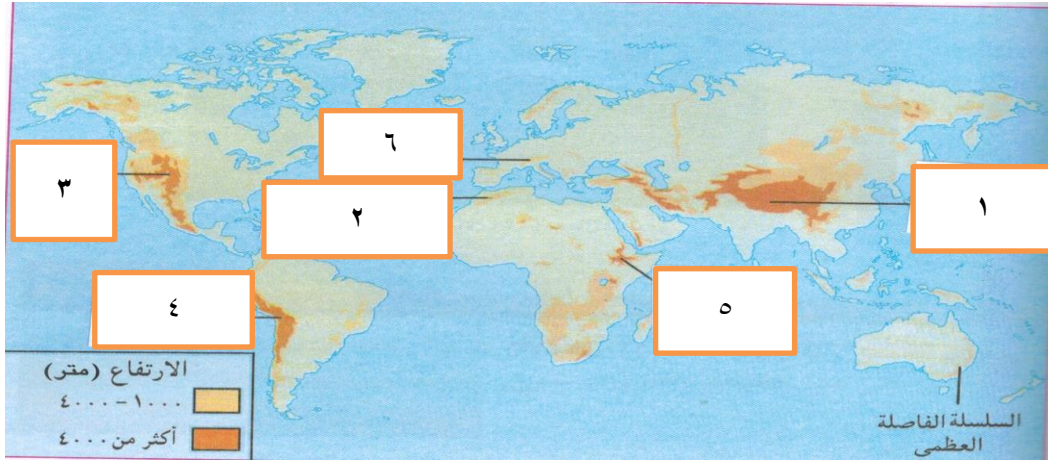
99493923

Ali 47536@moe.om

**درس : نشأة الجبال**

**السؤال الأول : ضع علامة (✓) أو (X) أمام العبارة المناسبة مع تصحيح ما تحته خط إذا كانت العبارة خطأ .**

- ١- ( ✓ ) تكونت الجبال نتيجة عمليات باطنية كالالتواءات والصدوع .  
 ٢- ( X ) مراحل نشو الجبال الالتوائية تتم ببط شديد وعبر عشرات السنين . ملايين



**السؤال الثاني : من خلال الخريطة التي أمامك أجب عن الأسئلة التالية .**

**أولا : ضع أرقام الجبال التالية في أماكنها الصحيحة في الخريطة :**

- ١- جبال الهملايا . ٣- جبال الروكي . ٥- مرتفعات اثيوبيا  
 ٢- جبال أطلس . ٤- جبال الانديز . ٦- جبال الالب

**ثانيا : في أي القارات تقع الجبال التالية :**




- ١- جبال المرتفعات الاثيوبية ( افريقيا )  
 ٢- جبال الألب ( اوروبا )  
 ٣- جبال الانديز ( أمريكا الجنوبية )

**السؤال الثالث : اختر المصطلح من بين القوسين وضعه أمام العبارة التي تناسبه .**



( الطية المقعرة - النحت - الطية المحدبة )


- ١- ( النحت ) فعل الأنهار والأودية والجليد الذي يغير معالم السطح في مناطق المحدبات والمقعرات .  
 ٢- ( الطية المحدبة ) الأجزاء المرتفعة من الطبقات الصخرية بعد الطيء .  
 ٣- ( الطية المقعرة ) الأجزاء المنخفضة من الطبقات الصخرية بعد الطيء .

**السؤال الرابع : صل بخط بين الجبل وصورته**

الصورة	اسم الجبل
	جبال الأنديز
	جبال الألب
	جبال الروكي

**السؤال الخامس : " من خلال المراحل التي ادت إلى نشوء الجبال الالتوائية " ؟ أكمل العبارات التالية**

<p><b>المرحلة الأولى</b></p> <p>طبقات رسوبية</p>  <p>شكل (١٥) ترسب الطبقات الصخرية</p>	<p>١- <b>المرحلة الأولى</b> : تكسد الرواسب أفقياً في طبقات بقيعان البحار والمحيطات ويطلق عليها اسم <b>الصخور الرسوبية</b>.</p>
<p><b>المرحلة الثانية</b></p> <p>طية محدبة (جبل التوازي)</p> <p>طية مقعرة</p>  <p>شكل (١٦) تكوّن الطيات المحدبة والطيات المقعرة</p>	<p>٢- <b>المرحلة الثانية</b> " تعرض الطبقات الصخرية إلى الطي والانثناء فترتفع أجزاء منها ويطلق عليها اسم <b>الطيات المحدبة</b> وتنخفض أجزاء أخرى وتسمى <b>بالطيات المقعرة</b></p>
<p><b>المرحلة الثالثة</b></p> <p>جبل معدل بالنحت</p> <p>نهر</p>  <p>شكل (١٧) الجبال وبتون الأنهار والأودية</p>	<p>٣- <b>المرحلة الثالثة</b> : بفعل النحت المائي والجليدي لملايين السنين تتعدل الطيات المقعرة وتتحول إلى <b>جبال التوائية</b> بينما تتحول الطيات المحدبة إلى أنهار وأودية .</p>



الدراسات الاجتماعية

الصف السادس

٢٠٢٣ / ٢٠٢٢

أسئلة

الفصل الدراسي الأول

الوحدة الأولى

درس : نشأة الجبال

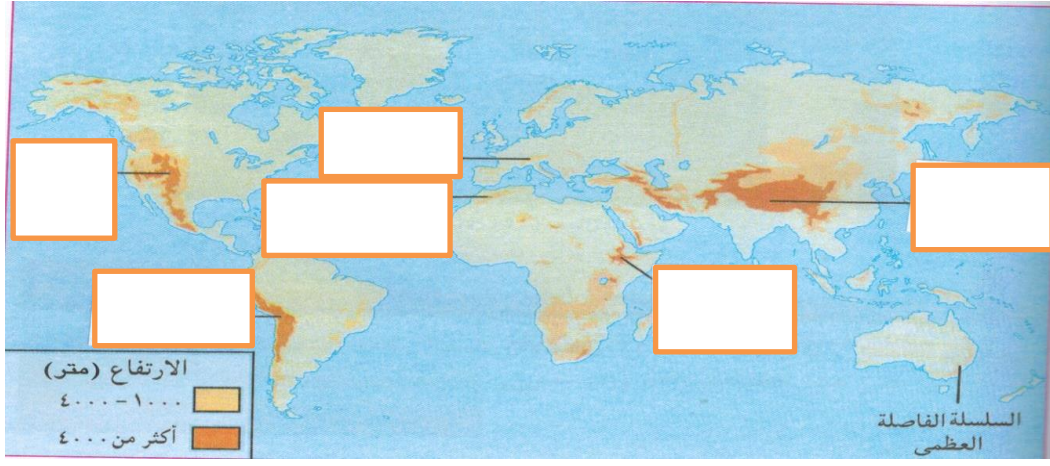
علي بن محمد الحسان

99493923

Ali 47536@moe.om

**درس : نشأة الجبال****السؤال الأول : ضع علامة (✓) أو (X) أمام العبارة المناسبة مع تصحيح ما تحته خط إذا كانت العبارة خطأ .**

- ١- ( ) تكونت الجبال نتيجة عمليات باطنية كالالتواءات والصدوع .  
٢- ( ) مراحل نشو الجبال الالتوائية تتم ببط شديد وعبر عشرات السنين .

**السؤال الثاني : من خلال الخريطة التي أمامك أجب عن الأسئلة التالية .****أولا : ضع أرقام الجبال التالية في أماكنها الصحيحة في الخريطة :**

- ٣- جبال الهملايا .      ٣- جبال الروكي .      ٥- مرتفعات اثيوبيا  
٤- جبال أطلس .      ٤- جبال الانديز      ٦- جبال الالب

**ثانيا : في أي القارات تقع الجبال التالية :**




- ٤- جبال المرتفعات الاثيوبية ( )  
٥- جبال الألب ( )  
٦- جبال الانديز ( )

**السؤال الثالث : اختر المصطلح من بين القوسين وضعه أمام العبارة التي تناسبه .**



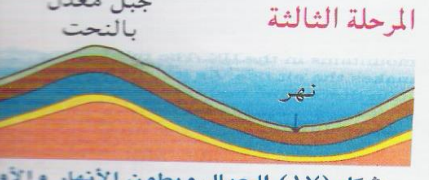
( الطية المقعرة - النحت - الطية المحدبة )

- ١- ( ) فعل الأنهار والأودية والجليد الذي يغير معالم السطح في مناطق المحدبات والمقعرات .  
٢- ( ) الأجزاء المرتفعة من الطبقات الصخرية بعد الطيء .  
٣- ( ) الأجزاء المنخفضة من الطبقات الصخرية بعد الطيء .

**السؤال الرابع : صل بخط بين الجبل وصورته**

الصورة	اسم الجبل
	جبال الأنديز
	جبال الألب
	جبال الروكي

**السؤال الخامس : " من خلال المراحل التي ادت إلى نشوء الجبال الالتوائية " ؟ أكمل العبارات التالية**

<p><b>المرحلة الأولى</b></p> <p>طبقات رسوبية</p>  <p>شكل (١٥) ترسب الطبقات الصخرية</p>	<p>١- <b>المرحلة الأولى</b> : تكسد الرواسب أفقياً في طبقات بقيعان البحار و..... ويطلق عليها اسم الصخور.....</p>
<p><b>المرحلة الثانية</b></p> <p>طية محدبة (جبل التواهي)</p> <p>طية مقعرة</p>  <p>شكل (١٦) تكوّن الطيات المحدبة والطيات المقعرة</p>	<p>٢- <b>المرحلة الثانية</b> " تعرض الطبقات الصخرية إلى الطي و..... فترتفع أجزاء منها ويطلق عليها اسم الطيات ..... وتنخفض أجزاء أخرى وتسمى بالطيات .....</p>
<p><b>المرحلة الثالثة</b></p> <p>جبل معدل بالنحت</p> <p>نهر</p>  <p>شكل (١٧) الجبال وبطون الأنهار والوادي</p>	<p>٣- <b>المرحلة الثالثة</b> : بفعل النحت المائي والجليدي ..... السنين تتعدل الطيات المقعرة وتتحول إلى جبال ..... بينما تتحول الطيات المحدبة إلى أنهار و.....</p>