

شكراً لتحميلك هذا الملف من موقع المناهج العمانية



الامتحان النهائي الدور الأول الفترة الصباحية لمحافظة جنوب الباطنة

[موقع المناهج](#) ← [المناهج العمانية](#) ← [الصف السادس](#) ← [اجتماعيات](#) ← [الفصل الأول](#) ← [الملف](#)

تاريخ نشر الملف على موقع المناهج: 05:35:52 2024-01-04

التواصل الاجتماعي بحسب الصف السادس



روابط مواد الصف السادس على تلغرام

[الرياضيات](#)

[اللغة الانجليزية](#)

[اللغة العربية](#)

[التربية الاسلامية](#)

المزيد من الملفات بحسب الصف السادس والمادة اجتماعيات في الفصل الأول

[الامتحان النهائي الدور الأول الفترة الصباحية للمحافظات جنوب الشرقية](#)

1

[الامتحان النهائي الرسمي الدور الأول الفترة الصباحية لمحافظة جنوب الباطنة](#)

2

[اختبار نهائي رسمي في محافظة الداخلية](#)

3

[اختبار نهائي رسمي في محافظة الظاهرة](#)

4

[اختبار نهائي رسمي في محافظة شمال الشرقية](#)

5

أجب عن جميع الأسئلة الآتية

السؤال الأول: ضع دائرة حول رمز الإجابة الصحيحة لكل مفردة من المفردات الآتية:-



١- الغلاف الأرضي الذي تمثله الصورة المقابلة .

أ- الجوي

ب- الحيوي

ج- المائي

د- الصخري

٢- السلسلة الجبلية الموجودة في قارة أفريقيا .

أ- الهملايا

ب- الأطلس

ج- الألب

د- الأنديز

٣- طبقة الغلاف الجوي التي يفضل الطيارون قيادة الطائرات في اجوائها.

أ- التروبوسفير

ب- الأستراتوسفير

ج- الميزوسفير

د- الثيرموسفير

٤- الصحابي الذي بعثه الرسول الكريم (صلى الله عليه وسلم) الى جيفرو عبد ابني الجلندي يدعوهم وقومهما للإسلام.

أ- جابر بن زيد

ب- عثمان بن عفان

ج- عمرو بن العاص

د- مازن بن غضوبة

٥- درجة الزلزال الذي ضرب مدينة سان فرانسيسكو عام ١٩٠٦ م حسب الجدول المقابل .

أ- ٦,٩

ب- ٧,٢

ج- ٨,٢٥

د- ٨,٩

المدنية / الدولة	سنة حدوث الزلزال	قوة الزلزال بالدرجات	عدد القتلى (تسعة)
- سان فرانسيسكو (الولايات المتحدة)	١٩٠٦	٨,٢٥	٧٠٠
- تشيلي	١٩٦٠	٨,٩	١,٧٠٠
- تانغ شان (الصين)	١٩٧٦	٨,٥	٢٤٠,٠٠٠
- زمار (اليمن)	١٩٨٢	٦,٨	٢٣,٠٠٠
- أرمينيا (الاتحاد السوفيتي سابقاً)	١٩٨٨	٦,٩	٢٥,٠٠٠
- جوبي (اليابان)	١٩٩٥	٧,٢	٥,٠٠٠

لقرارات التي امتدت فيها الدولة العربية الإسلامية في العهد العباسي.

ب - أفريقيا و أوروبا وأمريكا الشمالية

د - آسيا وأفريقيا و أوروبا

أ - آسيا وأفريقيا وأستراليا

ج - آسيا وأمريكا الجنوبية وأستراليا

٧- شاهد أحمد النشرة الجوية وأدرك أنه من المتوقع هطول أمطار رعدية على محافظة جنوب الباطنة ، الصورة المعبرة عن ذلك .



أ.



ب.



ج.



د.

٨- وزن عمود الهواء الممتد من مستوى سطح البحر إلى نهاية الغلاف الغازي على السنتيمتر المربع.

أ- الرطوبة

ب - المنخفض الجوي

ج - الضغط الجوي

د - التكاثف

- الإمام الذي أنشاء أول اسطول بحري في عُمان .

أ - محمد بن أبي عفان

ب - غسان بن عبدالله

ج - راشد بن النظر

د - عزان بن تميم

٩- النسبة المئوية التي يمثلها غاز النيتروجين من حجم الهواء في الغلاف الجوي .

أ - ٠,٣

ب - ٠,٨

ج - ٢١

د - ٧٨

- الشهر الذي تهب فيه الرياح الموسمية من الجنوب والجنوب الغربي والتي تمكن السفن نية العودة من شرقي أفريقيا الى عُمان .


أ - يناير

ب - إبريل

ج - نوفمبر

د - ديسمبر

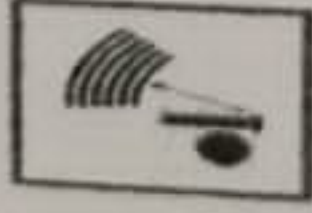
١٠- لشكل التي تعبر عن الإبتعاد عن الشاطئ عند حدوث الزلزال .




أ -



ب -



ج -



د -

السؤال الثاني: أجب عن الأسئلة الآتية:

أولاً: (أ) عرف ما يأتي :

(1) الغلاف المائي .

(2) الأندلس .

(ب) اذكر اثنين من أنواع الأمطار .

١ -

٢ -

ثانياً: وزع الأحداث التاريخية الواردة بين القوسين حسب سنة حدوثها في الجدول التالي .

(نهاية الإمامة الثانية في عُمان - بداية الإمامة في عُمان - ارسال حملة عسكرية بقيادة خازم بن خزيمة الى عُمان - وفاة الإمام جابر بن زيد)

٢٨٠ هـ	١٣٤ هـ	١٣٢ هـ	٩٣ هـ

السؤال الثالث: أجب عن الاسئلة الآتية:


أولاً: ١ - أكمل البطاقة التعريفية للشكل المقابل:

أ - نوع البركان (.....)

ب - درجة الحرارة (.....)

٢ - اكتب ما يلي في مكانه المناسب في الشكل.

أ - القصبة
ب - الفوهة

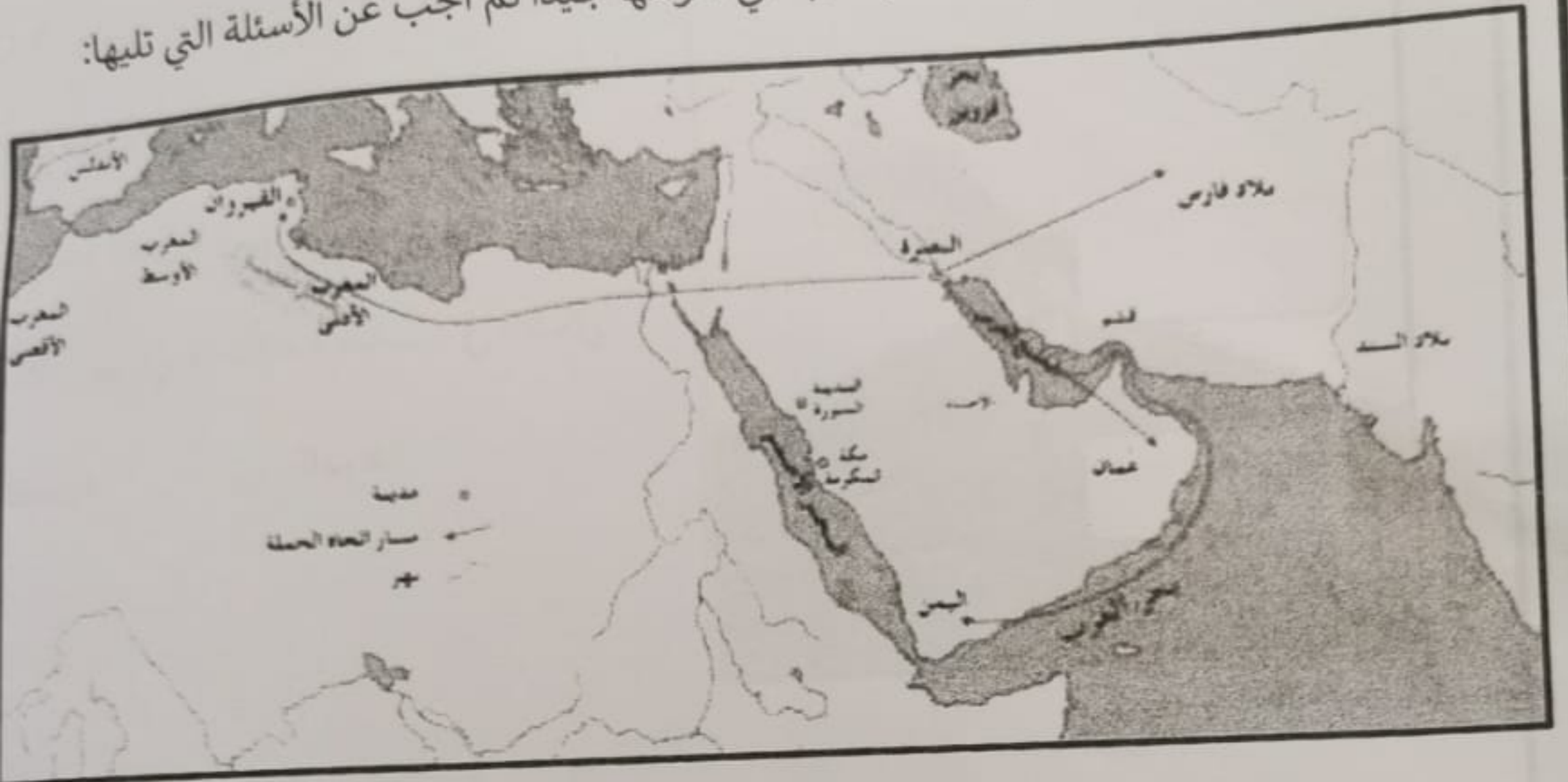


نياً: قارن في الجدول الآتي بين النظام السيليزي والنظام الفهرنهايتي المستخدمين لقياس درجة حرارة من حيث درجة التجمد ودرجة الغليان:

درجة الغليان	درجة التجمد	أوجه المقارنة
		نوع النظام
		نظام السيليزي
		نظام الفهرنهايتي

السؤال الرابع: أجب عن الاسئلة الآتية:

أولاً: امامك خريطة حملة العلم للمذهب الأباضي ادرسها جيدا ثم أجب عن الأسئلة التي تليها:



- ١ - اكتب على الخريطة ما يأتي في موقعه الصحيح .
أ - البحر المتوسط
ب - المحيط الهندي
- ٢ - ضع دائرة حول المدينة التي انطلق منها حملة العلم .
- ٣ - استخراج اسم المدينة التي وصل اليها حملة العلم في بلاد المغرب العربي . (.....)
ثانياً:

١ - علل : كانت مدينة البصرة المكان المفضل لهجرة العمانيين إليها في العصر الأموي .

٢ - ما الاتجاه الذي سلكه حملة العلم الى بلاد فارس؟

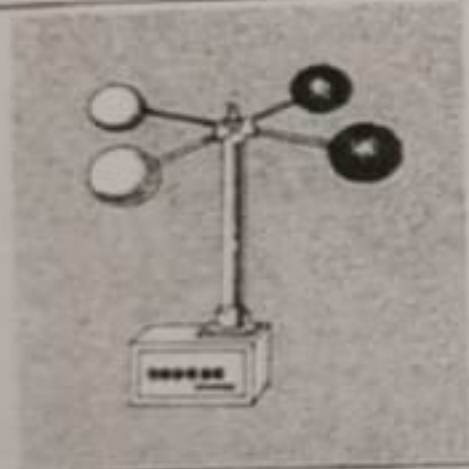
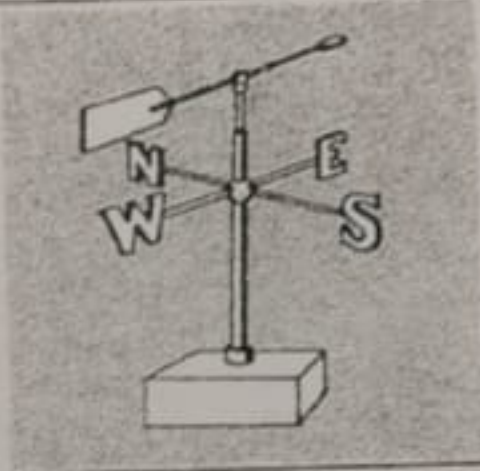
السؤال الخامس: أجب عن الأسئلة الآتية:

أولاً:

١ - من خلال دراستك لموضوع مكونات الغلاف المائي انقل النسب الآتية في مكانها المناسب في الجدول التالي (٣% - ٧١% - ٩٧% - ٢٩%) .

النسبة	
	١ - نسبة الماء في الكرة الأرضية.
	٢ - نسبة اليابسة في الكرة الأرضية.
	٣ - نسبة الماء المالح في الكرة الأرضية.
	٤ - نسبة الماء العذب في الكرة الأرضية.

ثانياً: ادرس الأجهزة الآتية ثم اكمل الجدول التالي بما يناسبه :

		
.....	اسم الجهاز
.....	مجال استخدامه

انتهت الأسئلة مع الدعاء للجميع بالتوفيق والنجاح