

تم تحميل هذا الملف من موقع المناهج العمانية



الامتحان النهائي الرسمي الدور الأول الفترة الصباحية

موقع فايلاتي ← المناهج العمانية ← الصف السادس ← اجتماعيات ← الفصل الأول ← الامتحان النهائي ← الملف

تاريخ إضافة الملف على موقع المناهج: 09:42:07 2025-01-20

ملفات اكتب للمعلم اكتب للطالب الاختبارات الكترونية الاختبارات ا حلول اعروض بوربوينت ا أوراق عمل
منهج انجليزي ا ملخصات وتقارير ا مذكرات وبنوك الامتحان النهائي للمدرس

المزيد من مادة
اجتماعيات:

التواصل الاجتماعي بحسب الصف السادس



صفحة المناهج
العمانية على
فيسبوك

الرياضيات

اللغة الانجليزية

اللغة العربية

التربية الاسلامية

المواد على تلغرام

المزيد من الملفات بحسب الصف السادس والمادة اجتماعيات في الفصل الأول

امتحان تدريبي في محافظة جنوب الباطنة

1

نموذج إجابة الامتحان التدريبي في محافظة جنوب الباطنة

2

نموذج إجابة الامتحان التدريبي في محافظة الظاهرة

3

امتحان تجريبي مع نموذج الإجابة في محافظة ظفار

4

حصاد درس مشاريع اقتصادية عمانية واعدة

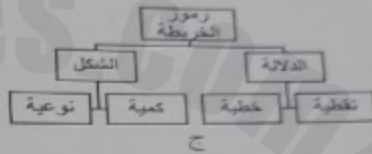
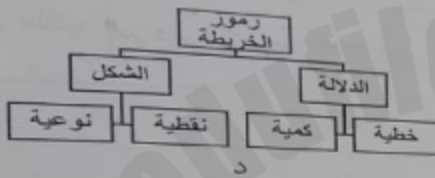
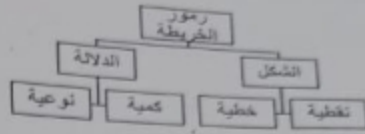
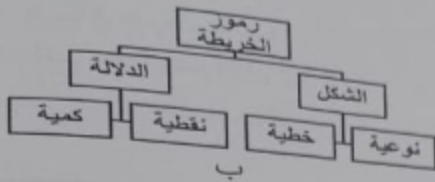
5

أجب عن جميع الأسئلة

أولاً: الأسئلة الموضوعية:

ضع دائرة حول رمز الإجابة الصحيحة لكل مفردة من المفردات الآتية: -





١- المخطط الصحيح الذي يوضح أنواع رموز الخريطة:



٢- بلغ عدد الذين شيعوا عمرو بن العاص من عُمان إلى المدينة المنورة بعد وفاة الرسول عليه الصلاة والسلام:

- أ- خمسين ب- ستين ج- سبعين د- ثمانين

٣- الشكل الذي يمثل الكتابة الصحيحة للأسماء الجغرافية في الخريطة:



٤- من الظواهر الجغرافية التي يتم تمثيلها بالرموز الخطية وتتميز بخاصية الحركة والاستمرار:

- أ- بحار ومحيطات ب- حدود إدارية ج- كنان رملية د- منطقة مزروعة

4

24) يوضح الجدول الآتي خصائص بعض المخاليط.

المخلوط	الخصائص
A	شفاف لا توجد رواسب
B	ضبابي توجد رواسب
C	ضبابي به مواد تطفو على السطح

[1]

أ. أي المخاليط يعتبر متجانس؟ _____

ب. أي المواد الآتية يمثل المخلوط (B)؟

(ظل أمام الإجابة الصحيحة)

سكر + ماء قطع فلين + ماء

[1]

رمل + ماء كبريتات النحاس + ماء

25) الشكل الآتي يوضح مجموعة من المخاليط.

ماء وبودرة التلك

ماء وملح

ماء وكبريتات النحاس

ماء وقهوة



D



C



B



A

ضع علامة (✓) أمام رمز كل مخلوط والخاصية التي تناسبه في الجدول.

المخلوط	مخلوط متجانس	مخلوط غير متجانس
A		
B		
C		
D		

[2]

انتهت الأسئلة مع دعواتنا لكم بالتوفيق والنجاح

٧

ثانياً: الأسئلة الحقلية:

١٣) أ - عرف ما يلي: -

١ - الأسماء الجغرافية.

.....

٢ - الصناعات التحويلية.

.....

ب - (بعد وفاة الرسول - صلى الله عليه وسلم - تولى الخلفاء الراشدون إدارة الدولة الإسلامية وكانت لهم العديد من المنجزات التي أسهمت في تحقيق استقرار الدولة الإسلامية).

في ضوء العبارة السابقة أجب عما يلي:

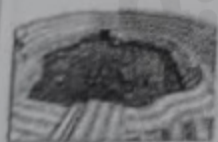
١ - سبب تسمية الخلفاء الراشدين بهذا الاسم.

.....

٢ - أعط مثالاً واحداً من منجزات عصر الخلفاء الراشدين.

.....

ج - صنف الموارد الطبيعية التالية بكتابتها أسفل الصورة الدالة عليها. (التفط، طاقة الرياح والطاقة الشمسية، العيون والأفلاج، الغاز الطبيعي)



.....٣-

.....٢-

.....١-

الغاز الطبيعي

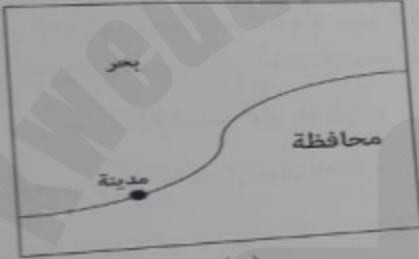
تابع تانية الأسئلة الختالية:

١٤) اكتب اسم الشخصية العمانية أمام ما يناسبها من الأعمال في عهد الخليفة أبو بكر الصديق

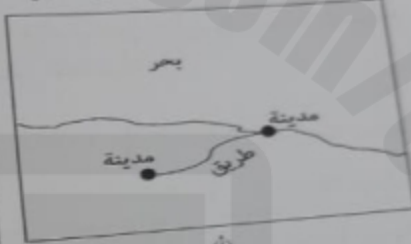
في الجدول التالي:

الأعمال	الشخصية العمانية
- عاملاً (والياً) على عمان.
- ترأس الوفد العماني لتعزية في وفاة الرسول عليه الصلاة والسلام.

ب - أمامك خريطتان ادرسهما جيداً ثم أجب عما يلي:



(ب)



(أ)

١ - رمز الخريطة التي تُنب عليها الأسماء الجغرافية بالطريقة الصحيحة. (.....)

٢ - قم بتصحيح كتابة الاسم الجغرافي الذي كتب بطريقة غير صحيحة داخل الخريطة الخطأ.

ج - ادرس الخريطة التي أمامك ثم أجب عن الأسئلة التي تليها.

١ - الرقم الذي يشير إلى عاصمة عمان في عهد

الخلافة الراشدة. (.....)

٢ - الرقم الذي يشير إلى ميناء سمهم. (.....)

٣ - اكتب بحر العرب في مكانه الصحيح على الخريطة.



يتبع/٦

تابع أولاً: الأسئلة الموضوعية:

٥- البطاقة التعريفية الصحيحة لمشروع مصفاة الدقم:

مصفاة الدقم
- مشروع مشترك بين
سلطنة عمان ودولة
قطر
- يقع على خطوط
الشحن الدولي في
المحيط الهندي.

أ

مصفاة الدقم
- مشروع مشترك بين
سلطنة عمان ودولة
الكويت
- يقع على خطوط
الشحن الدولي في
المحيط الهادي.

ب

مصفاة الدقم
- مشروع مشترك بين
سلطنة عمان ودولة
الكويت
- يقع على خطوط
الشحن الدولي في
المحيط الهندي.

ج

مصفاة الدقم
- مشروع مشترك
بين سلطنة عمان
ودولة قطر
- يقع على خطوط
الشحن الدولي في
المحيط الهادي.

د

٦- المصطلح الذي يعبر عن إدارة نقل الموارد والبضائع المختلفة من مناطق الإنتاج إلى مناطق الاستهلاك:

أ- الخدمات اللوجستية ب- التجارة الإلكترونية ج- الأمن الغذائي د- الخطة الخمسية

٧- الرقمان الصحيحان اللذان يشران إلى مناطق مشاركة العمانيون في الفتوحات الإسلامية

في عصر الخلافة الراشدة من خلال الخريطة المقابلة:



أ- (٢،١)

ب- (٢،٤)

ج- (٣،١)

د- (١،٤)

٨- يصنف المقوم الطبيعي للاقتصاد العماني الواضح في الصورة التي أمامك ضمن:



أ- الموقع الجغرافي

ب- أشكال سطح الأرض

ج- البنية التحتية

د- الموارد البشرية

٧

تابع ثانياً: الأسئلة المقالية:

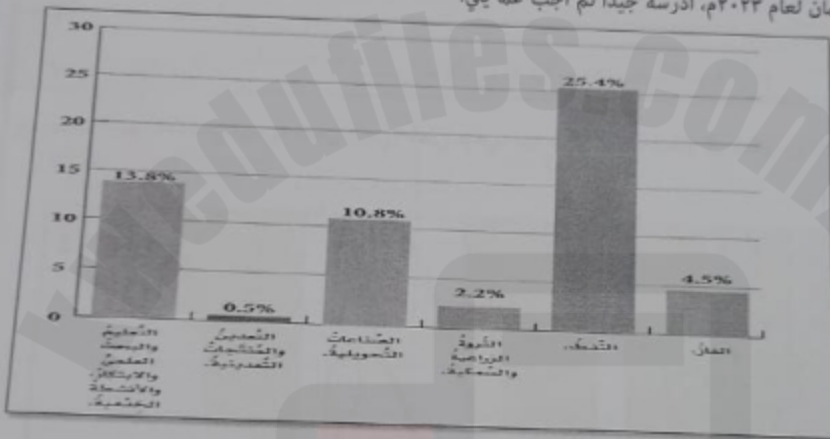
١٥) أ ١ - " تعد الرموز لغة عالمية لفهم دلالات الظواهر الجغرافية الموجودة في الخريطة" وضح أهمية الرموز. (يكتفى بإثنين)

..... ١

٢- علل: تسعى سلطنة عُمان إلى زيادة المشاريع الاقتصادية في القطاع غير النفطي.

.....

ب - أمامك شكل يوضح نسب مساهمة بعض القطاعات النفطية وغير النفطية في الناتج المحلي الإجمالي لسلطنة عمان لعام ٢٠٢٣م، أدرسه جيدا ثم أجب عما يلي:



١ - رتب تصاعدياً أقل ثلاثة قطاعات مساهمة في الناتج المحلي الإجمالي.

..... ١

٢- لو كنت أحد المسؤولين في قطاع الثروة الزراعية والسمكية اقترح اثنين من المشاريع لرفع نسبة مساهمة هذا القطاع في الناتج المحلي الإجمالي.

..... ١

..... ٢

تابع أولاً: الأسئلة الموضوعية:

٩- العام الميلادي الذي صدر فيه قانون الرثوة المعدنية لحمايتها والاستفادة منها اقتصادياً:

د- ٢٠١٩

ج- ٢٠١٨

ب- ٢٠١٧

أ- ٢٠١٦

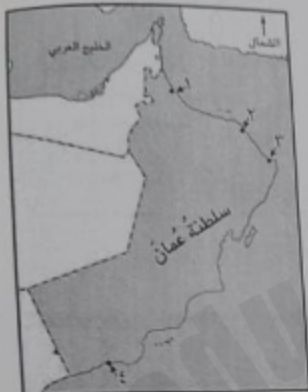
١٠- الرقم الذي يشير إلى مشروع استزراع الصفيح في الخريطة المقابلة:

أ- ١

ب- ٢

ج- ٣

د- ٤



١١- يعتمد حجم الخط عند كتابة الأسماء الجغرافية في الخريطة على:

أ- أهمية الظاهرة

ب- امتداد الظاهرة

ج- موقع الظاهرة

د- حجم الظاهرة

١٢- الجدول الصحيح الذي يوضح طريقة انتقال الحكم بين الخلفاء الراشدين:

أ- اسم الخليفة طريقة الاختيار	أبو بكر الصديق انتخاب مباشر	عمر بن الخطاب بيعة عامة	عثمان بن عفان اختيار من بين عدد من المرشحين	علي بن أبي طالب التزكية
ب- اسم الخليفة طريقة الاختيار	أبو بكر الصديق انتخاب مباشر	عمر بن الخطاب التزكية	عثمان بن عفان اختيار من بين عدد من المرشحين	علي بن أبي طالب بيعة عامة
ج- اسم الخليفة طريقة الاختيار	أبو بكر الصديق اختيار من بين عدد من المرشحين	عمر بن الخطاب التزكية	عثمان بن عفان التخاب مباشر	علي بن أبي طالب بيعة عامة
د- اسم الخليفة طريقة الاختيار	أبو بكر الصديق التزكية	عمر بن الخطاب بيعة عامة	عثمان بن عفان التخاب مباشر	علي بن أبي طالب اختيار من بين عدد من المرشحين