

شكراً لتحميلك هذا الملف من موقع المناهج العمانية



نشاط درس القوى مع نموذج الإجابة

[موقع المناهج](#) ← [المناهج العمانية](#) ← [الصف السادس](#) ← [علوم](#) ← [الفصل الثاني](#) ← [الملف](#)

تاريخ نشر الملف على موقع المناهج: 04:35:51 2024-02-15

التواصل الاجتماعي بحسب الصف السادس



روابط مواد الصف السادس على تلغرام

[الرياضيات](#)

[اللغة الانجليزية](#)

[اللغة العربية](#)

[التربية الاسلامية](#)

المزيد من الملفات بحسب الصف السادس والمادة علوم في الفصل الثاني

[نشاط درس الكتلة والوزن مع نموذج الإجابة](#)

1

[الخرائط الذهنية في الوحدة الخامسة](#)

2

[مراجعة شاملة للوحدة الرابعة القوى والحركة](#)

3

[خرائط ذهنية في المادة](#)

4

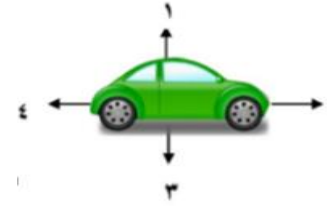
[نموذج إجابة اختبار تحريبي للامتحان النهائي نموذج اول ولاية الجزائر](#)

5

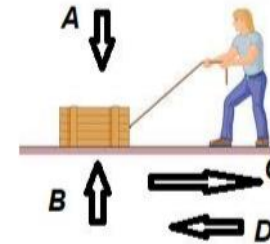


نشاط (٢-٤)

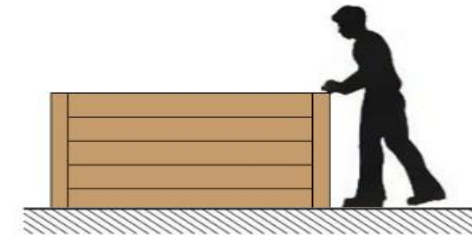
1) تتحرك سيارة على شارع ترابي كما في الشكل المقابل ، أدرس الشكل ثم ظلل الإجابة الصحيحة



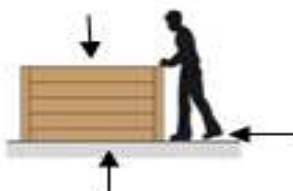
- أ- السهم الذي يمثل قوة الجاذبية هو :
 ١ ٢ ٣ ٤
- ب- إتجاه القوة التي يؤثر بها السطح على السيارة :
 ١ ٢ ٣ ٤
- ٢) أدرس الشكل المجاور جيدا ثم أجب عن السؤال التالي :



- ماذا تمثل كلا من القوة :
A
B
C
D
- ٣) أرسم بأسهم القوى المؤثرة على الصندوق في الشكل المقابل .



نموذج الاجابة لنشاط رقم (٢-٤)

رقم السؤال	المفردة	الاجابة	الدرجة	معلومات أخرى	رقم الهدف	مستوى التعلم
1	أ	٣	١	-	6Pf2	تطبيق
	ب	١	١	-	6Pf2	تطبيق
2		A القوة التي يؤثر بها الصندوق على السطح B القوة التي يؤثر بها السطح على الصندوق C قوة السحب D قوة الاحتكاك	٢	درجتين : كل الاجابات صحيحة درجة : إجابتين أو ثلاث إجابات صحيحة صفر : إجابة صحيحة أو لا إجابة صحيحة	6Pf2	معرفة
3			١	درجة : إجابتين أو ثلاث إجابات صحيحة صفر : إجابة صحيحة أو لا إجابة صحيحة	6Pf2	تطبيق

