

تم تحميل هذا الملف من موقع المناهج العُمانية



* للحصول على أوراق عمل لجميع الصفوف وجميع المواد اضغط هنا

<https://almanahj.com/om>

* للحصول على أوراق عمل لجميع مواد الصف السادس اضغط هنا

<https://almanahj.com/om/6>

* للحصول على جميع أوراق الصف السادس في مادة رياضيات ولجميع الفصول, اضغط هنا

<https://almanahj.com/om/6math>

* للحصول على أوراق عمل لجميع مواد الصف السادس في مادة رياضيات الخاصة بـ الفصل الأول اضغط هنا

<https://almanahj.com/om/6math1>

* لتحميل كتب جميع المواد في جميع الفصول للـ الصف السادس اضغط هنا

<https://almanahj.com/om/grade6>

* لتحميل جميع ملفات المدرس ضئينة الفزارية اضغط هنا

للتحدث إلى بوت على تلغرام: اضغط هنا

https://t.me/omcourse_bot



اسم الذكية : من الصف : سادس ()

أجيب عن جميع الأسئلة التالية في المكان المخصص للإجابة:

(١) اكتب ثلاثة أعداد مختلفة أكبر من ٤٥٠٠ ولكنها أصغر من ٤٥٥٠

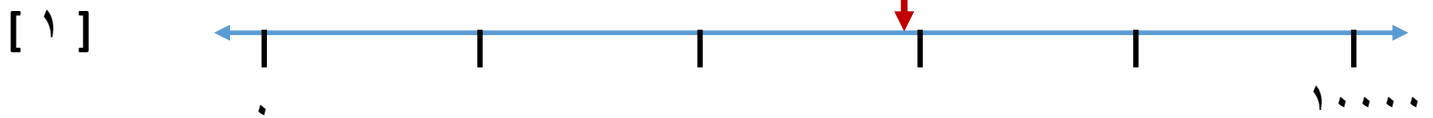
[٢] الإجابة : _____ ، _____ ، _____ .

(٢) على خط الأعداد المقابل حدد موقع العددين ٣٥٠٠ ، ٧٠٠٠



(٣) على خط الأعداد أمامك .

اختر من بطاقات الأرقام التالية ما يجعل العدد المفقود صحيحاً



(٤) أكمل العبارة التالية :



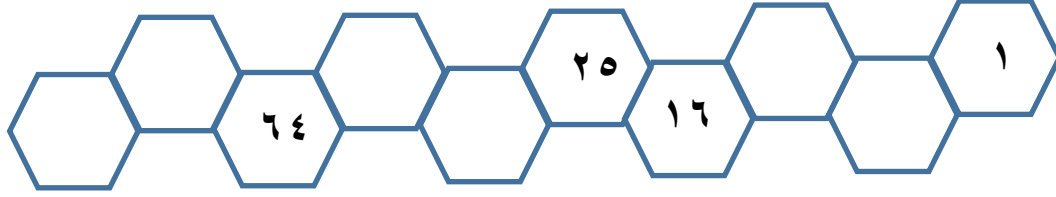
يقع العدد ٤٠٠٠ في منتصف المسافة

[١] بين ٣٥٠٠ و



نظام الأعداد (١) + تاريخ الأعداد

٥ (أكمل متتالية الأعداد المربعة التالية :



[١]

٦ (تفكر مريم في أصغر عدد يتكون من ٣ منازل :

إذا تم تقريبه لأقرب ١٠ يُعطي ٧٥٠

إذا تم تقريبه لأقرب مائة يُعطي ٧٠٠

الإجابة : _____

[١]


٧ (من خلال دراستك للأعداد الهيروغليفية .

أ (اكتب الأعداد التي تشير إليها الرموز التالية :



[١]

ب (اكتب العدد ١٣٦ بالرموز الهيروغليفية .



[١]