

تم تحميل هذا الملف من موقع المناهج العمانية



## اختبار قصير أول نموذج ثالث

موقع فايلاتي ← المناهج العمانية ← الصف الحادي عشر ← علوم بيئية ← الفصل الأول ← اختبارات ← الملف

تاريخ إضافة الملف على موقع المناهج: 2024-10-11 10:55:46

ملفات اكتب للمعلم اكتب للطالب | اختبارات الكترونية | اختبارات | حلول | عروض بوربوينت | أوراق عمل  
منهج انجليزي | ملخصات وتقارير | مذكرات وبنوك | الامتحان النهائي للمدرس

المزيد من مادة  
علوم بيئية:

## التواصل الاجتماعي بحسب الصف الحادي عشر



صفحة المناهج  
العمانية على  
فيسبوك

الرياضيات

اللغة الانجليزية

اللغة العربية

التربية الاسلامية

المواد على تلغرام

## المزيد من الملفات بحسب الصف الحادي عشر والمادة علوم بيئية في الفصل الأول

نموذج إجابة الاختبار القصير الأول نموذج رابع

1

اختبار قصير أول نموذج رابع

2

نموذج إجابة الاختبار القصير الأول نموذج ثالث

3

اختبار قصير أول نموذج ثالث

4

إجابات الاختبار القصير الأول نموذج ثاني

5

## الوحدة الأولى

## الدرس الأول/ رموز الخريطة

### ١- ما المقصود برموز الخريطة؟

مجموعة من الأشكال والخطوط والألوان ترسم على الخريطة لتمثيل الظواهر الجغرافية الموجودة على سطح الأرض.

### ٢- أنواع الرموز المستخدمة في الخريطة من حيث الشكل:

النوع	الرموز النقطية	الرموز الخطية	الرموز المساحية
الاستخدام	تستخدم لتمثيل الظواهر الجغرافية التي تدل على معالم وأماكن محددة	تستخدم لتمثيل الظواهر الجغرافية التي تتميز بخاصية الحركة والاستمرار.	تستخدم لتمثيل الظواهر الجغرافية التي تشغل مساحة واسعة
أمثلة عليها	ولاية ● عاصمة ● مطار ○	طريق ——— وادي - - - حدود دولية - . - .	بحار ومحيطات ■ كثبان رملية ■
أمثلة أخرى	المدن والقرى والمناجم	المجري المائية	غطاء نباتي ومسطحات مائية

### ٣- علل: اختلاف بعض أشكال الرموز المستخدمة من دولة إلى أخرى.

بسبب اختلاف المواصفات المتبعة لدى الجهة المسؤولة عن رسم الخرائط في تلك الدول.

### ٤- أنواع الرموز المستخدمة في الخريطة من حيث الدلالة؟

المفهوم	الرموز النوعية			الرموز الكمية		
النوع	نقطي نوعي	خطي نوعي	مساحي نوعي	نقطي كمي	خطي كمي	مساحي كمي
مثال لاستخداماتها	تمثيل العواصم والمدن	تمثيل الحدود السياسية والأنهار	تمثيل المناطق الرملية والمسطحات المائية	توزيع عدد المدارس وتوزيع سكان المدن	المجري المائية	الكثافة السكانية

### ٥- ما أهمية رموز الخريطة؟

- تقلل من التفاصيل في الخريطة.
- تسهل تمثيل الظواهر الجغرافية في الخرائط.
- تساعد في قراءة الخريطة وفهمها.

### ٦- علل: تعد رموز الخريطة لغة عالمية.

لفهم دلالات الظواهر الجغرافية الموجودة في الخرائط.

## السؤال الأول: ضع دائرة حوال الرمز الدال على الإجابة الصحيحة من بين البدائل المعطاة:

١- المصطلح الذي يقصد به مجموعة من الأشكال والخطوط والألوان ترسم على الخرائط لتمثيل الظواهر الجغرافية :

أ- إطار الخريطة ب- رموز الخريطة د- مقياس الرسم ج- الأسماء الجغرافية

٢- الرموز التي تستخدم في تمثيل الظواهر الجغرافية التي تتميز بخاصية الحركة والاستمرار:

أ- النقطية ب- المساحية ج- الخطية د- الرسوم

٣- الرمز التي يستخدم في تمثيل الظاهرة الجغرافية الواضحة في الصورة المقابلة:



أ- النقطي ب- المساحي

ج- الخطي د- الكمي

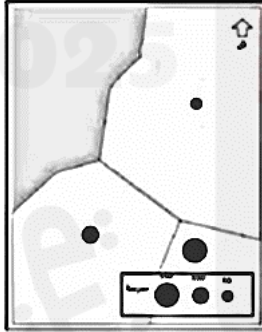
٤- الرموز التي تستخدم لتمثيل الظواهر الجغرافية التي تدل على معالم وأماكن محددة:

أ- النقطية ب- المساحية ج- الخطية د- الحركية

٥- الرموز التي تستخدم لتمثيل الظواهر الجغرافية التي تشغل مساحة واسعة :

أ- النقطية ب- المساحية ج- الخطية د- الرسوم

٦- نوع الرموز حسب ما توضحه الخريطة المقابلة :



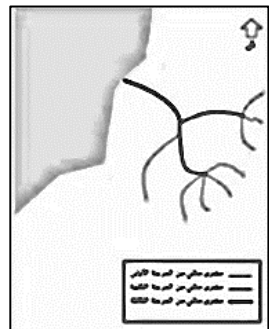

أ- نقطية نوعية

ب- نقطية كمية

ج- خطية نوعية

د- خطية كمية

٧- الخريطة التي استخدم فيها الرموز الخطية الكمية :



د-

ج-

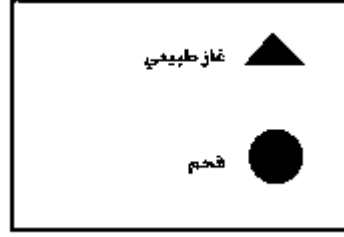
ب-

أ-

٨- نوع الرموز المستخدمة لتمثيل الكثافة السكانية على الخريطة :  
أ- نقطية نوعية  
ب-نقطية كمية

ج- مساحية نوعية  
د- مساحية كمية

٩- نوع الرموز المستخدمة في مفتاح الخريطة في الشكل المقابل:




أ- نقطية نوعية

ب- نقطية كمية

ج- خطية نوعية

د- خطية كمية

١٠- الظاهرة الجغرافية التي يدل عليها الرمز في خريطة سلطنة عمان والواضحة في الشكل المقابل :



أ- العاصمة

ب-الولاية

ج- الميناء

د- المطار

١١- نوع الرموز المناسبة لرسم خريطة توضح توزيع عدد المستشفيات في سلطنة عمان :

أ- نقطية نوعية

ب- نقطية كمية

ج- خطية نوعية

د- خطية كمية

ثانيا : أجب عن الأسئلة الآتية:

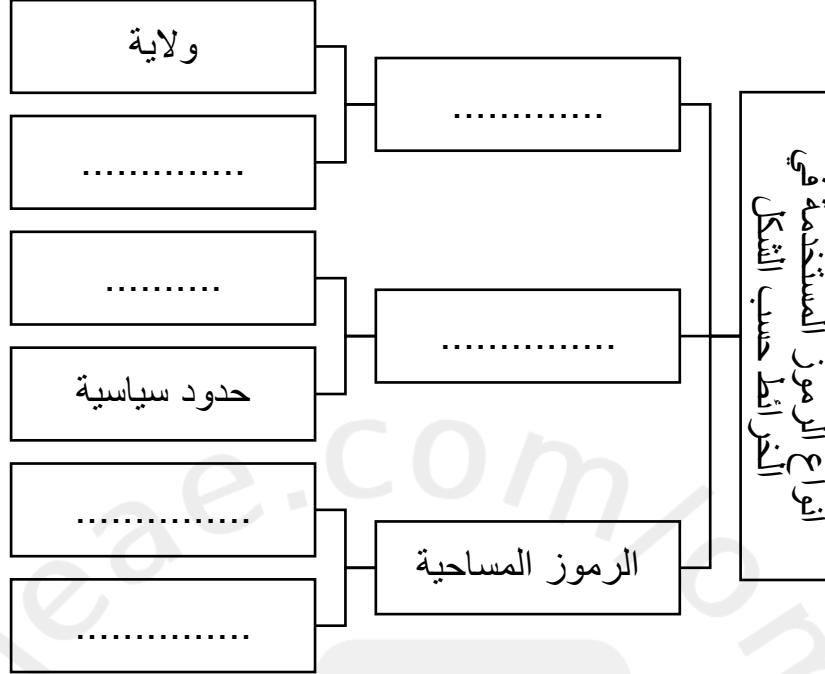
١- صنف الرموز ما بين القوسين من خلال الجدول الآتي:

( عاصمة - طريق مرصوف - نهر - ميناء - كتبان رملية - مسطحات مائية )

الرموز النقطية	الرموز الخطية	الرموز المساحية

٢- تمثل البحار والمحيطات في بعض الخرائط بتدرجات لونية مختلفة، فسر ذلك.

٣- أكمل الفراغات في الخريطة المفاهيمية الآتية بما يناسبها:



٤- ادرس خريطة عمان ثم أجب عن الأسئلة التي تليها:



أ- وقع على الخريطة عاصمة سلطنة عمان باستخدام الرمز المناسب في مكانه الصحيح

ب- ما نوع الظاهرة الجغرافية المشار إليها بالخريطة بالرقم (١).

ج- ما نوع الرموز حسب الشكل الواردة في مفتاح الخريطة.

د- وضح أهمية وجود الرموز في الخريطة.

٥- اكتب المصطلح الدال على العبارات الآتية في الجدول التالي:

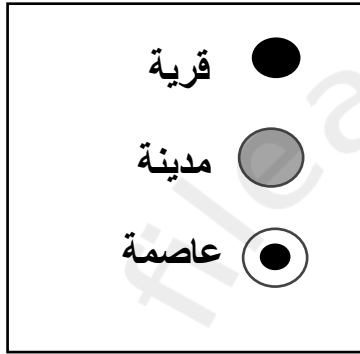
المصطلح	العبرة
.....	الرموز التي توضح الاختلاف في نوع الظاهرة الجغرافية.
.....	الرموز التي توضح كم ظاهرة معينة أو حجمها.

٦- علل ما يلي:

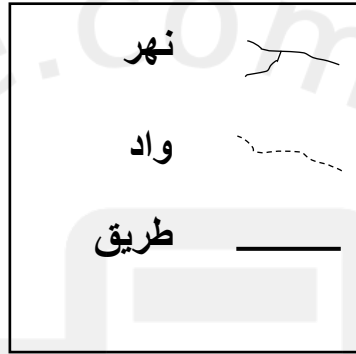
أ- تعد رموز الخريطة لغة عالمية.

ب- اختلاف بعض أشكال الرموز المستخدمة من دولة إلى أخرى.

٧- أدرس الأشكال التي أمامك ثم أجب عن الأسئلة التي تليها:



(ج)



(ب)



(أ)

١- أكتب نوع الرموز من حيث الشكل مستعينا بالأشكال السابقة والرمز الدال عليها:

(أ) .....

(ب) .....

(ج) .....

٢- ما دلالة الرموز في الأشكال السابقة:

كمية

نوعية

فسر ذلك.....