

تم تحميل هذا الملف من موقع المناهج العمانية



نموذج إجابة الامتحان التدريبي في محافظة الظاهرة

موقع فايلاتي ← المناهج العمانية ← الصف السادس ← اجتماعيات ← الفصل الأول ← الامتحان النهائي ← الملف

تاريخ إضافة الملف على موقع المناهج: 12:11:08 2025-01-06

ملفات اكتب للمعلم اكتب للطالب الاختبارات الكترونية | اختبارات | حلول | عروض بوربوينت | أوراق عمل
منهج انجليزي | ملخصات و تقارير | مذكرات و بنوك | الامتحان النهائي للمدرس

المزيد من مادة
اجتماعيات:

التواصل الاجتماعي بحسب الصف السادس



صفحة المناهج
العمانية على
فيسبوك

الرياضيات

اللغة الانجليزية

اللغة العربية

التربية الاسلامية

المواد على تلغرام

المزيد من الملفات بحسب الصف السادس والمادة اجتماعيات في الفصل الأول

امتحان تجريبي مع نموذج الإجابة في محافظة ظفار

1

حصاد درس مشاريع اقتصادية عمانية واعدة

2

امتحان تدريبي في محافظة الظاهرة

3

ملخص الوحدة الثالثة

4

ملخص الوحدة الأولى

5



المديرية العامة للتربية والتعليم بمحافظة الظاهرة

دائرة القياس والتقويم التربوي

قسم تقويم تعلم مواد العلوم الإنسانية والمهارات الفردية

امتحان تدريبي لمادة الدراسات الاجتماعية

للسف السادس - الفصل الدراسي الأول

العام الدراسي ٢٠٢٤/٢٠٢٥م

- زمن الامتحان: ساعة ونصف.
- الإجابة في دفتر الأسئلة نفسه.
- تُكتب الإجابة بالقلم الأزرق أو الأسود.
- عدد صفحات أسئلة الامتحان: ٦ صفحات
- الدرجة الكلية للامتحان: ٤٠ درجة

اسم الطالب: _____ الصف: _____

التوقيع بالاسم		الدرجة		السؤال
اسم المراجع	اسم المصحح	بالحروف	بالأرقام	
				أولاً: الأسئلة الموضوعية (١ - ١٢)
				ثانياً: الأسئلة المقالية ١٣
				١٤
				١٥
				١٦
مراجعة الجمع	جمعه			المجموع
				المجموع الكلي

أجب عن جميع الأسئلة الآتية

السؤال الأول: ضع دائرة حول رمز الإجابة الصحيحة لكل مفردة من المفردات الآتية:



١- نوع الرمز الذي يستخدم لتمثيل الظاهرة الجغرافية الواضحة في الشكل المقابل على الخريطة:

(أ) نقطي (ب) خطي (ج) مساحي (د) كمي

٢- أي الرموز التالية توضح كم الظاهرة أو حجمها:

(أ) النقطية (ب) الخطية (ج) لكمية (د) المساحية

٣- الخليفة الذي تم اختياره بطريقة مشابهة لاختيار أعضاء مجلس الشورى في سلطنة عُمان :

(أ) أبو بكر الصديق (ب) عمر بن الخطاب (ج) عثمان بن عفان (د) علي بن أبي طالب

٤- الشكل الصحيح الذي يبين التمثيل الصحيح لرموز الخريطة:

	الحدود الإدارية		الحدود الدولية		الحدود الإدارية		الحدود الدولية
	مطار		عاصمة		ولاية		ميناء

د

ج

ب

أ

٥- الولاية التي يوجد بها أحد أكبر مشروعات تكرير النفط في الشرق الأوسط:

(د) بخاء

(ج) لوى

(ب) بركاء

(أ) الدقم

٦- الخليفة الراشد الذي أوصى الجيوش قبل مسيرها إلى بلاد الشام بالصبر عند اللقاء وعدم الغدر:

(د) أبو بكر الصديق

(ج) عمر بن الخطاب

(ب) عثمان بن عفان

(أ) علي بن أبي طالب

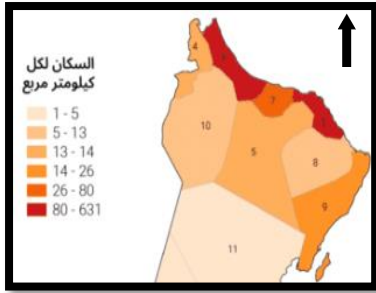
٧- الوزارة المسؤولة عن مبادرة المدارس الخضراء بسلطنة عُمان :

(أ) الزراعة والثروة السمكية وموارد المياه (ج) التربية والتعليم

(ب) التراث والسياحة (د) الطاقة والمعادن

٨- الفترة الزمنية التي تولى فيها الخليفة عثمان بن عفان خلافة المسلمين:

(أ) (١-١١هـ) (ب) (١١-١٣هـ) (ج) (١٣-٢٣هـ) (د) (٢٣-٣٥هـ)




٩- نوع الرموز حسب ما توضحه الخريطة المقابلة:

(أ) مساحية نوعية (ج) مساحية كمية

(ب) نقطية نوعية (د) نقطية كمية

١٠- القطاع الذي يعد من المكونات المهمة في الاقتصاد العماني ويسهم في نمو الاقتصاد بشكل كبير:



د

ج

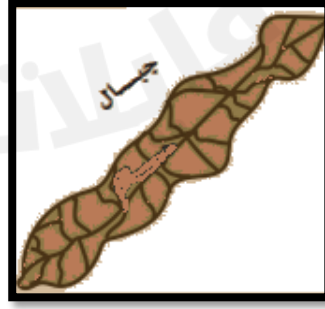

ب

أ

١١- المسمى الذي يطلق على ممثل حاكم الدولة في ولاية من الولايات فترة عصر الخلافة الراشدة:

(أ) القاضي (ب) الوالي (ج) الخليفة (د) العامل

١٢- الشكل الذي يدل على الكتابة الصحيحة للأسماء الجغرافية التالية:



د

ج

ب

أ

ثانيا : الأسئلة المقالية :

٧

١٣- أ- قارن بين أنواع رموز الخريطة حسب الجدول الآتي:


أنواع الرموز	النقطة	الخطية	المساحية
استخداماتها	لتشكيل العواصم والمدن	لتمثيل الحدود السياسية والأنهار	لتشكيل المناطق الرقمية والمساحات المائية.

ب- رتب الأحداث التالية من الأقدم للأحدث (مواجهة عبد بن الجندى للغساسنة - وفاة الرسول الكريم عليه الصلاة والسلام - تعيين عثمان بن أبي العاص على عمان - تعيين حذيفة بن محسن على عمان) في الشكل التالي :-

- ١ وفاة الرسول الكريم عليه الصلاة والسلام
- ٢ مواجهة عبد بن الجندى للغساسنة
- ٣ تعيين حذيفة بن محسن على عمان
- ٤ تعيين عثمان بن أبي العاص على عمان

٧

١٤- أ- تأمل الصورة المقابلة وأجب عن الأسئلة التالية:



- المؤسسة التي يشير إليها الشعار المقابل.

الإكاديمية السلطانية للإدارة

- ما أهمية هذه المؤسسة؟

تأهيل القيادات الإدارية الحالية

وتطويرها وإعداد القيادات الواعدة.

ب- بالاستعانة بالصور استنتج مفهوم الصناعات التحويلية؟



تحويل المواد الخام الأولية إلى منتجات

لصالحهم في توفير احتياجات المستهلك

ج- أراد عمر تنفيذ مشروع بيع العصائر، ادرس المواقع الآتية، واختر الموقع المناسب للمشروع مع التعليل



(ب)



(أ)

الموقع المناسب (أ)

لصالحهم في توفير احتياجات المستهلك

١٥- أ- ادرس الخريطة التي أمامك ثم أجب عن الأسئلة التالية:-



١- استخراج اسم الدولة التي جلب منها العُمانيون الأخشاب لصناعة السفن.

الهند

٢- اكتب كتابة صحيحة في الخريطة السابقة المواقع الجغرافية التالية:

- المدينة العُمانية التي تعتبر الميناء الرئيسي في عُمان قديماً.

- عاصمة دولة الخلافة الراشدة.

٣- وضح طريقة صنع السفن العُمانية قديماً؟

عن طريق ربط الأخشاب بالليف

ب- ضع إشارة (✓) مقابل المميزات التي يتميز بها كل مشروع من المشاريع الاقتصادية العُمانية في الجدول التالي :-

المميزات	المشروع	خزائن الصناعية	مجمع لوى	محطة مسندم
يعزز إمداد المشاريع الصناعية بالطاقة.				✓
يوفر المادة الخام للصناعات البلاستيكية.			✓	
يضم مصانع لإعادة التدوير.		✓		

١٦- أ- أمامك مجموعة من الصور التي توضح اختلاف أشكال السطح في سلطنة عُمان، وضح كيف من الممكن استثمارها اقتصاديا؟

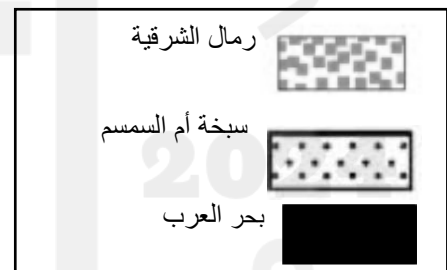


السياحة
البيئية
والمحار

السياحة
البيئية

الزراعة

ب- أراد أحد الطلبة تمثيل الظاهرات الجغرافية الآتية على خريطة سلطنة عُمان (بحر عمان - رمال الشرقية - محمية المما) أي من الشكلين مناسب لتمثيل الظاهرات الجغرافية ؟ مع التفسير (ضع علامة (√) في الشكل المناسب)



فسر إجابتك..... لا يوجد ذات مساحة واسعة

و تستخدم الرموز المساحيه

ج- استنتج دلالة مشاركة العُمانيين في الفتوحات البحرية الإسلامية في عهد الخليفة عمر بن الخطاب (رضي الله عنه).

دليل على حبة العمانيين في مجال

الملاحة البحرية و حماسهم في المساهمة

في الفتوحات
الإسلامية

انتهت الأسئلة