

تم تحميل هذا الملف من موقع المناهج العمانية



## اختبار تجريبي نهائي بمحافظة شمال الباطنة

[موقع المناهج](#) ← [المناهج العمانية](#) ← [الصف السادس](#) ← [رياضيات](#) ← [الفصل الثاني](#) ← [الملف](#)

تاريخ إضافة الملف على موقع المناهج: 06:43:59 2024-06-01

إعداد: مدرسة مالك بن هبيرة

## التواصل الاجتماعي بحسب الصف السادس



اضغط هنا للحصول على جميع روابط "الصف السادس"

## روابط مواد الصف السادس على تلغرام

[الرياضيات](#)

[اللغة الانجليزية](#)

[اللغة العربية](#)

[التربية الاسلامية](#)

## المزيد من الملفات بحسب الصف السادس والمادة رياضيات في الفصل الثاني

[تدريبات على الاختبار النهائي للمادة](#)

1

[نموذج إجابة الامتحان التدريبي النهائي في محافظة جنوب الشرقية](#)

2

[امتحان تدريبي نهائي في محافظة جنوب الشرقية](#)

3

[امتحان تجريبي نهائي مع نموذج الإجابة](#)

4

## المزيد من الملفات بحسب الصف السادس والمادة رياضيات في الفصل الثاني

[نشاط تفاعلي ثاني لدرس الكسور والأعداد العشرية](#)

5

## الاختبار التجريبي الأول لمادة الرياضيات



الصف: السادس - الفصل الدراسي الثاني للعام الدراسي ٢٠٢٣-٢٠٢٤م

مدرسة مالك بن هبيرة (٧-٥)

15

الصف:----- / ( )

اسم المجتهد:

## تعليمات الاختبار:

- \* الاختبار في صفتان
- \* مدة الاختبار (٣٥ دقيقة)
- \* يمنع استخدام الآلة الحاسبة
- \* أجب عن جميع الأسئلة

(١) اذا كان التوقيت اليوم في مدينة مسقط ٢٢:٠٠ ، فما هو التاريخ في مدينة تونس ان التوقيت في مسقط يسبق التوقيت في مدينة تونس ب ٣ ساعات

[ ١ ]

(٢) اذا كانت سعة إناء تساوي ٣,٤٥ لتر، فحوط على ما تساويه سعته بالمليتر

[ ١ ]

٣٤,٥      ٣٤٥      ٣٤٥٠      ٠,٣٤٥

(٣) الساعة الان ١٢ ظهرا في لندن تظهر الساعات الاتية الوقت في بعض المدن الأخرى

[ ٢ ]

٩:٠٠  
بوينس ايرس

١٦:٠٠  
القاهرة

١٤:٠٠  
مسقط

١٢:٠٠  
لندن

(أ) عندما تكون الساعة ١٨:٣٠ في القاهرة كم ستكون الساعة في بوينس ايرس؟

(ب) اذا أقلعت طائرة من مسقط الساعة ١٩:٠٠ الى لندن و كانت مدة الرحلة ٨ ساعات فمتى تصل الى لندن بتوقيت لندن؟

(٤) حوط عدد الأيام في ١٠ أسابيع

[ ١ ]

١٠      ٤٥      ٥٠      ٧٠

(٥) ضع علامة (✓) في الخانة المناسبة امام كل عبارة

[ ٢ ]

| العبارة  | صواب | خطا |
|--|------|-----|
| عدد الدقائق في الساعة اكبر من عدد الساعات في يومين |      |     |
| ٢٢ ساعة + ١٢٠ دقيقة + ٦٠ ثانية تساوي يوم واحد فقط  |      |     |
| ٦٠٠ ثانية = ١٠ دقائق                               |      |     |

(٦) اناء يحتوي على ٢ لتر من العصير، يراد تفريغه في اكواب ، سعة الكوب الواحد ٥٠٠ مليلتر  
ظلل عدد الاكواب التي تلزم لذلك



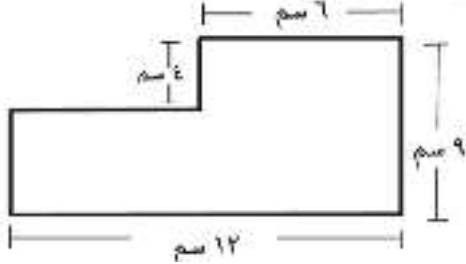
[ ١ ]

١٠ اكواب

٨ اكواب

٦ اكواب

٤ اكواب

|       |   |      |
|-------|---|------|
| [ 1 ] | <p>ضع علامة &lt; او &gt; او = في المربع لتكون العبارة صحيحة</p> <p>٢,٥ كغم <input type="checkbox"/> ٢٥٠ غم</p>  | (٧)  |
| [ 1 ] | <p>حوظ على ما يمثله ٢٥ من ٢٠٠</p> <p>٢٠      ٢٥      ٥٠      ١٠٠</p>  | (٨)  |
| [ ٢ ] | <p>تم سؤال ٢٠٠ طالب عن وسيلة الذهاب الى المدرسة فكانت النتائج كالتالي</p> <div style="display: flex; align-items: center;">  <div style="margin-left: 20px;"> <p>(أ) كم عدد الطلاب الذين يذهبون الى المدرسة مشياً</p> <p>.....</p> <p>(ب) كم عدد الطلاب الذين يذهبون الى المدرسة بالحافلة</p> <p>.....</p> </div> </div> | (٩)  |
| [ ١ ] | <p>ما العدد الذي تفكر فيه خديجة</p> <div style="display: flex; align-items: center;">  <div style="margin-left: 20px;"> <p>العدد الذي تفكر فيه خديجة هو</p> <p>.....</p> </div> </div>   | (١٠) |
| [ ٢ ] | <p>يقول فادي مساحة الشكل المقابل ٨٤ سم</p>  <p>هل ما يقوله فادي صواب او خطأ</p> <p>.....</p> <p>علل جوابك</p> <p>.....</p> <p>.....</p> <p>.....</p>   | (١١) |

