

تجميع اختبارات نهائية لمادة الدراسات الاجتماعية



تم تحميل هذا الملف من موقع المناهج العمانية

موقع فايلاتي ← المناهج العمانية ← الصف السادس ← اجتماعيات ← الفصل الثاني ← ملفات متنوعة ← الملف

تاريخ إضافة الملف على موقع المناهج: 2026-06-07 17:51:20

ملفات اكتب للمعلم اكتب للطالب | اختبارات الكترونية | اختبارات | حلول | عروض بوربوينت | أوراق عمل
منهج انجليزي | ملخصات وتقارير | مذكرات وبنوك | الامتحان النهائي للمدرس

المزيد من مادة
اجتماعيات:

إعداد: خالد بن سالم الجابري

التواصل الاجتماعي بحسب الصف السادس



صفحة المناهج
العمانية على
فيسبوك

المزيد من الملفات بحسب الصف السادس والمادة اجتماعيات في الفصل الثاني

مراجعة الوحدة الأولى جغرافية السكان المصادر والخصائص 2024-2025م	1
تجميع أسئلة الاختبار القصير الثاني السابقة	2
كراستي اجتهاد وانجاز تضم البيانات السكانية والنمو السكاني والكثافة السكانية	3
حلول الكتيب المساند الشامل من الوحدة الأولى إلى الثالثة 2025-2026م	4
الكتيب المساند الشامل من الوحدة الأولى إلى الثالثة غير محلول 2025-2026م	5



تجميع إختبارات نهائية

العام الدراسي 2025\2026

مادة الدراسات الاجتماعية (الصف السادس)



تجميع : خالد بن سالم الجابري

(معلم مادة العلوم 5,6 في تميز أكاديمي)

أستاذ خالد



تميز أكاديمي



أرقام التواصل

76941321 76696447 77144048



امتحان مادة الدراسات الاجتماعية للصف السادس
الفصل الدراسي: الثاني - الدور الأول (الفترة الصباحية)
للعام الدراسي ١٤٤٦ / ١٤٤٧ هـ - ٢٠٢٤ / ٢٠٢٥ م

▪ عدد صفحات أسئلة الامتحان: (٧) صفحات	▪ زمن الامتحان: ساعة ونصف
▪ الدرجة الكلية للامتحان: ٤٠ درجة	▪ الإجابة في دفتر الأسئلة نفسه.
	▪ تُكتب الإجابة بالقلم الأزرق أو الأسود.

اسم الطالب: _____ الصف: _____

التوقيع بالاسم		الدرجة		السؤال
اسم المراجع	اسم المصحح	بالحروف	بالأرقام	
				أولاً: الأسئلة الموضوعية (١ - ١٢)
				ثانياً: الأسئلة المقالية ١٣
				١٤
				١٥
				١٦
مراجعة الجمع	جمعه			المجموع
				المجموع الكلي

أجب عن جميع الأسئلة

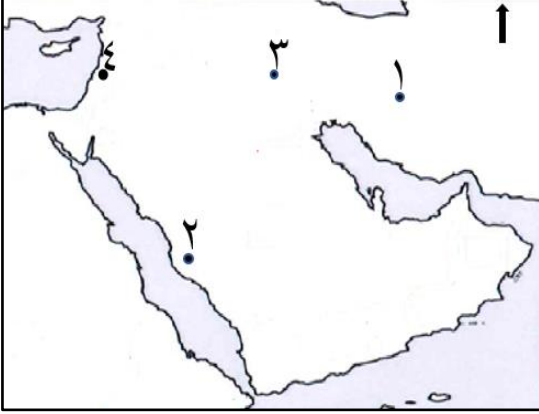
أولاً: الأسئلة الموضوعية:

١٢

ضع دائرة حول رمز الإجابة الصحيحة لكل مفردة من المفردات الآتية: -

- ١- العام الميلادي الذي أجري فيه أول تعداد إلكتروني واعتمدت نتائجه في سلطنة عُمان:
 أ- ٢٠٢٠ ب- ٢٠٢١ ج- ٢٠٢٢ د- ٢٠٢٣

٢- الرقم الذي يشير إلى موقع عاصمة الدولة الأموية في الخريطة المقابلة:



- أ- ١
 ب- ٢
 ج- ٣
 د- ٤

٣- الجدول الصحيح الذي يصنف السكان حسب فئات العمر:

العمر	الفئة العمرية
(١٤) سنة فأقل.	صغار السن
(١٥-٦٤) سنة.	متوسطو السن
(٦٥) سنة فأكثر.	كبار السن

ب

العمر	الفئة العمرية
(١٣) سنة فأقل.	صغار السن
(١٤-٦٤) سنة.	متوسطو السن
(٦٥) سنة فأكثر.	كبار السن

أ

العمر	الفئة العمرية
(١٤) سنة فأقل.	صغار السن
(١٥-٦٥) سنة.	متوسطو السن
(٦٦) سنة فأكثر.	كبار السن

د

العمر	الفئة العمرية
(١٣) سنة فأقل.	صغار السن
(١٤-٦٥) سنة.	متوسطو السن
(٦٦) سنة فأكثر.	كبار السن

ج

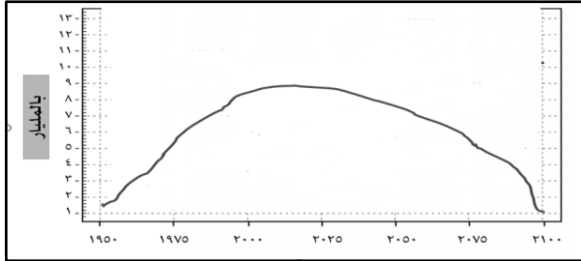
٤- الوزارة التي تختص بالإشراف على مؤسسات المجتمع المدني في سلطنة عُمان:

- أ- التربية والتعليم ب- العمل ج- التنمية الاجتماعية د- الإسكان والتخطيط العمراني

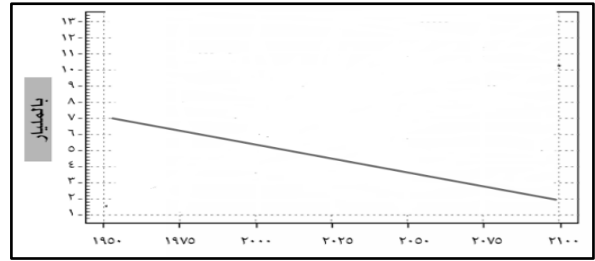
يتبع/٢

تابع أولاً: الأسئلة الموضوعية:

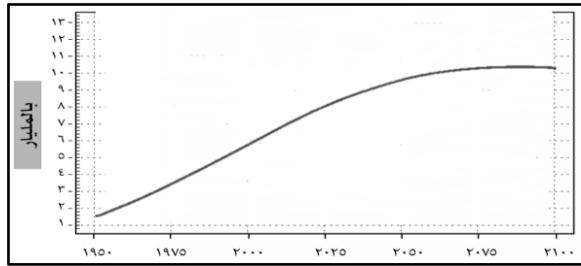
٥- الشكل الذي يمثل النمو السكاني لدول العالم خلال السنوات الأخيرة:



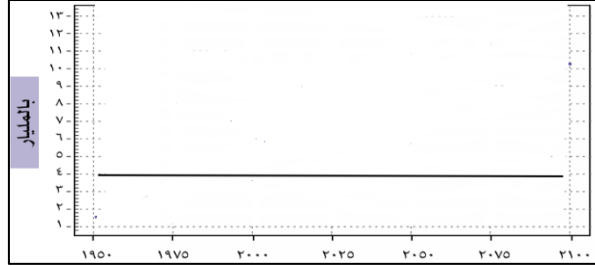
ب



أ



د



ج

٦- الشخصية العُمانية التي أدرجت عام ٢٠٠٥م في برنامج اليونسكو كشخصية مؤثرة عالمياً:

ب - كعب بن معدان

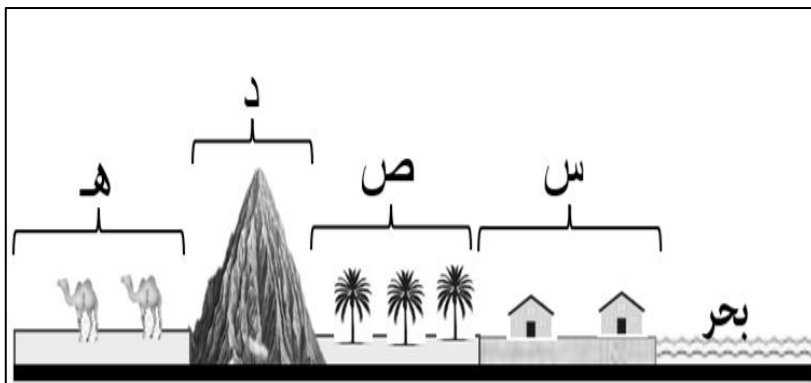
أ - جابر بن زيد

د - يزيد بن المهلب الأزدي

ج - الخليل بن أحمد الفراهيدي

٧- يوضح الشكل المقابل العوامل الطبيعية التي تؤثر في توزيع السكان على سطح الأرض.

أي من البدائل الآتية يفضل السكان العيش فيها:



أ - (س - د) ب - (ص - د)

ج - (س - هـ) د - (س - ص)

تابع أولاً: الأسئلة الموضوعية:

٨ - السنة الهجرية لتولي معاوية بن أبي سفيان الحكم وقيام الدولة الأموية:

٤٣ - د

ج - ٤٢

ب - ٤١

أ - ٤٠

الرقم المدني:
إسم المولود:
الجنس:
وقت الولادة:
مكان الميلاد:
تاريخ الميلاد الهجري:	/ /
تاريخ الميلاد الميلادي:	/ /

٩ - تمثل البيانات المدنية التي تظهر في الصورة المقابلة:

ب - الوفيات

أ - الطلاق

د - الزواج

ج - المواليد

١٠ - القارة التي يتركز فيها أكثر سكان العالم:

د - استراليا

ج - أوروبا

ب - آسيا

أ - أفريقيا

١١ - شكل المشاركة المجتمعية الذي تعبر عنه الصورة المقابلة:

أ - المناسبات الوطنية

ب - اللقاءات بين الحكومة والمواطنين

ج - الانتخابات

د - العمل التطوعي



١٢ - التصنيف الصحيح للسكان حسب البنية النوعية:

د - صغار وكبار

ج - أعزب وملتزم

ب - ذكور وإناث

أ - عاملة وغير عاملة

ثانياً: الأسئلة المقالية:

(١٣) أ - عرف ما يلي: -

١ - التعداد السكاني:

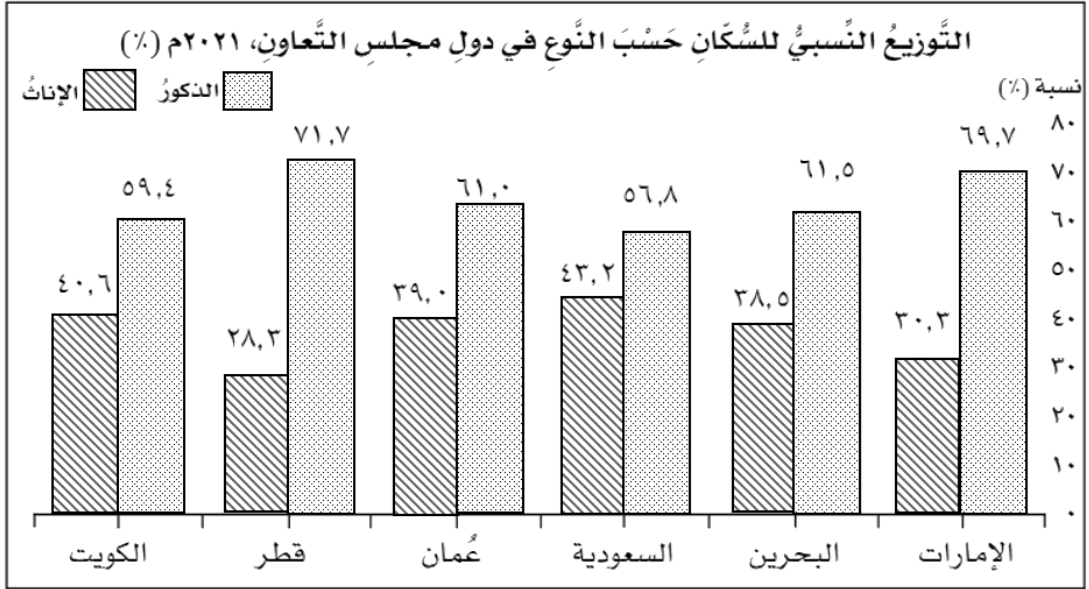
٢ - الحكم الوراثي:

ب - اكتب اسم الشخصية العُمانية أمام ما يناسبها من الأعمال في عصر الدولة الأموية في الجدول التالي:

الشخصية العُمانية	الأعمال
.....	- انتصر على الجيش الأموي الذي كان يقوده القاسم بن شعوه.
.....	- عين واليا على ولاية خراسان في العصر الأموي.

ج - أمامك شكل بياني، يوضح التوزيع النسبي للسكان حسب النوع في دول مجلس التعاون لدول الخليج العربية

لعام ٢٠٢١م، ادرس الشكل ثم أجب عن الأسئلة التي تليه:



١- الدولة الأعلى في نسبة الذكور بين دول مجلس التعاون الخليجي:

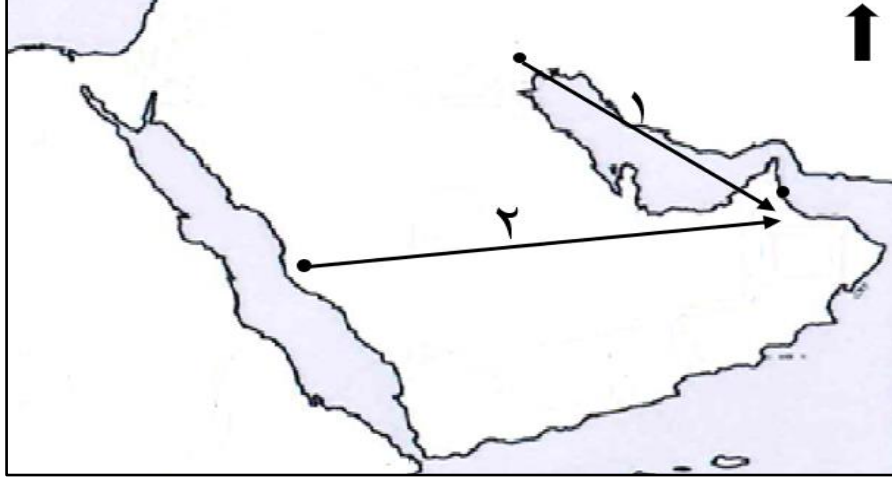
٢- الدولة الأقل في نسبة الذكور بين دول مجلس التعاون الخليجي:

٣- الترتيب التنازلي لسلطنة عُمان في نسبة الذكور بين دول مجلس التعاون الخليجي:

تابع ثانياً: الأسئلة المقالية:

١٤ أ - أمامك خريطة محاولات حملات الحجاج بن يوسف الثقفي البرية والبحرية للسيطرة

على عُمان ادرسها جيدا ثم أجب عن الأسئلة التي تليها:



١- ظلل على الخريطة موقع بحر عُمان.

٢- الرقم الذي يشير إلى الحملة التي انتصر فيها العُمانيون على الحجاج بن يوسف الثقفي. ()

ب - من خلال بيانات الجدول الذي أمامك احسب الزيادة الطبيعية للسكان في سلطنة عُمان لعامي (٢٠١٠م و٢٠٢٠م).

السنة	٢٠١٠م	٢٠٢٠م
عوامل النمو السكاني		
المواليد	٦٤,٧٣٠	٨٢,٢٢٤
الوفيات	٧,٤١٤	١٢,٦٤٩
الزيادة الطبيعية

ج - أجب عما يلي: -

١- "حضر سالم مع جده تجمع أهالي القرية في السبلة العامة ولاحظ قيام كبار السن بتبادل الأخبار، وكان يسود


التجمع جو من الألفة"

في ضوء العبارة السابقة اكتب دورا واحدا للسبلة العُمانية في المجتمع.

.....

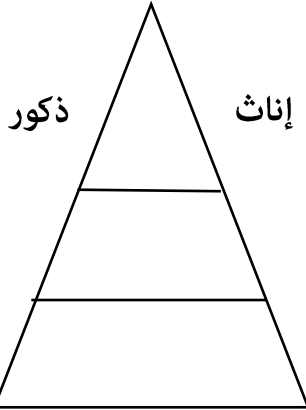
تابع ثانياً: الأسئلة المقالية:

٢- استنتج من الصورتين الآتيتين الإسهامات الحضارية في عصر الدولة الأموية بكتابتها أسفل الصورة:




٧

١٥) أ- أمامك هرم سكاني، اكتب فيه رقم الصور التالية التي تعبر عن أحد مكوناته في موقعها الصحيح:



(٢)



(١)

ب - ١- عدد اثنين من أهمية المشاركة المجتمعية.

.....

.....

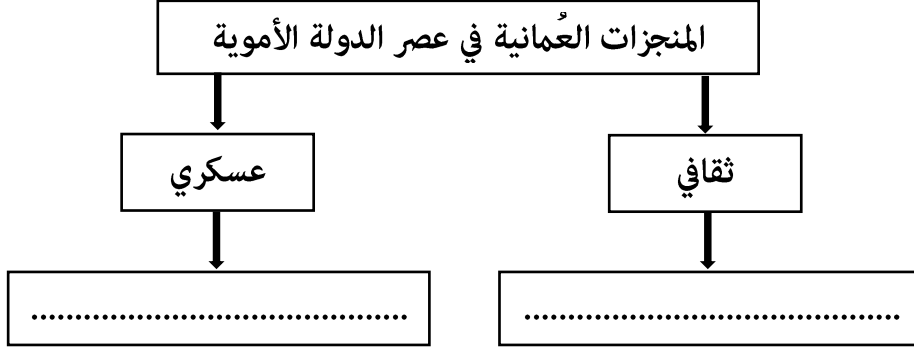
٢ - اذكر مشكلة واحدة ترتبت على زيادة النمو السكاني بصورة تفوق الموارد المتاحة.

.....

تابع ثانياً: الأسئلة المقالية:

ج - صنف المنجزات العُمانية الآتية في عصر الدولة الأموية في المخطط التالي:

(المشاركة في الفتوحات الإسلامية - الإسهام في علوم الشريعة واللغة العربية)



١٦ أ- في عام ٢٠٢٣م تم عمل تعداد سكاني لمنطقة تبلغ مساحتها ١٠كم^٢ وعدد سكانها ٥٠٠ نسمة.

٧

احسب الكثافة السكانية للمنطقة (مع ضرورة كتابة معادلة حساب الكثافة السكانية)

ب - ١ - ما النتيجة المترتبة على توفر الطرق ووسائل النقل في توزيع السكان؟

٢- اذكر اثنين من أهمية دراسة السكان.

ج - اكتب أسفل كل شعار لمؤسسات المجتمع المدني نوع الخدمة التي تقدمها من بين القوسين.

(الرعاية الاجتماعية، المحافظة على البيئة، الرعاية الصحية).

		
.....	المحافظة على البيئة

انتهت الأسئلة مع الدعاء للجميع بالتوفيق والنجاح



نموذج إجابة امتحان مادة الدراسات الاجتماعية للصف السادس
 الفصل الدراسي: الثاني - الدور الأول (الفترة الصباحية)
 للعام الدراسي ١٤٤٦ / ١٤٤٧هـ - ٢٠٢٤ / ٢٠٢٥م

المادة: الدراسات الاجتماعية الدرجة الكلية: (٤٠) درجة.
 تنبيهه: نموذج الإجابة في (٥) صفحات.

أولاً: إجابة السؤال الموضوعي:

المفردة	البديل الصحيح	الإجابة	الدرجة	الصفحة								
١	أ	٢٠٢٠	١	١٨								
٢	د	٤	١	٦٦								
٣	ب	<table border="1"> <thead> <tr> <th>العمر</th> <th>الفئة العمرية</th> </tr> </thead> <tbody> <tr> <td>(١٤) سنة فأقل.</td> <td>صغار السن</td> </tr> <tr> <td>(١٥-٦٤) سنة.</td> <td>متوسطو السن</td> </tr> <tr> <td>(٦٥) سنة فأكثر.</td> <td>كبار السن</td> </tr> </tbody> </table>	العمر	الفئة العمرية	(١٤) سنة فأقل.	صغار السن	(١٥-٦٤) سنة.	متوسطو السن	(٦٥) سنة فأكثر.	كبار السن	١	٢٩
العمر	الفئة العمرية											
(١٤) سنة فأقل.	صغار السن											
(١٥-٦٤) سنة.	متوسطو السن											
(٦٥) سنة فأكثر.	كبار السن											
٤	ج	التنمية الاجتماعية	١	٩٣								
٥	د		١	٣٨								
٦	ج	الخليل بن أحمد الفراهيدي	١	٧٢								
٧	د	(س - ص)	١	٤٥								
٨	ب	٤١	١	٥٨								
٩	ج	المواليد	١	٢١ - ٢٠								
١٠	ب	آسيا	١	٤٤								

(٢)

تابع نموذج إجابة امتحان مادة الدراسات الاجتماعية للصف السادس
 الفصل الدراسي: الثاني - الدور الأول (الفترة الصباحية)
 للعام الدراسي ١٤٤٦ / ١٤٤٧ هـ - ٢٠٢٤ / ٢٠٢٥ م

تابع أولاً: إجابة السؤال الموضوعي:

المفردة	البديل الصحيح	الإجابة	الدرجة	الصفحة
١١	د	العمل التطوعي	١	٨٨ - ٨٧
١٢	ب	ذكور وإناث	١	٢٦
		المجموع	١٢ درجة	



ثانياً: إجابة الأسئلة المقالية:

السؤال	المفردة	الجزئية	الإجابة	الدرجة	الصفحة	
١٣	أ	١	عملية حصر (السكان، والمسكن، والمنشآت) لمجتمع معين في وقت معين وعلى فترات منتظمة.	١	١٨	
		٢	أن يتولى الابن الأكبر للحاكم أو أحد أقربائه الحكم من بعده.	١	٥٨	
	ب	١	الأعمال	انتصر على الجيش الأموي الذي كان يقوده القاسم بن شعوه	١	٦٧
			الشخصية العمانية	سليمان بن عباد بن عبد الجلندي	١	٧٤
				عين واليا على ولاية خراسان في العهد الأموي		
	ج	١	قطر		١	٢٨
		٢	السعودية		١	
		٣	الرابعة		١	



(٣)

تابع نموذج إجابة امتحان مادة الدراسات الاجتماعية للصف السادس

الفصل الدراسي: الثاني - الدور الأول (الفترة الصباحية)

للعام الدراسي ١٤٤٦ / ١٤٤٧ هـ - ٢٠٢٤ / ٢٠٢٥ م

تابع ثانيا: إجابة الأسئلة المقالية:

الصفحة	الدرجة	الإجابة	الجزئية	المفردة	السؤال															
٦٧	١		١	أ																
٦٧	١	١	٢																	
٤٠ - ٣٩	٢ لكل مفردة درجة واحدة	<table border="1"> <thead> <tr> <th>السنة</th> <th>(٢٠١٠م)</th> <th>(٢٠٢٠م)</th> </tr> </thead> <tbody> <tr> <td>عوامل النمو السكاني</td> <td></td> <td></td> </tr> <tr> <td>المواليد</td> <td>٦٤,٧٣٠</td> <td>٨٢,٢٢٤</td> </tr> <tr> <td>الوفيات</td> <td>٧,٤١٤</td> <td>١٢,٦٤٩</td> </tr> <tr> <td>الزيادة الطبيعية</td> <td>٥٧,٣١٦</td> <td>٦٩,٥٧٥</td> </tr> </tbody> </table>	السنة	(٢٠١٠م)	(٢٠٢٠م)	عوامل النمو السكاني			المواليد	٦٤,٧٣٠	٨٢,٢٢٤	الوفيات	٧,٤١٤	١٢,٦٤٩	الزيادة الطبيعية	٥٧,٣١٦	٦٩,٥٧٥	-	ب	١٤
السنة	(٢٠١٠م)	(٢٠٢٠م)																		
عوامل النمو السكاني																				
المواليد	٦٤,٧٣٠	٨٢,٢٢٤																		
الوفيات	٧,٤١٤	١٢,٦٤٩																		
الزيادة الطبيعية	٥٧,٣١٦	٦٩,٥٧٥																		
٨٦	١	التقاء العمانيين، والتشاور في أمور حياتهم، ومعالجة بعض القضايا المجتمعية (يكتفى بوحدة) و بما يفيد المعنى	١																	
٦١	٢ لكل مفردة درجة واحدة	 <p>سك أول عملة نقدية باللغة العربية</p> <p>إدخال آلات عسكرية في الحرب (المنجنيق والدبابة)</p>	٢	ج																

(٤)

تابع نموذج إجابة امتحان مادة الدراسات الاجتماعية للصف السادس
 الفصل الدراسي: الثاني - الدور الأول (الفترة الصباحية)
 للعام الدراسي ١٤٤٦ / ١٤٤٧ هـ - ٢٠٢٤ / ٢٠٢٥ م

تابع ثانياً: إجابة الأسئلة المقالية:

الصفحة	الدرجة	الإجابة	الجزئية	المفردة	السؤال
٣٤-٣١	٢ لكل مفردة درجة واحدة		-	أ	
٨٩	٢ لكل مفردة درجة واحدة	١- تعزيز الانتماء والولاء للوطن. ٢- تحمل المسؤولية بين افراد المجتمع. ٣- شراكة المجتمع في القرارات الحكومية. ٤- تعزيز التعاون في المجتمع. ٥- تقريب وجهات النظر بين الحكومة والمجتمع. (أو ما يفيد المعنى) يكتفى بإثنين	١	ب	
٤٢	١	١ - نقص الغذاء. ٢ - التلوث. (أو ما يفيد المعنى) يكتفى بواحدة	٢		١٥
٧٤-٧٢	٢ لكل مفردة درجة واحدة		-	ج	

(٥)

تابع نموذج إجابة امتحان مادة الدراسات الاجتماعية للصف السادس
الفصل الدراسي: الثاني - الدور الأول (الفترة الصباحية)
للعام الدراسي ١٤٤٦ / ١٤٤٧هـ - ٢٠٢٤ / ٢٠٢٥م

الصفحة	الدرجة	الإجابة	الجزئية	المفردة	السؤال						
٤٩-٤٨	١ درجة للقانون ١ درجة للنتيجة	الكثافة السكانية (نسمة / كم ^٢) = عدد السكان في المنطقة المساحة الكلية للمنطقة الكثافة السكانية = ٥٠٠ = ٥٠ نسمة / كم ^٢ ١٠	-	أ							
٤٦	١	١- يتركز السكان في هذه المناطق (أو ما يفيد المعنى)	١								
٢٣	٢ لكل مفردة درجة	١- توفير الخدمات الأساسية للسكان. ٢- وضع الخطط المستقبلية. ٣- إنشاء المشاريع في القطاعات المختلفة. (يكتفى بذكر اثنين)	٢	ب	١٦						
٩٣	٢ لكل مفردة درجة	<table border="1"><tr><td> جمعية الرحمة ALRAHMA ASSOCIATION جمعية الرحمة</td><td> جمعية البيئة Environment Society of Umm Al-Qura</td><td> جمعية الإطفال ذوي الإعاقة</td></tr><tr><td>الرعاية الاجتماعية</td><td>المحافظة على البيئة</td><td>الرعاية الصحية</td></tr></table>	 جمعية الرحمة ALRAHMA ASSOCIATION جمعية الرحمة	 جمعية البيئة Environment Society of Umm Al-Qura	 جمعية الإطفال ذوي الإعاقة	الرعاية الاجتماعية	المحافظة على البيئة	الرعاية الصحية	-	ج	
 جمعية الرحمة ALRAHMA ASSOCIATION جمعية الرحمة	 جمعية البيئة Environment Society of Umm Al-Qura	 جمعية الإطفال ذوي الإعاقة									
الرعاية الاجتماعية	المحافظة على البيئة	الرعاية الصحية									

نهاية نموذج الإجابة



امتحان مادة الدراسات الاجتماعية للصف السادس
الفصل الدراسي: الثاني - الدور الأول (الفترة المسائية)
للعام الدراسي ١٤٤٦ / ١٤٤٧ هـ - ٢٠٢٤ / ٢٠٢٥ م

▪ عدد صفحات أسئلة الامتحان: (٧) صفحات	▪ زمن الامتحان: ساعة ونصف
▪ الدرجة الكلية للامتحان: ٤٠ درجة	▪ الإجابة في دفتر الأسئلة نفسه.
	▪ تُكتب الإجابة بالقلم الأزرق أو الأسود.

اسم الطالب: _____ الصف: _____

التوقيع بالاسم		الدرجة		السؤال
اسم المراجع	اسم المصحح	بالحروف	بالأرقام	
				أولاً: الأسئلة الموضوعية (١ - ١٢)
				ثانياً: الأسئلة المقالية ١٣
				١٤
				١٥
				١٦
مراجعة الجمع	جمعه			المجموع
				المجموع الكلي

أجب عن جميع الأسئلة

أولاً: الأسئلة الموضوعية:

١٢

ضع دائرة حول رمز الإجابة الصحيحة لكل مفردة من المفردات الآتية: -

١- العام الميلادي الذي تم فيه إجراء أول تعداد سكاني شامل في سلطنة عُمان:

د - ١٩٩٤

ج - ١٩٩٣

ب - ١٩٩٢

أ - ١٩٩١

٢- الرقم الذي يشير إلى موقع عاصمة عُمان في عصر الدولة الأموية

في الخريطة المقابلة:



ب - ٢

أ - ١

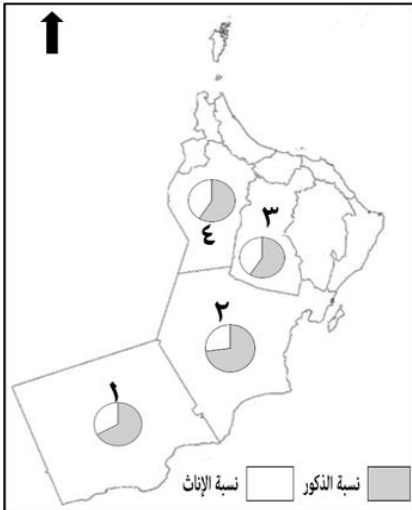
د - ٤

ج - ٣

٣- الوزارة التي تشرف على الخدمات التي تقدمها جمعيات المرأة العُمانية في سلطنة عُمان:

أ - التربية والتعليم ب - العمل ج - التنمية الاجتماعية د - الإسكان والتخطيط العمراني

٤- رقم المحافظة التي تأتي في المركز الأول من حيث انخفاض نسبة الإناث مقارنة بالذكور في الخريطة المقابلة:



ب - ٢

أ - ١

د - ٤

ج - ٣

يتبع/٢

تابع أولاً: الأسئلة الموضوعية:

٥ - المنطقة التي يفضل السكان للعيش فيها وفق العوامل الطبيعية المناسبة:

المنطقة
مرتفعة الحرارة
سهلية
تشرف على المسطحات المائية

ب

المنطقة
معتدلة الحرارة
جبلية
بعيدة عن المسطحات المائية

أ

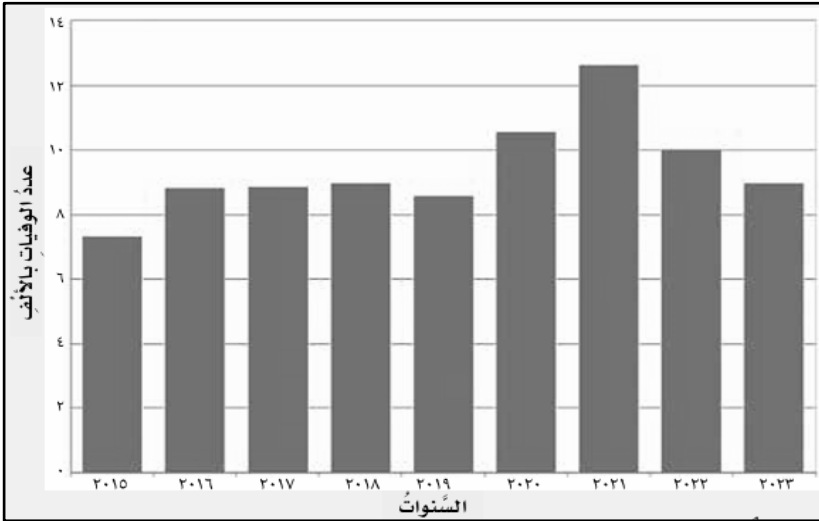
المنطقة
مرتفعة الحرارة
جبلية
تشرف على المسطحات المائية

د

المنطقة
معتدلة الحرارة
سهلية
تشرف على المسطحات المائية

ج

٦ - السنة الميلادية التي تأتي في الترتيب الثاني من حيث عدد الوفيات بسلطنة عُمان كما يظهره الشكل الآتي:



أ - ٢٠٢١

ب - ٢٠٢٠

ج - ٢٠١٩

د - ٢٠١٨

٧ - الشخصية العُمانية التي تعد أول من ألف في علم الفقه:

ب - المهلب بن أبي صفرة

أ - جابر بن زيد

د - يزيد بن المهلب الأزدي

ج - الخليل بن أحمد الفراهيدي

تابع أولاً: الأسئلة الموضوعية:

٨- الجدول الصحيح لتصنيف البيانات السكانية حسب مصادرها:

أ -	مصادر أولية	عدد السكان - إجمالي طلبة الصف السادس في المدارس
	مصادر ثانوية	أعداد المرضى المنومين في قسم الأطفال - أنواع المساكن والمنشآت
ب -	مصادر أولية	أعداد المرضى المنومين في قسم الأطفال - إجمالي طلبة الصف السادس في المدارس
	مصادر ثانوية	عدد السكان - أنواع المساكن والمنشآت
ج -	مصادر أولية	عدد السكان - أنواع المساكن والمنشآت
	مصادر ثانوية	أعداد المرضى المنومين في قسم الأطفال - إجمالي طلبة الصف السادس في المدارس
د -	مصادر أولية	أعداد المرضى المنومين في قسم الأطفال - أنواع المساكن والمنشآت
	مصادر ثانوية	عدد السكان - إجمالي طلبة الصف السادس في المدارس

٩- نوع البنية السكانية التي تشير إليها الآية الكريمة (يَا أَيُّهَا النَّاسُ إِنَّا خَلَقْنَاكُمْ مِنْ ذَكَرٍ وَأُنْثَى):

أ - العُمرية ب - النوعية ج - الاقتصادية د - الاجتماعية



١٠- شكل المشاركة المجتمعية الذي تعبر عنه الصورة المقابلة:

أ - العمل التطوعي ب - المناسبات الوطنية

ج - الانتخابات د - اللقاءات بين الحكومة والمواطنين

١١- السنة الهجرية لسقوط الدولة الأموية:

أ - ١٣٠ ب - ١٣١ ج - ١٣٢ د - ١٣٣

١٢- الترتيب الصحيح لقارة آسيا من حيث التركيز السكاني بين قارات العالم:

أ- الأول ب - الثاني ج - الثالث د - الرابع

ثانياً: الأسئلة المقالية:

١٣) أ - عرف ما يلي: -

١ - المسوحات بالعينة:

٢ - الحكم الوراثي:

ب - اكتب اسم الشخصية العُمانية أمام ما يناسبها من الأعمال في عصر الدولة الأموية في الجدول التالي:

الشخصية العُمانية	الأعمال
.....	- واليا للأمويين على عُمان في أواخر حكم الدولة الأموية.
.....	- برز في علم الشعر والخطابة.

ج - أدرس الأهرامات السكانية التالية ثم أجب عن الأسئلة التي تليها: -



(ب)

(أ)

١- قارن بينهما في الجدول التالي:

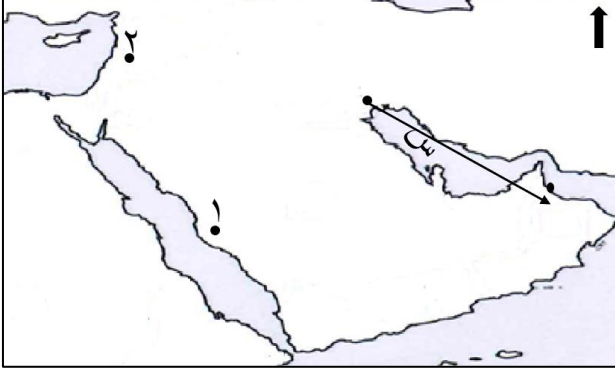
ب	أ	وجه المقارنة
.....	شكل قاعدة الهرم

٢ - ماذا تستنتج من شكل قاعدة الهرم (أ)؟

تابع ثانياً: الأسئلة المقالية:

٧

١٤) أ - أمامك خريطة محاولات حملات الحجاج بن يوسف الثقفي للسيطرة على عُمان، ادرسها



جيذا ثم أجب عن الأسئلة التي تليها:

١ - استخراج الرقم الذي يشير إلى موقع عاصمة الدولة الأموية ()

٢- نتيجة الحملة المشار إليها بالرمز (س).....

ب - من خلال بيانات الجدول الذي أمامك احسب الزيادة الطبيعية للسكان في سلطنة عُمان لعامي (٢٠١٠م

و٢٠٢٠م).

السنة	٢٠١٠م	٢٠٢٠م
عوامل النمو السكاني		
المواليد	٦٤,٧٣٠	٨٢,٢٢٤
الوفيات	٧,٤١٤	١٢,٦٤٩
الزيادة الطبيعية

ج - ١- تتنوع الأعمال التطوعية التي يقوم بها الطلبة داخل المدرسة، في ضوء ذلك اعط مثالا لعمل تطوعي في محيط المدرسة تستطيع المشاركة فيه.

.....

٢- "دخل المسلمون مدينة سمرقند قبل أن يدعوا أهلها إلى الإسلام، فأرسل أهل المدينة وفدا يشتكي إلى الخليفة عمر بن عبد العزيز، فأمر الخليفة بتعيين قاضٍ لينظر في أمر الشكوى، وحكم القاضي بخروج المسلمين من المدينة، وكانت دهشة أهل سمرقند كبيرة عندما خرج المسلمون تنفيذًا للحكم؛ مما جعلهم يعتنقون الإسلام."

من خلال النص السابق أجب عما يلي: -

أ - كيف حل الخليفة عمر بن عبد العزيز شكوى أهل سمرقند؟

.....

ب - استنتج سبباً أدى لاعتناق أهل سمرقند الإسلام.

.....

يتبع/٦

تابع ثانياً: الأسئلة المقالية:

٧

- ١٦ أ - صنف مؤسسات المجتمع المدني في الجدول أدناه بحسب الخدمة التي تقدمها: -
(جمعية إحسان - الجمعية العمانية للمياه - جمعية بهجة العمانية للأيتام)

الخدمة التي تقدمها	مؤسسات المجتمع المدني
الرعاية الاجتماعية
المساعدات الإنسانية
المحافظة على البيئة	الجمعية العمانية للمياه

- ب - في عام ٢٠٢٣م تم عمل تعداد سكاني لمنطقة تبلغ مساحتها ١٠ كم^٢ وعدد سكانها ٦٠٠ نسمة.
احسب الكثافة السكانية للمنطقة (مع ضرورة كتابة معادلة حساب الكثافة السكانية).

- ج - ١ - تحرص الدول على توفير قاعدة من البيانات السكانية لما لها من أهمية كبيرة في دراسة السكان.
اذكر اثنين من أهمية دراسة السكان.

- ٢ - ما النتيجة المترتبة على التركيز السكان في المناطق غير المستقرة سياسياً؟

انتهت الأسئلة مع الدعاء للجميع بالتوفيق والنجاح



نمؤذ آمتآان مآة الءراساء الاآآماعفة للصف السادس
الفصل الءراسف: الثاني - الءور الأول (الفآرة المسائفة)
للعام الءراسف ١٤٤٦ / ١٤٤٧هـ - ٢٠٢٤ / ٢٠٢٥م

المآة: الءراساء الاآآماعفة
آبففه: نمؤذ الإآابة فف (٤) صفآاء.

الءرآة الكلفة: (٤٠) ءرآة.

أولاً: إآابة السؤال الموضوعف:

المفءرة	البءفل الصآفآ	الإآابة	الءرآة	الصفآة
١	آ	١٩٩٣	١	١٨
٢	ب	٢	١	٦٦
٣	آ	الآآامفة الاآآماعفة	١	٩٣
٤	ب	٢	١	٢٧
٥	آ	المنطقة معآءلة الآرارة سهلفة آشرف على المسطآاء المآافة	١	٤٥
٦	ب	٢٠٢٠	١	٤٠
٧	أ	آابر بن زفء	١	٧٢
٨	آ	مصادر أولفة - عءء السكان - أنواع المساكن والمنشآت مصادر ثانوفة - أءءاء المرضف المنومفن فف قسم الأطفال - إآمالف طلبة الصف السادس فف المءارس	١	٢٢
٩	ب	النوعفة	١	٢٦
١٠	ب	المناسبات الوطنفة	١	٨٨-٨٧

فآبع ٢/

(٢)

تابع نموذج امتحان مادة الدراسات الاجتماعية للصف السادس
 الفصل الدراسي: الثاني - الدور الأول (الفترة المسائية)
 للعام الدراسي ١٤٤٦ / ١٤٤٧هـ - ٢٠٢٤ / ٢٠٢٥م

تابع أولاً: إجابة السؤال الموضوعي:

المفردة	البديل الصحيح	الإجابة	الدرجة	الصفحة
١١	ج	١٣٢	١	٦٣
١٢	أ	الأول	١	٤٤
		المجموع	١٢ درجة	

ثانياً: إجابة الأسئلة المقالية:

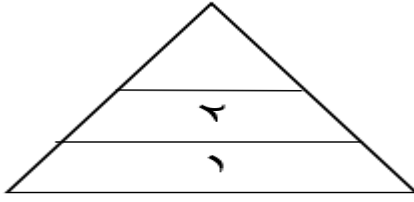
السؤال	المفردة	الجزئية	الإجابة	الدرجة	الصفحة
	أ	١	تطبق على جزء من المجتمع وتستخدم لجمع البيانات السكانية بين فترات التعداد.	١	٢١
		٢	أن يتولى الابن الأكبر للحاكم أو أحد أقربائه الحكم من بعده.	١	٥٨
١٣	ب	-	الأعمال واليا للأمويين على عمان في أواخر حكم الدولة الأموية برز في علم الشعر والخطابة	١	٦٩
			الشخصية العمانية زيد بن المهلب الأزدي	١	٧٢
			وجه المقارنة شكل قاعدة الهرم	ب	أ
	ج	١	ارتفاع نسبة صغار السن (أوما يدل على المعنى).	١	٣٣

يتبع ٣

تابع نموذج امتحان مادة الدراسات الاجتماعية للصف السادس
الفصل الدراسي: الثاني - الدور الأول (الفترة المسائية)
للعام الدراسي ١٤٤٦ / ١٤٤٧ هـ - ٢٠٢٤ / ٢٠٢٥ م

تابع ثانيا: إجابة الأسئلة المقالية:

الصفحة	الدرجة	الإجابة	الجزئية	المفردة	السؤال	
٦٦	١	٢	١	أ	١٤	
٦٧	١	انتصر عليها العُمانيون.	٢			
٤٠	درجتان لكل مفردة درجة واحدة	النمو السكاني	٢٠٢٠	٢٠١٠		ب
		عدد المواليد	٨٢,٢٢٤	٦٤,٧٣٠		
		عدد الوفيات	١٢,٦٤٩	٧,٤١٤		
		الزيادة الطبيعية	٦٩,٥٧٥	٥٧,٣١٦		
٨٨٨٧	١	تنظيف ساحة المدرسة، تقديم حملات توعوية (ما يكتبه الطلبة ويدل على العمل التطوعي داخل المدرسة يعتبر صحيح). ويكتفى بمثال واحد	١	ج		
٦٠	١	أمر بتعيين قاض لينظر في أمر الشكوى.	أ-٢			
٦٠	١	عدالة الإسلام، واحترام المسلمين لمبادئه والتزامهم بتنفيذها (أو بما يفيد المعنى) ويكتفى بسبب واحد	ب-٢			

الصفحة	الدرجة	الإجابة	الجزئية	المفردة	السؤال
٣٤ - ٣١	درجتان لكل مفردة درجة		-	أ	١٥
٨٦	درجتان لكل مفردة درجة	التقاء العمانيين، والتشاور في أمور حياتهم، ومعالجة بعض القضايا المجتمعية. (يكتفى باثنين) (أو ما يفيد المعنى)	١	ب	
٤٢	١	ينتج عنه حياه مستقرة متكافئة الفرص للأفراد. (أو ما يفيد المعنى)	٢		
٧٥ ٧٤	٢	المنجزات العُمانية في عصر الدولة الأموية عسكري اقتصادي المشاركة في الفتوحات الإسلامية اصدار أول عملة نقدية	-	ج	

(٤)

تابع نموذج امتحان مادة الدراسات الاجتماعية للصف السادس
الفصل الدراسي: الثاني - الدور الأول (الفترة المسائية)
للعام الدراسي ١٤٤٦ / ١٤٤٧هـ - ٢٠٢٤ / ٢٠٢٥م

تابع ثانيا: إجابة الأسئلة المقالية:

الصفحة	الدرجة	الإجابة	الجزئية	المفردة	السؤال						
٩٤-٩٣	درجتان لكل مفردة درجة	<table border="1"> <tr> <td>مؤسسات المجتمع المدني</td> <td>الخدمة التي تقدمها</td> </tr> <tr> <td>جمعية بهجة العمانية للأيتام</td> <td>الرعاية الاجتماعية</td> </tr> <tr> <td>جمعية إحسان</td> <td>المساعدات الإنسانية</td> </tr> </table>	مؤسسات المجتمع المدني	الخدمة التي تقدمها	جمعية بهجة العمانية للأيتام	الرعاية الاجتماعية	جمعية إحسان	المساعدات الإنسانية	١	أ	
مؤسسات المجتمع المدني	الخدمة التي تقدمها										
جمعية بهجة العمانية للأيتام	الرعاية الاجتماعية										
جمعية إحسان	المساعدات الإنسانية										
٤٨	درجة للقانون درجة للنتيجة	<p>الكثافة السكانية (نسمة / كم^٢) = عدد السكان في المنطقة</p> <p>المساحة الكلية للمنطقة</p> <p>الكثافة السكانية = $\frac{٦٠٠}{١٠} = ٦٠$ نسمة / كم^٢</p>	—	ب	١٦						
٢٣	٢ لكل مفردة درجة	<p>- توفير الخدمات الأساسية للسكان</p> <p>- وضع الخطط المستقبلية</p> <p>- إنشاء المشاريع في القطاعات المختلفة (يكتفى بذكر اثنين)</p>	١	ج							
٤٦	١	يقول تركيز السكان في المناطق غير المستقرة سياسيا.	٢								

نهاية نموذج الإجابة



امتحان مادة الدراسات الاجتماعية للصف السادس
الفصل الدراسي: الثاني - الدور الثاني
للعام الدراسي ١٤٤٦ / ١٤٤٧ هـ - ٢٠٢٤ / ٢٠٢٥ م

▪ عدد صفحات أسئلة الامتحان: (٧) صفحات	▪ زمن الامتحان: ساعة ونصف
▪ الدرجة الكلية للامتحان: ٤٠ درجة	▪ الإجابة في دفتر الأسئلة نفسه.
	▪ تُكتب الإجابة بالقلم الأزرق أو الأسود.

اسم الطالب: _____ الصف: _____

التوقيع بالاسم		الدرجة		السؤال
اسم المراجع	اسم المصحح	بالحروف	بالأرقام	
				أولاً: الأسئلة الموضوعية (١ - ١٢)
				ثانياً: الأسئلة المقالية ١٣
				١٤
				١٥
				١٦
مراجعة الجمع	جمعه			المجموع
				المجموع الكلي

أجب عن جميع الأسئلة

أولاً: الأسئلة الموضوعية:

١٢

ضع دائرة حول رمز الإجابة الصحيحة لكل مفردة من المفردات الآتية: -

١- العام الميلادي الذي أجري فيه أول تعداد إلكتروني واعتمدت نتائجه في سلطنة عُمان:

٢٠٢١ - د

٢٠٢٠ - ج

٢٠١٩ - ب

٢٠١٨ - أ

٢- الرقم الذي يشير إلى موقع عاصمة عُمان في عصر الدولة الأموية

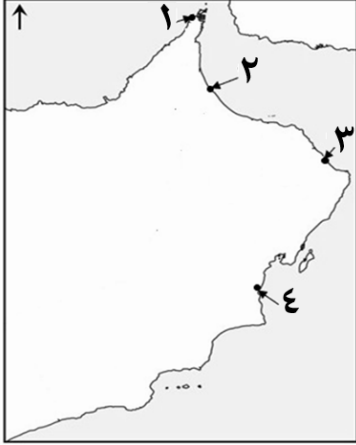
في الخريطة المقابلة:

٢ - ب

١ - أ

٤ - د

٣ - ج



٣- الجدول الصحيح الذي يصنف السكان حسب فئات العمر:

العمر	الفئة العمرية
(١٤) سنة فأقل.	صغار السن
(١٥-٦٥) سنة.	متوسطو السن
(٦٦) سنة فأكثر.	كبار السن

ب

العمر	الفئة العمرية
(١٣) سنة فأقل.	صغار السن
(١٤-٦٤) سنة.	متوسطو السن
(٦٥) سنة فأكثر.	كبار السن

أ

العمر	الفئة العمرية
(١٤) سنة فأقل.	صغار السن
(١٥-٦٤) سنة.	متوسطو السن
(٦٥) سنة فأكثر.	كبار السن

د

العمر	الفئة العمرية
(١٣) سنة فأقل.	صغار السن
(١٤-٦٥) سنة.	متوسطو السن
(٦٦) سنة فأكثر.	كبار السن

ج

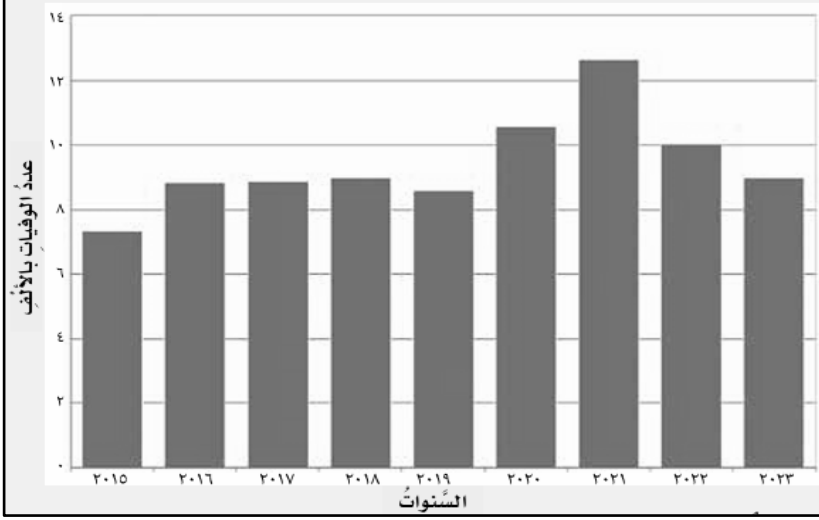
٤ - الوزارة التي تشرف على الخدمات التي تقدمها جمعيات المرأة العُمانية في سلطنة عُمان:

أ- التنمية الاجتماعية ب- العمل ج- التربية والتعليم د- الإسكان والتخطيط العمراني

يتبع/٢

تابع أولاً: الأسئلة الموضوعية:

٥ - السنة الميلادية التي تأتي في الترتيب الثالث من حيث عدد الوفيات بسُلطنة عُمان كما يظهره الشكل الآتي:



أ - ٢٠٢٠

ب - ٢٠٢١

ج - ٢٠٢٢

د - ٢٠٢٣

٦ - الشخصية العُمانية التي أدرجت عام ٢٠٠٥ م في برنامج اليونسكو كشخصية مؤثرة عالمياً:

ب - الخليل بن أحمد الفراهيدي

أ - جابر بن زيد

د - يزيد بن المهلب الأزدي

ج - كعب بن معدان

٧ - المنطقة التي يفضل السكان العيش فيها وفق العوامل الطبيعية المناسبة:

المنطقة
مرتفعة الحرارة
سهلية
تشرف على المسطحات المائية

ب

المنطقة
معتدلة الحرارة
سهلية
تشرف على المسطحات المائية

أ

المنطقة
مرتفعة الحرارة
جبلية
تشرف على المسطحات المائية

د

المنطقة
معتدلة الحرارة
جبلية
بعيدة عن المسطحات المائية

ج

يتبع ٣/

تابع أولاً: الأسئلة الموضوعية:

٨ - السنة الهجرية لتولي معاوية بن أبي سفيان الحكم وقيام الدولة الأموية:

٤٣ - د

٤٢ - ج

٤١ - ب

٤٠ - أ

٩ - البنية التي تتمثل في خصائص السكان من حيث الحالة الزوجية:

د - الاجتماعية

ج - الاقتصادية

ب - النوعية

أ - العمرية

١٠ - شكل المشاركة المجتمعية الذي تعبر عنه الصورة المقابلة:



أ - العمل التطوعي

ب - اللقاءات بين الحكومة والمواطنين

ج - المناسبات الوطنية

د - الانتخابات

١١ - القارة التي يتركز فيها أكثر سكان العالم:

د - استراليا

ج - أوروبا

ب - أفريقيا

أ - آسيا

١٢ - تمثل البيانات المدنية التي تظهر في الصورة المقابلة:

الرقم المدني:

إسم المولود:

الجنس:

وقت الولادة:

مكان الميلاد:

تاريخ الميلاد الهجري: / /

تاريخ الميلاد الميلادي: / /

ب - المواليد

أ - الطلاق

د - الزواج

ج - الوفيات

ثانياً: الأسئلة المقالية:

(١٣) أ - عرف ما يلي: -

١ - التعداد السكاني:

.....

٢ - الحكم الوراثي:

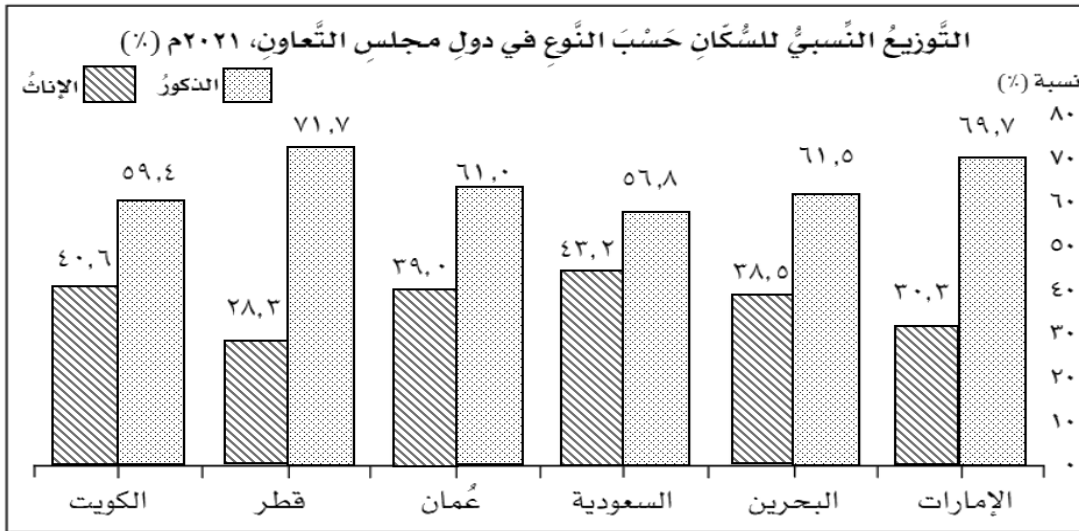
.....

ب - اكتب اسم الشخصية العمانية أمام ما يناسبها من الأعمال في عصر الدولة الأموية في الجدول التالي: -

الشخصية العمانية	الأعمال
.....	- انتصر على الجيش الأموي الذي كان يقوده القاسم بن شعوه.
.....	- من أشهر النساء في القرن الأول الهجري، أخذت العلم عن كبار التابعين.

ج - أمامك شكل بياني، يوضح التوزيع النسبي للسكان حسب النوع في دول مجلس التعاون لدول الخليج

العربي لعام ٢٠٢١م، ادرس الشكل ثم أجب عن الأسئلة التي تليه: -



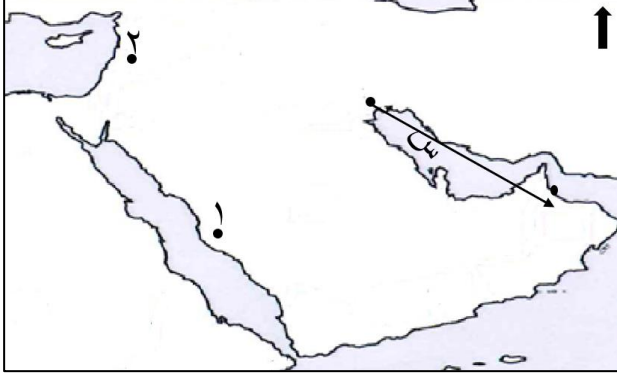
١- الدولة الأعلى في نسبة الإناث بين دول مجلس التعاون الخليجي:

٢- الدولة الأقل في نسبة الإناث بين دول مجلس التعاون الخليجي:

٣- الترتيب التنازلي لمملكة البحرين في نسبة الذكور بين دول مجلس التعاون الخليجي:

تابع ثانياً: الأسئلة المقالية:

١٤ أ - أمامك خريطة محاولات حملات الحجاج بن يوسف الثقفي للسيطرة على عُمان، ادرسها



جيدا ثم أجب عن الأسئلة التي تليها:

١ - استخرج الرقم الذي يشير إلى موقع عاصمة الدولة الأموية ()

٢- نتيجة الحملة المشار إليها بالرمز (س).....

ب - من خلال بيانات الجدول الذي أمامك احسب الزيادة الطبيعية للسكان في منطقة ما لعامي (٢٠١٠م

و٢٠٢٠م).

السنة	(٢٠١٠م)	(٢٠٢٠م)
عوامل النمو السكاني		
المواليد	٦٠,٥٠٠	٨٠,٢٠٠
الوفيات	٧,٤٠٠	١٢,٦٠٠
الزيادة الطبيعية

ج - أجب عما يلي: -

١- أمامك صور للإسهامات الحضارية في عصر الدولة الأموية اكتب أسفلها المجال الذي تنتمي إليه:



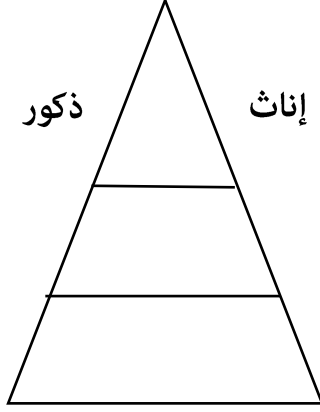
٢- تتنوع الأعمال التطوعية التي يقوم بها الطلبة لخدمة المجتمع، في ضوء ذلك اعط مثالا لعمل تطوعي في بيتك المحلية تستطيع المشاركة فيه.

يتبع/٦

تابع ثانياً: الأسئلة المقالية:

٧

١٥) أ - أمامك هرم سكاني، اكتب فيه رقم الصور التالية التي تعبر عن أحد مكوناته في موقعها الصحيح:



(٢)



(١)

ب - ١ - عدد اثنين من أدوار السبلة في المجتمع العماني.

.....

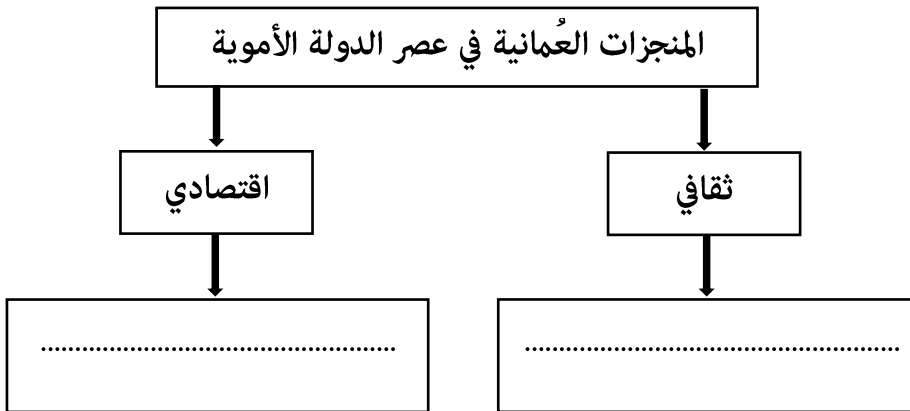
.....

٢ - اذكر مشكلة واحدة تترتب على زيادة النمو السكاني بصورة تفوق الموارد المتاحة.

.....

ج - صف المنجزات العمانية الآتية في عصر الدولة الأموية في المخطط التالي:

(اصدار أول عملة نقدية - الإسهام في علوم الشريعة واللغة العربية)



يتبع / ٧

تابع ثانياً: الأسئلة المقالية:

٧

١٦ أ - اكتب أسفل كل شعار لمؤسسات المجتمع المدني نوع الخدمة التي تقدمها من بين القوسين (الرعاية الاجتماعية، المحافظة على البيئة، الرعاية الصحية).

 <p>جمعية الرحمة ALRAHMA ASSOCIATION الرعاية الاجتماعية والتفوق</p>	 <p>جمعية البيئة Environment Society of Oman المحافظة على البيئة</p>	 <p>جمعية الأطفال ذوي الإعاقة</p>
.....	المحافظة على البيئة

ب - في عام ٢٠٢٣م تم عمل تعداد سكاني لمنطقة تبلغ مساحتها ١٠كم^٢ وعدد سكانها ٥٠٠ نسمة. احسب الكثافة السكانية للمنطقة (مع ضرورة كتابة معادلة حساب الكثافة السكانية)

.....

.....

.....

ج - اذكر:

١ - نتيجة واحدة على توفر الخدمات في توزيع السكان.

.....

٢ - اثنين من أهمية دراسة السكان.

.....

.....

انتهت الأسئلة مع الدعاء للجميع بالتوفيق والنجاح



نموذج امتحان مادة الدراسات الاجتماعية للصف السادس

الفصل الدراسي: الثاني - الدور الثاني

للعام الدراسي ١٤٤٦ / ١٤٤٧ هـ - ٢٠٢٤ / ٢٠٢٥ م

المادة: الدراسات الاجتماعية
تنبيهه: نموذج الإجابة في (٥) صفحات.
الدرجة الكلية: (٤٠) درجة.

أولاً: إجابة السؤال الموضوعي:

المفردة	البديل الصحيح	الإجابة	الدرجة	الصفحة								
١	ج	٢٠٢٠	١	١٨								
٢	ب	٢	١	٦٦								
٣	د	<table border="1"><thead><tr><th>العمر</th><th>الفترة العمرية</th></tr></thead><tbody><tr><td>(١٤) سنة فأقل.</td><td>صغار السن</td></tr><tr><td>(١٥-٦٤) سنة.</td><td>متوسطو السن</td></tr><tr><td>(٦٥) سنة فأكثر.</td><td>كبار السن</td></tr></tbody></table>	العمر	الفترة العمرية	(١٤) سنة فأقل.	صغار السن	(١٥-٦٤) سنة.	متوسطو السن	(٦٥) سنة فأكثر.	كبار السن	١	٢٩
العمر	الفترة العمرية											
(١٤) سنة فأقل.	صغار السن											
(١٥-٦٤) سنة.	متوسطو السن											
(٦٥) سنة فأكثر.	كبار السن											
٤	أ	التنمية الاجتماعية	١	٩٣								
٥	ج	٢٠٢٢	١	٤٠								
٦	ب	الخليل بن أحمد الفراهيدي	١	٧٢								
٧	أ	<table border="1"><thead><tr><th>المنطقة</th></tr></thead><tbody><tr><td>معتدلة الحرارة</td></tr><tr><td>سهلية</td></tr><tr><td>تشرف على المسطحات المائية</td></tr></tbody></table>	المنطقة	معتدلة الحرارة	سهلية	تشرف على المسطحات المائية	١	٤٥				
المنطقة												
معتدلة الحرارة												
سهلية												
تشرف على المسطحات المائية												
٨	ب	٤١	١	٥٨								
٩	د	الاجتماعية	١	٣٥								
١٠	ج	المناسبات الوطنية	١	٨٨-٨٧								

يتبع/٢

(٢)

تابع فؤذج امتحان مادة الدراسات الاجتماعية للصف السادس
الفصل الدراسي: الثاني - الدور الثاني
للعام الدراسي ١٤٤٦ / ١٤٤٧ هـ - ٢٠٢٤ / ٢٠٢٥ م

تابع أولاً: إجابة السؤال الموضوعي:

المفردة	البديل الصحيح	الإجابة	الدرجة	الصفحة
١١	أ	آسيا	١	٤٤
١٢	ب	المواليذ	١	٢١ - ٢٠
		المجموع	١٢ درجة	



ثانياً: إجابة الأسئلة المقالية:

السؤال	المفردة	الجزئية	الإجابة	الدرجة	الصفحة
	أ	١	التعداد عملية حصر (السكان، والمسكن، والمنشآت) لمجتمع معين في وقت محدد وعلى فترات منتظمة.	١	١٨
		٢	أن يتولى الأب الأكبر للحاكم أحد أقربائه الحكم من بعده.	١	٥٨
١٣	ب	-	الأعمال - انتصر على الجيش الأموي الذي كان يقوده القاسم بن شعوه. شليمان بن عباد بن عبد بن الجلندي	١	٦٧
		-	الشخصية العُمانية - من أشهر النساء في القرن الأول هجري، أخذت العلم عن كبار التابعين. هند بنت المهلب بن أبي صفرة	١	٧٣
	ج	١	السعودية	١	٢٨
٢		قطر	١		
٣		الثالث	١		

يتبع ٣/

(٣)

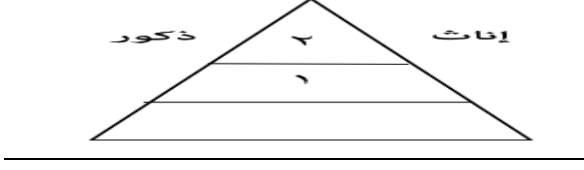
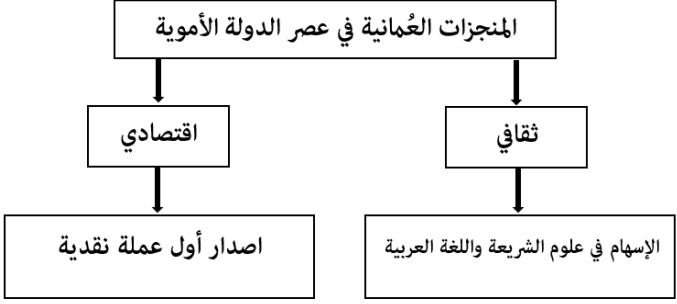
تابع نموذج امتحان مادة الدراسات الاجتماعية للصف السادس
الفصل الدراسي: الثاني - الدور الثاني
للعام الدراسي ١٤٤٦ / ١٤٤٧هـ - ٢٠٢٤ / ٢٠٢٥م

تابع ثانيا: إجابة الأسئلة المقالية:

الصفحة	الدرجة	الإجابة	الجزئية	المفردة	السؤال															
٦٦	١	٢	١	أ																
٦٧	١	حملات انتصر عليها العمانيون	٢																	
٤٠-٣٩	درجتان لكل مفردة درجة	<table border="1"> <thead> <tr> <th>السنة</th> <th>(٢٠١٠م)</th> <th>(٢٠٢٠م)</th> </tr> </thead> <tbody> <tr> <td>عوامل النمو السكاني</td> <td>٦٠,٥٠٠</td> <td>٨٠,٢٠٠</td> </tr> <tr> <td>المواليد</td> <td>٧,٤٠٠</td> <td>١٢,٦٠٠</td> </tr> <tr> <td>الوفيات</td> <td>٥٣,١٠٠</td> <td>٦٧,٦٠٠</td> </tr> <tr> <td>الزيادة الطبيعية</td> <td></td> <td></td> </tr> </tbody> </table>	السنة	(٢٠١٠م)		(٢٠٢٠م)	عوامل النمو السكاني	٦٠,٥٠٠	٨٠,٢٠٠	المواليد	٧,٤٠٠	١٢,٦٠٠	الوفيات	٥٣,١٠٠	٦٧,٦٠٠	الزيادة الطبيعية			١	ب
السنة	(٢٠١٠م)	(٢٠٢٠م)																		
عوامل النمو السكاني	٦٠,٥٠٠	٨٠,٢٠٠																		
المواليد	٧,٤٠٠	١٢,٦٠٠																		
الوفيات	٥٣,١٠٠	٦٧,٦٠٠																		
الزيادة الطبيعية																				
٦١	درجتان لكل مفردة درجة واحدة	<table border="1"> <tbody> <tr> <td></td> <td></td> </tr> <tr> <td>المجال العسكري</td> <td>المجال العمراني</td> </tr> </tbody> </table>			المجال العسكري	المجال العمراني	١	ج												
																				
المجال العسكري	المجال العمراني																			
٨٨-٨٧	١	حملات توعية داخل الحي / عمليات تنظيف في الحي (أو ما يفيد المعنى او اعمال آخري ذكرها الطلبة لها علاقة بالموضوع) يكتفى بذكر واحدة	٢																	

(٤)

تابع نموذج امتحان مادة الدراسات الاجتماعية للصف السادس
الفصل الدراسي: الثاني - الدور الثاني
للعام الدراسي ١٤٤٦ / ١٤٤٧ هـ - ٢٠٢٤ / ٢٠٢٥ م

السؤال	المفردة	الجزئية	الإجابة	الدرجة	الصفحة
١٥	أ	١		٢ لكل مفردة درجة	٣٤-٣١
	ب	١	١- التقاء العمانيين ٢- التشاور في أمور حياتهم ٣- معالجة بعض القضايا المجتمعية. (يكتفى بذكر اثنين) وبما يفيد المعنى	٢ لكل مفردة درجة	٨٦
		٢	١- مشكلة نقص الغذاء ٢- مشكلة التلوث (يكتفى بذكر واحدة) وبما يفيد المعنى	١	٤٢
ج				درجتان لكل مفردة درجة	٧٥-٧٢

(٥)

تابع نموذج امتحان مادة الدراسات الاجتماعية للصف السادس
 الفصل الدراسي: الثاني - الدور الثاني
 للعام الدراسي ١٤٤٦ / ١٤٤٧ هـ - ٢٠٢٤ / ٢٠٢٥ م

تابع ثانيا: إجابة الأسئلة المقالية:

الصفحة	الدرجة	الإجابة	الجزئية	المفردة	السؤال
٩٣	درجتان لكل مفردة درجة	  	١	أ	١٦
		<p>الرعاية الاجتماعية</p> <p>المحافظة على البيئة</p> <p>الرعاية الصحية</p>			
٤٨	درجتان (درجة للقانون ودرجة للنتيجة)	<p>الكثافة السكانية (نسمة / كم^٢) = عدد السكان في المنطقة</p> <p>المساحة الكلية للمنطقة</p> <p>الكثافة السكانية = $\frac{٥٠٠}{١٠} = ٥٠$ نسمة / كم^٢</p>	١	ب	
٤٦	١	يتركز السكاني في المناطق التي يزيد فيها الخدمات	١	ج	
٢٣	درجتان لكل مفردة درجة واحدة	<p>١- توفير الخدمات الأساسية للسكان.</p> <p>٢- وضع الخطط المستقبلية.</p> <p>٣- إنشاء المشاريع في القطاعات (يكتفى يذكر اثنين)</p>	٢	ج	

نهاية نموذج الإجابة