

تم تحميل هذا الملف من موقع المناهج العمانية



الامتحان النهائي الرسمي الدور الأول بالمحافظات مسقط والداخلية وشمال الشرقية ومسندم

[موقع المناهج](#) ⇨ [المناهج العمانية](#) ⇨ [الصف السادس](#) ⇨ [اجتماعيات](#) ⇨ [الفصل الثاني](#) ⇨ [الملف](#)

تاريخ إضافة الملف على موقع المناهج: 08:24:41 2024-06-06

التواصل الاجتماعي بحسب الصف السادس



اضغط هنا للحصول على جميع روابط "الصف السادس"

روابط مواد الصف السادس على تلغرام

[الرياضيات](#)

[اللغة الانجليزية](#)

[اللغة العربية](#)

[التربية الاسلامية](#)

المزيد من الملفات بحسب الصف السادس والمادة اجتماعيات في الفصل الثاني

مواصفات الورقة الامتحانية	1
ملخص شامل في الوحدة الرابعة بطريقة سؤال وجواب	2
ملخصات وأنشطة مع نماذج اختبارية للمادة	3
أسئلة المادة مع الإجابات	4
أسئلة اختبارات نهائية سابقة محلولة للدرس الثالث بيئة الغابات	5

المزيد من الملفات بحسب الصف السادس والمادة اجتماعيات في الفصل الثاني

[المدارية المطيرة الأستوائية](#)

أجب عن جميع الأسئلة الآتية

السؤال الأول: ضع دائرة حول رمز الإجابة الصحيحة لكل مفردة من المفردات الآتية:

١٢

١- الغاز الذي تطلقه النباتات بكميات كبيرة هو :

(د) ثاني أكسيد الكربون

(ج) النيتروجين

(ب) الأرجون

(أ) الأكسجين

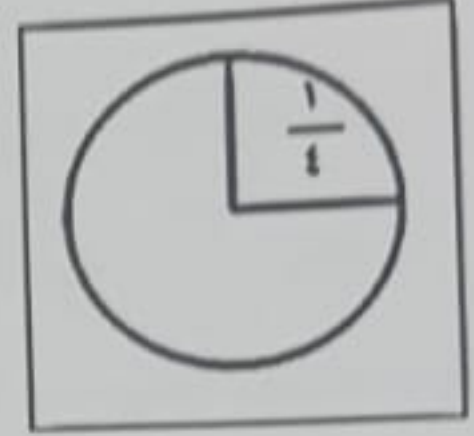
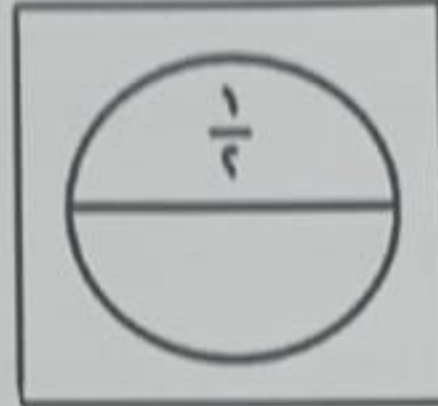
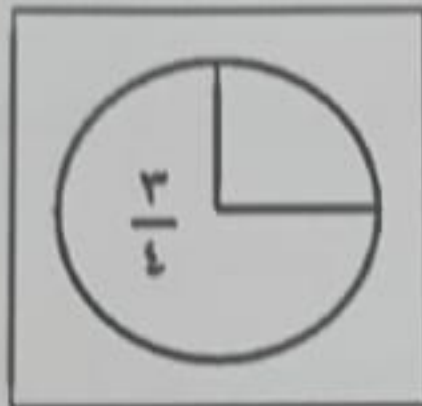
٢- الشكل الصحيح لنسبة ما تمثله الغابات من مساحة الأرض :

(د)

(ج)

(ب)

(أ)



٣- أفضل درجة حرارة لنمو النباتات الطبيعية هي التي تتراوح بين :

(د) ١٠-٤٠°س

(ج) ١٠-٣٥°س

(ب) ١٠-٣٠°س

(أ) ١٠-٢٥°س

٤- توجد محمية المها العربي في:

(د) جبل سمحان

(ج) الجبل الأخضر

(ب) رأس الحد

(أ) جدة الحراسيس

٥- تمثل الصورة المقابلة احد العوامل المؤثرة

في النظم البيئية :



(د) التربة

(ج) التضاريس

(ب) المناخ

(أ) الارتفاع

المادة: الدراسات الاجتماعية-الصف: السادس - الدور الأول - الفصل الدراسي الثاني -
العام الدراسي ٢٠٢٣/٢٠٢٤ - (الفترة الصباحية)

تابع: السؤال الأول:

٦- احدى الصور التالية تعبر عن واجبك تجاه وطنك:



(د)



(ج)



(ب)



(أ)

٧- يحرص سالم على الذهاب الى المدرسة يوميا في وقت مبكر الصفة التي يتصف بها.

(أ) احترام المواعيد (ب) تقدير العاملين (ج) الصدق (د) الأمانة

٨- الصورة التي تدل على العمل الذي يحتاج فيه العامل إلى خبرة وتأهيل دراسي عال:



(د)



(ج)



(ب)



(أ)

٩- العام الميلادي الذي صدر فيه النظام الاساسي للدولة هو:

(د) ١٩٩٨

(ج) ١٩٩٦

(ب) ١٩٩٤

(أ) ١٩٩٢

			٣
			٤
			٥
مراجعة الجمع	جمعه		جموع
			جموع
			لكلي

لمادة: الدراسات الاجتماعية-الصف: السادس - الدور الأول - الفصل الدراسي الثاني -
 العام الدراسي ٢٠٢٣/٢٠٢٤ - (الفترة الصباحية)

تابع السؤال الأول:

١٠- الجدول الصحيح الذي يمثل المناخ في بيئة حشائش السافانا :
 (أ)

(ب)

فصل الجفاف	فصل المطر
مايو الى اكتوبر	نوفمبر الى ابريل
اعشاب وحشائش صفراء أو بنية	اعشاب وحشائش طويلة وخضراء

(د)

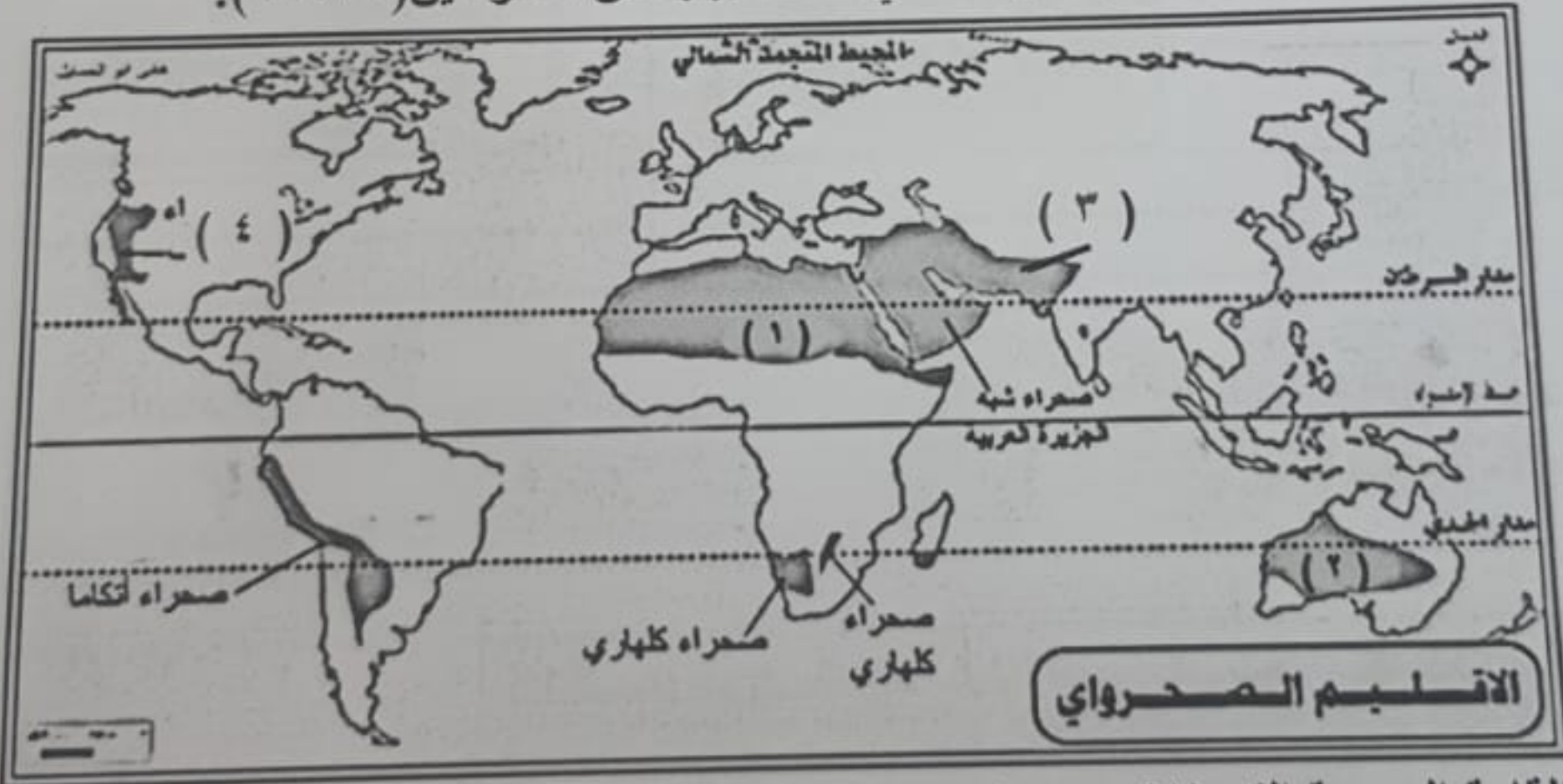
فصل الجفاف	فصل المطر
نوفمبر الى ابريل	مايو الى اكتوبر
اعشاب وحشائش طويلة وخضراء	اعشاب وحشائش صفراء او بنية

فصل الجفاف	فصل المطر
نوفمبر الى ابريل	مايو الى اكتوبر
اعشاب وحشائش صفراء أو بنية	اعشاب وحشائش طويلة وخضراء

(ج)

فصل الجفاف	فصل المطر
مارس الى ابريل	يونيو الى اكتوبر
اعشاب وحشائش صفراء او بني	اعشاب وحشائش طويلة وخضراء

- بالاستعانة بالخريطة التي أمامك أجب عن المفردتين (١١، ١٢):



١١- القارة الوحيدة التي لا توجد بها صحراء :

(أ) استراليا (ب) آسيا (ج) اوروبا (د) أمريكا الشمالية

١٢- الرقم الذي يشير الى الصحراء الكبرى:

(أ) ١ (ب) ٢ (ج) ٣ (د) ٤ يتبع

			٤
			٥
مراجعة الجمع	جمعه		المجموع
			لمجموع الكلي

(٤)
الدراسات الاجتماعية-الصف: السادس - الدور الأول - الفصل الدراسي الثاني -
العام الدراسي ٢٠٢٣/٢٠٢٤ - (الفترة الصباحية)

السؤال الثاني : الأسئلة المقالية:



٨

أولاً- (أ) اكتب اسم المفهوم أو المصطلح الدال على العبارات الآتية .

م	العبرة	المفهوم / المصطلح
١	بقعة الارض التي تنتمي اليها.
٢	وثيقة رسمية تعرف بالدولة ونظام الحكم فيها.

ب) تأمل السلوك التالي- سمعت زميلك يسخر من عمال النظافة أثناء توجيهكم للمدرسة صباحاً ما رأيك في هذا الموقف؟

ثانياً : (أ) - قارن بين النباتات التالية من حيث اسلوب التكيف مع ظروف البيئة الصحراوية :

النبات	أسلوب التكيف



ب) عدد واحدا لكل مما يأتي :
١) فوائد الغلاف الحيوي للإنسان:

٢) الحيوانات التي تعيش في بيئة الحشائش المدارية (السافانا) .

ج) ادرس الصورة التي أمامك ، ثم أجب عن الأسئلة الآتية .
١) استنتج من الصورة أحد أساليب صيانة التربة.



٢) وضح فائدة واحدة لهذا الأسلوب .

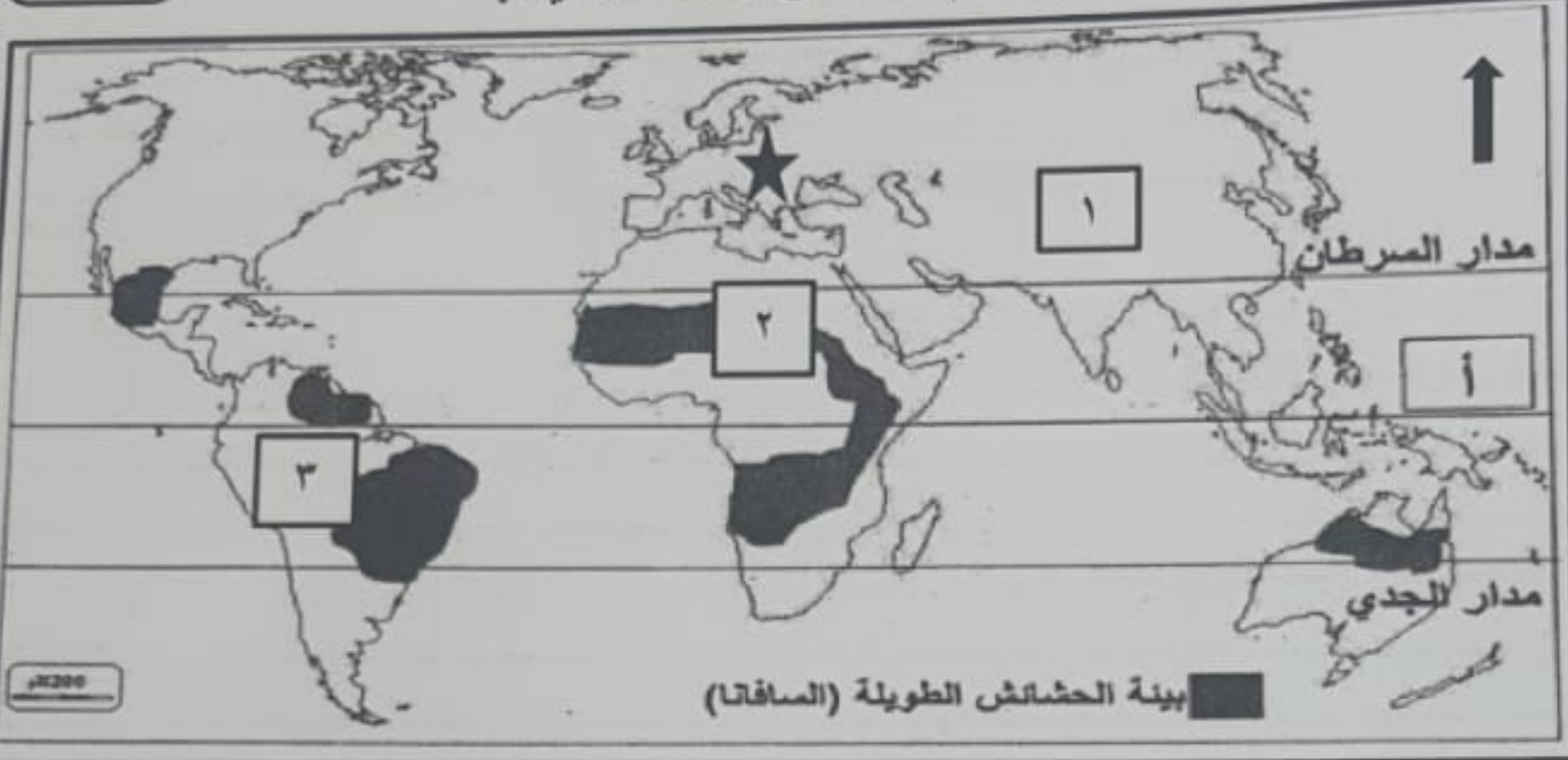
لمادة: الدراسات الاجتماعية-الصف: السادس - الدور الأول - الفصل الدراسي الثاني -
 العام الدراسي ٢٠٢٣/٢٠٢٤ - (الفترة الصباحية) (٥)

السؤال الثالث :

أولاً :

أ- ادرس الخريطة التي أمامك جيدا ثم أجب عن الأسئلة الآتية :

٨



- ١- اسم الدائرة العرضية المشار إليها بالرمز (أ).....
- ٢- استخراج رقم القارة التي تقع بها الدولة العربية التي تظهر بها بينة الحشائش الطويلة السافانا (.....)
- ٣- احد القارات التي لا تظهر فيها بينة الحشائش الطويلة والمشار إليها بالرمز (★).....

ثانياً :

أ () يتم قطع مساحات كبيرة من الغابات لتستخدم لأغراض عدة دون ترشيد ،ماذا سيحدث لهذه الغابات بعد مرور ٢٥ عاما في ظل استمرار قطع الاشجار؟ اقترح حل لها.

ب) أكمل المخطط المعرفي الآتي:



المادة: الدراسات الاجتماعية-الصف: السادس - الدور الأول - الفصل الدراسي الثاني -
العام الدراسي ٢٠٢٣/٢٠٢٤ - (الفترة الصباحية)

تابع السؤال الثالث :

تابع ثانيا :

(ج) فسر ما يلي :

قول الرسول الكريم (إن الله يحب إذا عمل أحدكم عملا أن يتقته).

السؤال الرابع:


أولا : اذكر اثنين لكل مما يلي :

(١) صور واشكال الأمانة .

(٢) خصائص الصحاري الحارة .

ثانيا :

أ- اكتب أساليب صيانة التربة في مواقعها المناسبة على الصورة.



ب- ما أسلوب الصيانة المتبع في الجبل الأخضر بسلطنة عمان ؟

(٧)

المادة: الدراسات الاجتماعية-الصف: السادس - الدور الأول - الفصل الدراسي الثاني -
العام الدراسي ٢٠٢٣/٢٠٢٤ - (الفترة الصباحية)

السؤال الخامس:



الرطب

أولا - انظر الى الصورة التي أمامك ثم اجب عن الاسئلة التي تليها :

١ - ما البيئة التي تنتمي اليها هذه الشجرة؟

٢ - اذكر فائدتين للجزء المشار اليه بالسهم .

ثانيا:

١ - من خلال دراستك لموضوع الصدق والأمانة .كيف تطبق الصدق في المدرسة؟

٢ - صنف العناصر التالية الى حقوق وواجبات بوضع علامة (✓) في المكان المناسب :

العناصر	واجبات	حقوق
التعليم		
اجتهاد في دروسي		

انتهت الأسئلة مع الدعاء للجميع بالتوفيق والنجاح