

تم تحميل هذا الملف من موقع المناهج العمانية



ملخص درس الأسماء الجغرافية بطريقة سؤال وجواب

موقع فايلاتي ← المناهج العمانية ← الصف السادس ← اجتماعيات ← الفصل الأول ← ملخصات وتقارير ← الملف

تاريخ إضافة الملف على موقع المناهج: 10:43:25 2024-10-11

ملفات اكتب للمعلم اكتب للطالب | الاختبارات الكترونية | اختبارات | حلول | عروض بوربوينت | أوراق عمل
منهج انجليزي | ملخصات وتقارير | مذكرات وبنوك | الامتحان النهائي للمدرس

المزيد من مادة
اجتماعيات:

التواصل الاجتماعي بحسب الصف السادس



صفحة المناهج
العمانية على
فيسبوك

الرياضيات

اللغة الانجليزية

اللغة العربية

التربية الاسلامية

المواد على تلغرام

المزيد من الملفات بحسب الصف السادس والمادة اجتماعيات في الفصل الأول

سؤال قصير أول تجريبي في درس الخرائط محافظة مسقط

1

سؤال قصير أول في وحدة الخريطة والرموز

2

كراسة أنشطة إثرائية شاملة للمنهج

3

تقرير عن الهرم السكاني

4

تقرير عن البيانات السكانية ومصادرها

5

١- ما المقصود بالأسماء الجغرافية؟

مسميات الأماكن والظواهر الجغرافية (الطبيعية والبشرية) التي تتضمنها الخريطة.

٢- ما الهيئة الحكومية المسؤولة عن توثيق الأسماء الجغرافية في خرائط سلطنة عمان؟

الهيئة الوطنية للمساحة بوزارة الدفاع (قسم الأسماء الجغرافية).

٣- الأساسيات التي يجب الالتزام بها عند كتابة الأسماء الجغرافية على الخرائط.

أساسيات كتابة الأسماء الجغرافية

<p>تكتب الأسماء الجغرافية على الخرائط في موقع محدد ويشير إلى رمز واحد فقط.</p>	<ul style="list-style-type: none"> تكتب أسماء المدن الساحلية على المسطح المائي تكتب أسماء المدن الداخلية في موضع مناسب على اليابسة. 	<ul style="list-style-type: none"> كتابة الأسماء بحجم خط مناسب وضع أفقي قدر الإمكان ويعتمد حجم الخط على أهمية الظاهرة الجغرافية مثال: المدن (خط صغير) المحافظات (خط أكبر)

٤- أساسيات كتابة الأسماء الجغرافية حسب نوع الرموز :

<p>الرموز المساحية</p>	<p>الرموز الخطية</p>	<p>الرموز النقطية</p>
<p>تكتب الأسماء على الظواهر التي لها امتداد مساحي في وضع يدل على اتجاه امتدادها.</p>	<p>تكتب الأسماء فوق الرمز مباشرة ، وليس أسفله</p>	<p>تكتب الأسماء غالبا أعلى الرمز أو يمينه مباشرة</p>

٥- ما أهمية الأسماء الجغرافية؟

- وسيلة سهلة لقراءة وفهم الخرائط الطبيعية والبشرية
- توفير معلومات مهمة عن المواقع والظواهر الجغرافية
- تجعل الخريطة أداة مناسبة للتعرف إلى العالم بتفاصيله المختلفة.

٦- علل ما يلي:

أ- اختلاف حجم الخط في كتابة الظواهر الجغرافية.
نظرا لأهمية الظاهرة الجغرافية. مثال (كتابة المحافظات بخط أكبر عن الولايات).

ب- كتابة الأسماء الجغرافية في موضع محدد يدل على رمز واحد فقط.
حتى لا تلتبس على قارئ الخريطة، فيظن أن الكلمة تشير إلى رمزين.

السؤال الأول: ضع دائرة حوال الرمز الدال على الإجابة الصحيحة من بين البدائل المعطاة:

١- المصطلح الذي يقصد به مسميات الأماكن والظواهر الجغرافية التي تتضمنها الخريطة:

أ- إطار الخريطة

ب- رموز الخريطة

ج- مقياس الرسم

د- الأسماء الجغرافية

٢- الهدف من استخدام حجم خط مختلف للأسماء الجغرافية:

أ) لجعل الخريطة أكثر جاذبية

ب) لتحديد أهمية الظاهرة الجغرافية

ج) لتسهيل القراءة

د) لا شيء مما ذكر

٣- مكان كتابة الأسماء الجغرافية في حالة الرموز النقطية:

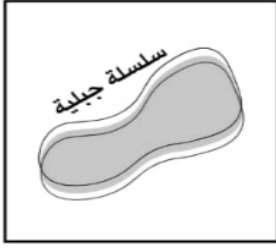
أ- أعلى الرمز أو يساره مباشرة.

ب- أعلى الرمز أو يمينه مباشرة.

ج- أسفل الرمز أو يساره مباشرة.

د- أسفل الرمز أو يساره مباشرة.

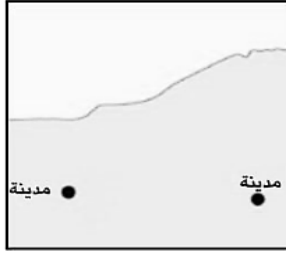
٤- الخريطة الصحيحة التي توضح كتابة الأسماء الجغرافية بالشكل الصحيح:



د-



ج-



ب-



أ-

السؤال الثاني: أجب عن الأسئلة التالية:


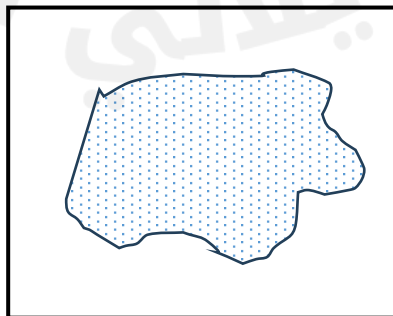
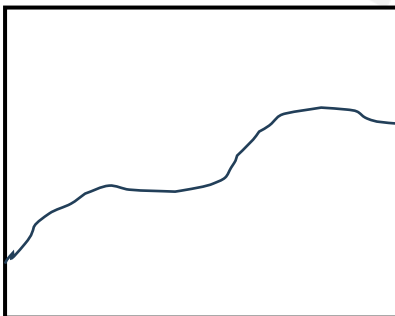
١- أدرس الخريطة الآتية ثم قارن بين ولايتي الدقم وهيما من خلال الجدول الآتي:



هيما	الدقم	
		موقع كتابة اسم الولاية (البحر/اليابسة)
		السبب من كتابتها

٢- اكتب الأسماء الجغرافية على الرموز الآتية بشكل صحيح.

(مدينة ، سبخة ، واد)



٣- علل ما يأتي:

أ- كتابة الأسماء الجغرافية في موضع محدد يدل على رمز واحد فقط.

.....

ب- اختلاف حجم الخط في كتابة الظواهر الجغرافية .

.....

٤- "تعد سلطنة عمان عضوا في الشعبة العربية لخبراء الأسماء الجغرافية " في ضوء ذلك وضح الدور الأساسي الذي تختص به هذه الشعبة.

.....

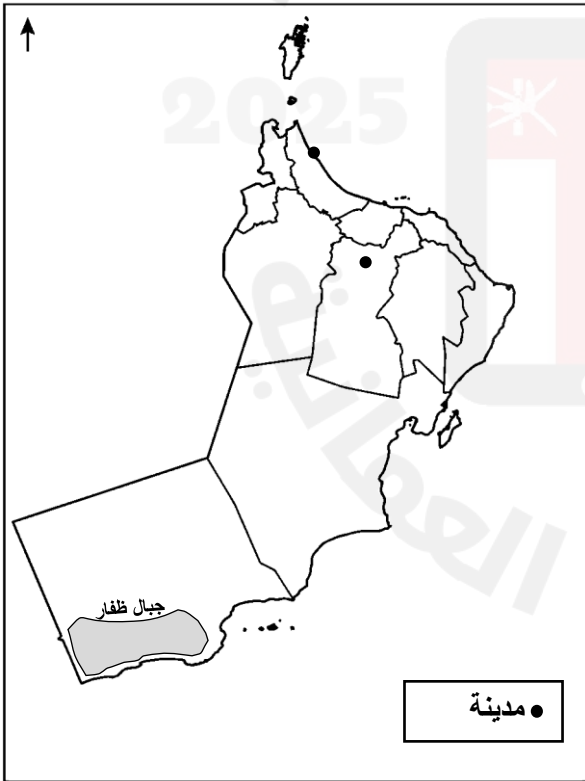
.....

٥- عدد اثنين من أهمية كتابة الأسماء الجغرافية على الخرائط.

.....

.....

٦- ادرس خريطة عمان التي أمامك ثم أجب عن الأسئلة التي تليها:



أ- اكتب على الخريطة مدينتي صحار ونزوى في الموقع المناسب بالطريقة الصحيحة لكتابة الأسماء الجغرافية.

ب- ما الخطأ الفني الذي وقع فيه رسام الخريطة عند كتابته اسم جبال ظفار .

.....

.....