

تم تحميل هذا الملف من موقع المناهج العُمانية



*للحصول على أوراق عمل لجميع الصفوف وجميع المواد اضغط هنا

<https://almanahj.com/om>

* للحصول على أوراق عمل لجميع مواد الصف السادس اضغط هنا

<https://almanahj.com/om/6>

* للحصول على جميع أوراق الصف السادس في مادة مهارات حياتية ولجميع الفصول, اضغط هنا

<https://almanahj.com/om/6skills>

* للحصول على أوراق عمل لجميع مواد الصف السادس في مادة مهارات حياتية الخاصة بـ الفصل الأول اضغط هنا

<https://almanahj.com/om/6skills1>

* لتحميل كتب جميع المواد في جميع الفصول للـ الصف السادس اضغط هنا

<https://almanahj.com/om/grade6>

* لتحميل جميع ملفات المدرس أبو الياس اضغط هنا

للتحدث إلى بوت على تلغرام: اضغط هنا

https://t.me/omcourse_bot

اختبارات عامه

لمادة المهارات

للصف السادس

تجميع / ابو الياس

اختبار قصير في مادة المهارات الحياتية للصف السادس الأساسي

السؤال الأول: اختر رمز الإجابة الصحيحة من بين البدائل المعطاة: (٤ درجات)

- ١- من المصوغات التي يرتديها الرجال في المناسبات :
أ- مفرق ب- خنجر ج- بناجري
- ٢- المادة التي تعطي الحناء اللون الأحمر الغامق هي :
أ- الملح ب- الزيت ج- الليمون
- ٣- تغطية اليدين والقدمين كاملاً بالحناء تسمى :
أ- غمسة ب- نقش ج- زخرفة
- ٤- نحتفل بعد شهر رمضان بعيد :
أ- الفطر ب- الأضحى ج- العيد الوطني

السؤال الثاني: أجب عن الأسئلة التالية:

- ١- طرق تلميع المصوغات متعددة. أذكر اثنين منها ؟
أ-
ب-
- ٢- عدد اثنين من مظاهر الاحتفال بالعيد في منطقتك ؟
أ-
ب-
- ٣- وضح استخدامات الحناء في العلاج ؟
أ-
ب-
- ٤- علل: عدم غلي المصوغات التي تحتوي على الأحجار الكريمة ؟
.....
.....

(انتهت الأسئلة)



سلطنة عمان

وزارة التربية والتعليم

المديرية العامة للتربية والتعليم بمحافظة

شمال الشرقية

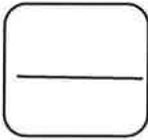
المادة : المهارات الحياتية

الصف : السادس

الزمن:

الإختبار النهائي في مادة المهارات الحياتية للصف السادس للفصل الدراسي الأول 2018/2017 م

اسم الطالبة : الصف: سادس/



السؤال الأول : ضع دائرة حول الرمز الدال على الإجابة الصحيحة من بين البدائل المعطاة:

- 1- تعتبر الخطوة الأولى من خطوات المذاكرة الجيدة هي :
 - (أ) القراءة المسحية
 - (ب) القراءة بفهم وتركيز
 - (ج) التلخيص
 - (د) المراجعة.
- 2- يستخدم لقياس درجة حرارة الجسم هو:
 - (أ) كحول طبي
 - (ب) مرهم للحروق
 - (ج) ميزان للحرارة
 - (د) قطن طبي
- 3- فقدان المؤقت للوعي يعرف بـ :
 - (أ) الرعاف
 - (ب) النزيف
 - (ج) الإلتواء
 - (د) الإغماء
- 4- كل مما يأتي من مسببات ضربة الشمس ما عدا :
 - (أ) التعب والإجهاد
 - (ب) نقص الهواء
 - (ج) نقص الغذاء
 - (د) عرق يغطي الجبهة
- 5- من شروط إعداد جدول المذاكرة أن يكون الجدول قابلاً للتطبيق من قبل الطالب يعرف ذلك بـ:
 - (أ) الواقعية
 - (ب) المرونة
 - (ج) العقلانية
 - (د) الدافعية
- 6- يستخدم لتعقيم الجروح هو.....:
 - (أ) الأربطة
 - (ب) الكحول الطبي
 - (ج) القفازات
 - (د) الشريط اللاصق
- 7- رسم صورة للمعلومات والأشكال وربطها بالأشكال المألوفة عند الطالب يعرف بـ:

(ب) التقسيم
(د) تكوين صورة ذهنية

(أ) ربط الكلمات
(ج) التكرار

8- تقع سلطنة عمان في قارة آسيا . تعتبر العلاقة الواردة في السياق :

(أ) شرطية
(ب) مكانية
(ج) زمانية
(د) سببية

السؤال الثاني: أجبني عن الأسئلة التالية فيما يلي .:

1- عددي طريقتين من طرق التلخيص؟ (درجتان)

.....*

.....*

2- أذكرني اثنين من أسباب الرعاف ؟ (درجتان)

.....*

.....*

3- عللي ما يأتي. (درجتان)

أ- عدم توجيه رأس المصاب بالرعاف إلى الخلف.

.....

ب- عدم تأجيل مذاكرة اليوم إلى الغد.

.....

4- قارن بين الرعاف والإغماء من حيث : (درجتان)

الرعاف	الإغماء	وجه المقارنة التعريف
		طريقة الإسعاف

السؤال الثالث:

1- ريم طالبة مجتهدة ، ولكنها لا تحرص على تناول فطورها كل صباح ، وفي يوم من الأيام شعرت بالضعف والدوار مما أدى إلى عدم مواصلتها لطابور الصباح.

بعد قراءتك للفقرة السابقة استنتجي التالي :

(أ) ما المشكلة الصحية التي أصابت ريم ؟ (درجتان)

.....

(ب) أذكرني اثنين من أسباب إصابة ريم بهذه المشكلة ؟

.....

2- إن وجود الطالب أثناء المذاكرة في مكان مناسب يبعث فيه الراحة ويحفزه على المذاكرة. (درجتان)
(فسري العبارة السابقة ، ثم استنتج صفات المكان الملائم للمذاكرة)

.....
.....

3- وضح التصرف الصحيح عند رؤية زميلك يصاب بضربة الشمس ؟ (درجتان)

.....
.....

4- رأيت أخيك يذاكر أمام التلفاز . ما النتائج المترتبة على ذلك ؟ (درجتان)

.....
.....

5- ما موقفك من تجمهر وتجمع الناس على الشخص المصاب بالإغماء ؟ ولماذا ؟ (درجتان)

.....
.....

6- من وجهة نظرك . ما المكان المناسب لوضع صندوق الإسعافات الأولية في المنزل؟ ولماذا؟ (درجتان)

المكان المناسب:

السبب:

7- تهتم مريم بإعداد جدول للمذاكرة بشكل دوري ومستمر . من خلال العبارة السابقة وضح النتائج التي تعود على مريم من إعدادها جدول المذاكرة ؟ (درجتان)

.....
.....

8- يعتبر صندوق الإسعافات الأولية من أهم ضروريات المنزل والمدرسة والسيارة. فسري العبارة

السابقة موضحة أهمية ترتيبه بشكل دائم ؟ ؟ (درجتان)

.....
.....

انتهت الأسئلة سائلين الله العلي القدير لكم النجاح والتوفيق،،،

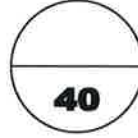
(اعداد معلمات المهارات الحياتية بمحافظة شمال الشرقية (قطاع المضبيبي)

الاختبار النهائي في الفصل الدراسي الأول
للعام الدراسي 2017 / 2018 م



سلطنة عمان
وزارة التربية والتعليم
المديرية العامة للتربية والتعليم
لمحافظة الشرقية شمال
مدرسة الخشبية للتعليم الأساسي (1-12)

الاسم:



المادة : المهارات الحياتية الصف : السادس الأساسي الزمن : حصتين عدد الأوراق : (3)

السؤال الأول : - ضع دائرة حول رمز الإجابة الصحيحة من بين البدائل المعطاة :

- 1- نشاط مخطط وموجه يمارسه الطالب لاستذكار دروسه يدعى بـ :
أ-المذاكرة ب-التخطيط للمذاكرة ج-المذاكرة الأسبوعية د- التلخيص
- 2- من أنواع الحفظ هو :
أ) التكرار (ب) المواظبة (ج) القراءة (د) التسميع
- 3- القراءة الصامتة هي القراءة :
أ-القراءة بتركيز ب-القراءة المسحية ج-القراءة المغلفة د-القراءة الموضوعية
- 4- (تنخفض درجة الحرارة درجة مئوية واحدة كلما ارتفعنا 150 متر عن سطح الأرض) هذا مثال لـ :
أ-العلاقة السببية ب-العلاقة الشرطية ج-العلاقة الارتباطية د-العلاقة المكانية
- 5- يجب الانتباه إلى ضرورة نقل المصاب بالرعاف للمستشفى إذا استمر نزول الدم لمدة ...
أ- 10 دقائق ب- 20 دقيقة ج- 30 دقيقة د-60دقيقة
- 6- ما يلي من أشكال صناديق الإسعافات الأولية ما عدا :-
أ-الحقيبة ب-الخزانة ج-العلبة د-السلة
- 7- من مسببات الإصابة بالإغماء :-
أ-نقص الماء ب-نقص الهواء ج-نقص دقات القلب د-نقص الأكسجين
- 8- المقص الطبي من محتويات صندوق الإسعافات الأولية يندرج ضمن :-
أ-الضمادات ب-الأربطة ج-الأدوية د-الأدوات

السؤال الثاني :

1- عرفي المفاهيم الآتية :-

أ-المذاكرة الجيدة :

ب- الرعاف :

2- أذكرني نوعين من أنواع الأربطة ؟

أ-

ب-

3- علي ما يلي :-

ا- تجنب القراءة الجهرية عند المذاكرة .

ب- عدم توجيه رأس المصاب إلى الخلف عند إسعافه .

4-قارني بين الإغماء وضربة الشمس من حيث :-

وجه المقارنة	الإغماء	ضربة الشمس
سبب الإصابة		
الأعراض		

السؤال الثالث:-

1- فسري العبارات الآتية :

أ.- (الواقعية من شروط إعداد جدول المذاكرة) ؟

ب.- (ربط الكلمات من طرق الحفظ والتذكر) ؟

2- لديك عدة أسباب تظهر نتيجة تصرفات تقوم بها في المذاكرة أنقلها بما يناسبها..

- أ- يساعدني على المذاكرة الجيدة ب- الضجيج
ج- الوقوف طويلا على الفكرة د- قراءة كتاب واحد

	يسبب في ظهور الملل
	يؤدي إلى البطء في القراءة
	الانتباه لشرح المعلم
	يشتت الانتباه ويؤثر على التركيز

3- ما تقييمك للطالبة التي تعد جدول للمذاكرة بطريقة جماعية ؟ ولماذا ؟

4) يغطي الماء 71% من الكرة الأرضية في حين يغطي اليابس 29% من الكرة الأرضية (من خلال المعلومات المعطاة أعلاه .. وضح طريقة التلخيص المناسبة لها ثم حولها على حسب ما يناسبها.....

5-أ- (المراجعة آخر خطوة في عملية المذاكرة الجيدة)
استخلص من العبارة السابقة الأهمية التي تكمن في مراجعة الدروس ؟

ب- من وجهة نظرك: هل للملخص أهمية في المذاكرة؟ ولماذا؟

6 - يعتبر صندوق الاسعافات الأولية من أهم ضروريات المنزل والمدرسة والسيارة. فسري العبارة السابقة موضحة أهمية ترتيبه بشكل دائم ؟ .

7- استتجى نوع العلاقة في المثال التالي (تحتاج عملية التبخر إلى طاقة حرارية لتحويل الماء من حالة السيولة إلى الحالة الغازية) ؟

8- من خلال الصورة التي أمامك استخلصي مواصفات المكان الملائم للمذاكرة ؟

وفقن الرحمن لدروب النجاح والتفوق »»»

(اعداد معلمات المهارات الحياتية بمحافظة شمال الشرقية (قطاع المضبيبي)

المادة: المهارات الحياتية

الصف: السادس/

الزمن: ساعة ونصف

الاسم:

سلطنة عمان

وزارة التربية والتعليم

محافظة شمال الشرقية

مدرسة الخضراء للتعليم الأساسي (1-9)

40

اختبار نهاية الفصل الدراسي الأول لمادة المهارات الحياتية للصف السادس

السؤال الأول: الأسئلة الموضوعية اختيار من متعدد 8 مفردات:

اختاري الإجابة الصحيحة من بين البدائل المعطاة:

16

1- من شروط تخطيط جدول المذاكرة لابد ان يكون قابلاً للتعديل ويقصد به:

أ- الواقعية ب- المرونة ج- الوضوح د- تحديد الوقت

2- الخطوة الرابعة من خطوات المذاكرة الجيدة:

أ- المراجعة ب- القراءة بفهم ج- التلخيص د- الحفظ

3- القراءة الصامتة لموضوع ما دون الدخول في التفاصيل تعرف ب:

أ- القراءة المسحية ب- القراءة بفهم ج- المذاكرة د- المراجعته

4- إعادة الطالب كتابة المعلومات الهامة بطريقة مختصرة تعرف ب :

أ- الحفظ ب- المذاكرة ج- الفهم د- التلخيص

5- يعتبر المقص من محتويات صندوق الإسعافات الأولية ويصنف في قسم:

أ- الأربطة ب- الضمادات ج- الأدوية د- الأدوات

6- يتم اعداد الأربطة من قماش:

أ- بلاستيكي ب- بريس ج- كتاني د- حرير

7- شحوب الوجه وزرقة الشفتين اعراض الاصابه ب:

أ- الرعاف ب- ضربة الشمس ج- الحمى د- الاغماء

8- آخر خطوة في عملية المذاكرة الجيدة:

أ- التلخيص ب- المراجعته ج- القراءة د- الحفظ

السؤال الثاني: الأسئلة المقالية: 4 أسئلة (فهم وتطبيق)

1- عرف في المفاهيم الآتية:

أ-الإسعافات الأولية.....

ب-المذاكرة.....

2- اذكر اثني من مواصفات مكان المذاكرة؟

.....و.....

3- علل لما يأتي:

أ) عدم ارجاع راس المصاب بالرعاف إلى الخلف.

ب) حفظ الاربطة والضمادات في كيس مغلف ومعقم.

4- قارني بين الرعاف والاعماء من حيث:

ضربة الشمس	الرعاف	وجه المقارنة
		الاسباب
		العلاج

السؤال الثالث: الأسئلة المقالية: 8 أسئلة (القدرات العليا)

1- لتحقيق هدف النجاح والتفوق في الدراسة لابد من اعداد جدول زمني

للمذاكرة، لتحقيق نتائج إيجابية)

ماهي هذه النتائج الإيجابية من اعداد جدول المذاكرة ؟

.....و.....

2- فاطمة زميلة لك أصيبت بالإغماء في طابور الصباح. من خلال المعطيات السابقة

استنجي سبب إصابة فاطمة بالإغماء موضحة طرق الوقاية منها .

3-فسر العبارات الاتية:

أ-(نستخدم طريقة تقسيم المعلومات اذا كانت طويلة).

ب-(لا توجل مذاكرة اليوم الى الغد).

4-(يجب عدم وضع صندوق الإسعافات الأولية في الأماكن الرطبة مثل المطبخ والحمام).
أثبتي صحة هذه العبارة.

5-مانصحتك لزميلتك التي تذاكر في:

أ—غرفة الجلوس أمام التلفاز.

ب—غرفة ذات إضاءة ضعيفة.

6-(تعتبر القراءة الهادفة والمنظمة إحدى أساسيات المذاكرة الجيدة)

ما هي العلاقة بين القراءة المسحية والقراءة بفهم وتركيز؟

7- (يغطي الماء 71% من الكرة الأرضية في حين يغطي اليابس 29% من الكرة الارض) من خلال المعلومات المعطاة أعلاه .. وضح طريقة التلخيص المناسبة لها ثم حولها على حسب ما يناسبها.

8-من خلال الصورة التي أمامك استخلص خطوات اسعاف المصاب بالرعاف؟

انتهت الأسئلة مع تمنياتي للجميع بالنجاح

(اعداد معلمات المهارات الحياتية بمحافظة شمال الشرقية (قطاع المضبيبي)

١٠

اختبار قصير في مادة المهارات الحياتية للصف السادس الأساسي

٤

السؤال الأول: اختر الإجابة الصحيحة من بين البدائل المعطاة:-

(١) يصنع من الشاش ويستعمل لتغطية الجروح أو الحروق:
 (أ) الكمادات (ب) الضمادات (ج) الأربطة (د) القفازات

(٢) قطعة من القماش تستخدم لتثبيت ذراع مكسورة إلى جسم مصاب :
 (أ) المطهرات (ب) الرباط المربع (ج) الرباط المثلث (د) اللفائف

(٣) نزول الدم بشكل مفاجئ من الأنف دون تعرض الشخص لأي صدمة أو ضربة يقصد به:
 (أ) ضربة الشمس (ب) النزيف (ج) الإغماء (د) الرعاف

(٤) يكون رباط اللفائف على شكل :
 (أ) المربع (ب) المستطيل (ج) المثلث (د) الدائري

السؤال الثاني: (١) اذكر استخدامات محتويات صندوق الإسعافات الأولية التالية :

٦

المحتويات	الاستخدام
مرهم الحروق	
المطهرات	
قطرة العين	
ميزان حرارة طبي	
الكمادات	

(٢) علل : عدم إرجاع رأس المصاب بالرعاف للخلف؟؟

.....

(انتهت الأسئلة)

اختبار قصير في مادة المهارات الحياتية للصف السادس الأساسي

السؤال الأول: اختر رمز الإجابة الصحيحة من بين البدائل المعطاة: (٤ درجات)

- ١- من المصوغات التي يرتديها الرجال في المناسبات :
أ- مفرق ب- خنجر ج- بناجري
- ٢- المادة التي تعطي الحناء اللون الأحمر الغامق هي :
أ- الملح ب- الزيت ج- الليمون
- ٣- تغطية اليدين والقدمين كاملاً بالحناء تسمى :
أ- غمسة ب- نقش ج- زخرفة
- ٤- نحتفل بعد شهر رمضان بعيد :
أ- الفطر ب- الأضحى ج- العيد الوطني

السؤال الثاني: أجب عن الأسئلة التالية:

- ١- طرق تلميع المصوغات متعددة. أذكر اثنين منها ؟
أ-
ب-
- ٢- عدد اثنين من مظاهر الاحتفال بالعيد في منطقتك ؟
أ-
ب-
- ٣- وضح استخدامات الحناء في العلاج ؟
أ-
ب-
- ٤- علل: عدم غلي المصوغات التي تحتوي على الأحجار الكريمة ؟
.....
.....
- (انتهت الأسئلة)

١٠

اختبار قصير في مادة المهارات الحياتية للصف السادس الأساسي

٤

السؤال الأول: اختر الإجابة الصحيحة من بين البدائل المعطاة:-

١) يصنع من الشاش ويستعمل لتغطية الجروح أو الحروق:
 (أ) الكمادات (ب) الضمادات (ج) الأربطة (د) القفازات

٢) قطعة من القماش تستخدم لتثبيت ذراع مكسورة إلى جسم مصاب :
 (أ) المطهرات (ب) الرباط المربع (ج) الرباط المثلاث (د) اللفائف

٣) نزول الدم بشكل مفاجئ من الأنف دون تعرض الشخص لأي صدمة أو ضربة يقصد به:
 (أ) ضربة الشمس (ب) النزيف (ج) الإغماء (د) الرعاف

٤) (يكون رباط اللفائف على شكل :
 (أ) المربع (ب) المستطيل (ج) المثلاث (د) الدائري

السؤال الثاني: (١) اذكر استخدامات محتويات صندوق الإسعافات الأولية التالية :

٦

المحتويات	الاستخدام
مرهم الحروق	
المطهرات	
قطرة العين	
ميزان حرارة طبي	
الكمادات	

٢) علل : عدم إرجاع رأس المصاب بالرعاف للخلف؟؟

.....

(انتهت الأسئلة)

١٠

اختبار قصير في مادة المهارات الحياتية للصف السادس الأساسي

السؤال الأول: أكما ما يأتي

٤

(١) عددي خطوات المذاكرة الجيدة ؟

- (أ)
- (ب)
- (ت)
- (ث)

(٢) ما هي الطرق المتبعة في تلخيص الموضوع عند المذاكرة ؟

٤

- (أ)
- (ب)
- (ت)
- (ث)

(٣) ما هي الوسائل التي يمكن من خلالها التوعية لحسن استخدام المرافق العامة بطريقة صحيحة؟

٢

وسائل توعية غير مكتوبة
مثل

.....

وسائل توعية مكتوبة
مثل

.....

(انتهت الأسئلة)

اختبار قصير في مادة المهارات الحياتية للصف السادس الأساسي

السؤال الأول : اختر رمز الإجابة الصحيحة من بين البدائل المعطاة فيما يلي : (٣ درجات)

١ - إعادة الطالب كتابة المعلومات الهامة بطريقة مختصرة ومنظمة تعرف بـ :

أ - القراءة المسحية ب - القراءة بفهم ج - التلخيص د - الحفظ

٢ - أثناء المذاكرة لا بد من مراعاة :

أ - الجلسة الصحيحة ب - المشي الصحيح ج - الوقوف الصحيح د - الجري الصحيح

٣ - تجزئة المعلومة الطويلة إلى أجزاء يسهل حفظها وتذكرها تعرف بـ :

أ - التكرار ب - ربط الكلمات ج - تكوين صورة ذهنية د - التقسيم

السؤال الثاني : أكمل العبارات الآتية بما يناسبها: (٣ درجات)

١ - نشاط مخطط وموجه يمارسه الطالب لاستذكار دروسه يعرف بـ.....

٢ - تجنب قراءة كتاب واحد لعدة ساعات متتالية لأن ذلك يسبب.....

٣ - من مواصفات المكان الملائم للمذاكرة أن يكون.....و.....

السؤال الثالث: أجب عن الأسئلة التالية : (٤ درجات)

١ - ما أهمية التسميع ؟

.....

٢ - علي تجنب المذاكرة إلى ساعات متأخرة من الليل ؟

.....

٣ - حول المعلومة الآتية إلى دائرة بيانية:

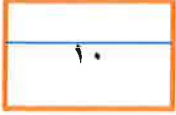
يغطي الماء ٧١% من الكرة الأرضية في حين يغطي اليابس ٢٩% منها .

.....

.....

.....

(انتهت الأسئلة)



اختبار قصير في مادة المهارات الحياتية للصف السادس الأساسي

(٣ درجات)

السؤال الأول : اختر رمز الإجابة الصحيحة من بين البدائل المعطاة فيما يلي :

١ - إعادة الطالب كتابة المعلومات الهامة بطريقة مختصرة ومنظمة تعرف بـ :

أ - القراءة المسحية ب - القراءة بفهم ج - التلخيص د - الحفظ

٢ - أثناء المذاكرة لا بد من مراعاة :

أ - الجلسة الصحيحة ب - المشي الصحيح ج - الوقوف الصحيح د - الجري الصحيح

٣ - تجزئة المعلومة الطويلة إلى أجزاء يسهل حفظها وتذكرها تعرف بـ :

أ - التكرار ب - ربط الكلمات ج - تكوين صورة ذهنية د - التقسيم

(٣ درجات)

السؤال الثاني : أكمل العبارات الآتية بما يناسبها:

١ - نشاط مخطط وموجه يمارسه الطالب لاستذكار دروسه يعرف بـ.....

٢ - تجنب قراءة كتاب واحد لعدة ساعات متتالية لأن ذلك يسبب.....

٣ - من مواصفات المكان الملائم للمذاكرة أن يكون.....و.....

(٤ درجات)

السؤال الثالث: أجب عن الأسئلة التالية :

١ - ما أهمية التسميع ؟

.....

٢ - علي تجنب المذاكرة إلى ساعات متأخرة من الليل ؟

.....

٣ - حول المعلومة الآتية إلى دائرة بيانية:

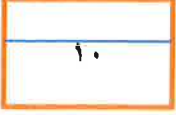
يغطي الماء ٧١% من الكرة الأرضية في حين يغطي اليابس ٢٩% منها .

.....

.....

.....

(انتهت الأسئلة)



اختبار قصير في مادة المهارات الحياتية للصف السادس الأساسي

(٣ درجات)

السؤال الأول : اختر رمز الإجابة الصحيحة من بين البدائل المعطاة فيما يلي :

١ - قراءة الموضوع بهدف تكوين فكرة عامة عنه تعرف بـ :

أ - القراءة المسحية ب - القراءة بفهم ج - التلخيص د - الحفظ

٢ - من الشروط الواجب توافرها عند إعداد جدول المذاكرة :

أ - البدء بالمواد السهلة ب - البدء بالمذاكرة متأخرا ج - الشدة د - الواقعية

٣ - إعادة النص أو المعلومة المراد حفظها أكثر من مرة تعرف بـ :

أ - التكرار ب - ربط الكلمات ج - تكوين صورة ذهنية د - التقسيم

(٣ درجات)

السؤال الثاني : أكمل العبارات الآتية بما يناسبها:

١ - آخر خطوة في عملية المذاكرة الجيدة يعرف بـ.....

٢ - تجنب القراءة الجهرية بقدر الإمكان لأنها تسبب.....

٣ - للحفظ طريقتان و.....

(٤ درجات)

السؤال الثالث: أجب عن الأسئلة التالية :

١ - ما أهمية المذاكرة ؟

.....

٢ - علي عدم تأجيل مذاكرة اليوم إلى الغد ؟

.....

٣ - حول المعلومة الآتية إلى مخطط:

تنقسم علامات الساعة إلى قسمين صغرى وكبرى ، وهذه بعض علامات الساعة الصغرى : شرب الخمر -

انتشار الزنى... ، أما علامات الساعة الكبرى فهذه بعضها: ظهور الدجال - خروج الدابة....

.....

.....

.....

(انتهت الأسئلة)

١٠

اختبار قصير في مادة المهارات الحياتية للصف السادس الأساسي

٥

السؤال الأول: أكمل ما يلي:-

- ١) يوجد عدة طرق لتلميع المصوغات منها
- ٢) من مظاهر الاحتفال بالعيد
- ٣) من الطرق المستخدمة في التلخيص
- ٤) من النتائج المترتبة على عملية المذاكرة وفق جداول زمنية.....
- ٥) يستحب أن تكون عدد جلسات المذاكرة لأيام العطلات حوالي جلسة .

٥

السؤال الثاني: أجب عن ما يأتي
١) عدد خطوات المذاكرة الجيدة ؟

- أ)
- ب)
- ج)
- د)

٢) ما هي استخدامات الحناء في المجتمع العماني ؟

.....
.....

٣) قم بتلخيص المعلومات الواردة في الفقرة التالية من خلال تحويلها إلى مخطط .

(علامات الساعة كبرى وصغرى . العلامات الصغرى مثل رفع العلم وانتشار الجهل وانتشار شرب الخمر والعلامات الكبرى مثل خروج الدابة وخروج الدجال وطلوع الشمس من المغرب وظهور يأجوج ومأجوج)

.....
.....
.....
.....
.....

(انتهت الأسئلة)