

تم تحميل هذا الملف من موقع المناهج العمانية



اختبار قصير ثاني في محافظة جنوب الشرقية

موقع فايلاتي ← المناهج العمانية ← الصف السادس ← اجتماعيات ← الفصل الأول ← اختبارات ← الملف

تاريخ إضافة الملف على موقع المناهج: 18:21:02 2024-12-12

ملفات اكتب للمعلم اكتب للطالب | الاختبارات الكترونية | اختبارات | حلول | عروض بوربوينت | أوراق عمل
منهج انجليزي | ملخصات وتقارير | مذكرات وبنوك | الامتحان النهائي للمدرس

المزيد من مادة
اجتماعيات:

التواصل الاجتماعي بحسب الصف السادس



الرياضيات



اللغة الانجليزية



اللغة العربية



التربية الاسلامية



المواد على تلغرام

صفحة المناهج
العمانية على
فيسبوك

المزيد من الملفات بحسب الصف السادس والمادة اجتماعيات في الفصل الأول

سؤال قصير ثاني في مدرسة مزون

1

حصار درس مقومات الاقتصاد العماني

2

ملخص شرح درس قطاعات الاقتصاد العماني

3

كتيب إثرائي من كراستي عطاء

4

حصيلة الدرسين الأول والثاني من الوحدة الأولى من الكتيب المساند

5



سلطنة عمان
وزارة التربية والتعليم
المديرية العامة للتربية والتعليم
بمحافظة جنوب الشرقية
مدرسة الوافي للتعليم الأساسي للبنات (1ف-1)



الاسم /

الشعبة /

اختبار قصير (2) في مادة الدراسات الاجتماعية للصف السادس الفصل الدراسي الأول للعام الدراسي 2024-2025م

5 درجات

أولاً: الأسئلة الموضوعية: ظلل الشكل المقترن بالإجابة الصحيحة لكل مفردة من المفردات الآتية.

1- الجدول الصحيح الذي يمثل ترتيب حكم الخلفاء الراشدين :-

أبو بكر الصديق	١
عمر بن الخطاب	٢
عثمان بن عفان	٣
علي بن أبي طالب	٤

-ب-

أبو بكر الصديق	١
عثمان بن عفان	٢
علي بن أبي طالب	٣
عمر بن الخطاب	٤

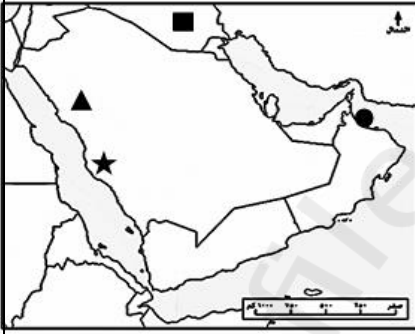
-أ-

علي بن أبي طالب	١
عثمان بن عفان	٢
أبو بكر الصديق	٣
عمر بن الخطاب	٤

-د-

عمر بن الخطاب	١
أبو بكر الصديق	٢
علي بن أبي طالب	٣
عثمان بن عفان	٤

-ج-




2. الرمز الذي يشير إلى عاصمة الدولة الإسلامية في عهد الخلفاء الراشدين :-

(أ) ▲ (ب) ● (ج) ★ (د) ■

3. الملك الذي ترأس الوفد العماني إلى المدينة المنورة بعد وفاة الرسول:

(أ) جيفر بن الجلندي (ب) الجلندي بن المستكبر (ج) عبد بن الجلندي (د) عقبة بن النعمان

4. الصورة التي توضح مهام العامل في عهد الخلفاء الراشدين :-




(د)



(ج)



(ب)



(أ)

5. الحادثة التي وقعت بعد وفاة الرسول نتيجة انكار بعض المسلمين للإسلام أو احد اركانه بحادثة :-

(أ) معركة بدر (ب) معركة احد (ج) معركة القادسية (د) حرب الردة

ثانياً : الأسئلة المقابلة

6. اكتب المصطلح الدال على العبارتين في الجدول الآتي :-

المصطلح	العبارة
.....	-صحابه الذين تولوا الحكم بعد الرسول وسمو بالراشدين
.....	-ممثل حاكم الدولة في ولاية من الولايات .

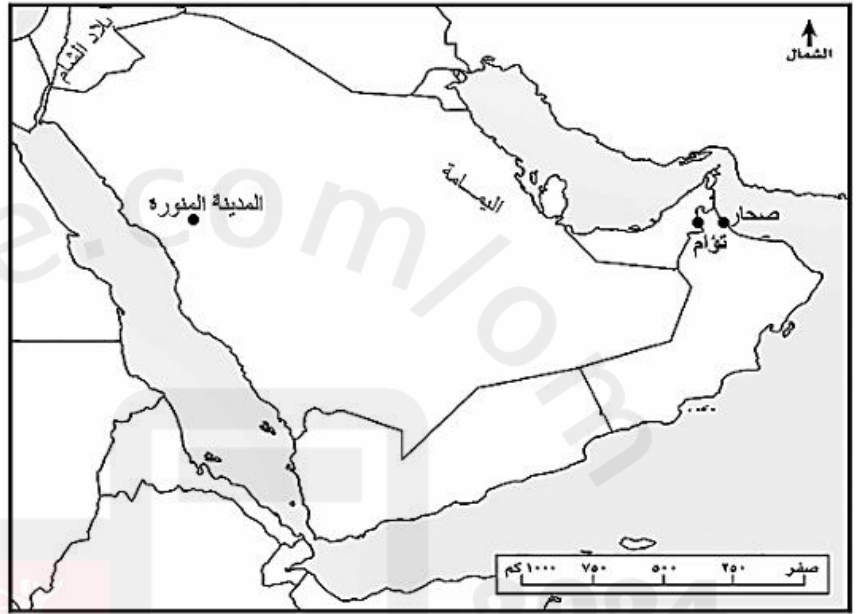
7. علي/توجه وفد عُماني بعد وفاة الرسول إلى المدينة المنورة.

8. صنفى منجزات الخلفاء الراشدين التالية حسب الجدول الآتي :-

(انشاء الدواوين /التوسع في الفتوحات الإسلامية /جمع القران وكتابته)

ادارية	دينية	عسكرية

9. ادرسي خريطة شبه الجزيرة العربية ،ثم اجيبي عن الأسئلة التي تليها:-



أ) ارسمي على الخريطة مسار الوفد العماني إلى المدينة بعد وفاة الرسول.
ب) صل بين الشخصيات التالية وأعمالهم ،بما يناسبها في الشكل التالي:-

حذيفة بن محسن

شاعر عماني كان من ضمن الوفد العماني إلى المدينة المنورة

عقبة بن النعمان العتكي

عينه الخليفة أبوبكر الصديق والياً على عمان

ج) عددي أبرز القيم التي تحلى بها العُمانيون .

انتهى الاختبار

تمنيتي للجميع التوفيق والنجاح