

تم تحميل هذا الملف من موقع المناهج العُمانية



*للحصول على أوراق عمل لجميع الصفوف وجميع المواد اضغط هنا

<https://almanahj.com/om>

* للحصول على أوراق عمل لجميع مواد الصف السادس اضغط هنا

<https://almanahj.com/om/6>

* للحصول على جميع أوراق الصف السادس في مادة رياضيات ولجميع الفصول, اضغط هنا

<https://almanahj.com/om/6math>

* للحصول على أوراق عمل لجميع مواد الصف السادس في مادة رياضيات الخاصة بـ الفصل الثاني اضغط هنا

<https://almanahj.com/om/6math2>

* لتحميل كتب جميع المواد في جميع الفصول للـ الصف السادس اضغط هنا

<https://almanahj.com/om/grade6>

* لتحميل جميع ملفات المدرس أبو محمد اضغط هنا

للتحدث إلى بوت على تلغرام: اضغط هنا

https://t.me/omcourse_bot

أسئلة وحدة القياس (الوقت)

عبر الوقت الذي تشير اليه الساعة:

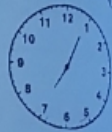
٢٣:٢٣

ص ١١:٢٣ م ٣:٢٣ م ١١:٢٣ م ٢:٢٣ م ٣:٢٣ ص

يوجد ٣٦٥ يوم في السنة الطلاب
يتطون الي المدرسة ١٨٦ يوم
ما هو عدد الأيام التي لا يذهب الطلاب فيها الي المدرسة؟

$$365 - 186 = 179 \text{ يوم}$$

تذهب عائشة الي المدرسة في الوقت الموضح امامك:
(١) تأخذ ٣٥ دقيقة للوصول الي المدرسة. ما هو الوقت الذي ستصل فيه الي المدرسة؟ ٧:٤٥



(ب) تبدأ استراحة الغداء ١٢:٣٠ مساء ومدتها ٤٥ دقيقة ما هو وقت انتهاء عائشة من الغداء؟

$$12:30 + 45 = 13:15$$

وجد المدة الزمنية بين الأوقات الآتية:

$$14:00 - 9:10 = 4:50$$

$$10:50 - 11:35 = 45 \text{ min}$$

$$17:18 - 14:25 = 2:53$$

$$21:00 - 10:11 = 10:49$$

٦

(١) تغادر حافلة مسقط كل ١٥ د
تكتب الوقت المفقود

٩:١٠	٨:٥٥	٨:٤٠	٨:٢٥	مغادرة مسقط
------	------	------	------	-------------

(٢) إذا كان الحافلات تغادر كل ٢٠ دقيقة
أكمل الجدول

١٢:٥٥	١١:٤٥	١١:٢٥	١١:٠٥	١٠:٤٥	مغادرة مسقط
-------	-------	-------	-------	-------	-------------

الساعة الآن ١٢ ظهرا في لندن تظهر الساعات الآتية الوقت في بعض المدن الأخرى

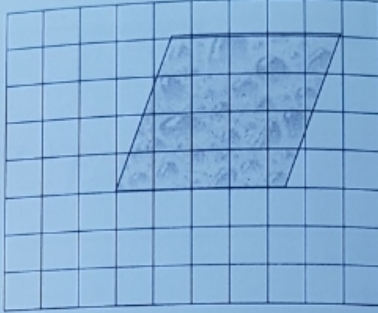
٩:٠٠	١٣	٢:٠٠	٤	١٦:٠٠	٤	١٢:٠٠
بونيس ايرس	بكين	مسقط	لندن			

(أ) عندما تكون الساعة ١٥:٣٠ في لندن كم تكون الساعة في بونس ايرس ؟ $١٠:٣٠$

(ب) عندما تكون الساعة ٥:٠٠ مساء في مسقط كم تكون الساعة في بكين؟ $٩:٠٠$ مساء

(ج) عندما يكون الوقت منتصف الليل في بكين فما الوقت في لندن؟ $١٦:٠٠$ مساء

ما مساحة الشكل المقابل؟ علما بأن كل مربعة عبارة عن اسم^٢.



اسم^٢ ١٢

ما مساحة الشكل المقابل؟ علما بأن كل مربعة عبارة عن اسم^٢.



اسم^٢ ١٥

almanahj.com/om

السؤال

يقول صابر

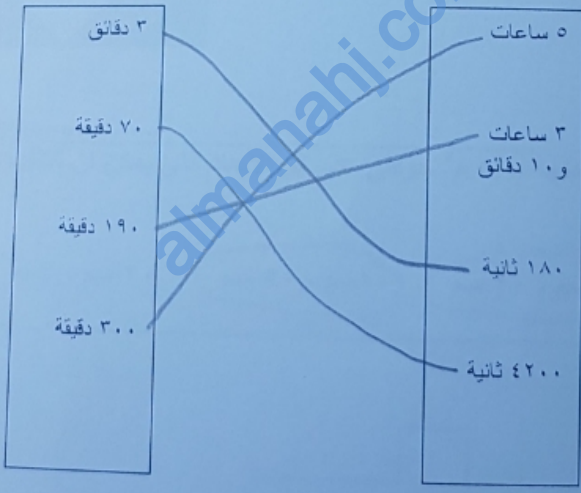
عدد الثواني في ثلاث ساعات أكبر من عدد الساعات في ثلاث أيام.

الدرجة ٢

من ما يقوله صابر صحيح؟ فسري اجابتك؟
 نعم لان عدد الثواني = ١٠٨٠٠٠ دقيقة
 عدد الساعات = ٣٦٠ ساعة

ضعي الرمز المناسب < أو > أو = في الاتي:
 ٣٥ ساعة > يومان
 ٥٢ اسبوع = سنة واحدة

اراجي بين العمودين:



اخاري البطاقة المناسبة لتكوني عبارة صحيحة

- يوم واحد
- ٥ ساعات
- ٢٣ ساعة
- ٦٠ دقيقة
- ١٢ ساعة

٢٣ = ٦٠ = يوم واحد

حوطي الأجابة: إنشاء سعته ٨ غالون فان سعته بالكوارت: ٤ ٨ ١٢

٣٢

يقول أحمد متسانلا

أي القيم أفضل:
 ٨* كغم من الزبدة بسعر ٦ ريال أم ٥ رطل من الزبدة
 بسعر ٦ ريال؟

ساعدني أحمد في تحديد القيمة الأفضل مع التفسير؟

٨ كغم من الزبدة كالأخرى لأن الأخرى أرخص

رتبي الأطوال التالية تصاعديا :

ايضه : ٥٥٠ م

٦,٥ سم ، ٣,٥ بوصة ، ٥٥٠ مم

الترتيب التصاعدي هو:

٦,٥ ، ٣,٥ ، ٥٥٠

تبعد باريس عن روما (١٤١٤) كم. ما مقدار المسافة بالأميال؟

١٤١٤ × ١,٦٠٩

٦٨ و ٨٧ ميل

سافرت هدى من كيب تاون إلى ادبلايد ثم من ادبلايد إلى كاياو حسب الجدول التالي

مدينة المغادرة	مدينة الوجهة	وقت المغادرة في مدينة المغادرة	وقت الوصول في المدينة الوجهة
كيب تاون	ادبلايد	١٦:١٧ (السبت)	٣٦:٢١ (الأحد)
ادبلايد	كايانو	٣٠:٨ (الأحد)	٢٠:٢٣ (الأثنين)

ما الوقت المستغرق في سفر هدى؟

مجدلة على شكل مستطيل طولها ١٢ م وعرضها ٥ م فإن مساحتها =


٦٠ م^٢.....

١ إذا كانت كولومبو تقع على بعد ٥ مناطق زمنية يمين لاغوس وكانت الساعة في لاغوس ١٢:١٥ كم. تكون الساعة في كولومبو؟

١٢:٤٠.....

١ إذا كانت سيدني تقع على بعد ٥ مناطق زمنية من كولومبو وكانت الساعة في سيدني ١١:٠٠ كم. تكون الساعة في كولومبو؟

١ في الشكل المقابل مربع كبير مكون من جزئين أحمر وأصفر. مساحة المربع الكبير ٦٤ سم^٢ فما مساحة الجزء الأحمر؟



٤٤

٢ سم.....

١ قطعة أرض مستطيلة الشكل مساحتها ٥٠٠ م^٢ حوطي على كل الأبعاد التي يمكن ان تمثلها قطعة الأرض

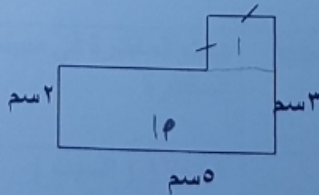
٢٠ سم ، ٧ سم

١٠ سم ، ٥٠ سم

٢٥ سم ، ٢٠ سم

٢٥ سم ، ١٠ سم

مساحة الشكل المقابل =



١..... سم

السؤال

الدرجة ١
 مل $3n + 0.6n = 4.537$ في المربع:

الدرجة ١
 الجواب: 4.537 فإن سعته ب(مل):
 4.537 4.537 4.537 4.537

الدرجة ١
 ٢٥٠ مل كوبا سيحتاج لملأ الاناء؟

الدرجة ١
 مصنع فطيرة كبيرة وأراد تقسيمها على ٣٠ شخص بالتساوي نصيب كل واحد منهم ١٥ غم.
 كغم $9.600 =$

الدرجة ١
 الرقم المناسب بالمستطيل:
 كغم $7.6 +$ $0 =$

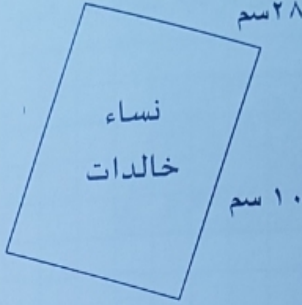
لدي ٤,٦٧٨ كغم من البصل و٣ كغم من الطماطم و٣٢٢ غم من البطاطا فإن مجموع مال لدي بالغرام مساويا ٨٠ غم.

ما يقوله محمد صحيح؟ فسري اجابتك؟
 غير صحيح لانه مجموع ٨ كغم = ١٠٠٠ غم

٢

خطأ	صواب	العبرة
✓		عدد الأسابيع في السنة > عدد الأيام في الشهر الواحد.
	✓	عدد الساعات في اسبوع أكثر من ١٥٠ ساعة
✓		عدد الأشهر في سنتين < عدد الساعات في يومين
✓	✓	يوجد ٣٦٠٠ ثانية في الساعة الواحدة


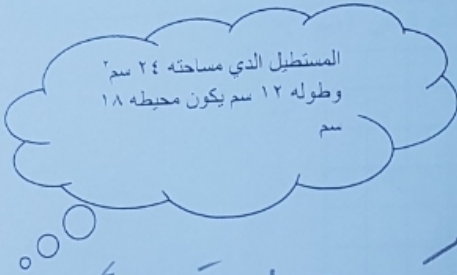
ما محيط الكتاب المقابل



٧٦

سم.....

تقول سالمة



هل ما تقوله سالمة صحيح؟ فسري اجابتك؟

علا لانه لا يكون محيطه ١٨ سم

.....
.....
.....

ارسمي مستطيلا مساحته ١٦,٥ سم^٢ ومحيطه ١٧ سم؟ مع تحديد مقدار طوله وعرضه؟

