

تم تحميل هذا الملف من موقع المناهج العمانية



## نشاط الوحدة الأولى جسم الإنسان

[موقع المناهج](#) ← [المناهج العمانية](#) ← [الصف السادس](#) ← [علوم](#) ← [الفصل الأول](#) ← [الملف](#)

تاريخ إضافة الملف على موقع المناهج: 05:21:01 2024-09-19

## التواصل الاجتماعي بحسب الصف السادس



اضغط هنا للحصول على جميع روابط "الصف السادس"

## روابط مواد الصف السادس على تلغرام

[الرياضيات](#)

[اللغة الانجليزية](#)

[اللغة العربية](#)

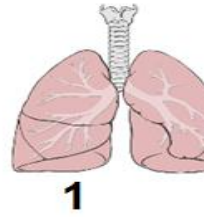
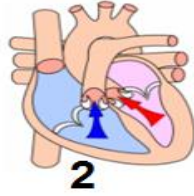
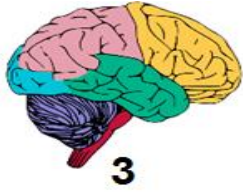
[التربية الاسلامية](#)

## المزيد من الملفات بحسب الصف السادس والمادة علوم في الفصل الأول

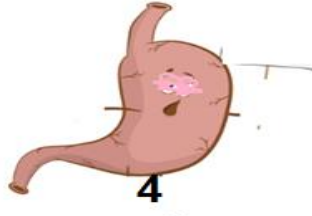
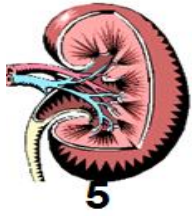
<a href="#">ملخص الوحدة الأولى جسم الإنسان</a>	1
<a href="#">ملخص الوحدة الأولى جسم الإنسان</a>	2
<a href="#">نموذج إجابة الامتحان النهائي الدور الأول الفترة الصباحية لمحافظة جنوب الشرقية</a>	3
<a href="#">الامتحان النهائي الدور الأول الفترة الصباحية لمحافظة الظاهرة</a>	4
<a href="#">الامتحان النهائي الدور الأول الفترة الصباحية للمحافظات مسقط والداخلية والشرقية</a>	5

المحطة الاولى

1- الاجزاء الداخلية لجسم الانسان تسمى ب-----



2-اكتب اسم كل جزء من اجزاء الجسم



3- حدد موضع كل جزء في الجسم

4- ماهي الاجزاء الداخلية الموجودة على هيئة زوج -----

الجزء	موضعه في الجسم
1	
2	
4	
5	



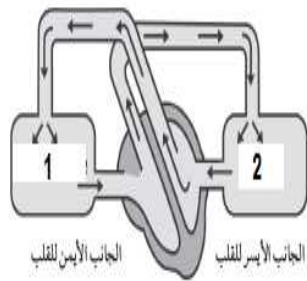
المحطة الثانية

1- اكمل الفراغ بالكلمة المناسبة

عبار على عضلة فريدة تقوم بضخ الدم عبر ----- الى جميع انحاء الجسم يسمى ب 00000000000 هذه العملية تعرف ب-----.

2- اكمل خريطة المفاهيم

(ج)

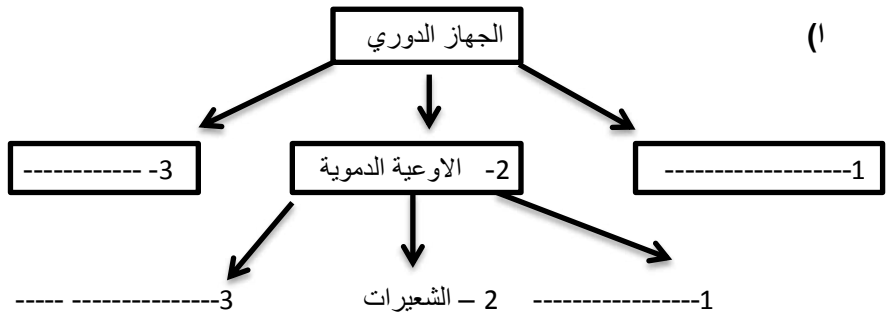


1- حدد اسم كل جزء (1) و جزء (2)

2- لون الاسهم بلون يناسبه على حسب اتجاههم و نوعية الدم

لون احمر محمل بالاكسجين / لون ازرق غير محمل بالاكسجين

(ا)



(ب) حدد وظيفة جزء 1 و 2

الجزء	الوظيفة
1	
2	