

شكراً لتحميلك هذا الملف من موقع المناهج العمانية



اختبار نهائي رسمي في محافظة الظاهرة

[موقع المناهج](#) ← [المناهج العمانية](#) ← [الصف السادس](#) ← [اجتماعيات](#) ← [الفصل الأول](#) ← [الملف](#)

تاريخ نشر الملف على موقع المناهج: 05:17:44 2024-01-04

التواصل الاجتماعي بحسب الصف السادس



روابط مواد الصف السادس على تلغرام

[الرياضيات](#)

[اللغة الانجليزية](#)

[اللغة العربية](#)

[التربية الاسلامية](#)

المزيد من الملفات بحسب الصف السادس والمادة اجتماعيات في الفصل الأول

اختبار نهائي رسمي في محافظة شمال الشرقية	1
اختبار نهائي رسمي في محافظة شمال الباطنة	2
اختبار نهائي رسمي في محافظة جنوب الشرقية الدور الاول	3
مراجعته لدرسي الدولة الأموية بالأندلس والإمامة في عمان	4
ملخص الوحدة الثانية	5

(٨ درجات)

السؤال الثاني: أجب عن الأسئلة الآتية:

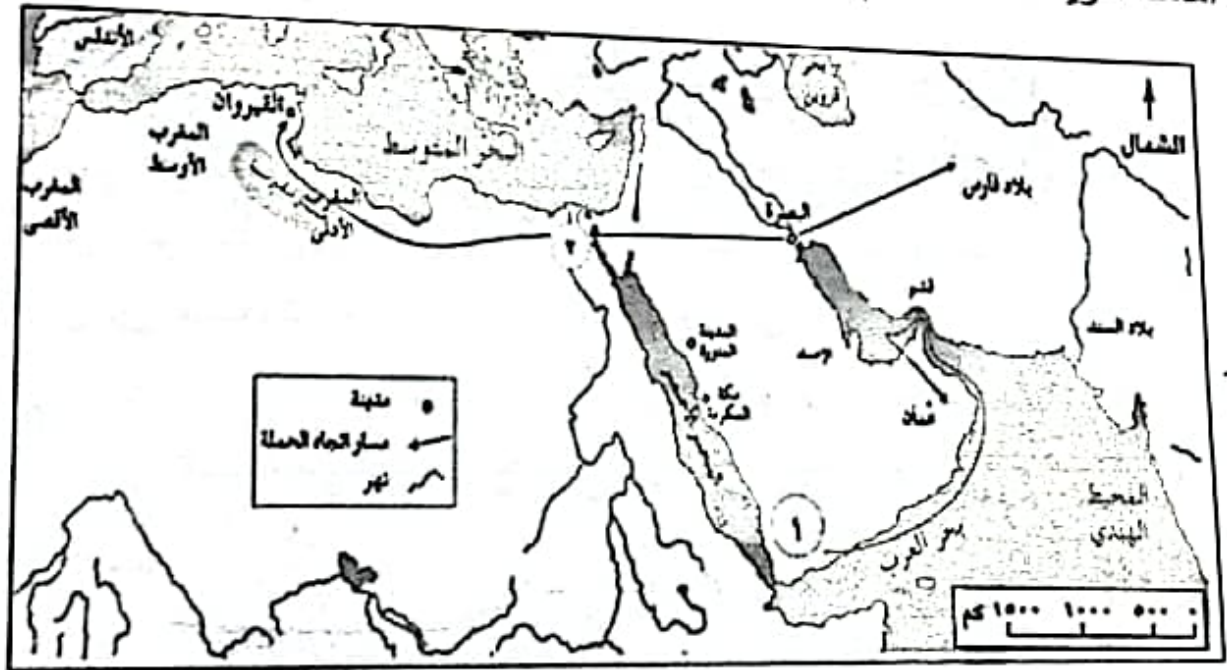
أولاً: اكتب المصطلح الدال على العبارات التالية بين القوسين:

أ- بناء هندسي يقام على مجرى مائي بهدف حجز المياه
(.....)ب- عملية تحول بخار الماء في الجو إلى قطرات مائية
(.....)

ج- التوقع بحصول حالة جوية معينة في المستقبل ليوم او بضعة ايام (.....)

د- مذهب إسلامي أسسه فقيه من أزد عمان هو الإمام جابر بن زيد (.....)

ثانياً: أ- أمامك خريطة حملة العلم. أدرسها جيداً ثم أجب عن الأسئلة التي تليها:



اكتب على الخريطة الخليج العربي في مكانه الصحيح.

ضع دائرة حول المدينة التي انطلق منها حملة العلم.

سم الدولة التي وصل إليها حملة العلم والمشار إليها بالرقم (١)؟


وجد ثلاثة أشكال للأمطار في الطبيعة. اذكر واحد منها؟

(٦)

المادة الدراسات الاجتماعية الصف : السادس الدور الأول - الفصل الدراسي الأول
العام الدراسي / ١٤٤٥ هـ - ٢٠٢٣ / ٢٠٢٤ م

تابع السؤال الرابع :

انيا:أ) -تمثل الصورة التي أمامك مصادر المعلومات عن الطقس أدرسها جيدا ثم أجب
بن الأسئلة الآتية:



سم الاشكال التي امامك:

.....

.....

ما أهميتها بالنسبة لمحطات الرصد الجوي؟

.....

.....

-برايك ما الآثار التدميرية التي تنتج عن الأعاصير المدارية في المناطق التي تتعرض

.....

.....

.....

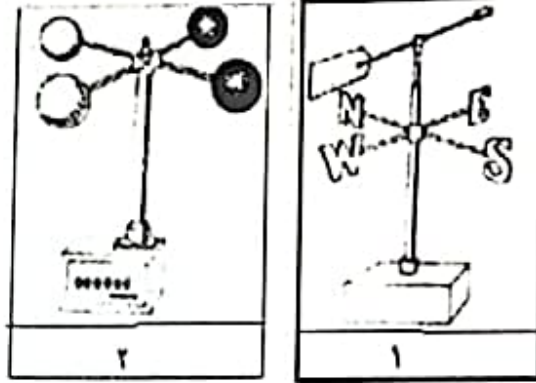
(٤)

المادة الدراسات الاجتماعية الصف : السادس الدور الأول - الفصل الدراسي الأول
العام الدراسي / ١٤٤٥ هـ - ٢٠٢٣ / ٢٠٢٤ م

(٨ درجات)

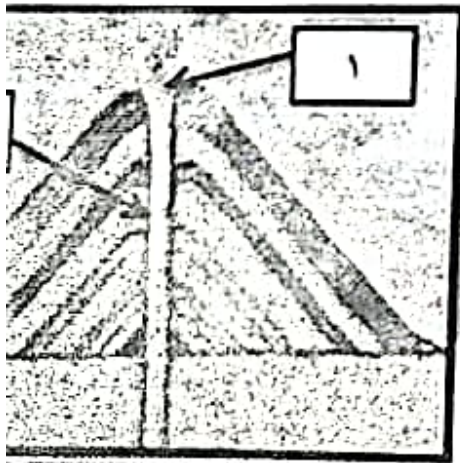
السؤال الثالث:

أولاً: أ- من خلال دراستك للأجهزة، قارن بين الجهازين من حيث:



الجهاز رقم	١	٢
اسم الجهاز		
مجال استخدامه		

ب- أمامك شكل يوضح أحد أنواع البراكين ادرسه جيدا ثم أجب عن الأسئلة التي



١- نوع البركان :

٢- أكمل بيانات الشكل

١-

٢-

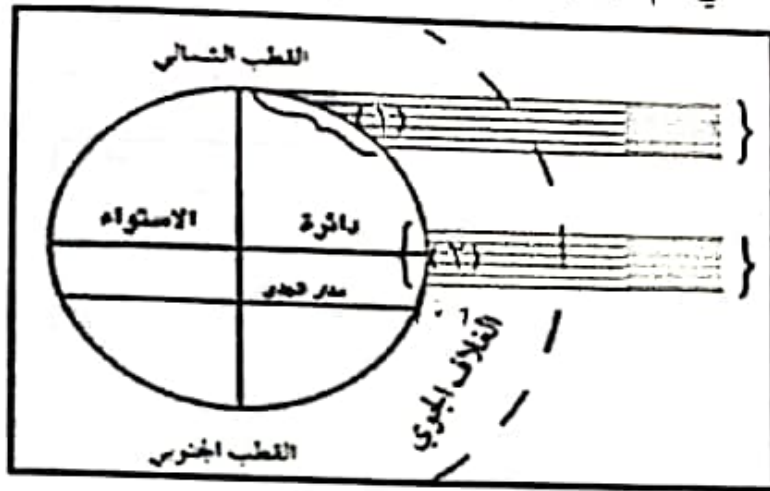
١- (على الرغم من الأخطار التي تشكلها البراكين
لأن لها العديد من الفوائد). اذكر اثنين منها

.....

.....

تابع السؤال الثالث:

ثانياً: انظر إلى الشكل التالي ثم أجب عن الأسئلة التي تليه :



- ١ - رقم المنطقة الأكثر حرارة ()
٢ - اذكر السبب :

(٦ درجات)

السؤال الرابع:

أولاً: ١- اقرأ النص التالي ، ثم أجب عن الأسئلة الآتية:

(تتعرض بعض المناطق في سلطنة عمان إلى فيضانات مدمرة أحيانا ، ويمكن أن تكون الفيضانات عنيفة حتى في الأودية الصغيرة بسبب قوة الأعاصير وشدة ميل لسفوح... وغيرها ، لذلك قامت الجهات المختصة في السلطنة بدراسة مشكلة لفيضانات وأنشأت خرائط الطقس تبين الأراضي التي تتأثر بها) في ضوء العبارة أجب عما يلي:

أ- اذكر أحد العوامل التي يتوقف عليها عنف الفيضانات في سلطنة عمان؟

ب- اقترح حلا مناسبة للتقليل من مخاطر الفيضانات؟

-علل/محاولة شارلمان(ملك الفرنجة) غزو الأندلس.

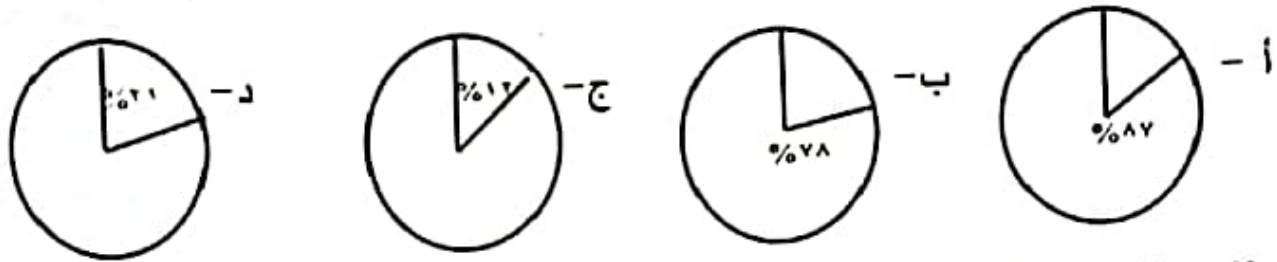
(٢)

المادة الدراسات الاجتماعية الصف: السادس الدور الأول - الفصل الدراسي الأول
العام الدراسي / ١٤٤٥ هـ - ٢٠٢٣ / ٢٠٢٤ م

تابع السؤال الأول:

٧- مقدار الانخفاض في درجة الحرارة اذا ارتفعنا ٣٠٠ متر عن مستوى سطح البحر:

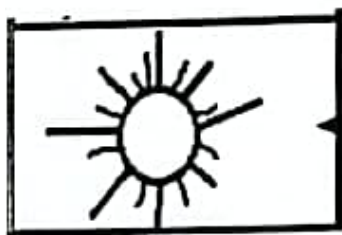
أ- درجة واحدة ب- درجتان ج- ثلاث درجات د- أربع درجات
٨- الشكل الصحيح الموضح لنسبة غاز الأوكسجين في الغلاف الجوي:



٩- يطلق على كل العناصر التي ترد في النشرة الجوية وتمثل فترة ٢٤ ساعة مفهوم
أ- الرياح ب- التكايف ج- الطقس د- المناخ:

١٠- الإمام الذي أرسل أسطولا حربيا لتحرير جزيرة سقطرى من أيدي الأحباش:
أ- محمد بن أبي عفان ب- الصلت بن مالك
ج- الجلندي بن مسعود د- عزان بن تميم

١١- حالة الجو في مدينة مسقط من خلال الرمز الواضح في الشكل التالي:



أ- جو مشمس ب- غائم جزئيا

ج- جو غائم د- أمطار رعدية

١- عاصمة الإمامة الثانية في عمان وسميت ببيضة الإسلام:

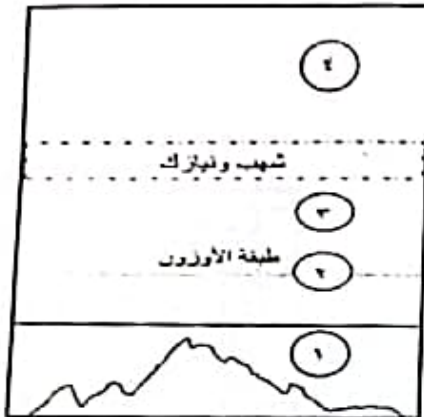
أ- صحار ب- مسقط ج- نزوى د- الرستا

يتبع

أجب عن جميع الأسئلة الآتية:

السؤال الأول: ضع دائرة حول رمز الإجابة الصحيحة لكل مفردة من المفردات الآتية: (١٢ درجة)

- ١- يتأثر الجبل الأخضر في سلطنة عمان بالمنخفضات الجوية في فصل :
أ- الشتاء ب- الخريف ج- الربيع د- الصيف
٢- يفضل الطيارون قيادة طائراتهم في الطبقة المشار إليها بالرقم :



ب-٢

أ-١

د-٤

ج-٣

٢- إحدى السلاسل الجبلية الموجودة في قارة أفريقيا :

د- الأطلس

ج- الأنديز

ب- الألب

أ- الهملايا

٤- التصرف الصحيح في حالة وقوع زلزال كما يظهر فالشكل الذي أمامك:



ب- الابتعاد عن المباني

أ- الابتعاد عن الشواطئ

د- البقاء في السيارة

ج- البقاء في الهواء

أسس الأمير عبدالرحمن بن معاوية (الداخل) الدولة الاموية في :

د- الأندلس

ج- المغرب

ب- العراق

أ- مصر

- تعرضت سلطنة عمان لإعصار جونو في عام :

د- ٢٠٠٨ م

ج- ٢٠٠٧ م

ب- ٢٠٠٦ م

أ- ٢٠٠٥ م

يتبع

٦ درجات

السؤال الخامس:
 أولاً: رتب الأحداث التاريخية التي حدثت في الأندلس بكتابة الأرقام (١، ٢، ٣، ٤) من الأقدم إلى الأحدث.

الحدث التاريخي	الرقم
١- تمكن عبدالرحمن من دخول قرطبة ظافراً	()
٢- محاولة أبو جعفر المنصور استعادة الأندلس إلى سيادة الدولة العباسية	()
٣- سقوط الخلافة الأموية بدمشق سنة ١٣٢ هـ	()
٤- توجة عبدالرحمن بن معاوية إلى شمالي أفريقيا واختبأ مع أخواله البربر.	()

يا: (أ) - صنف تأثيرات الطقس على سلطنة عمان خلال فصلي الصيف والشتاء.
 سب ما يناسبها في الجدول الآتي:
 تدال الجو - ارتفاع درجات الحرارة - سقوط الأمطار الموسمية على محافظة
 ار - يزداد تشغيل أجهزة التدفئة)

فصل الصيف	بل الشتاء

تخيل إنك تعيش في منطقة يتكرر فيها حدوث الزلازل، ما التدابير أو الاستعدادات ستوفرها لمواجهة أخطار الزلازل؟

د اثنين من حالات الماء في الطبيعة.

٢-

انتهت الأسئلة مع الدعاء للجميع بالتوفيق والنجاح.