


شكراً لتحميلك هذا الملف من موقع المناهج العمانية



نموذج أسئلة الاختبار الرسمي (جنوب الباطنة)

[موقع المناهج](#) ⇨ [المناهج العمانية](#) ⇨ [الصف السادس](#) ⇨ [اجتماعيات](#) ⇨ [الفصل الأول](#) ⇨ [الملف](#)

التواصل الاجتماعي بحسب الصف السادس

[الرياضيات](#)

[اللغة الانجليزية](#)

[اللغة العربية](#)

[التربية الاسلامية](#)

روابط مواد الصف السادس على تلغرام

المزيد من الملفات بحسب الصف السادس والمادة اجتماعيات في الفصل الأول

[ملخص شامل للمادة](#)

1

[مراجعة الدرسين نشأة الجبال والدولة الأموية في الأندلس](#)

2

[مراجعة الوحدة الثالثة الغلاف الجوي والمائي](#)

3

[حل أنشطة المادة](#)

4

[نموذج أسئلة الاختبار الرسمي \(جنوب الشرقية\)](#)

5

المادة : الدراسات الاجتماعية
الدور الأول - الفصل الدراسي الأول - العام الدراسي ٢٠٢٢/٢٠٢٣ م
الصف : السادس

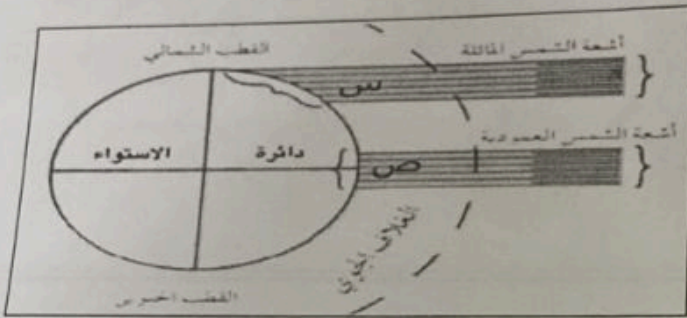
تابع: السؤال الثاني:-

٢- "على الرغم من الأخطار التي تشكلها البراكين إلا أن لها العديد من الفوائد " أذكر اثنتين منها .

أ-

ب-

ثانياً :- أنظر إلى الشكل الذي يمثل الأشعة الشمسية ثم أجب عما يليه:



١- الرمز الذي يشير إلى المنطقة الأكثر حرارة هو س أختر ص
علل إجابتك/

السؤال الثالث : أجب عن الأسئلة الآتية.

أولاً: ضع إشارة (√) مقابل كل خاصية تتميز بها طبقات الغلاف الجوي في الجدول أدناه:

الخصائص	التروبوسفير	الاستراتوسفير	الميزوسفير
تصل حرارتها 1000س			
يفضلها الطيارون في قيادة طائراتهم			
تحدث فيها التغيرات الجوية			
تحترق فيها الشهب والنيازك			

المادة : الدراسات الاجتماعية

الصف : السادس

الدور الأول - الفصل الدراسي الأول - العام الدراسي ٢٠٢٢/٢٠٢٣

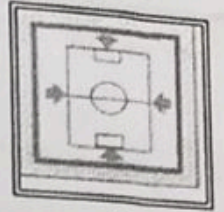
11- الشكل الذي يعبر عن البقاء في الهواء الطلق (منطقة خالية) أثناء وقوع الزلزال:



(أ)



(ب)



(ج)

12- سبب تلوث المياه السطحية في الشكل المقابل :

أ- الصرف الصحي

ب- مخلفات البناء

ج- الأسمدة العضوية

د- المخصبات الزراعية



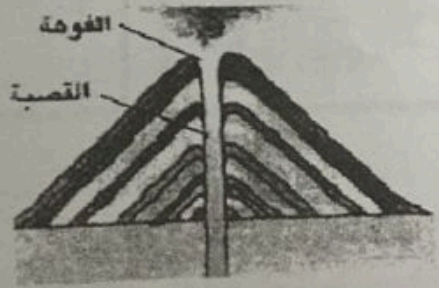
السؤال الثاني:-

أولاً: أجب عن الأسئلة الآتية:

١- أمامك شكلان يوضحان أنواع البراكين ادرسهما جيدا ثم قارن بينهما:



(أ)



(ب)

الشكل (ب)	الشكل (أ)	وجه المقارنة
		طبيعة المادة البركانية
		درجة حرارة الصهير

المادة : الدراسات الاجتماعية
الصف : السادس
الدور الأول - الفصل الدراسي الأول - العام الدراسي ٢٠٢٢ / ٢٠٢٣ م

السؤال الخامس: أجب عن الأسئلة الآتية:

أولاً: علل ما يأتي :

1 - تسمية العمانيين محمد بن نور بـ محمد بن بور .

2 - محاولة ملك الفرنجة (شارلمان) غزو الأندلس في عهد عبدالرحمن الداخل.

ثانياً: (يعد إعصار جونو من الإعاصير الحديثة التي تعرضت لها عمان) في ضوء العبارة السابقة أجب عن الأسئلة الآتية :

- كيف تم التنبؤ بهذا الإعصار ومراقبة مساره؟

- صف الآثار التدميرية التي خلفها هذا الإعصار.

أ: رتب الأحداث التاريخية الآتية من الأقدم للأحدث بوضع الأرقام (١ ، ٢ ، ٣ ، ٤) في العمود الثاني بالجدول أدناه:

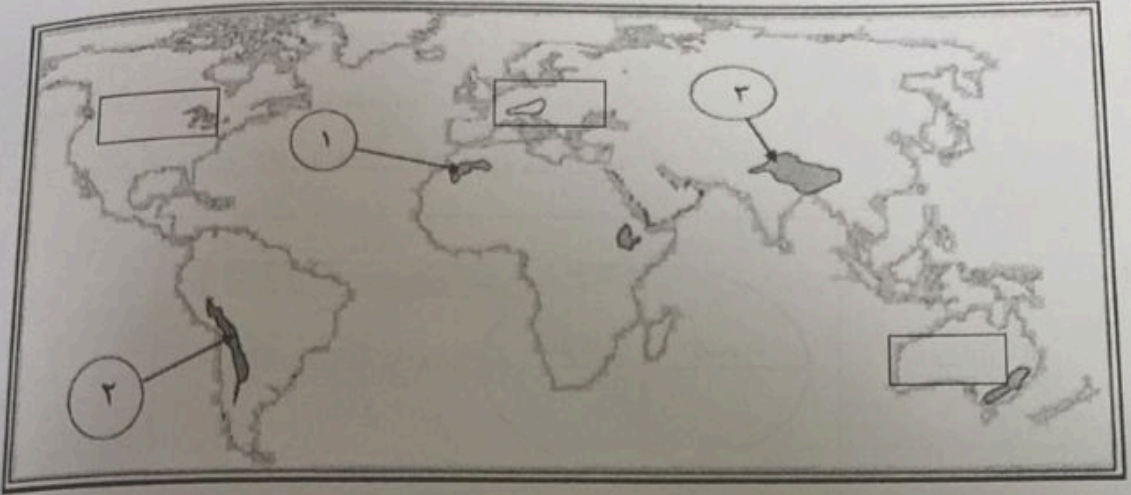
٣	-تمكن عبدالرحمن من دخول قرطبة ظافراً .
٤	- وفاة هشام الثالث وظهور دول الطوائف.
١	- سقوط الخلافة الأموية بدمشق .
٢	- توجه عبدالرحمن بن معاوية إلى شمالي أفريقيا و اختبانه عند أخواله البربر .

انتهت الأسئلة دعاني للجميع بالتوفيق والنجاح ،،

المادة : الدراسات الاجتماعية
الصف : السادس
الدور الأول - الفصل الدراسي الأول - العام الدراسي ٢٠٢٢/٢٠٢٣ م

تابع السؤال الثالث:

ثانياً: ادرس خريطة العالم التي امامك جيدا ثم اجب عن الأسئلة التي تليها ..



١ - ما الرقم الذي يشير إلى جبال الأنديز ؟

٢ - ما القارة التي توجد فيها جبال الأطلس والمشار إليها بالرقم (١) ؟

٣ - ظلل المستطيل الذي يوضح موقع السلسلة الفاصلة العظمى في الخريطة .

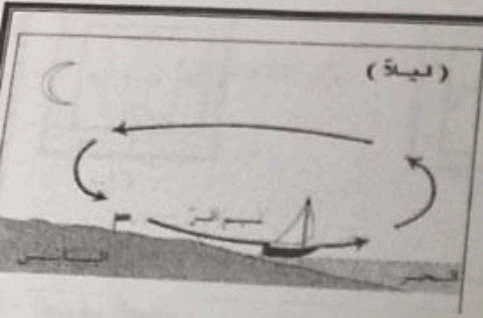
ثالثاً :- اقرأ العبارة الآتية ثم اجب عن الأسئلة التي تليها .

"تعد سمائل أول مدينة عمانية يدخلها الإسلام على يد أحد الصحابة العمانيين الذي قام بتأسيس مسجد فيها ويعرف بمسجد المضمار "

أ- من الصحابي المشار إليه في العبارة ؟

ب- في أي ولاية عمانية يقع مسجد المضمار ؟

المادة : الدراسات الاجتماعية
الدور الأول - الفصل الدراسي الأول - العام الدراسي ٢٠٢٢/٢٠٢٣ م
الصف : السادس



تابع السؤال الأول :

5- نوع النسيم الموضح في الشكل .:

- أ- البر
ب- البحر
ج- الجبل
د- الوادي


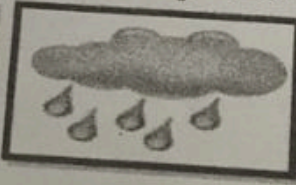


6- الرقم الذي يشير إلى المنطقة التي حدثت فيها أولى محاولات الطيران في الخريطة أمامك :



أ- 1
ب- 2

ج- 3
د- 4

7- الرمز الدال على الأمطار الرعدية في النشرة الجوية:



د

ج


ب

أ

8- تتراوح درجة قوة الزلزال الواضح في الشكل المقابل:

أ- 3, 5, 5
ب- 5-6

ج- 6-7
د- 7-8



9- عبارة عن هزات أرضية قصيرة سريعة متتالية تضرب سطح الارض:

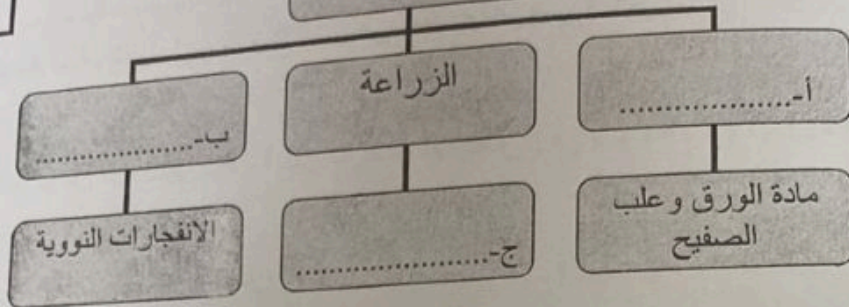
أ- البراكين
ب- الالتواءات
ج- الانكسارات

10- الفصل الذي يتأثر فيه الجبل الأخضر في سلطنة عمان بالمنخفضات الجوية:

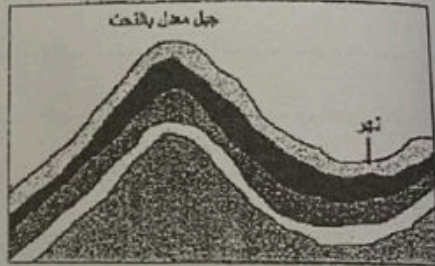
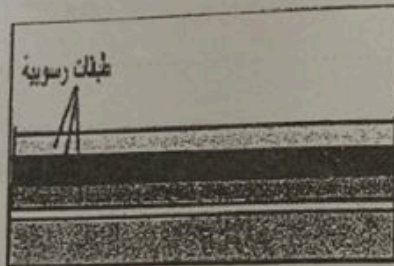
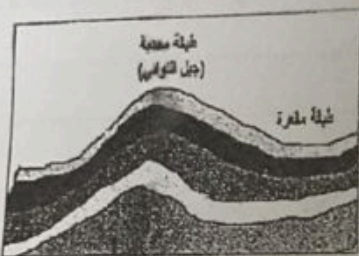
أ- الصيف
ب- الخريف
ج- الشتاء

السؤال الرابع : اجب عن الأسئلة الآتية .
أولاً : 1- أمامك مخطط يوضح مصادر تلوث المياه السطحية ادرسه ثم أكمل الفراغات بما يناسبها من بين القوسين : (الإشعاع - النفايات المنزلية الصلبة - المبيدات الحشرية)

مصادر تلوث المياه السطحية



2- رتب مراحل تكون الجبال الالتوائية بوضع الأرقام (١ ، ٢ ، ٣) أسفل كل شكل:



()

()

()

يا : اكتب المصطلح المناسب بين القوسين:

عملية تحول بخار الماء في الجو إلى قطرات مائية (.....)

الذين تلقوا العلم علي يد الإمام أبي عبيدة وارسلوا الى مناطق مختلفة لنشر المذهب الاباضي

(.....)

نا : انظر إلى الشكل المقابل ثم أجب عما يلي:

يسمى المصدر المشار اليه بالرقم (1)

البالونات.

الأقمار الاصطناعية.



مصادر المعلومات التي يتم جمعها عن الطقس

فسر أهميته بالنسبة لمحطات الرصد الجوي .

يتبع الصف


ب عن جميع الأسئلة الآتية

سؤال الأول : ضع دائرة حول رمز الإجابة الصحيحة لكل مفردة من المفردات الآتية :

الصورة التي تمثل مكونات الغلاف الصخري :



(أ)



(ب)



(ج)



(د)

نسبة المئوية للمياه العذبة على الكرة الأرضية :

ب - ٣

ج - ٥

د - ٧

العام الهجري الذي انتهى فيه الحكم العربي الإسلامي في الأندلس :

ب - 896

ج - 897

د - 898

الأمطار التي يمثلها الشكل المقابل :

ب - التصاعدية

د - الجبهية

التضاريسية

الإعصارية

