

تم تحميل هذا الملف من موقع المناهج العُمانية



*للحصول على أوراق عمل لجميع الصفوف وجميع المواد اضغط هنا

<https://almanahj.com/om>

* للحصول على أوراق عمل لجميع مواد الصف السادس اضغط هنا

<https://almanahj.com/om/6>

* للحصول على جميع أوراق الصف السادس في مادة اجتماعيات ولجميع الفصول, اضغط هنا

<https://almanahj.com/om/6social>

* للحصول على أوراق عمل لجميع مواد الصف السادس في مادة اجتماعيات الخاصة بـ الفصل الثاني اضغط هنا

<https://almanahj.com/om./6social2>

* لتحميل كتب جميع المواد في جميع الفصول للـ الصف السادس اضغط هنا

<https://almanahj.com/om./grade6>

للتحدث إلى بوت المناهج العمانية على تلغرام: اضغط هنا

https://t.me/omcourse_bot



امتحان الصف السادس
للعام الدراسي ١٤٣٧/١٤٣٨ هـ - ٢٠١٦/٢٠١٧ م
الدور الثاني - الفصل الدراسي الثاني

- المادة: الدراسات الاجتماعية.
- زمن الإجابة: ساعة ونصف.
- عدد صفحات أسئلة الامتحان: (٥) صفحات.
- الإجابة في الورقة نفسها.

اسم الطالب	
المدرسة	
الصف	

التوقيع بالاسم		الدرجة		السؤال
المصحح الثاني	المصحح الأول	بالحروف	بالأرقام	
				١
				٢
				٣
				٤
مراجعة الجمع	جمعه			المجموع
				المجموع الكلي

أجب عن جميع الأسئلة الآتية

السؤال الأول: ضع دائرة حول رمز الإجابة الصحيحة لكل مفردة من المفردات الآتية:

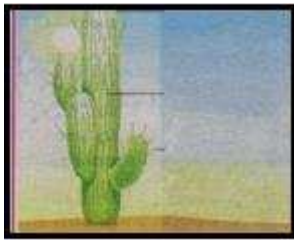
- ١ - العام الميلادي الذي وقعت فيه السلطنة اتفاقية التنوع الأحيائي، هو:
أ) ١٩٩٠ (ب) ١٩٩٢ (ج) ١٩٩٤ (د) ١٩٩٦

٢- النظام البيئي الذي تمثله الخريطة التي أمامك، هو:



- أ) الحشائش المدارية الطويلة.
ب) الغابات الاستوائية.
ج) التندرا.
د) الصحاري الحارة.

٣- الأسلوب الذي تكيف به النبات الطبيعي الذي أمامك مع الجفاف في البيئة الصحراوية:

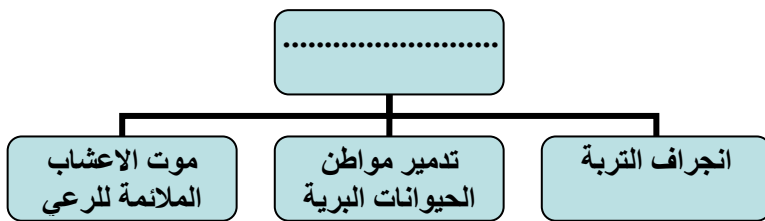


- أ) جذور طويلة
ب) جذور قصيرة
ج) سيقان شمعية ضخمة
د) النمو في الواحات

٤- من العوامل المناخية المؤدية إلى انجراف التربة:

- أ) الرياح
ب) إزالة الغابات
ج) ميل السفوح
د) الرعي الجائر

٥- المشكلة التي أدت إلى النتائج الموضحة في المخطط التالي، هي:



- أ) الحرائق
ب) التلوث
ج) قطع الغابات
د) الرعي الجائر

تابع السؤال الأول:

- ٦- الواجب الذي ينبغي أن أقوم به تجاه وطني ، والواضح في الصورة، هو: (أ)
الدفاع عن الوطن (ب) إتقان العمل
(ج) المحافظة على مدرستي (د) الاجتهاد في العلم



- ٧- يحرص محمد على الذهاب الى المدرسة يوميا في وقت مبكر، الصفة التي يتصف بها محمد، هي:

- (أ) الصدق (ب) تقدير العاملين
(ج) احترام المواعيد (د) استغلال وقت الفراغ

- ٨- الوزارة التي تعمل على توفير فرص العمل للمواطنين العمانيين في منشآت القطاع الخاص، هي:

- (أ) التربية والتعليم (ب) الصحة (ج) القوى العاملة (د) التراث والثقافة

السؤال الثاني: أجب عن الأسئلة التالية:

أولاً: أكتب المصطلح أو المفهوم الدال على العبارات التالية:

- ١- (.....) يعد أحد أساليب صيانة التربة وهو عبارة عن صفوف من الأشجار تزرع لحماية التربة من التعرية الريحية.

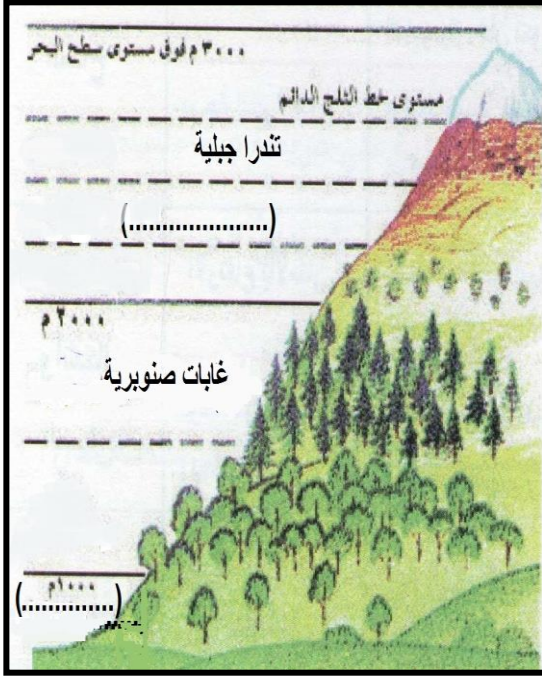
- ٢- (.....) بقعة الأرض التي ننتمي إليها وعاش عليها أبائنا وأجدادنا وستبقى لأبنائنا وأحفادنا من بعدنا.

ثانياً: قارن بين بيئة الغابات المدارية المطيرة (الاستوائية) وبيئة الصحاري الحارة حسب الجدول الآتي:

البيئة	الموقع بالنسبة لدوائر العرض	خصائص المناخ (درجة الحرارة والامطار)
الغابات المدارية المطيرة		
بيئة الصحاري الحارة		

تابع السؤال الثاني:

ثالثاً: ١- من خلال الشكل الذي أمامك:-



أ- أكتب الكلمات التالية:

- (مراعي فقيرة - مراعي غنية) في موقعها الصحيح بالشكل.

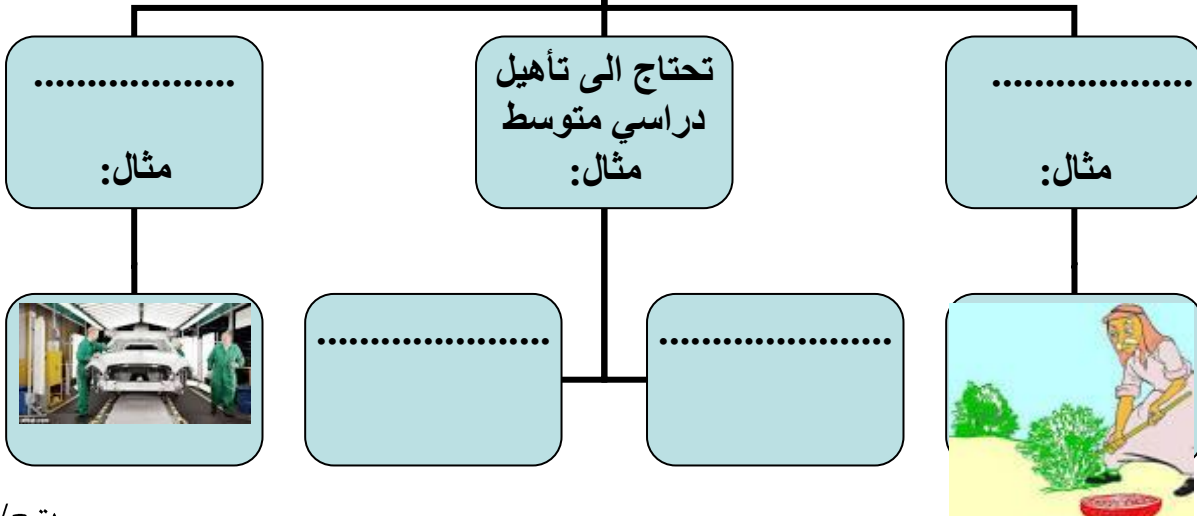
ب- كلما ارتفعنا إلى أعلى فإن كثافة النباتات الطبيعية:

(تتزايد - تتناقص) اختر الإجابة الصحيحة بين القوسين.

ج- كلما زاد ميل السفوح يصبح سمك التربة: (قليل - كثيف) اختر الإجابة الصحيحة بين القوسين.

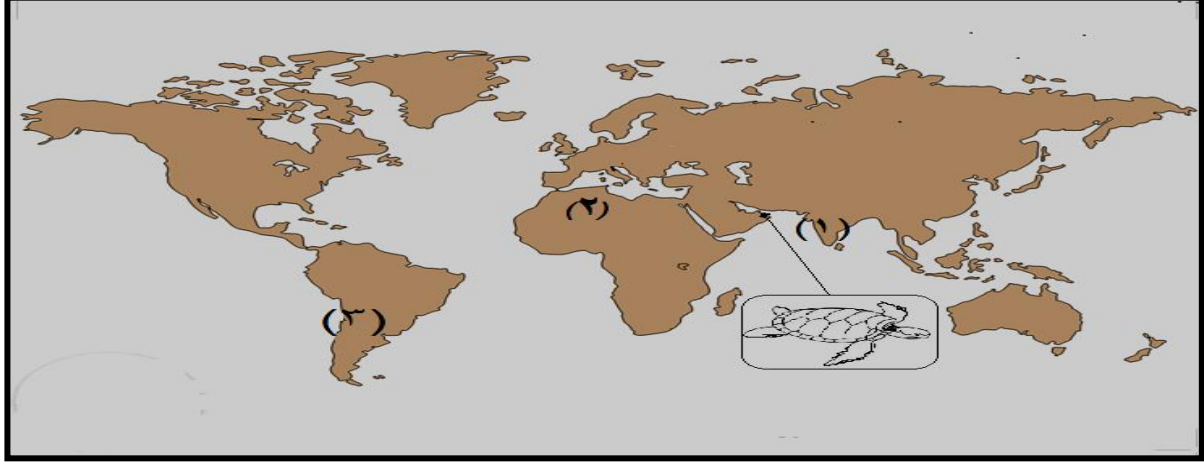
٢- أكمل المخطط التالي بوضع العبارات الواردة بين القوسين في مكانها المناسب: (تحتاج إلى تأهيل دراسي عال - النجارة - لا تحتاج إلى تأهيل دراسي - الحداثة):-

نوع التأهيل الذي تتطلبه الأعمال



السؤال الثالث:

أولاً: ادرس خريطة العالم التي أمامك ثم أجب عن الأسئلة التالية:



١- ما النسبة التي وصلت لها حجم الغابات المدمرة في الدولة المشار إليها بالرقم (١).....

٢- أكتب على الخريطة صحراء موجاف في موقعها الصحيح.

٣- ظل على الخريطة القارة التي لا توجد بها مشكلة انجراف التربة.

٤- أين توجد المحمية التي تحمي الكائن الحي الموضح في الخريطة؟

.....
ثانياً: فسر ما يلي:

١- تعرض بعض مناطق السافانا في الصومال والسودان وكينيا وتنزانيا للتصحّر

.....
.....

٢- يتصف الإنسان الصادق بالشجاعة واحترام النفس.

.....
.....

ثالثاً: اقرأ أقوال القائد المفدى و صنفها إلى حق أو واجب :

القول	حق / واجب
"فالمهم هو التعليم حتى تحت ظل الشجر"	
"على كل مواطن أن يكون حارساً أميناً على مكتسبات الوطن ومنجزاته"	

السؤال الرابع :

أولاً: أكتب تحت صورة كل حيوان البيئة التي ينتمي إليها:



١-.....
٢-.....

ثانياً: ١- اقرأ النص التالي ثم أجب عن الأسئلة التي تليه:-

"ذهب سالم إلى أحد المراكز التجارية، وأشترى مجموعة من السلع. وبعد رجوعه إلى المنزل، اكتشف أن هناك خطأ في المحاسبة، وأدرك أن المحاسب أخطأ في قيمة السلع بسبب الإزدحام، فذهب للمركز، وأعاد المبلغ إلى المحاسب، وشكره المحاسب على ذلك".

أ-ما الصفة الحميدة التي تمثلت في سلوك سالم؟

ب- ما أهمية تصرف الآخرين في المجتمع كما تصرف سالم؟

٢- من المشاريع الرائدة لحفز الشباب العماني للعمل في القطاع الخاص:

أ-.....
ب-.....

ثالثاً: أذكر اثنين لكل من :

١- فوائد الغلاف الحيوي.

أ-.....

ب-.....

٢- اسهامات التطورات العلمية الحديثة في حياة الإنسان.

أ-.....

ب-.....

انتهت الأسئلة مع الدعاء للجميع بالتوفيق والنجاح.



نموذج إجابة امتحان الصف السادس
للعام الدراسي ١٤٣٧/١٤٣٨ هـ - ٢٠١٦/٢٠١٧ م
الدور الثاني - الفصل الدراسي الثاني

المادة: الدراسات الاجتماعية
الدرجة الكلية: (٤٠) درجة.
تنبيه: نموذج الإجابة في (٥) صفحات.

أولاً: إجابة السؤال الموضوعي:

الدرجة الكلية: ١٦ درجة				إجابة السؤال الأول	
المستوى المعرفي	الصفحة	الدرجة	الإجابة	البديل الصحيح	المفردة
	١٥	٢	١٩٩٢	ب	١
	٢٥	٢	بيئة الحشائش المدارية الطويلة.	أ	٢
	٣٣	٢	سيقان شمعية ضخمة	ج	٣
	٣٧	٢	الرياح	أ	٤
	٤٤	٢	الرعي الجائر	د	٥
	٥٥	٢	الدفاع عن الوطن	أ	٦
	٦٩	٢	احترام المواعيد	ج	٧
	٧٨	٢	القوى العاملة	ج	٨
		١٦	المجموع		

يتبع ٢/

(٢)

تابع نموذج إجابة امتحان الصف السادس
للعام الدراسي ١٤٣٧/١٤٣٨ هـ - ٢٠١٦/٢٠١٧ م
الدور الثاني- الفصل الدراسي الثاني
المادة : الدراسات الاجتماعية

ثانيا: إجابة الأسئلة المقالية:

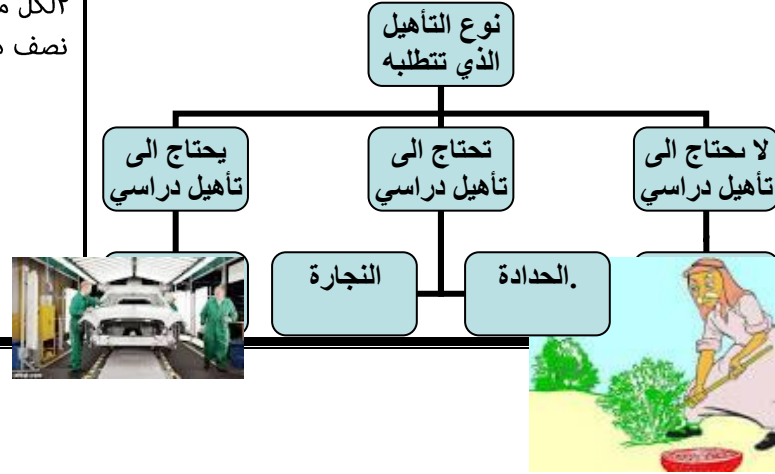
الدرجة الكلية: (٨) درجة					إجابة السؤال الثاني	
المستوى المعرفي	الصفحة	الدرجة	الإجابة الصحيحة		المفر دة	الجزئية
	٤٠ ٥٠	٢ لكل مفردة درجة	١- مصدات الرياح. ٢- الوطن.			أولا
	٣٠ و ١٩	٢ لكل مفردة نصف درجة واحدة	خصائص المناخ (درجة الحرارة والامطار)	الموقع بالنسبة لدوائر العرض	البيئة	ثانيا
			ارتفاع درجات الحرارة وكميات الامطار حيث تصل الى (٢٥٠٠ ملم سنويا) والرطوبة طوال السنة.	٥ (شمالى وجنوبى دائرة الاستواء)	الغابات المدارية المطيرة (الاستوائية)	
	١٧ و ١٨		ندرة السحب والامطار حيث تقل عن (٢٠٠ ملم سنويا) وسيادة الجفاف، ارتفاع درجات الحرارة نهارا (٥٠ س) وتنخف ض ليلا لتصل (٠) شتاء.	(٣٠ و ١٥) شمال ي وجنوبى دائرة الاستواء وعلى السواحل الغربية للقارات.	بيئة الصحاري الحارة	ثالثا

أ- انظر الكتاب المدرسي شكل ٢ ص ١٨
 ب- تتناقض.
 ج- قليل.

٢ لكل مفردة
 نصف درجة

٧٥

٢ لكل مفردة
 نصف درجة



(٤)

تابع نموذج إجابة امتحان الصف السادس
للعام الدراسي ١٤٣٧/١٤٣٨ هـ - ٢٠١٦/٢٠١٧ م
الدور الثاني- الفصل الدراسي الثاني
المادة : الدراسات الاجتماعية

تابع ثانيا: إجابة الأسئلة المقالية:

إجابة السؤال الثالث										
الدرجة الكلية: (٨) درجة										
المستوى المعرفي	الصفحة	الدرجة	الإجابة الصحيحة	المفردة						
	٤٢ ٣٠ ٣٦ ١٥	٤ لكل مفردة درجة	١- (٩٥%) ٢- انظر خريطة الصحاري الحارة في العالم ص ٣٠ ٣- يظل الطالب على قارة اوروبا. ٤- راس الحد.							
	٢٨	درجة	نتيجة الرعي الجائر والتحطيب واستنزاف التربة وانحباس الامطار والجفاف لعدة سنوات متتالية.	١-						
	٦١	درجة	لانه يستطيع مواجهة غيره بالحقائق ولانه لا يحب ان يكون موضع اهانة على السنة الناس لوقيل عنه انه كاذب.	٢-						
	٥٨	٢ لكل مفردة درجة واحدة	<table border="1"> <thead> <tr> <th>القول</th> <th>حق / واجب</th> </tr> </thead> <tbody> <tr> <td>"*فالمهم هو التعليم حتى تحت ظل الشجر"</td> <td>حق</td> </tr> <tr> <td>"*على كل مواطن ان يكون حارسا امينا على مكتسبات الوطن ومنجزاته"</td> <td>واجب</td> </tr> </tbody> </table>	القول	حق / واجب	"*فالمهم هو التعليم حتى تحت ظل الشجر"	حق	"*على كل مواطن ان يكون حارسا امينا على مكتسبات الوطن ومنجزاته"	واجب	
القول	حق / واجب									
"*فالمهم هو التعليم حتى تحت ظل الشجر"	حق									
"*على كل مواطن ان يكون حارسا امينا على مكتسبات الوطن ومنجزاته"	واجب									

(٥)

تابع نموذج إجابة امتحان الصف السادس
للعام الدراسي ١٤٣٧/١٤٣٨ هـ - ٢٠١٦/٢٠١٧ م
الدور الثاني - الفصل الدراسي الثاني
المادة : الدراسات الاجتماعية

تابع ثانيا: إجابة الأسئلة المقالية:

إجابة السؤال الرابع		الدرجة الكلية: (٨) درجة		
الجزئية	المفردة	الإجابة الصحيحة	الدرجة	الصفحة
أولا		١) بيئة الحشائش المدارية الطويلة. ٢) بيئة الصحاري الحارة.	درجة لكل	٢٦
			مفردة	٣٣
ثانيا		١-أ-الامانة. ب-المحافظة على اموال وممتلكات كل فرد في المجتمع.(اي تعبير صحيح تعطى الدرجة) ٢-أ-صندوق الرفد ب- مشروع انطلاقة.	درجتان لكل	٦٢
			مفردة درجة	٧٨
ثالثا		١- أ-تقوم النباتات الطبيعية باطلاق كميات كبيرة من الاكسجين كعنصر ضروري للحياة. ب-يوفر المراعي لتنمية الثروة الحيوانية.ج-تسهم بعض الحيوانات البرية في توفير احتياجات الانسان(الفراء- الجلود- الشعر- الوبر).د-توفر الغابات الطبيعية الاخشاب وتلطف حرارة الجو وتزيد كمية الامطار.هـ-تشكل مناظر طبيعية للغابات عامل جذب للسياح.و-توفر التربة الخصبة للزراعة ونتاج الغذاء والمواد الخام لبعض الصناعات. (يكتفى بذكر اثنين) ٢- السلع والبضائع في الاسواق بأسعار مناسبة.-الوقت اللازم لانجاز اعمالنا اليومية بصورة افضل.(أي تعبير صحيح يعطى الدرجة كاملة. (يكتفى بذكر اثنين)	٢لكل مفردة درجة	١٤
			٢لكل مفردة درجة	٦٦

نهاية نموذج الإجابة