

تم تحميل هذا الملف من موقع المناهج العمانية



الامتحان النهائي الرسمي الدور الأول الفترة المسائية

موقع فايلاتي ← المناهج العمانية ← الصف السادس ← اجتماعيات ← الفصل الأول ← الامتحان النهائي ← الملف

تاريخ إضافة الملف على موقع المناهج: 2025-01-20 22:16:00

ملفات اكتب للمعلم اكتب للطالب | اختبارات الكترونية | اختبارات | حلول | عروض بوربوينت | أوراق عمل
منهج انجليزي | ملخصات وتقارير | مذكرات وبنوك | الامتحان النهائي للمدرس

المزيد من مادة
اجتماعيات:

التواصل الاجتماعي بحسب الصف السادس



صفحة المناهج
العمانية على
فيسبوك

الرياضيات

اللغة الانجليزية

اللغة العربية

التربية الاسلامية

المواد على تلغرام

المزيد من الملفات بحسب الصف السادس والمادة اجتماعيات في الفصل الأول

نموذج إجابة الامتحان النهائي الرسمي الدور الأول الفترة الصباحية

1

الامتحان النهائي الرسمي الدور الأول الفترة الصباحية

2

امتحان تدريبي في محافظة جنوب الباطنة

3

نموذج إجابة الامتحان التدريبي في محافظة جنوب الباطنة

4

نموذج إجابة الامتحان التدريبي في محافظة الظاهرة





5

أجب عن جميع الأسئلة

أولاً: الأسئلة الموضوعية:

ضع دائرة حول رمز الإجابة الصحيحة لكل مفردة من المفردات الآتية: -

١- الرمز المناسب لتمثيل الظاهرة الجغرافية الواضحة أمامك في الخريطة:



٢- الظاهرة الجغرافية التي تُمثل برمز نوعي من حيث الدلالة في الخريطة:

- أ- عدد المدارس ب- الكثافة السكانية ج- الحدود السياسية د- عدد الأشجار

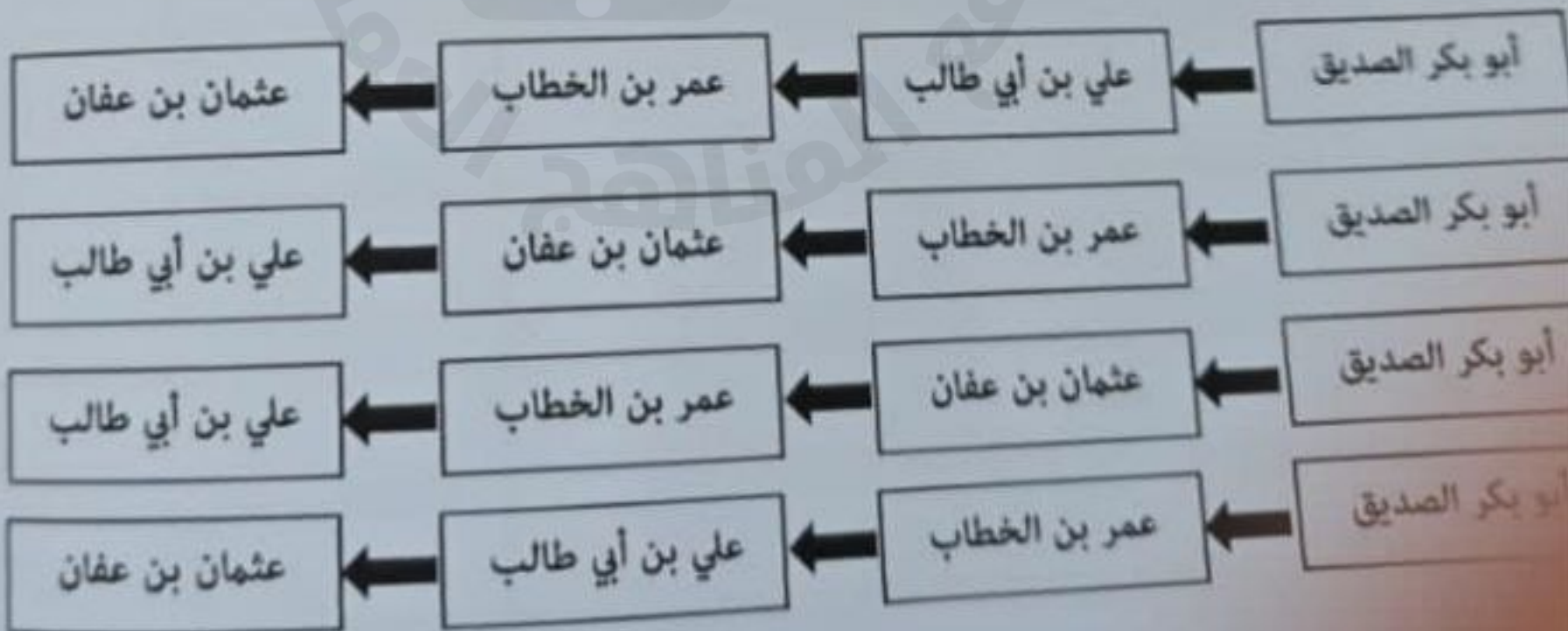
٣- تكتب الأسماء على الظواهر التي لها امتداد مساحي في وضع يدل على:

- أ- اتجاه امتدادها ب- مستوى ارتفاعها ج- كبر مساحتها د- مستوى انخفاضها

٤- الفترة الزمنية التي يقيس خلالها مؤشر الناتج المحلي الإجمالي قيمة السلع والخدمات في الدولة:

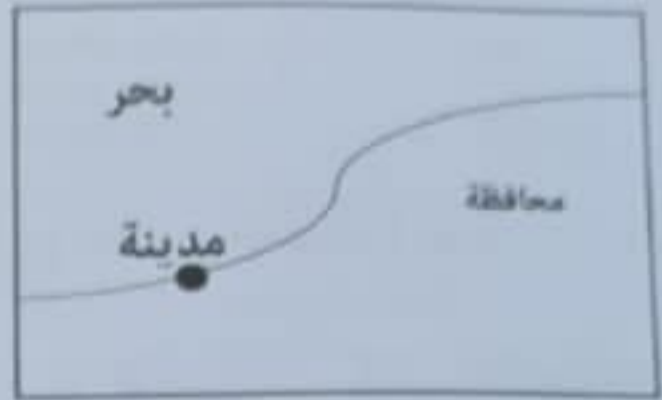
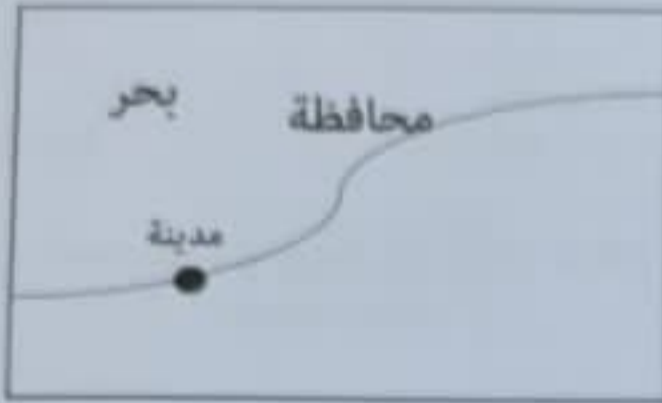
- أ- ثلاث سنوات ب- سنتان أو نصف سنة ج- سنتان د- سنة أو نصف سنة

الشكل الصحيح لانتقال الحكم بين الخلفاء الراشدين:



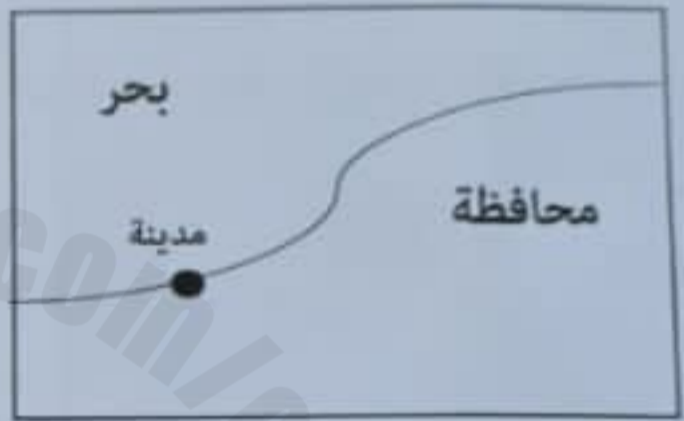
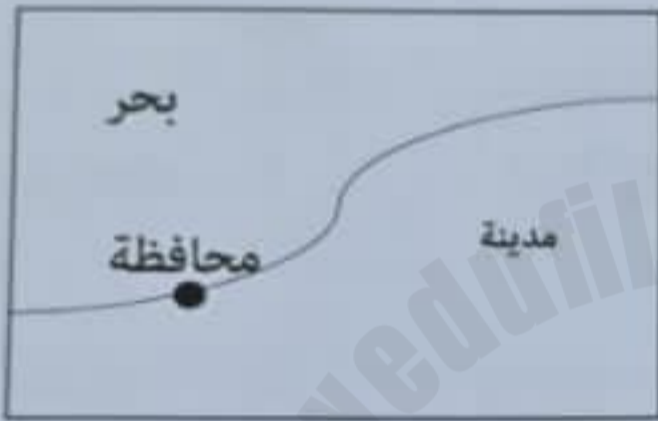
ابعد أولاً: الأسئلة الموضوعية:

٦ - الشكل الذي يمثل الكتابة الصحيحة للأسماء الجغرافية في الخريطة:



ب

ا



د

ج

٧ - من المقومات الطبيعية التي يعتمد عليها الاقتصاد العماني في تطوره:

أ - الموقع الجغرافي ب - الأمن والاستقرار ج - البنية التحتية د - الموارد البشرية

٨ - الرقم الذي يشير إلى الميناء العماني الرئيس للتجارة والملاحة

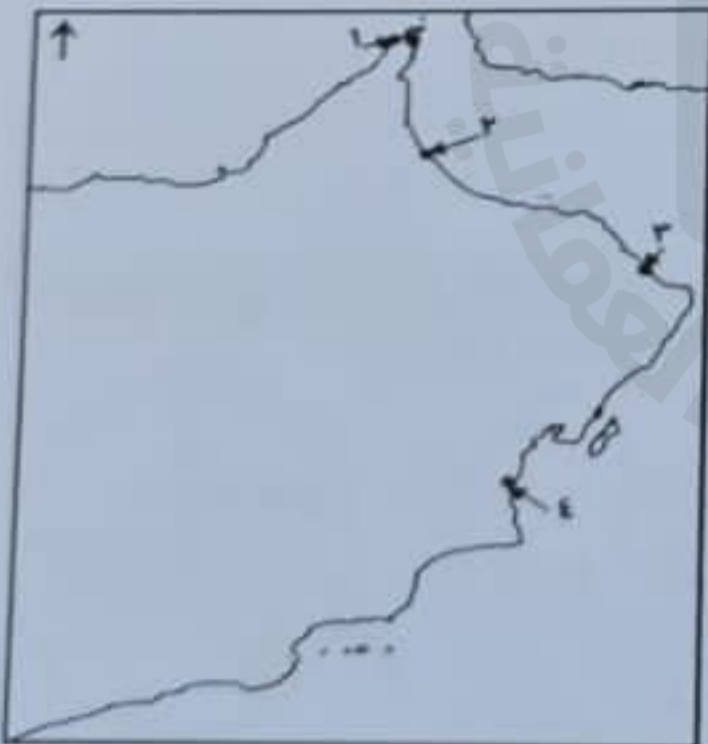
في عصر الخلفاء الراشدين:

ب - ٢

أ - ١

د - ٤

ج - ٣




٩ - الشخصية العمانية التي كلفها الخليفة أبو بكر الصديق لمواجهة الغساسنة المرتدين من قبيلة آل جفنة في الشام:

أ - عثمان بن أبي العاص ب - عقبة بن نعمان العتكي ج - حذيفة بن المحسن د - عبد بن الجلندي

تابع أولاً: الأسئلة الموضوعية:

١٠ - الشكل الذي أمامك يعد مثلاً على الصناعات:



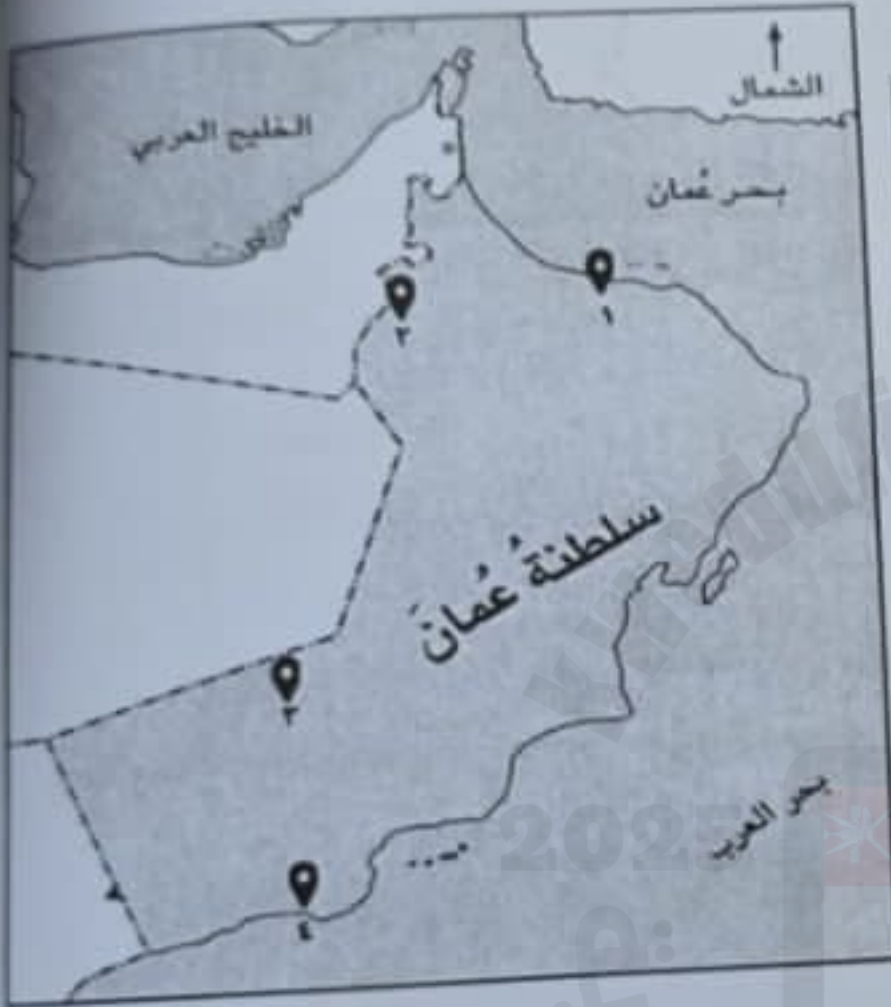
د - الزراعية

ج - التعدينية

ب - التحويلية

أ - النفطية

١١ - الجدول الصحيح الذي يربط بين أرقام المواقع في الخريطة مع المشاريع الاقتصادية الواعدة في سلطنة عُمان:



رقم الموقع	المشروع
١	مزرعة النجد
٢	مزرعة الصفاء

ب -

رقم الموقع	المشروع
٤	مزرعة النجد
٢	مزرعة الصفاء

أ -

رقم الموقع	المشروع
٣	مزرعة النجد
٢	مزرعة الصفاء

د -

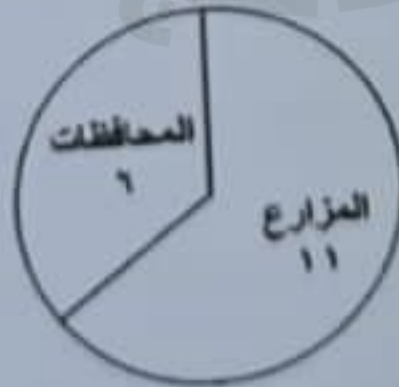
رقم الموقع	المشروع
٤	مزرعة النجد
٣	مزرعة الصفاء

ج -

١٢ - الرسم البياني الذي يمثل الإحصائية الصحيحة لعدد المزارع والمحافظات العمانية في مشروع المليون نخلة:



د



ج



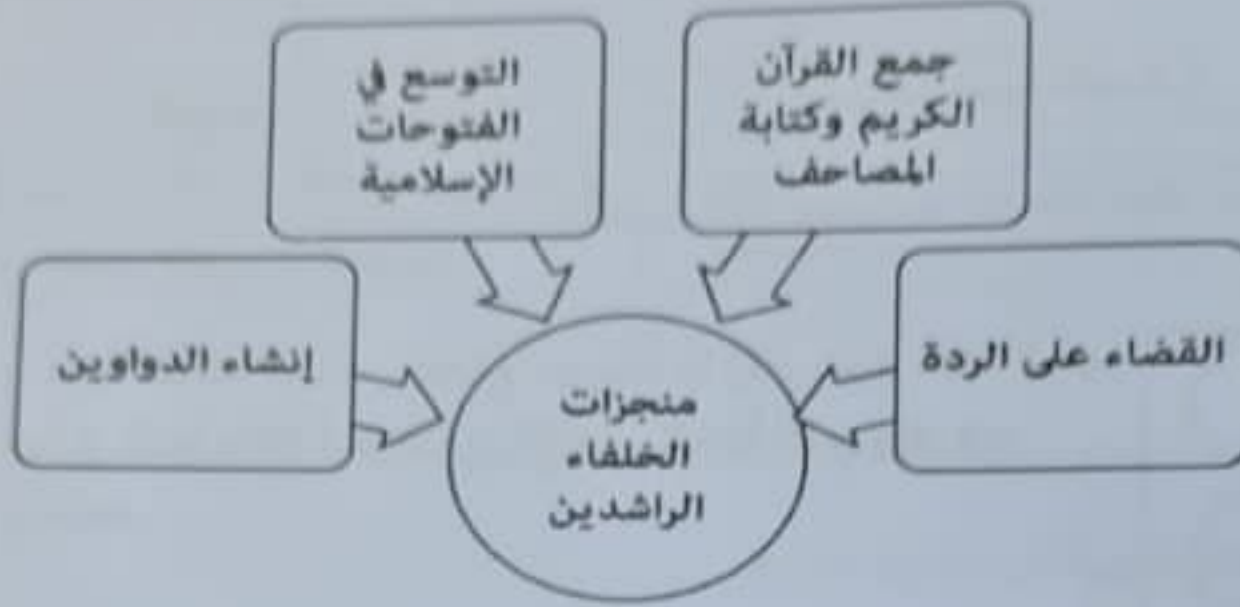
ب



أ

ثانياً: الأسئلة المقالية:

١٣) أ - من خلال الشكل الذي أمامك أجب عما يلي:



١ - اكتب واحداً من المنجزات الواردة في الشكل السابق حسب التصنيف في الجدول الآتي:

إداري	ديني
.....

٢- استنتج نتيجة واحدة تربت على التوسع في الفتوحات الإسلامية.

ب - اذكر أحد اختصاصات قسم الأسماء الجغرافية بالهيئة الوطنية للمساحة.

ج - رتب الأنشطة الاقتصادية المرتبطة بقطاع النفط من المرحلة الأولى إلى المرحلة النهائية بكتابة كل نشاط أسفل الصورة: (النقل والتخزين، التكرير والمعالجة، التسويق، الاكتشاف والإنتاج)

.....	التكرير والمعالجة

تابع ثانياً: الأسئلة اطلاقية:

١٤) أ - اكتب اسم الشخصية العُمانية أمام ما يناسبها من العبارتين في الجدول الآتي:

العبارة	اسم الشخصية العُمانية
عينه الخليفة عمر بن الخطاب قاضياً على البصرة.
وصف بأنه من خطباء العرب المشهورين.

ب - رسم أحد طلبة الصف السادس مفتاح لخريطة ما وكتب فيه دلالة الرموز ولكنه أخطأ في كتابة دلالة أحد الرموز اكتشف الخطأ الذي وقع فيه الطالب وصححه.

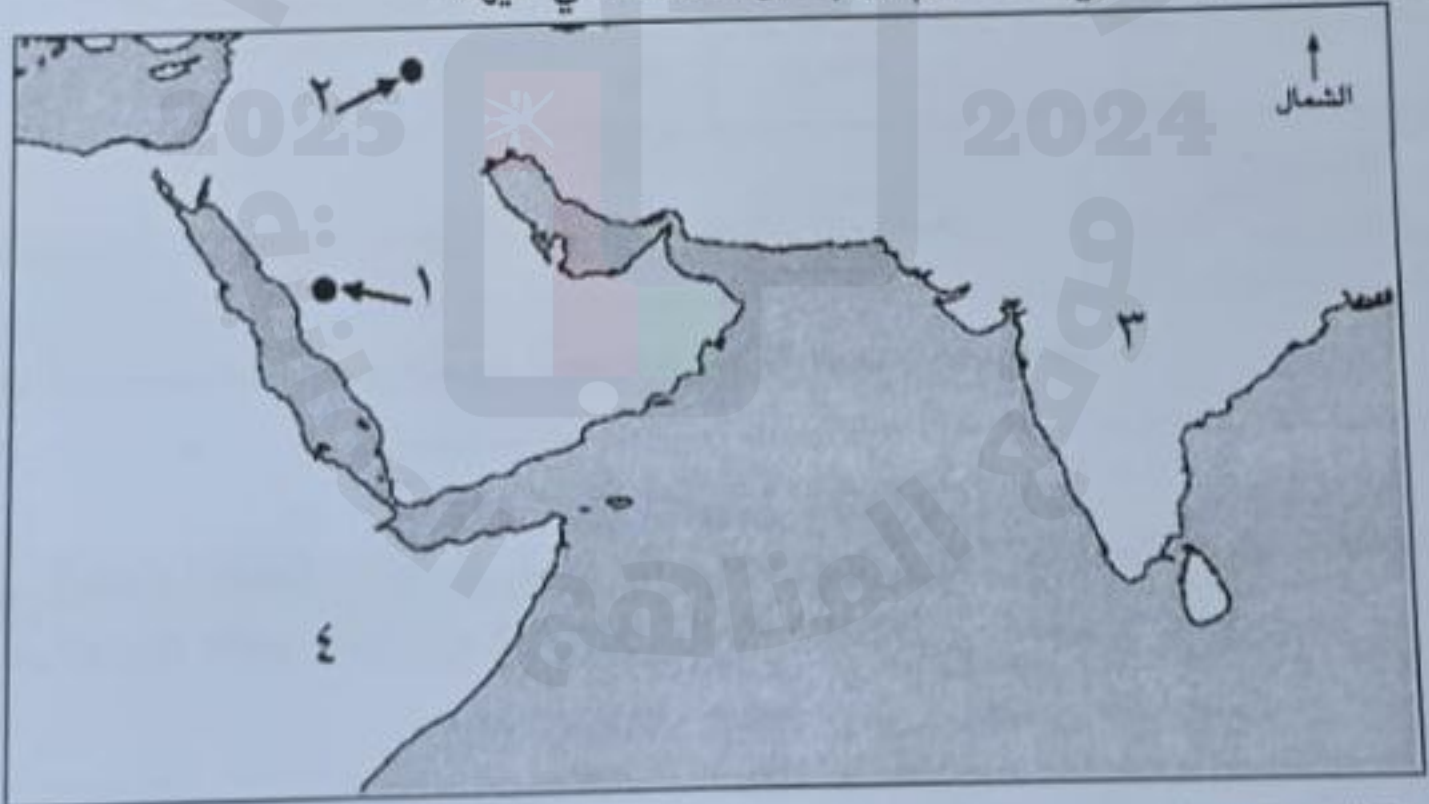


مفتاح الخريطة

١ - الدلالة الخطأ:

٢ - التصحيح:

ج - ادرس الخريطة التي أمامك ثم أجب عن الأسئلة التي تليها: -



١- رقم المدينة التي توجه إليها عبد بن الجلندي للتعزية في وفاة الرسول عليه الصلاة والسلام. ()

٢- الرقم الذي يشير إلى المنطقة التي جلب منها العُمانيون الأخشاب لصناعة السفن. ()

٣- اكتب المحيط الهندي في مكانه الصحيح على الخريطة.

الاسم: الأستلة المقالية:


الاسم: المصيق:

٧

١- وضح أهمية كتابة الأسماء الجغرافية في الخريطة: (يكتفى بالثنين)

٢- علل: إنشاء الأكاديمية السلطانية للإدارة.

ج - أمامك شكل يوضح نسب مساهمة بعض القطاعات النفطية وغير النفطية في الناتج المحلي الإجمالي لسلطنة عُمان لعام ٢٠٢٣ م، ادرسه جيداً ثم أجب عما يلي:



١ - رتب تنازلياً أكبر ثلاثة قطاعات مساهمة في الناتج المحلي الإجمالي.

١- ٢- ٣-

٢ - لتحقيق الأمن الغذائي لأسرتك اقترح مشروعاً يوفر الاحتياجات الغذائية لها.

تابع ثانياً: الأسئلة المقالية:

(١٦) أ. اذكر مثال لكل مما يلي:

١ - البنية التحتية التي عززت من قدرة سلطنة عُمان على جذب الاستثمارات المحلية والأجنبية.

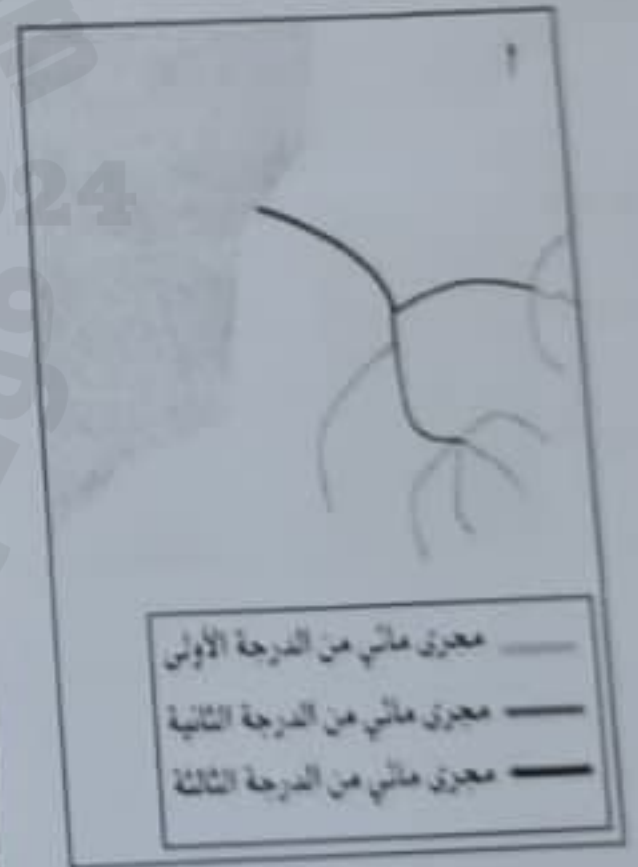
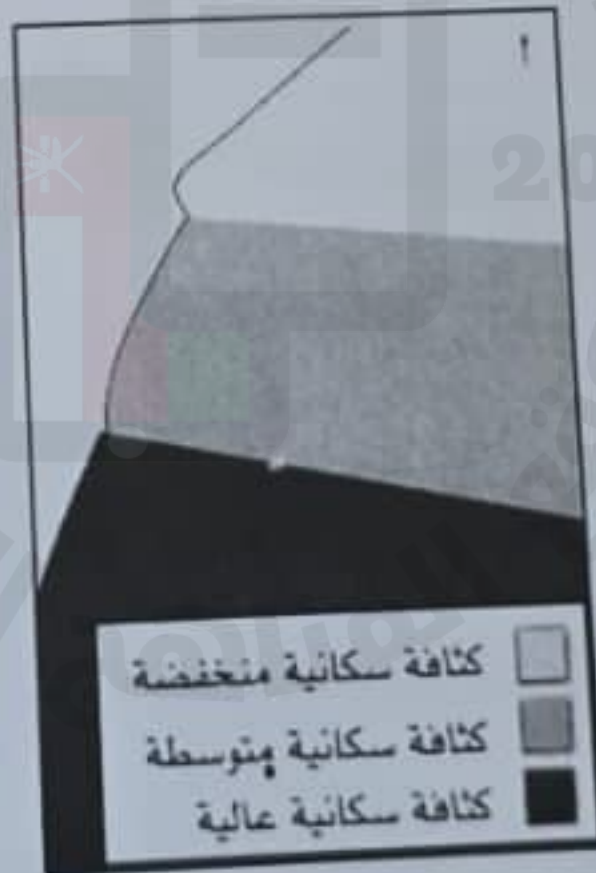
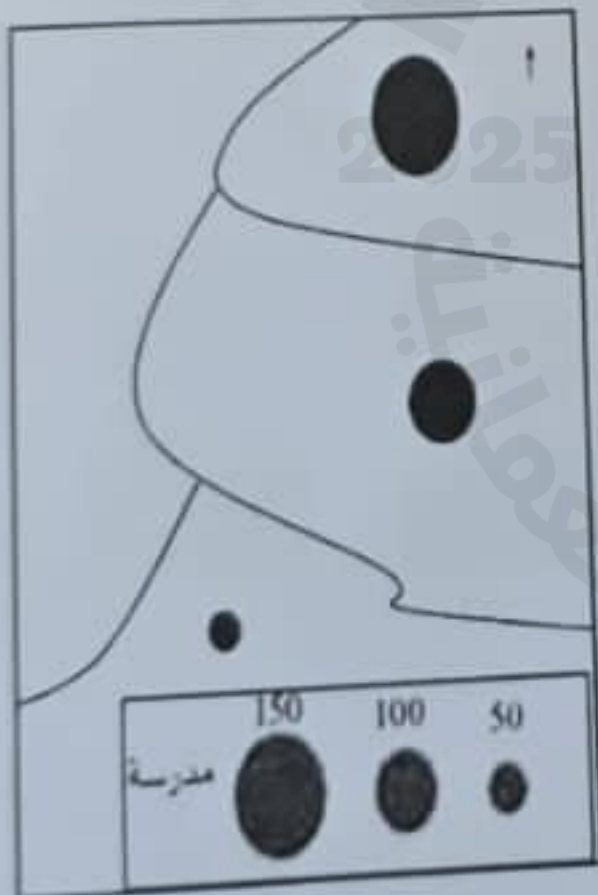
٢ - مشروع لوجستي لدعم مشاريع الصناعات التحويلية في ولاية بركاء.

ب - اكتب نقطتان لأهمية مشروع مصفاة الدقم.

١ -

٢ -

ج - صف الرموز بين القوسين (رمز نقطي كمي، رمز خطي كمي، رمز مساحي كمي) أسفل كل شكل من الأشكال الآتية:



انتهت الأسئلة مع الدعاء للجميع بالتوفيق والنجاح