

## شكراً لتحميلك هذا الملف من موقع المناهج العمانية



## اختبار قصير أول

[موقع المناهج](#) ← [المناهج العمانية](#) ← [الصف السادس](#) ← [علوم](#) ← [الفصل الثاني](#) ← [الملف](#)

## التواصل الاجتماعي بحسب الصف السادس



## روابط مواد الصف السادس على تلغرام

[الرياضيات](#)

[اللغة الانجليزية](#)

[اللغة العربية](#)

[التربية الاسلامية](#)

## المزيد من الملفات بحسب الصف السادس والمادة علوم في الفصل الثاني

<a href="#">الامتحان الرسمي النهائي بمحافظة الظاهرة</a>	1
<a href="#">الاختبار النهائي الرسمي في جميع المحافظات</a>	2
<a href="#">نموذج إجابة الاختبار النهائي الرسمي في محافظة جنوب الباطنة</a>	3
<a href="#">نموذج إجابة الامتحان الرسمي النهائي بمحافظة الداخلية</a>	4
<a href="#">الامتحان الرسمي النهائي بمحافظة الداخلية</a>	5



اسم الطالب : ..... الصف : .....

### اختبار قصير رقم ( 1 )

#### السؤال الأول :-

- (1) /1 اداة قياس الوزن هي :
- ميزان زنبركي       ميزان ذو كفتين       مسطرة       مخبر مدرج

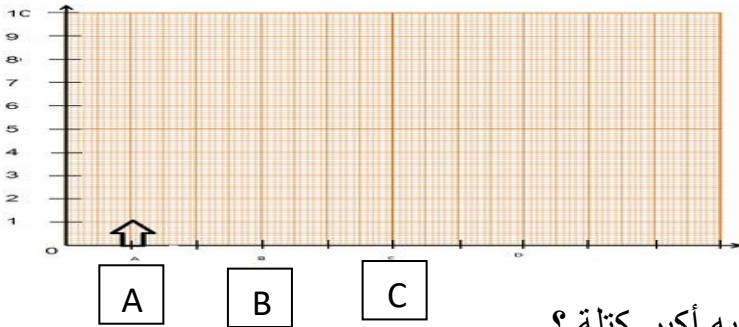
- (2) ضع علامة صح امام العبارة الصحيحة وعلامة خطأ امام العبارة الخاطئة:

العبارة	صح	خطأ
1 يؤدي الاحتكاك الى تسهيل حركة الأجسام		
2 عند فرك الأشياء بشدة يحدث احتكاك أقل		
3 يمنع الاحتكاك انزلاق الأجسام أثناء حركتها		
4 يولد الاحتكاك حرارة		

3/ تمثل A, B, C, D, F قوى مختلفة المقدار ثابتة الاتجاه حيث  $A=1N$ ,  $B=3N$ ,  $C=4N$

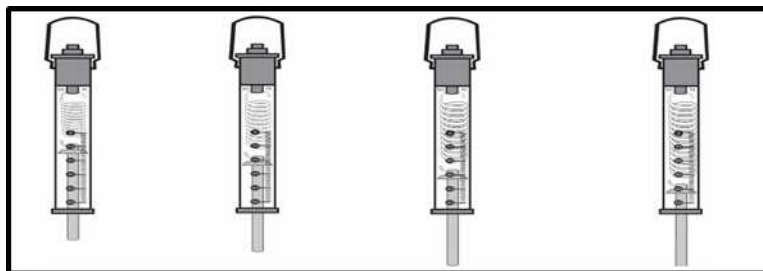
(1)

قم بتمثيلها على الرسم التالي



4) مستعينا بالشكل التالي، تنبأ أي الأوزان لديه أكبر كتلة ؟

D       C       B       A



## السؤال الثاني:-

1/ صل بخط بين مصطلح وما يناسبه

- الاحتكاك . مقدار قوة جذب الأرض للجسم .  
الشغل . قوة تقاوم تحرك سطح عكس اتجاه سطح اخر أثناء تلامسهما .  
(2) مقدار الطاقة المنقولة إلى جسم لتحريكه .

(2) لاحظ الصورة المقابلة القوى التي يوتر بها الشخص على السيارة تسمى: (1)



(3) انظر الصورة وسمي القوى المؤثرة على هبوط هذا الشخص (2)



(1)

(2)

السؤال الثالث :-

(1) اذكر مفهوم الكتلة؟

(1)

.....  
.....

(2)

(2) صل الصورة بالجملة المناسبة التي تصف تلك الصورة

العمود الثاني
تغير القوى اتجاه حركة الجسم
قوة جاذبية
قوة سحب
تغير القوى شكل الجسم

العمود الأول




(A)



(B)



(3) يوضح الشكل المقابل تصميمين للمضلة الهبوط

- أي التصميمين يعتبر افضل للاستخدام؟

.....

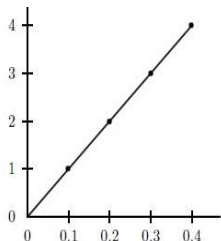
- فسر اجابتك؟

.....

(1)

.....

الشغل (جول)



(1)

القوة (نيوتن)

(4) استنتج من الرسم البياني نوعية العلاقة بين الشغل و القوة

طردية

عكسية

لا توجد علاقة

ثابتة