

تم تحميل هذا الملف من موقع المناهج العُمانية



* للحصول على أوراق عمل لجميع الصفوف وجميع المواد اضغط هنا

<https://almanahj.com/om>

* للحصول على أوراق عمل لجميع مواد الصف السادس اضغط هنا

<https://almanahj.com/om/6>

* للحصول على جميع أوراق الصف السادس في مادة اجتماعيات ولجميع الفصول, اضغط هنا

<https://almanahj.com/om/6social>

* للحصول على أوراق عمل لجميع مواد الصف السادس في مادة اجتماعيات الخاصة بـ الفصل الأول اضغط هنا

<https://almanahj.com/om/6social1>

* لتحميل كتب جميع المواد في جميع الفصول للـ الصف السادس اضغط هنا

<https://almanahj.com/om/grade6>

* لتحميل جميع ملفات المدرس علي بن محمد الحسان اضغط هنا

للتحدث إلى بوت على تلغرام: اضغط هنا

https://t.me/omcourse_bot

وقل رب زدني علما

الدراسات الاجتماعية
الصف السادس

2019 / 2020

الفصل الدراسي الأول

الوحدة الأولى

" درس أغلفة كوكب الأرض وعلاقتها بالإنسان "

(أسئلة وأجوبة)

إعداد:

علي بن محمد الحسان

للتواصل:

99493923
Ali 47536@moe.om

درس : أغلفة كوكب الأرض وعلاقتها بالإنسان





السؤال الأول : ضع علامة (✓) أو (X) أمام العبارة المناسبة مع تصحيح ما تحتها خط إذا كانت العبارة خطأ .

- ١- (X) يتكون النظام الأرضي من ستة أغلفة . " أربعة " (١٢)
- ٢- (X) تحتوي أغلفة النظام الأرضي مخزوناً هائلاً من الموارد الطبيعية المتجددة فقط . (١٢) المتجددة وغير المتجددة
- ٣- (✓) للإنسان دور كبير في المشكلات التي ظهرت في النظام الأرضي . (١٢)

السؤال الثاني : ضع دائرة حول الإجابة الصحيحة من بين البدائل المعطاه .

- ١- أسهم إستغلال الإنسان للموارد الطبيعية منذ القدم في (تراجع - تطور) العمران البشري على سطح الأرض (١٥)
- ٢- يتفاعل في صحراء الربع الخالي (ثلاثة - أربعة) أغلفة من النظام الأرضي . (١٥)
- ٣- أدى تزايد أعداد السكان في العالم والإفراط في إستغلال الموارد الطبيعية إلى (تلوث - تجدد) أغلفة النظام الأرضي (١٥)

السؤال الثالث : من خلال الرسوم التي أمامك أكتب تحت الصورة إسم الغلاف الدال عليها . (١٣)

			
الغلاف الحيوي	الغلاف الصخري	الغلاف المائي	الغلاف الجوي

السؤال الرابع : أكمل الجدول التالي بأمنلة من المشكلات البيئية التي ظهرت نتيجة لتزايد عدد السكان في اغلفة

النظام الأرضي (١٢)

الغلاف الحيوي	الغلاف الجوي	الغلاف المائي	الغلاف الصخري
تدهور النباتات الطبيعية والحياة البرية - انقراض الحيوانات	تلوث الهواء مثل السيارات والمصانع وعادم السيارات	تلوث المياه	انجراف التربة وتزايد الانهيارات الأرضية ، مثل الزلازل والبراكين

السؤال الخامس : علل " أذكر السبب .

س ١ : ظهور المشكلات البيئية في أغلفة النظام الأرضي (١٢)

ج ١ : بسبب تزايد أعداد السكان والإفراط في إستغلال الموارد الطبيعية

السؤال السادس : أجب عن الأسئلة التالية .

س ١ : ما علاقة الإنسان بأغلفة النظام الأرضي ؟ (١٢)

ج ١ : قد إستغل الإنسان الموارد الطبيعية لتلبية إحتياجاته من الغذاء والصناعة والطاقة .

س ٢ : أذكر الموارد الطبيعية لكل غلاف من اغلفة النظام الارضى (١٣)

ج ٢ : ١- الغلاف الصخري (المعادن والنفط)

٢ - الغلاف المائي (البحار والمحيطات والثروات البحرية)

٣ - الغلاف الجوي (بخار الماء والغازات المختلفة والامطار والثلوج)

٤ - الغلاف الحيوي (الانسان والحيوان والنبات)

س ٣ : ما المقصود بالغلاف الصخري ؟ وما أهميته (١٥)

ج ٣ : هي الصخور المكونة للقشرة الارضية ويحيط هذا الغلاف بالكرة الارضية إحاطة تامة ، وتأتي أهمية الغلاف الصخري بسبب إرتباطه الوثيق بالظواهر التضاريسية والتربة ولكونه يحتوي على موارد طبيعية هامة كالمعادن والنفط والمياة .