

تم تحميل هذا الملف من موقع المناهج العُمانية



*للحصول على أوراق عمل لجميع الصفوف وجميع المواد اضغط هنا

<https://almanahj.com/om>

* للحصول على أوراق عمل لجميع مواد الصف السادس اضغط هنا

<https://almanahj.com/om/6>

* للحصول على جميع أوراق الصف السادس في مادة رياضيات ولجميع الفصول, اضغط هنا

<https://almanahj.com/om/6math>

* للحصول على أوراق عمل لجميع مواد الصف السادس في مادة رياضيات الخاصة بـ الفصل الثاني اضغط هنا

<https://almanahj.com/om/6math2>

* لتحميل كتب جميع المواد في جميع الفصول للـ الصف السادس اضغط هنا

<https://almanahj.com/om/grade6>

للتحدث إلى بوت على تلغرام: اضغط هنا

https://t.me/omcourse_bot

الاسم:

الصف:

سلطنة عمان

وزارة التربية والتعليم

المديرية العامة لمحافظة شمال الباطنة

٢٠

القياس ١

حصيلتي ١


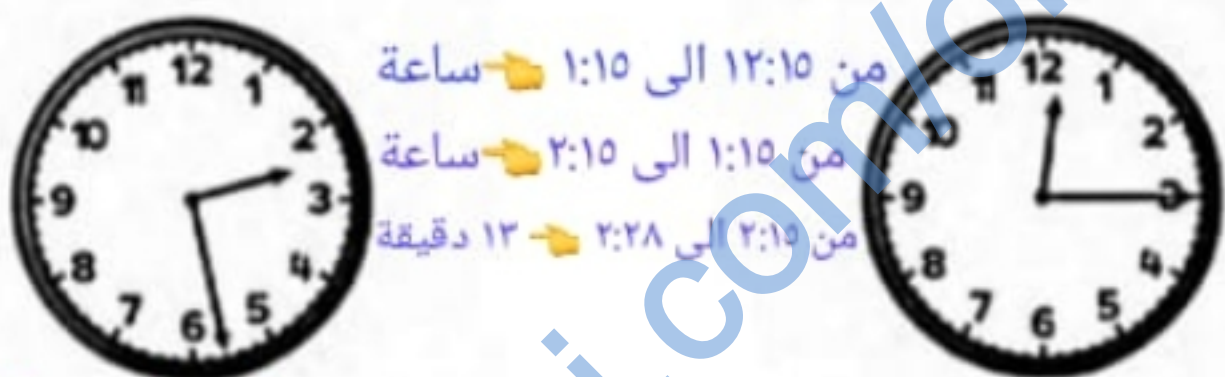

محور

لمادة الرياضيات للصف السادس للفصل الدراسي الثاني

يمنع استخدام الآلة الحاسبة

الزمن: ٢٠ دقيقة

[١]	أكمل : ٢٩٠٥ مل = ٧ لتر + ٩٠٥ مل	١
[١]	رتب من الأصغر إلى الأكبر: $٧٥٠٠ \div ١٠٠٠ = ٧.٥$ لتر $٣٥٠٠ \div ١٠٠٠ = ٣.٥$ لتر ١,٤٥ لتر ٩ لتر ٧٥٠٠ مل ٣٥٠٠ مل	٢
[١]	اكتب ما يشير إليه المقياس : ٢٤٠٠ كغم	٣
[١]	الكتلة = غم	
[١]	اكتب ما يشير إليه المقياس : ١٠٠٠ لتر	٤
[١]	٥٥٠ مل	
[١]	٥٠ مل	

	<p>هذه مقادير كعكة ل ٥ أشخاص :</p> <p>$10 = 2 \times 5$ $50 = 2 + 20$</p> <p>كمية الحليب ل ١٠ أشخاص = ٥٠ مل [١]</p> <p>$270 = 6 \times 45$ $30 = 6 \times 5$</p> <p>كمية الزبدة ل ٣٠ شخص = ٢٧٠ كغم [١]</p> <p>$10 = 5 \div 0.5$</p> <p>كمية الدقيق لشخص واحد = ١٠ غم [١]</p> 	٥
	<p>اكتب المدة الزمنية لفترة المذاكرة لجمان إذا علم أن:</p> <p>وقت البدء (مساءً) وقت الانتهاء (مساءً)</p>  <p>من ١٢:١٥ إلى ١:١٥ ساعة من ١:١٥ إلى ٢:١٥ ساعة من ٢:١٥ إلى ٢:٢٨ ١٣ دقيقة</p> <p>ساعتان و ١٣ دقيقة [١]</p>	٦
	<p>ضع علامة > أو < أو =</p> <p>٥٧٦٠ أيام > ٦٠٠٠ دقيقة</p> <p>١٠٠٨٠ أسبوع واحد > ١٧٠ ساعة</p> <p>$10200 = 6 \times 1700$</p> <p>٢٤ س ١٤٤٠ = ٦٠ × ١٤٤٠ ١٤٤٠ × ٤ يوم = ٥٧٦٠ د</p> <p>١٤٤٠ × ٧ يوم = ١٠٠٨٠ د [٢]</p>	٧
	<p>حوط على الاجابة الصحيحة</p> <p>الساعة الثالثة إلا ربع بنظام ٢٤ ساعة هي:</p> <p>٣:٤٥ ١٥:٤٥ ١٤:١٥</p> <p>١٤:٤٥ [١]</p>	٨
	<p>دخل محمد مطار مسقط الدولي متجها إلى نيودلهي فنظر إلى الساعات التالية في المطار</p> <p>الفرق = ساعة ونصف</p>  <p>٨:٣٥ نيودلهي (الخميس) ٧:٠٥ مسقط (الخميس)</p> <p>إذا كانت الساعة ١٠:٥ صباحا بتوقيت مسقط فإن الساعة بتوقيت نيودلهي تشير إلى الساعة..... [١]</p> <p>٦:٤٠</p>	٩



- فرق التوقيت بين مسقط وأولان باتور هو ساعة [٣]
- فرق التوقيت بين لاغوس ونيويورك هو ساعة [١]

• يقول هشام أنه إذا كانت الساعة في نواكشوط تشير إلى ١٠:٣٠، فإن الساعة في نيويورك تشير إلى الساعة ١٠:٣٠ من

لان التوقيت في

نواكشوط متقدم



صحيح

هل ما قاله هشام

التفسير:

[٢] سوف تشير الى

عن التوقيت في

الساعة ٢:٣٠ ص

نيويورك

احسب مساحة ومحيط الشكل المقابل:



مساحة الشكل = سم^٢ [١]

محيط الشكل = سم [١]