

تم تحميل هذا الملف من موقع المناهج العمانية



أساسيات المادة الحصة الثانية

موقع فايلاتي ← المناهج العمانية ← الصف السادس ← رياضيات ← الفصل الأول ← ملفات متنوعة ← الملف

تاريخ إضافة الملف على موقع المناهج: 2024-11-21 22:23:39

ملفات اكتب للمعلم اكتب للطالب الاختبارات الكترونية | اختبارات | حلول | عروض بوربوينت | أوراق عمل
منهج انجليزي | ملخصات و تقارير | مذكرات و بنوك | الامتحان النهائي للمدرس

المزيد من مادة
رياضيات:

التواصل الاجتماعي بحسب الصف السادس



صفحة المناهج
العمانية على
فيسبوك

الرياضيات

اللغة الانجليزية

اللغة العربية

التربية الاسلامية

المواد على تلغرام

المزيد من الملفات بحسب الصف السادس والمادة رياضيات في الفصل الأول

أساسيات المادة	1
مراجعة شاملة على الوحدة الأولى الأعداد	2
اختبار قصير أول من أنا أحب الرياضيات	3
اختبار قصير أول	4
مراجعة على الوحدة الأولى الأعداد	5



أساسيات مادة الرياضيات

6

للصف

الحصة الثانية



99792834



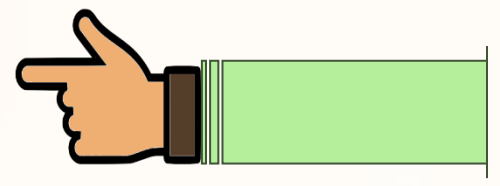
t.jasemmath



قلم وعلم التعليمية



من أهم الأساسيات التي سوف نحتاجها للاستعداد لمنهج الصف السادس أيها العباقرة :



١- القيمة المكانية .

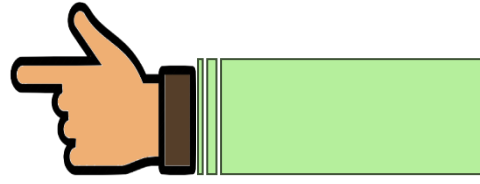
٢- التقريب .

٣- الترتيب .

٤- المضاعفات والعوامل .



القيمة المكانية :



ملايين			آلاف			مئات			الأجزاء العشرية		
مئات	عشرات	آحاد	مئات	عشرات	آحاد	مئات	عشرات	آحاد	جزء من ألف	جزء من مائة	جزء من عشرة
										✓	✓



ما قيمة الرقم 7 في هذه الأعداد؟

(د) ٢٣٤٥٦٠,٠٧
٧٠٠

(ج) ٦٠٦٤٥٦,٧
٧٠

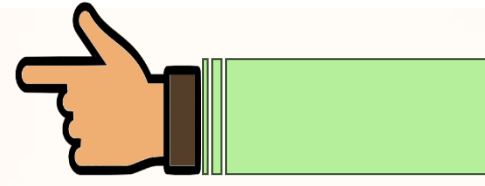
(ب) ٧٠٢١٣٨
٧٠٠٠٠٠

(أ) ٦٧٠٣٤٦,٥
٧٠٠٠٠٠

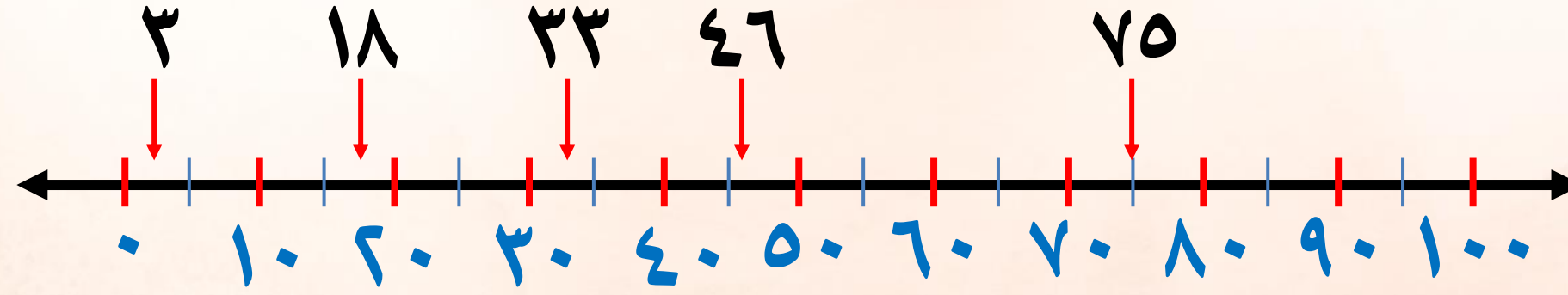




التقريب :

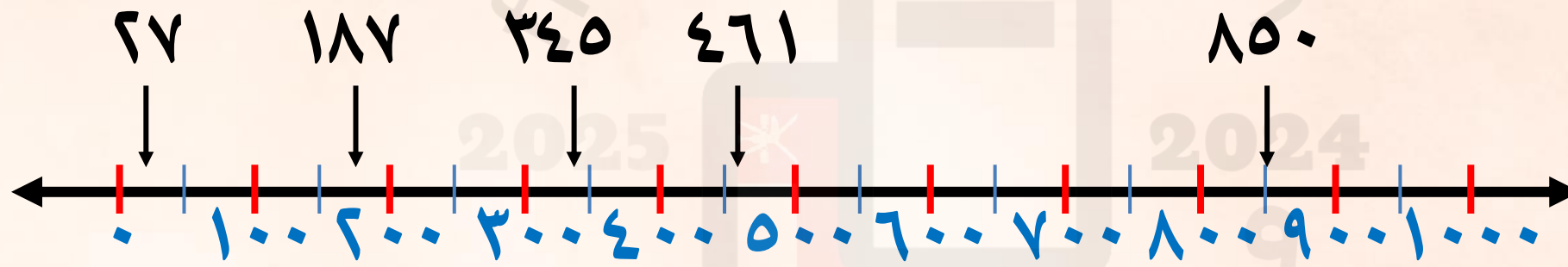


التقريب لأقرب ١٠ □



العدد ١٨ لأقرب ١٠ = ٢٠
العدد ٣٣ لأقرب ١٠ = ٣٠
العدد ٤٦ لأقرب ١٠ = ٥٠
العدد ٧٥ لأقرب ١٠ = ٨٠
العدد ٣ لأقرب ١٠ = ٠

التقريب لأقرب ١٠٠ □



العدد ١٨٧ لأقرب ١٠٠ = ٢٠٠
العدد ٣٤٥ لأقرب ١٠٠ = ٣٠٠
العدد ٤٦١ لأقرب ١٠٠ = ٥٠٠
العدد ٨٥٠ لأقرب ١٠٠ = ٩٠٠
العدد ٢٧ لأقرب ١٠٠ = ٠



الأعداد الكريمة: ٥ ، ٦ ، ٧ ، ٨ ، ٩
البخيلة: ٠ ، ١ ، ٢ ، ٣ ، ٤ ، ٥

التقريب لأقرب

١٠ أو
١٠٠ أو
١٠٠٠

قرب كلا مما يلي لأقرب ١٠ :-

$$\begin{array}{r} 1237 \\ \underline{1240} \end{array}$$

$$\begin{array}{r} 3654 \\ \underline{3650} \end{array}$$

قرب كلا مما يلي لأقرب ١٠٠ :-

$$\begin{array}{r} 1237 \\ \underline{1200} \end{array}$$

$$\begin{array}{r} 3654 \\ \underline{3700} \end{array}$$

قرب كلا مما يلي لأقرب ١٠٠٠ :-

$$\begin{array}{r} 1237 \\ \underline{1000} \end{array}$$

$$\begin{array}{r} 3654 \\ \underline{4000} \end{array}$$

$$\begin{array}{r} 3500 \\ \underline{3500} \end{array}$$


$$\begin{array}{r} 3500 \\ \underline{3500} \end{array}$$

$$\begin{array}{r} 3500 \\ \underline{4000} \end{array}$$





انتهى الدرس



لتكون ناجحاً لا تصاحب إلا شخصاً
إيجابياً وابتعد عن المبهطين

