

شكراً لتحميلك هذا الملف من موقع المناهج العمانية




اختبار قصير ثاني

[موقع المناهج](#) ← [المناهج العمانية](#) ← [الصف السادس](#) ← [اجتماعيات](#) ← [الفصل الأول](#) ← [الملف](#)

تاريخ نشر الملف على موقع المناهج: 21:11:51 2023-11-14

التواصل الاجتماعي بحسب الصف السادس



روابط مواد الصف السادس على تلغرام

[الرياضيات](#)

[اللغة الانجليزية](#)

[اللغة العربية](#)

[التربية الاسلامية](#)

المزيد من الملفات بحسب الصف السادس والمادة اجتماعيات في الفصل الأول

[اختبار قصير أول نموذج ثاني](#)

1

[اختبار قصير أول](#)

2

[مشروع بنك الأسئلة مع الإجابات](#)

3

[مراجعة الوحدة الثالثة الغلاف الجوي والمائي](#)

4

[حصاد الوحدة الأولى الغلاف الصخري](#)

5



سلطنة عمان

وزارة التربية والتعليم

المديرية العامة للتربية والتعليم بمحافظة شمال الشرقية

الصف /

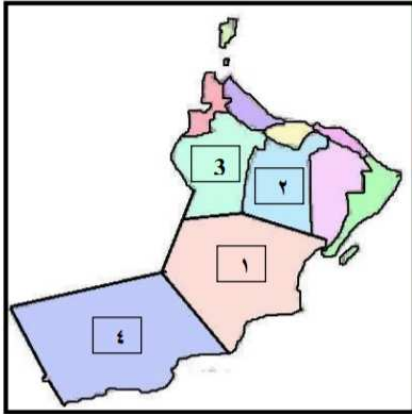
مدرسة النبا للتعليم الأساسي

اسم الطالب

اختبار قصير (2) للصف السادس لمادة الدراسات الاجتماعية للعام

السؤال الأول : أختَر الإجابة الصحيحة من بين البدائل المعطاة : (5 درجات)

1- الرقم الذي يشير على المحافظة التي يوجد بها مسجد المضمار كما في الصورة:



1- 1

2- 2

ج- 3

د- 4

2- تعرف الطبقة التي تحمل رقم (2) في الغلاف الجوي كما في الشكل :



1- التروبوسفير

2- الأستراتوسفير

ج- الميزوسفير

د- الثرموسفير

3- يعرف الغاز الأكثر نسبة في الغلاف الجوي كما في الشكل :

1- الأوكسجين

2- الأرجون

ج- ثاني أكسيد الكربون

د- النيتروجين

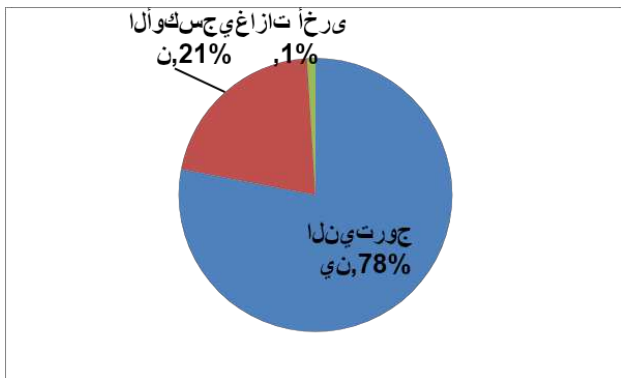
4- قامت دولة الأمويين في الأندلس عام:

أ- 132هـ

ب- 138هـ

د- 280هـ

ج- 177هـ



5- أولى محاولة طيران في التاريخ قام بها المسلم :

السؤال الثاني : أجب على الأسئلة التالية : (6 درجات)

1- رتب الأحداث التاريخية التالية من الأقدم إلى الأحدث بوضع الرقم الصحيح في المربع :

<input type="checkbox"/>	←	1- تمكن عبد الرحمن من دخول قرطبة ظافرا.
<input type="checkbox"/>	←	2- محاولة ابو جعفر المنصور استعادة الاندلس الى سيادة الدولة العباسية.
<input type="checkbox"/>	←	3- سقوط الخلافة الأموية بدمشق.
<input type="checkbox"/>	←	4- توجه عبدالرحمن بن معاوية إلى شمالي افريقيا واختبائه عند اخواله البربر.

2- أذكر اسم الشخصية الدالة على كل عبارة من العبارات الآتية :

- 1- إمام عماني تمكن الأسطول في عهده من تحرير جزيرة سقطرى من الأحباش (.....)
 2- مؤسس الدولة الأموية في الأندلس (.....)

السؤال الثالث : أجب على الأسئلة التالية (4 درجات)

1- أكمل المسطرة الزمنية التي توضح الإمامة في عمان:

.....	قيام الإمامة الثانية في عمان	انتهاء الإمامة الأولى في عمان
٢٨٠ هـ	١٣٢ هـ

ب- أمامك بعض خصائص طبقات الغلاف الجوي ، اكتب اسم الطبقة أمام كل خاصية :

- 1- تحترق فيها الشهب والنيازك المندفعة من الفضاء نحو الأرض . (.....)
 2- يفضل قاندي الطائرات الطيران فيها . (.....)
 3- تتزايد فيها درجات الحرارة عن ١٠٠٠ درجة سيليزية (.....)
 4- تحدث فيها التغيرات الجوية (.....)

ج- من خلال الخريطة أجب على الأسئلة التالية



1- البلاد التي بعث النبي الكريم لها عمرو بن العاص لدعوة أهلها للإسلام.؟

2- في أي جهة توجد عمان بالنسبة للمدينة المنورة؟ أختار الجهة