

تم تحميل هذا الملف من موقع المناهج العُمانية



\* للحصول على أوراق عمل لجميع الصفوف وجميع المواد اضغط هنا

<https://almanahj.com/om>

\* للحصول على أوراق عمل لجميع مواد الصف السادس اضغط هنا

<https://almanahj.com/om/6>

\* للحصول على جميع أوراق الصف السادس في مادة اجتماعيات ولجميع الفصول, اضغط هنا

<https://almanahj.com/om/6social>

\* للحصول على أوراق عمل لجميع مواد الصف السادس في مادة اجتماعيات الخاصة بـ الفصل الثاني اضغط هنا

<https://almanahj.com/om/6social2>


\* لتحميل كتب جميع المواد في جميع الفصول للـ الصف السادس اضغط هنا

<https://almanahj.com/om/grade6>

\* لتحميل جميع ملفات المدرس علي بن محمد الحسان اضغط هنا

للتحدث إلى بوت على تلغرام: اضغط هنا

[https://t.me/omcourse\\_bot](https://t.me/omcourse_bot)



**مذكرة إثرائية لمادة  
الدراسات الاجتماعية**

**2020-2021**

**الصف السادس**

**الفصل الدراسي الثاني  
الوحدة الرابعة**

**( الغلاف الحيوي والنظم البيئية )**

**أسئلة**

**إعداد :**

**علي بن محمد الحسان**

**للتواصل :**

**99493923**

**Ali 47536@moe.om**

**درس : مكونات الغلاف الحيوي وأهميته****السؤال الأول : ضع علامة (✓) أو (X) أمام العبارة المناسبة مع تصحيح ما تحته خط إذا كانت العبارة خطأ.**

- ١- ( ) يشمل الغلاف الحيوي النباتات الطبيعية والكائنات الحية الأخرى على سطح الأرض .
- ٢- ( ) لا يوجد اية علاقة بين الغلاف الحيوي لمنطقة ما والخصائص الطبيعية لتلك المنطقة .
- ٣- ( ) ترتبط النباتات الطبيعية والحيوانات البرية مع بعضها بعلاقات غير محددة .
- ٤- ( ) توجد محمية السلاحف في سلطنة عمان في جدة الحراسيس .
- ٥- ( ) يأخذ النظام البيئي اسمه تبعا لنوع النباتات الطبيعية السائدة فيه .

**السؤال الثاني : ضع دائرة حول الإجابة الصحيحة من بين البدائل المعطاه .**

- ١- تؤدي عملية التمثيل الضوئي الى اطلاق غاز ( ثاني اكسيد الكربون - الاكسجين ) الى الجو .
- ٢- يعني ظهور النباتات الطبيعية الكثيفة ( وفرة - فقر ) المراعي في المنطقة .
- ٣- تسهم الغابات في توفير ( الاخشاب - العاج ) الذي يستخدم في صناعات مختلفة .
- ٤- تلعب الغابات الطبيعية دورا بارزا في ( تلطيف - زيادة ) المناخ .
- ٥- تأثرت النظم البيئية في الفترة الحديثة بسبب ( تزايد - تناقص ) اعداد السكان في العالم .
- ٦- من مظاهر تدمير الغلاف الحيوي ( تناقص - تزايد ) مساحات الغابات في العالم .

**السؤال الثالث : أكمل العبارات التالية بكلمات مناسبة من عندك**

- ١- قد تكون المحميات ..... مثل محمية المها العربي في جدة الحراسيس أو محمية ..... مثل محمية السلاحف في رأس الحد
- ٢- يشمل الغلاف الحيوي الإنسان و ..... و ..... على اليابس والماء .
- ٣- تقوم النباتات الطبيعية بإطلاق كميات كبيرة من ..... إلى الجو خلال عملية .....



**السؤال الرابع : أجب عن الأسئلة التالية .**

س ١ : على ماذا يشمل الغلاف الحيوى ؟

ج ١ : .....

س ٢ : ماذا يقصد بالنظام البيئي ؟

ج ٢ : .....

س ٣ : " للغلاف الحيوى اهمية وفوائد كبرى للإنسان " اذكر ثلاثة منها ؟

ج ٣ : ١ - .....

٢ - .....

٣ - .....

س ٤ : " تأثرت النظم البيئية فى مناطق عديدة من العالم بالأنشطة البشرية وزيادة أعداد السكان " اذكر ثلاث من المشكلات البيئية

التي ظهرت فى الغلاف الحيوى نتيجة لذلك ؟

ج ٤ : .....

.....

س ٥ : " تقوم السلطنة بحماية الغلاف الحيوى من خلال انشاء المحميات البرية " ما المقصود بالمحمية ؟

ج ٥ : .....

.....

س ٦ : اذكر أهم محميتين طبيعيتين فى سلطنة عمان ؟

ج ٦ : .....

.....

س ٧ : اذكر ثلاث من أهم المشكلات التي تواجهها النظم البيئية فى سلطنة عمان ؟

ج ٧ : .....

.....

س ٨ : ماذا يقصد بالتنوع الأحيائي ؟

ج ٨ : .....

.....

**درس : العوامل المؤثرة في توزيع النظم البيئية الأرضية**

**السؤال الأول : ضع علامة (✓) أو (X) أمام العبارة المناسبة مع تصحيح ما تحته خط إذا كانت العبارة خطأ .**

- ١- ( ) أفضل درجة حرارة لنمو النباتات الطبيعية تلك التي تتراوح بين ١٠-٣٥ سن .
- ٢- ( ) يزدهر نمو النباتات الطبيعية وتزداد كثافتها مع تزايد الارتفاع عن مستوى سطح البحر .
- ٣- ( ) كلما زاد ميل السفوح تصبح التربة قليلة السمك وفقيرة من النباتات الطبيعية .

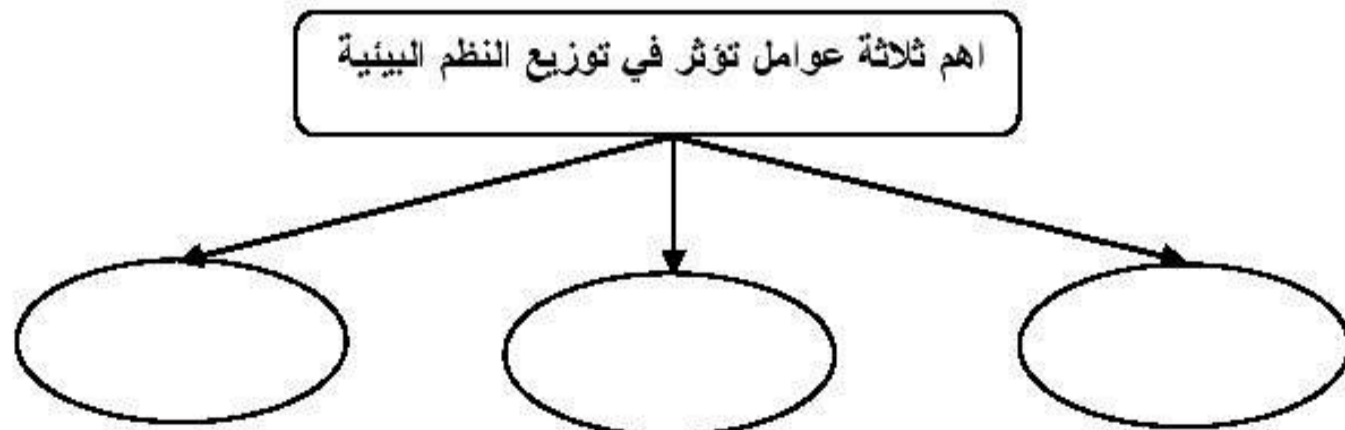
**السؤال الثاني : ضع دائرة حول الإجابة الصحيحة من بين البدائل المعطاه .**

- ١- تنمو الغابات عندما تكون كميات الامطار ( قليلة - كبيرة ) وفصل الجفاف ( قصيرا - طويلا ) .
- ٢- تنمو الحشائش عندما تكون كميات الامطار ( قليلة - متوسطة ) وفصل الجفاف ( قصيرا - طويلا ) .
- ٣- تظهر الصحاري عندما ( تكثر - تندر ) الامطار ويمتد الجفاف على طول السنة .

**السؤال الثالث : أكمل الجدول التالي :**

العوامل التي تؤثر على النظم البيئية " النباتات الطبيعية "	طبيعة التأثير ونوعيته
المناخ	
التضاريس وأشكال السطح	
التربة	

**السؤال الرابع : اكمل الشكل التالي بكتابة اهم العوامل المؤثرة في توزيع النظم البيئية على سطح الارض .**





### درس : انجراف التربة

**السؤال الأول : ضع علامة (✓) أو (X) أمام العبارة المناسبة مع تصحيح ما تحته خط إذا كانت العبارة خطأ**

- ١- ( ) التربة مورد طبيعي مهم وبدونها لا تنمو المحاصيل الزراعية .
- ٢- ( ) يمكن أن ترعى الحيوانات حتى بدون وجود غطاء التربة .
- ٣- ( ) يتكون غطاء التربة ببطء شديد يحتاج إلى آلاف السنين .
- ٤- ( ) زادت مشكلة انجراف التربة في القرن الماضي بسبب الأنشطة البشرية .


**السؤال الثاني : أكمل ما يلي :**

- الانجراف عملية طبيعية تسهم في إزالة غطاء التربة إما بفعل ..... للمياه أو ..... أو ..... معا .

**السؤال الثالث : أكمل الجدول التالي بوضع علامة (✓) في النوع المناسب للعوامل التالية :**


العامل	النوع	
	مناخي	تضاريسي
الرياح		
إزالة الغابات		
الأمطار		
ميل السفوح		

**السؤال الرابع : من خلال الرسمة التالية ضع رقم المصطلح المناسب على الشكل الصحيح في الدوائر الموجودة في الرسم :**



- ١- الحراثة السليمة .
- ٢- زراعة محاصيل مختلفة .
- ٣- مصدات الرياح .
- ٤- التحريج .
- ٥- المدرجات الزراعية .
- ٦- الرعي المنظم .

**السؤال الخامس : أكتب تحت الصورة العامل الرئيسي لإنجراف التربة .**



**السؤال السادس : اكمل الشكل بكتابة عاملين من العوامل التالية والتي تساعد على انجراف التربة .**

العوامل المناخية	العوامل التضاريسية	العوامل البشرية

**السؤال السابع : أجب عن السؤال التالي :**

**س : أذكر ثلاثة حلول لصيانة التربة من الانجراف ؟**

- .....
- .....
- .....



### درس : تدهور النباتات الطبيعية

#### السؤال الأول : ضع علامة (✓) أو (X) أمام العبارة المناسبة مع تصحيح ما تحته خط إذا كانت العبارة خطأ

- ١- ( ) قطع مساحات كبيرة من الغابات يؤدي إلى زيادة الأمطار وحماية التربة من الانجراف .
- ٢- ( ) من استخدامات أشجار الغابات توفير الأخشاب واستخدام الحطب كوقود وصناعة الورق .
- ٣- ( ) تموت نسبة كبيرة من أشجار الغابات في معظم الدول الصناعية بسبب تلوث الهواء .
- ٤- ( ) اختير جلالة السلطان قابوس طيب الله ثراه للتحدث باسم العرب في مؤتمر البيئة في البرازيل المعروف باسم قمة السماء .

#### السؤال الثاني : ضع دائرة حول الإجابة الصحيحة من بين البدائل المعطاه :

- ١- تظهر مساحات كبيرة من الغابات الطبيعية في المناطق ( القريبة - النائية ) من بعض الدول والأحواض النهرية .
- ٢- يشكل الحطب حوالي ( ٨٠ % - ٩٠ % ) من الطاقة المستخدمة للطبخ والتدفئة في عدد من الدول الفقيرة .
- ٣- تقطع مساحات كبيرة من الغابات لتحويل أراضيها إلى ( ملاعب كرة القدم - أراضي زراعية )
- ٤- الرعي الجائر هو ( زيادة - نقصان ) حيوانات الرعي بالمقارنة مع كمية الأعشاب التي يوفرها المرعى .
- ٥- يؤدي الرعي لفترة طويلة في نفس المرعى إلى ( تحلل - هلاك ) النباتات الرعوية .
- ٦- يسهم الرعي الجائر في ( تخفيف - زيادة ) الجريان السطحي وانجراف التربة .

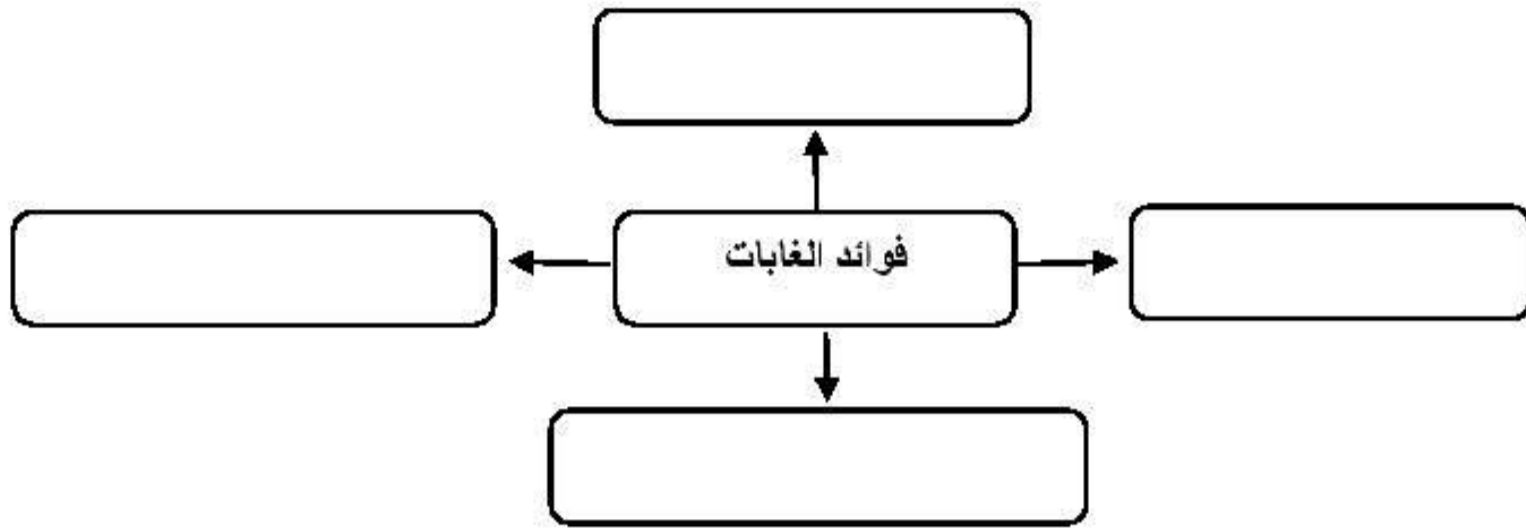
#### السؤال الثالث : أنقل الرقم المناسب وضعه في الدائرة الدال على الصورة :



- ١- مكافحة الحرائق
- ٢- التحريج
- ٣- الرعي الجائر
- ٤- الرعي المنظم



**السؤال الرابع : أكمل الشكل التالي بفوائد الغابات .**



**السؤال الخامس : أجب عن الأسئلة التالية :**

س ١ : أذكر طريقتين يتم من خلالهما صيانة الغابات ؟

ج ١ : .....  
.....

س ٢ : "تشكل الغابات والحشائش موردا طبيعيا مفيدا للإنسان" ؟ وضح ذلك ؟

ج ٢ : .....  
.....  
.....

س ٣ : ماهي الأضرار التي تتعرض لها المناطق الرعوية في العالم من الرعي الجائر ؟

ج ٣ : .....  
.....  
.....

س ٤ : كيف يمكن صيانة المراعي والمحافظة عليها ؟

ج ٤ : .....  
.....  
.....

س ٥ : ما هو دور الحكومة الرشيدة في السلطنة من حماية النباتات الطبيعية ؟

ج ٥ : .....

س ٦ : " حضيت السلطنة باهتمام كبير من دول العالم في حفاظها على العناية بصون البيئة " أذكر مثالين على هذا الاهتمام ؟

ج ٦ : .....

almanahj.com/om