

تم تحميل هذا الملف من موقع المناهج العمانية



الملف اختبار قصير أول نموذج أول وفق محافظة جنوب الباطنة

[موقع المناهج](#) ⇨ [المناهج العمانية](#) ⇨ [الصف السادس](#) ⇨ [لغة عربية](#) ⇨ [الفصل الأول](#)

روابط مواقع التواصل الاجتماعي بحسب الصف السادس



روابط مواد الصف السادس على تلغرام

[الرياضيات](#)

[اللغة الانجليزية](#)

[اللغة العربية](#)

[التربية الاسلامية](#)

المزيد من الملفات بحسب الصف السادس والمادة لغة عربية في الفصل الأول

<a href="#">امتحان وإجابة الأسئلة الرسمية للفصل الدراسي الأول الدور الأول 20162017</a>	1
<a href="#">تلخيص دروس النحو والاملاء</a>	2
<a href="#">نموذج أسئلة وإجابة الامتحان التجريبي في محافظة جنوب الباطنة للفصل الدراسي الأول الدور الأول 20182017</a>	3
<a href="#">تحليل نص حنة عمان</a>	4
<a href="#">شرح نص الشعر وقصيدة مدرسة الاخلاق</a>	5



المديرية العامة للتربية والتعليم بمحافظة جنوب الباطنة  
دائرة التقويم التربوي  
قسم مراقبة وتقويم التحصيل الدراسي  
امتحان مادة الدراسات الاجتماعية للصف السادس

للعام الدراسي ١٤٣٩/١٤٤٠هـ - ٢٠١٨/٢٠١٩م

الدور الاول - الفصل الدراسي الاول

- زمن الامتحان : ( ساعة ونصف )
- عدد صفحات أسئلة الامتحان: (٨) صفحات.
- الإجابة في الدفتر نفسه .

اسم الطالب	
المدرسة	الصف

السؤال	الدرجة		التوقيع بالاسم	
	بالأرقام	بالحروف	المصحح الأول	المصحح الثاني
١				
٢				
٣				
٤				
٥				
المجموع			جمعه	مراجعة الجمع
المجموع الكلي				

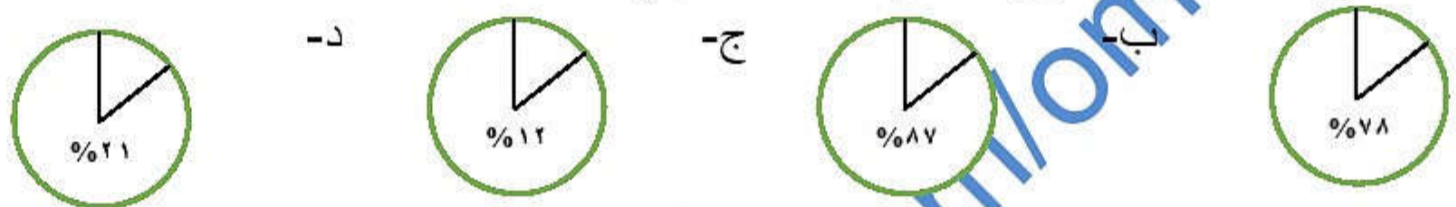
السؤال الأول: ضع دائرة حول رمز الإجابة الصحيحة من بين البدائل المعطاه:

١. مؤسس الدولة الأموية في الاندلس :-  
 أ- معاوية بن ابي سفيان  
 ب- عبد الرحمن بن معاوية  
 ج- يزيد بن معاوية  
 د- هشام بن عبد الملك

٢. يشير الرمز المقابل المستخدم في النشرة الجوية في سلطنة عمان إلى  
 أ- امطار رعدية  
 ب- جو غائم  
 ج- جو غائم جزئيا  
 د- جوممطر



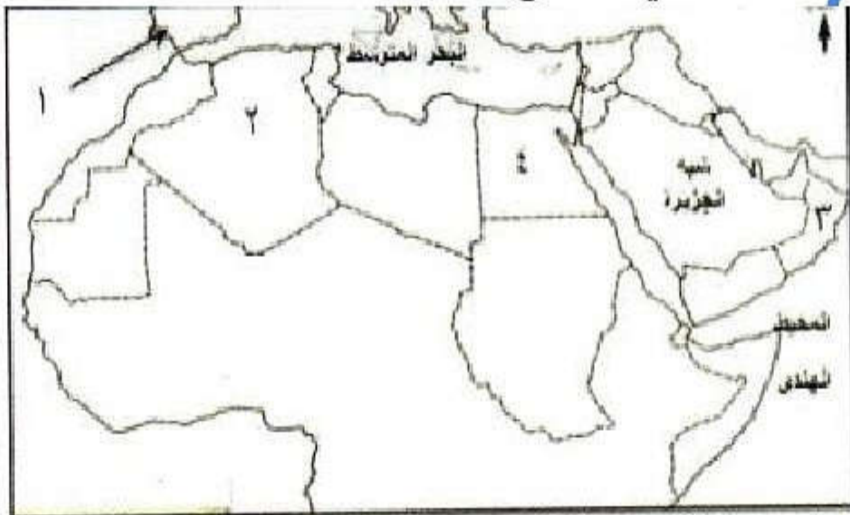
٣. الشكل الصحيح لنسبة غاز النيتروجين في الغلاف الجوي :



٤. هزات ارضية قصيرة سريعة متتالية تضرب سطح الأرض:-

- أ- الزلازل  
 ب- الالتواءات  
 ج- الانكسارات  
 د- البراكين

٥. الرقم الذي يشير الى المنطقة الى حدثت فيها اول محاولة طيران في التاريخ:



- أ- (١)  
 ب- (٢)  
 ج- (٣)  
 د- (٤)

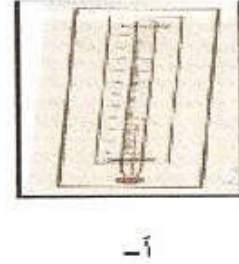
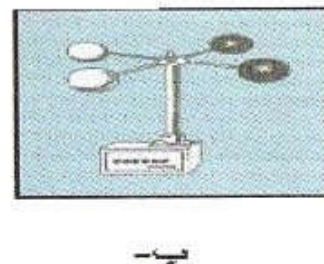
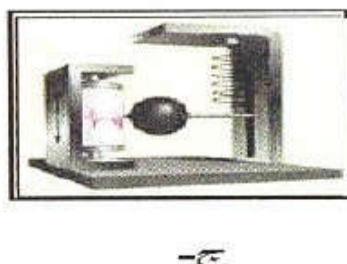
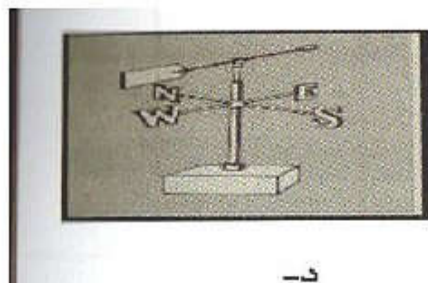
٦. السنة التي قامت فيها الإمامة الاباضية في عمان:

- أ- ١٣٢ هـ  
 ب- ١٤٠ هـ  
 ج- ١٣٨ هـ  
 د- ١٦٠ هـ

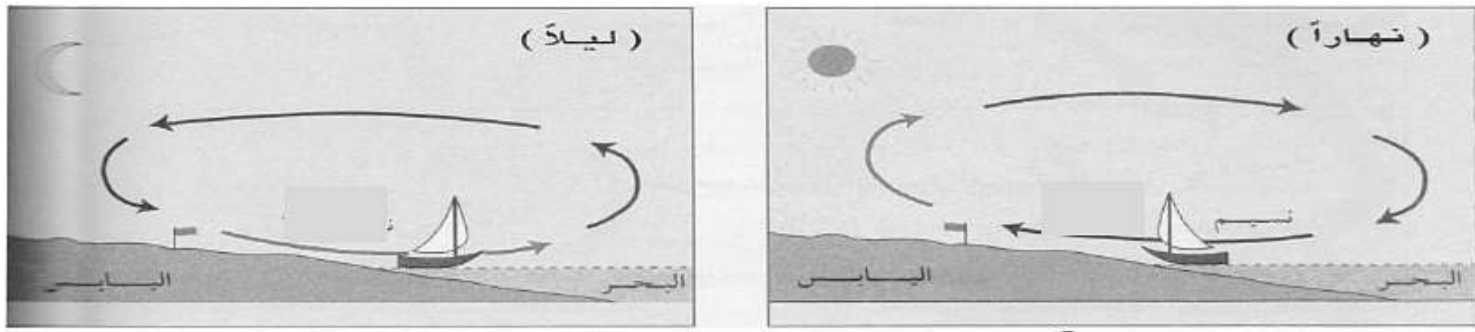
٧. العبارة الصحيحة التي تنتمي الى المناخ :

- أ- مساء يوم الجمعة سقطت أمطار غزيرة في محافظة جنوب الباطنة  
 ب- أوضحت النشرة اليومية بحالة الجو انخفاض درجات الحرارة .  
 ج- الجو خلال ٢٤ ساعة ممطر مع رياح نشطة  
 د- تهب على السلطنة في فصل الشتاء رياح شمالية شرقية

٨. الصورة التي ينتمي إليها الجهاز المستخدم في قياس سرعة الرياح:




٩. الشكل الدال علي نسيم البحر :-



(ب)

(أ)



(د)

(ج)

١٠. أول ولاية عمانية يدخلها الإسلام :

أ- سمائل ب- نزوى ج- صحار د- الرستاق

١١. أكبر الصحاري في العالم :

أ- الصحراء الكبرى ب- صحراء ثار ج- صحراء اتكاما د- صحراء كلهاري

١٢. مؤسس المذهب الاباضي :

أ- محبوب بن الرحيل ب- عبد الله بن إياض

ج- جابر بن زيد د- بشير بن المنذر

السؤال الثاني :

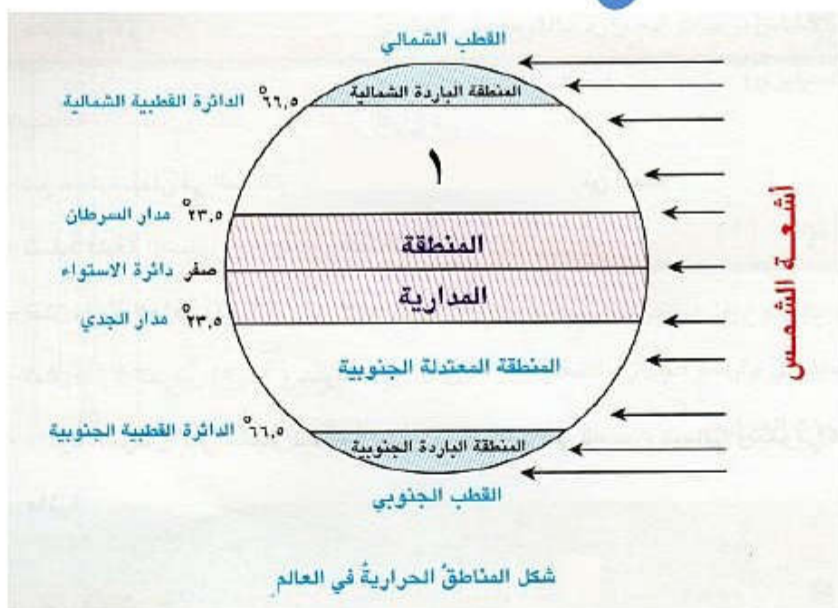
أولاً: أجب عن الأسئلة التالية مستعيناً بالشكل الذي أمامك:

أ- علل : ارتفاع درجات الحرارة في المنطقة المدارية؟

ب- سم المنطقة الحرارية المشار إليها بالرقم ١

ج- تقع سلطنة عمان ضمن المنطقة

د- اسم المنطقة الواقعة بين مدار الجدي والدائرة القطبية الجنوبية



ثانياً: علل لما يلي:-

أ- يعمل الغلاف المائي كمنظم رئيسي لدرجة الحرارة على سطح الكرة الأرضية ؟

.....  
.....

ب- تسقط الامطار التصاعدية طوال العام في المنطقة الاستوائية ؟

.....

ثالثاً : تمعن في الشكل الذي أمامك ثم أجب عن الأسئلة التي تليه :



أ- إسم الشكل الهندسي الواضح في الصورة.....

ب- أذكر فائدة بنائه في سلطنة عمان .....


ج- تخيل إنهيار هذا الشكل الهندسي الذي أمامك ، ما الأضرار المتوقع حدوثها.

.....  
.....

### السؤال الثالث :

أولاً:

أ- أكمل البطاقة التعريفية التالية :



١- يطلق على هذا البركان اسم .....

٢- من المقذوفات البركانية التي يخرجها  
المواد المنصهرة والرماد، و.....

٣- درجة حرارة صهيره البركاني:  
٧٠ س - ١٠٠٠ س (أختر الإجابة)

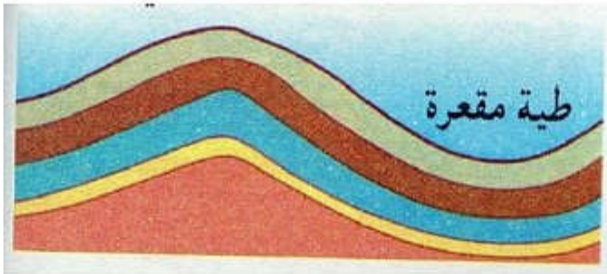
٤- الجزء الذي تخرج منه الحمم في البركان  
يسمى.....

ب- عدد اثنين من فوائد البراكين ؟

.....  
.....

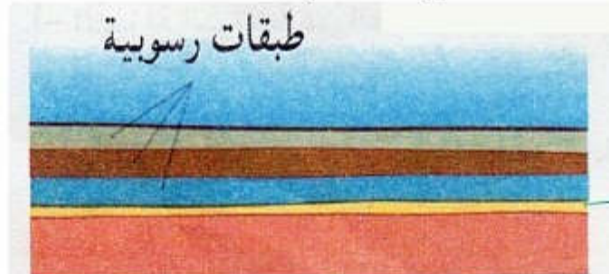
ثانياً : رتب الصور التي توضح نشوء الجبال الالتوائية مع وصف كل مرحلة:

المرحلة ( )



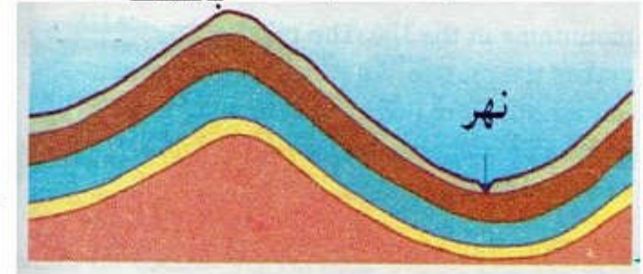
(٣)

المرحلة ( )



(٢)

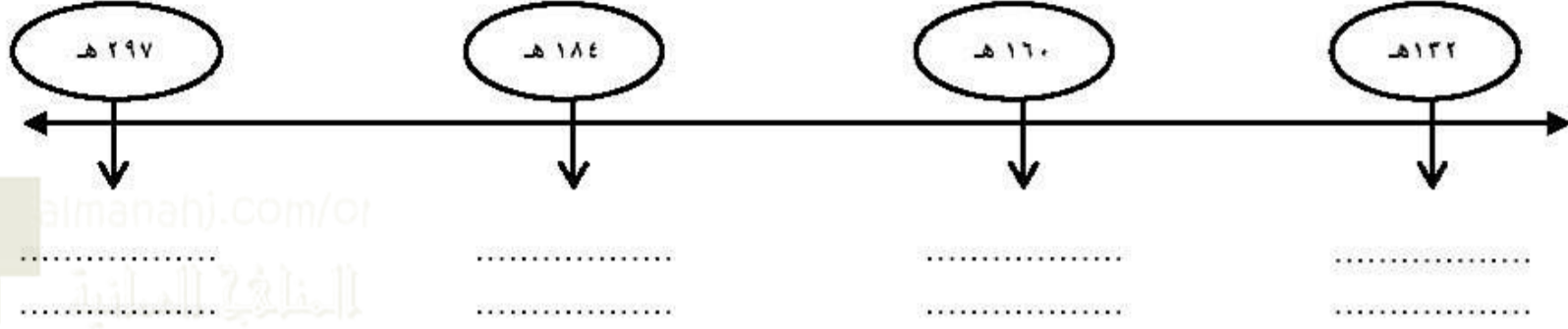
المرحلة ( ) جبل معدل بالنحت



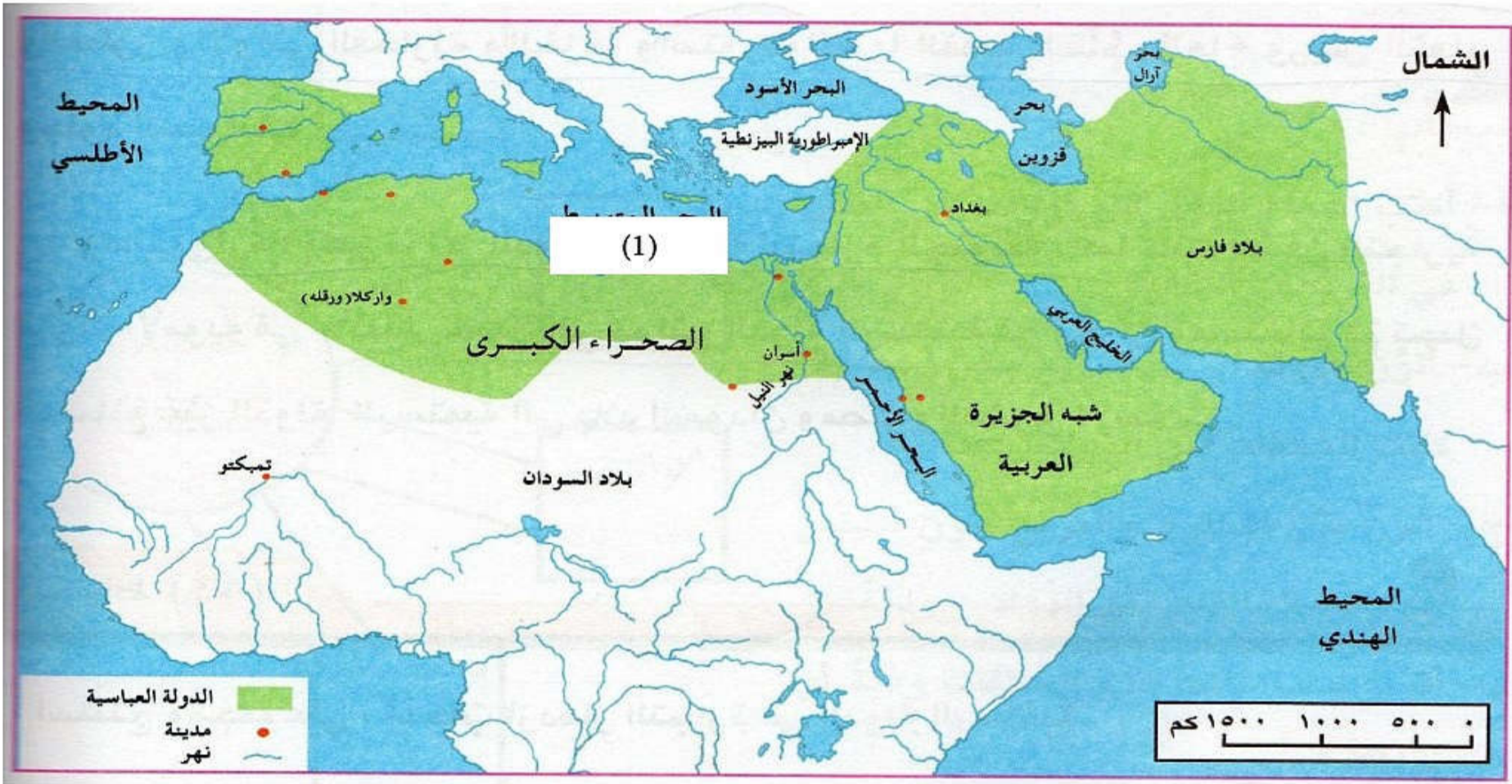
(١)

## السؤال الرابع :

أولاً : أكمل المسطرة الزمنية بالأحداث التاريخية التالية :  
( قيام الدولة الرستمية – الامامة الأولى في عمان – قيام دولة الاغالبة – مبايعة عبيد الله المهدي )



ثانياً : انظر الى الخريطة التي امامك واجب عما يليها :



أ- اكتب على الخريطة أقسام المغرب العربي ( الاوسط – الاقصى )

ب- اسم المسطح المائي لمشر اليه بالبرقم (١) .....

ج- تتبع عن الخريطة الطريق البري الذي يربط عمان والبصرة؟ .....

د- اكتب على الخريطة اسم المدينة بناها الفاطميون في مصر .....

## السؤال الخامس :

أولاً:

أ) في ضوء دراستك للدول المستقلة عن الدولة العباسية اكتب إحدى السلبيات وأحدى الايجابيات الناتجة من قيام هذه الدول ( يكتفى بذكر واحدة )

الايجابيات :

السلبيات :

ب) بالنظر إلى الشكل الذي أمامك اكتب أربع من مصادر:  
الحصول بيانات الطقس :

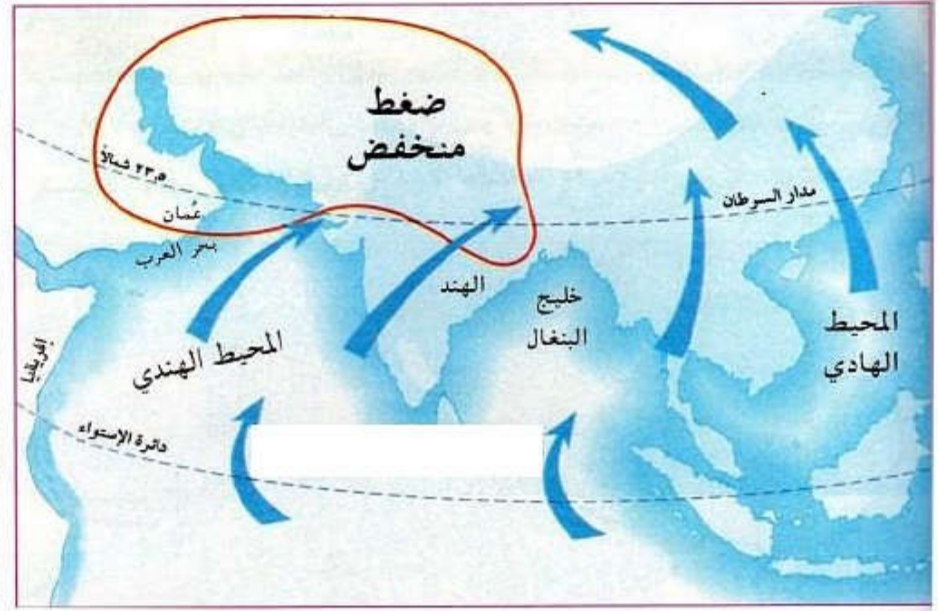
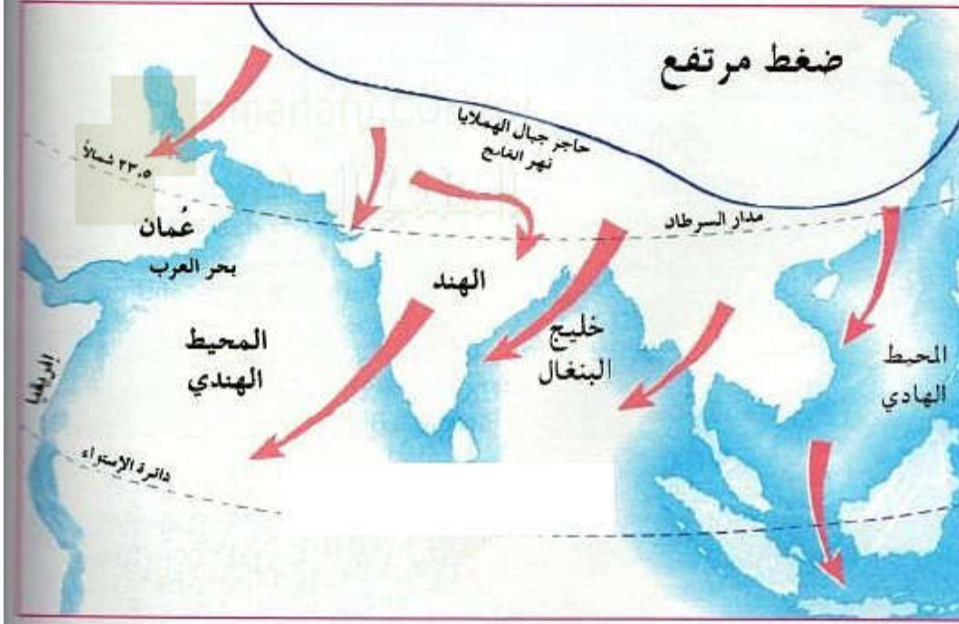


- ١- .....
- ٢- .....
- ٣- .....
- ٤- .....



ثانياً :

اكتب العبارات الآتية تحت الخريطة المناسبة :  
(الرياح شمالية شرقية -تهب في شهر إبريل - الرياح في فصل الشتاء - موسم العودة إلى عمان - موسم الذهاب إلى أفريقيا- رياح جنوبية غربية - شهر نوفمبر)



- ١- .....
- ٢- .....
- ٣- .....

- ١- .....
- ٢- .....
- ٣- .....

انتهت الأسئلة مع الدعاء للجميع بالتوفيق والنجاح.