

تم تحميل هذا الملف من موقع المناهج العمانية



نموذج إجابة الامتحان النهائي الرسمي الدور الأول الفترة الصباحية

موقع فايلاتي ← المناهج العمانية ← الصف السادس ← اجتماعيات ← الفصل الأول ← الامتحان النهائي ← الملف

تاريخ إضافة الملف على موقع المناهج: 10:20:56 2025-01-20

ملفات اكتب للمعلم اكتب للطالب | اختبارات الكترونية | اختبارات | حلول | عروض بوربوينت | أوراق عمل
منهج انجليزي | ملخصات وتقارير | مذكرات وبنوك | الامتحان النهائي للمدرس

المزيد من مادة
اجتماعيات:

التواصل الاجتماعي بحسب الصف السادس



الرياضيات



اللغة الانجليزية



اللغة العربية



التربية الاسلامية



المواد على تلغرام

صفحة المناهج
العمانية على
فيسبوك

المزيد من الملفات بحسب الصف السادس والمادة اجتماعيات في الفصل الأول

الامتحان النهائي الرسمي الدور الأول الفترة الصباحية

1

امتحان تدريبي في محافظة جنوب الباطنة

2

نموذج إجابة الامتحان التدريبي في محافظة جنوب الباطنة

3

نموذج إجابة الامتحان التدريبي في محافظة الظاهرة

4

امتحان تجريبي مع نموذج الإجابة في محافظة ظفار

5



نمؤذج إجابة امتحان مادة الدراسات الاجتماعية للصف السادس
الفصل الدراسي: الأول - الدور الأول (الفترة الصباحية)
للعام الدراسي ١٤٤٦هـ - ٢٠٢٤ / ٢٠٢٥ م

المادة: الدراسات الاجتماعية الدرجة الكلية: (٤٠) درجة.
تبيينه: نمؤذج الإجابة في (٤) صفحات.

أولاً: إجابة السؤال الموضوعي:

| المفردة | البديل الصحيح | الإجابة | الدرجة | الصفحة |
|---------|---------------|-------------------|--------|--------|
| ١ | أ | | 1 | ٢٣-٢٠ |
| ٢ | ج | سبعين | ١ | ٥٠ |
| ٣ | د | | 1 | ٣١ |
| ٤ | ب | حدود إدارية | ١ | ٢٠ |
| ٥ | ج | | 1 | ٨٧ |
| ٦ | أ | الخدمات اللوجستية | ١ | ٨١ |
| ٧ | ج | (٣، ١) | ١ | ٥٤ |
| ٨ | ب | أشكال سطح الأرض | ١ | ٦٩ |
| ٩ | د | ٢٠١٩ | ١ | ٨٠ |
| ١٠ | د | ٤ | ١ | ٨٦ |

(٢)

تابع نموذج إجابة امتحان مادة الدراسات الاجتماعية للصف السادس
 الفصل الدراسي: الأول - الدور الأول (الفترة الصباحية)
 للعام الدراسي ١٤٤٦هـ - ٢٠٢٤ / ٢٠٢٥ م

تابع أولاً: إجابة السؤال الموضوعي:

| المفردة | البديل الصحيح | الإجابة | الدرجة | الصفحة | | | | | | | | | | |
|----------------|----------------|--|-------------------------------|-----------------|---------------|---------------|-----------------|----------------|--------------|---------|-------------------------------|-----------|---|----|
| ١١ | أ | أهمية الظاهرة | ١ | ٣٠ | | | | | | | | | | |
| ١٢ | ب | <table border="1"> <tr> <td>اسم الخليفة</td> <td>أبو بكر الصديق</td> <td>عمر بن الخطاب</td> <td>عثمان بن عفان</td> <td>علي بن أبي طالب</td> </tr> <tr> <td>طريقة الاختيار</td> <td>انتخاب مباشر</td> <td>التزكية</td> <td>اختيار من بين عدد من المرشحين</td> <td>بيعة عامة</td> </tr> </table> | اسم الخليفة | أبو بكر الصديق | عمر بن الخطاب | عثمان بن عفان | علي بن أبي طالب | طريقة الاختيار | انتخاب مباشر | التزكية | اختيار من بين عدد من المرشحين | بيعة عامة | ١ | ٤٤ |
| اسم الخليفة | أبو بكر الصديق | عمر بن الخطاب | عثمان بن عفان | علي بن أبي طالب | | | | | | | | | | |
| طريقة الاختيار | انتخاب مباشر | التزكية | اختيار من بين عدد من المرشحين | بيعة عامة | | | | | | | | | | |
| | | المجموع | ١٢ درجة | | | | | | | | | | | |





ثانياً: إجابة الأسئلة المقالية:

| السؤال | المفردة | الجزئية | الإجابة | الدرجة | الصفحة |
|--------|---------|---------|---|------------------------|--------|
| ١٣ | أ | ١ | مسميات الأماكن والظواهر الجغرافية (الطبيعية والبشرية) التي تتضمنها الخريطة. | ١ | ٢٨ |
| | | ٢ | تحويل المواد الخام الأولية إلى منتجات تسهم في توفير احتياجات المستهلك. | ١ | ٧٨ |
| | | ١ | لأنهم ساروا على نهج الراشد من العدل وخدمة الإسلام. (مع مراعاة إجابة الطلبة) | ١ | ٤٤ |
| ١٣ | ب | ٢ | - القضاء على الردة. - جمع القرآن الكريم وكتابة المصاحف. - إنشاء الدواوين. - التوسع في الفتوحات الإسلامية. (يكتفى بإجابة واحدة فقط) | ١ | ٤٦ |
| | | ١ | ١. طاقة الرياح والطاقة الشمسية. ٢. النفط. ٣. العيون والأفلاج. | ٣ لكل مفردة درجة واحدة | ٦٧ |

(٣)

تابع نموذج إجابة امتحان مادة الدراسات الاجتماعية للصف السادس
 الفصل الدراسي: الأول - الدور الأول (الفترة الصباحية)
 للعام الدراسي ١٤٤٦هـ - ٢٠٢٤ / ٢٠٢٥ م

تابع ثانياً: إجابة الأسئلة المقالية:

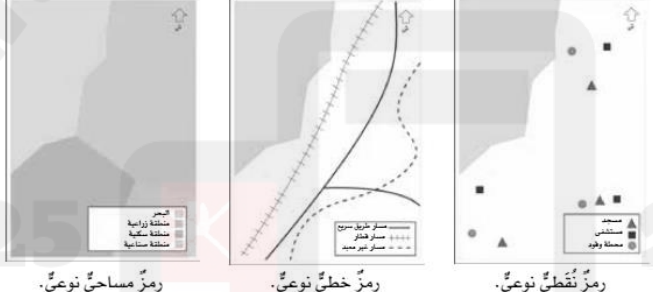
| السؤال | المفردة | الجزئية | الإجابة | الدرجة | الصفحة |
|--------|---------|---------|--|--------|--------------|
| ١٤ | أ | - | الأعمال - عاملاً (والياً) على عُمان. - ترأس الوفد العُماني للتعزية في وفاة الرسول عليه السلام. | ٢ | ٥٢ - ٥٠ - |
| | | | الشخصية العُمانية حذيفة بن محسن. عبد بن الجلندي. | ١ | ٣٠ |
| | | | ب | ١ | ٣١ |
| ١٤ | ب | ٢ | يقوم الطالب بكتابة كلمة (طريق) في أعلى الخط  | ١ | ٣١ |
| | | | ١ | ٤٩ | |
| | | | ٤ | ٥٦ | |
| ١٤ | ج | ٢ |  | ١ | ٥٦.٥٣ |
| | | | ٣ | | |

| السؤال | المفردة | الجزئية | الإجابة | الدرجة | الصفحة | |
|--------|---------|---------|--|--|--------|----|
| ١٥ | أ | ١ | - تقلل من التفاصيل في الخريطة. - تسهل تمثيل الظواهر الجغرافية في الخرائط. - تساعد في قراءة الخريطة وفهمها. (يكتفي بذكر اثنين مع مراعاة إجابة الطلبة) | ٢ لكل مفردة درجة | ٢٥ | |
| | | | ٢ | بهدف التقليل من الاعتماد على القطاع النفطي. (مع مراعاة إجابة الطلبة) | ٢ | ٨٩ |
| | | | ١ | ١-التعدين والمنتجات التعدينية ٢- الثروة الزراعية والسمكية ٣- الغاز (إذا أخطأ الطالب في ترتيب أحد القطعات تعتبر الإجابة خاطئة ولا تحسب الدرجة) | ١ | ٨٣ |
| ١٥ | ب | ٢ | -التوسع في موانئ الصيد. - توفير الفرص الاستثمارية للأراضي الزراعية. - الاستزراع السمكي. - تصنيع وتسويق التمور والألبان واللحوم بأنواعها. (يكتفي بذكر اثنين مع مراعاة إجابة الطالب) | ٢ لكل مفردة درجة | ٧٩ | |
| | | | | | | |

(٤)

تابع نموذج إجابة امتحان مادة الدراسات الاجتماعية للصف السادس
 الفصل الدراسي: الأول - الدور الأول (الفترة الصباحية)
 للعام الدراسي ١٤٤٦هـ - ٢٠٢٤ / ٢٠٢٥ م

تابع ثانياً: إجابة الأسئلة المقالية:

| الصفحة | الدرجة | الإجابة | الجزئية | المفردة | السؤال |
|--------|------------------|---|---------|---------|--------|
| ٤٧ | ١ | - دمشق. - الإسكندرية. (يكتفي بإجابة واحدة) | ١ | أ | ١٦ |
| ٧٣ | ١ | بسبب استقرار الوضع السياسي، وتوفر القوانين والتشريعات التي تؤمن الحماية الكاملة للمستثمر. (مع مراعاة إجابة الطلبة) | ٢ | | |
| ٨٩ | ٢ لكل مفردة درجة | - تضم ميناء برية يربط سلطنة عمان بالأسواق العالمية. - تضم مصانع لإعادة التدوير. - تضم سوقاً للخضار والفواكه. (يكتفي بذكر اثنين) | - | ب | |
| ٢٣ | ٣ لكل مفردة درجة |  <p>رمزٌ مساحيٌ نوعيٌ. رمزٌ خطيٌ نوعيٌ. رمزٌ نقطيٌ نوعيٌ.</p> | - | ج | |

نهاية نموذج الإجابة