

شكراً لتحميلك هذا الملف من موقع المناهج العمانية



الامتحان النهائي الدور الأول الفترة الصباحية للمحافظات جنوب الشرقية

[موقع المناهج](#) ← [المناهج العمانية](#) ← [الصف السادس](#) ← [اجتماعيات](#) ← [الفصل الأول](#) ← [الملف](#)

تاريخ نشر الملف على موقع المناهج: 05:24:59 2024-01-04

التواصل الاجتماعي بحسب الصف السادس



روابط مواد الصف السادس على تلغرام

[الرياضيات](#)

[اللغة الانجليزية](#)

[اللغة العربية](#)

[التربية الاسلامية](#)

المزيد من الملفات بحسب الصف السادس والمادة اجتماعيات في الفصل الأول

[الامتحان النهائي الرسمي الدور الأول الفترة الصباحية لمحافظة جنوب الباطنة](#)

1

[اختبار نهائي رسمي في محافظة الداخلية](#)

2

[اختبار نهائي رسمي في محافظة الظاهرة](#)

3

[اختبار نهائي رسمي في محافظة شمال الشرقية](#)

4

[اختبار نهائي رسمي في محافظة شمال الباطنة](#)

5

المزيد من الملفات بحسب الصف السادس والمادة اجتماعيات في الفصل الأول

أجب عن جميع الأسئلة الآتية

السؤال الأول: ضع دائرة حول رمز الإجابة الصحيحة لكل مفردة من المفردات الآتية:

١- الآثار التدميرية للهزة الأرضية التي تعرضت لها ولاية صور بتاريخ ٢١/١٠/٢٣ م بقوة ٤.٨ حسب مقياس ريختر:

أ- أضرار شامل
 ب- تشقق الأرض
 ج- شعر بها الفرد
 د- انهيار الجسور

٢- الجدول الصحيح الذي يوضح مراحل نشأة الجبال الالتوائية:

المرحلة	الترتيب
طبقات رسوبية	١
تكون الطيات المحدبة والطيات المقعرة	٢
جبل معدل بالنحت وبتون الأنهار والأودية	٣

ب-

المرحلة	الترتيب
طبقات رسوبية	١
تكون الطيات المحدبة والطيات المقعرة	٣
جبل معدل بالنحت وبتون الأنهار والأودية	٢

المرحلة	الترتيب
طبقات رسوبية	٣
تكون الطيات المحدبة والطيات المقعرة	٢
جبل معدل بالنحت وبتون الأنهار والأودية	١

د-

المرحلة	الترتيب
طبقات رسوبية	٢
تكون الطيات المحدبة والطيات المقعرة	١
جبل معدل بالنحت وبتون الأنهار والأودية	٣


ج-

٣- الأمير الاموي الذي بنى مدينة الزهراء غربي قرطبة:

أ- عبد الرحمن الداخل
 ب- عبد الرحمن الثالث
 ج- هشام الثالث
 د- معاوية بن أبي سفيان

٤- المدينة العمانية التي تعد أول مدينة يدخلها الإسلام:

أ- أنزوى
 ب- منح
 ج- آدم
 د- سمائل



٥- الغلاف الذي يواجه المشكلة البيئية الموضحة في الصورة المقابلة:

أ- الجوي
 ج- الحيوي
 ب- الصخري
 د- المائي

٦- الغاز الذي يشكل نسبة ٢١% من حجم الهواء في الغلاف الجوي:

أ- النيتروجين
 ب- الأكسجين
 ج- ثاني أكسيد الكربون
 د- الهيدروجين

(٢)
المادة: الدراسات الاجتماعية الصف: السادس الفصل الدراسي
العام الدراسي ٢٠٢٣/٢٠٢٤ م (الفترة الصباحية)

تابع السؤال الأول:



٧- الرقم الدال على الدولة التي استفادت من مياه الينابيع الساخنة في تدفئة المباني في الخريطة المقابلة:

- أ- ١
ب- ٢
ج- ٣
د- ٤

٨- العام الميلادي الذي حدث فيه الاعصار المداري في الدولة المظللة في الخريطة المقابلة:

- أ- ٢٠٠٤
ب- ٢٠٠٥
ج- ٢٠٠٦
د- ٢٠٠٧



٩- الرموز الدالة على الحالة الجوية للنشرة الجوية في الخريطة المقابلة:

- أ- رياح، وجو ممطر
ب- غائم جزئي، ورياح
ج- رياح، وجو مشمس
د- دجو مغبر، وامطار رعدية

١٠- الدولة التي يطلق على أعاصيرها اسم (الهاركين):

- أ- اليابان
ب- الولايات المتحدة
ج- الهند
د- الصين

١١- درجة تجمد الحرارة في النظام الفهرنهايتي:

- أ- ٣٠
ب- ٣١
ج- ٣٢
د- ٣٣

١٢- المحافظة العمانية التي تتأثر بهبوب الرياح الموسمية صيفاً:

- أ- مسندم
ب- شمال الباطنة
ج- مسقط
د- ظفار

السؤال الثاني: أجب عن الأسئلة الآتية:

أولاً: اكتب اسم المفهوم الصحيح مقابل كل عبارة في الجدول التالي:

المفهوم	العبارة	م
.....	بناء هندسي يقام على مجرى مائي بهدف حجز المياه للاستفادة منها في أغراض متعددة.	أ-
.....	التوقع بحصول حالة جوية معينة في المستقبل ليوم أو بضعة أيام.	ب-

ثانياً: علل بواحد لكل من:

أ- هبوب الرياح الموسمية على بعض مناطق العالم في فصول معينة.

ب- استخدام الصخور البركانية في البناء ورصف الطرق.

ثالثاً: ارتب طبقات الغلاف الجوي حسب قربها من سطح الأرض بوضع الأرقام (١، ٢، ٣، ٤،

الترتيب	طبقات الغلاف الجوي
	الميزوسفير
	التروبوسفير
	الثيرموسفير
	الاستراتوسفير

٢- أذكر واحداً لكل من:

أ- مصادر التلوث الناتج عن الإنسان وأنشطته المختلفة.

ب- الآثار المترتبة على حدوث الفيضانات.


السؤال الثالث: أجب عن الأسئلة الآتية:
 أولاً: ادرس الصورة التي أمامك ثم اجب عن الأسئلة الآتية:



١- سم المشكلة الواضحة في الصورة

٢- اذكر سببين لحدوثها.

ثانياً: صنف الأجهزة التالية حسب استخدامها في عناصر المناخ وذلك بكتابة رمز الجهاز في الجدول الآتي:



(ج)




(ب)



(أ)

الاستخدام	درجة الحرارة	سرعة الرياح	قياس المطر
رمز الجهاز			

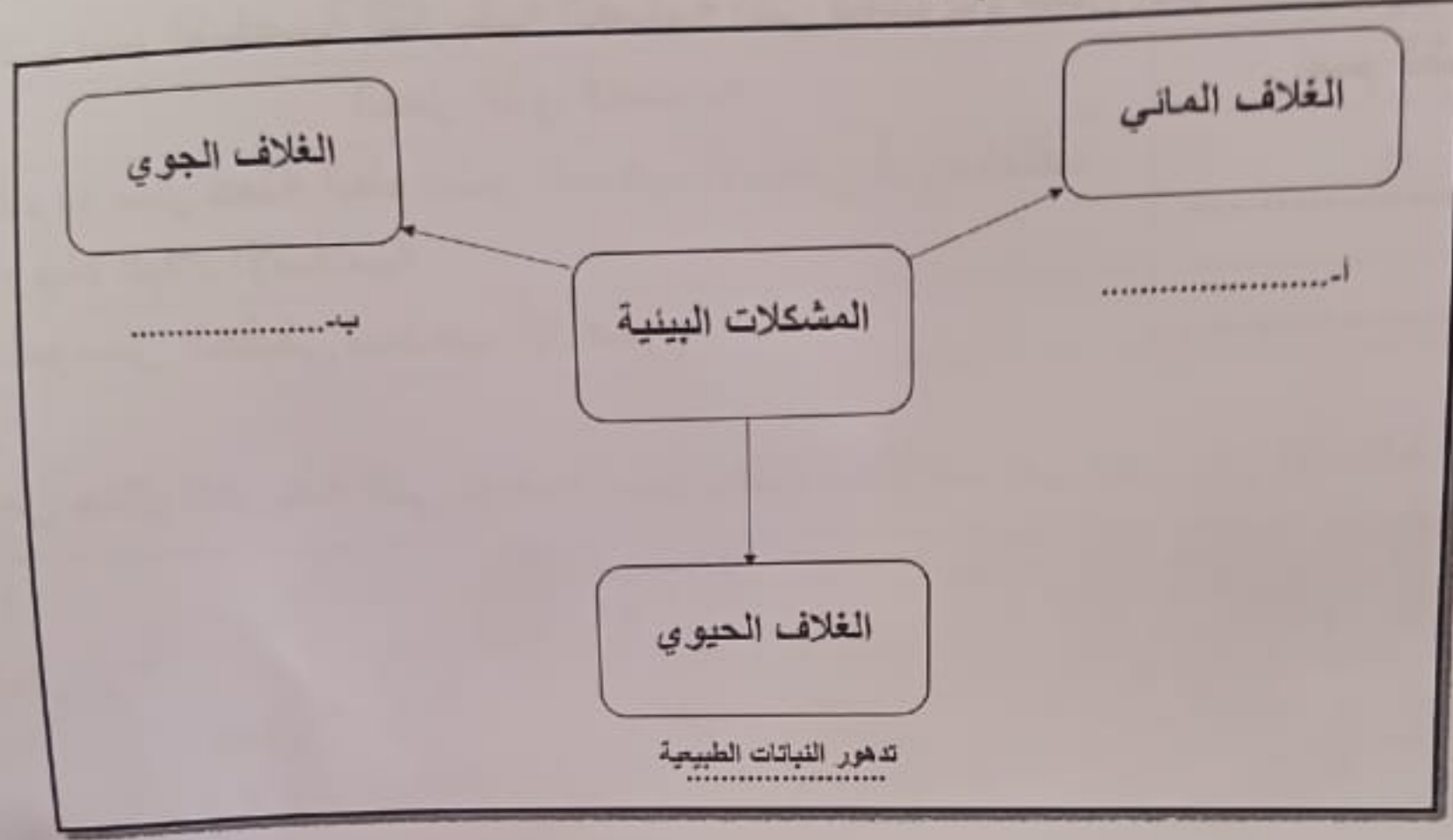
ثالثاً: ساعد مريم في اكمال الجدول بوضع المعلومات الواردة في مكانها الصحيح:




وجه المقارنة	الدولة الاموية في الاندلس	الامامة في عمان
العاصمة		
سنة قيامها		

السؤال الرابع: أجب عن الأسئلة الآتية:

أولاً: أكمل بيانات الشكل بما يناسبه:



ثانياً: ١- ميز نوع مصادر الحصول على معلومات الطقس بوضع الرقم في المكان المناسب:



- أ- () برية
- ب- () بحرية
- ج- () جوية

٢- عرف المقصود بالضغط الجوي؟

.....

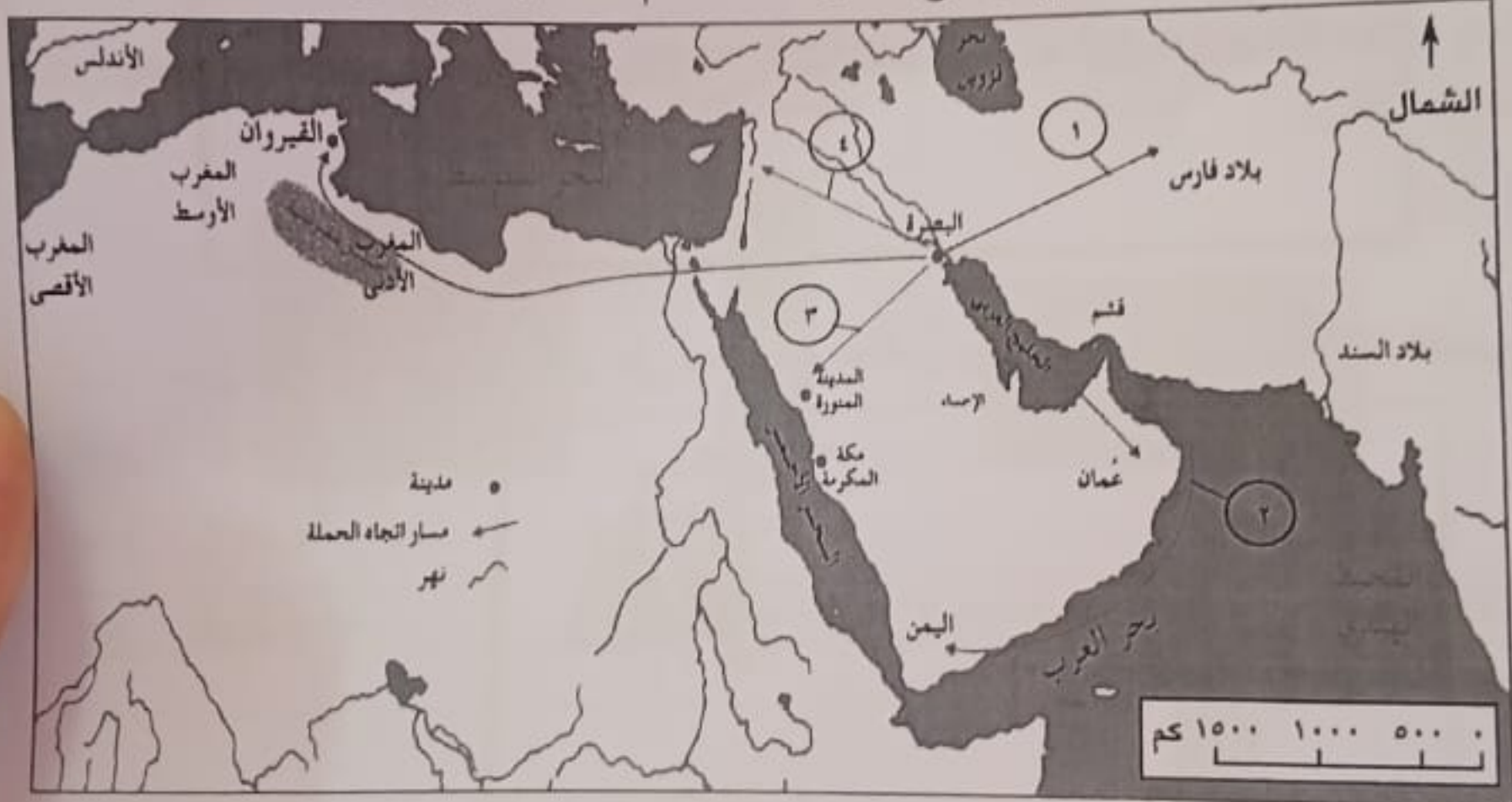
(٦)
المادة: الدراسات الاجتماعية الصف: السادس الفصل الدراسي الأول
العام الدراسي ٢٠٢٣/٢٠٢٤ م (الفترة الصباحية)

السؤال الخامس: أجب عن الأسئلة الآتية:

أولاً: اكتب اسم الشخصية التاريخية العمانية التي قامت بالأعمال الموضحة في الجدول التالي:

م	العمل الذي قامت به	اسم الشخصية
أ	قام بإرسال حملة العلم لنشر المذهب الإباضي في مختلف أرجاء البلاد الإسلامية.
ب	المؤسس الحقيقي للمذهب الإباضي.

ثانياً: من خلال الخريطة التي توضح مسار حملة العلم للمذهب أجب عن الأسئلة التالية :



- أ- الأرقام الدالة على المسار الصحيح لحملة العلم من البصرة إلى البلاد الإسلامية،
ب- ضع دائرة على المدينة التي ربطت الطريق البري بين عمان والبصرة .
ج- سم المسطح المائي الداخلي الذي ربط عمان بالبصرة .

انتهت الأسئلة مع الدعاء للجميع بالتوفيق والنجاح.