

شكراً لتحميلك هذا الملف من موقع المناهج العمانية



اختبارات نهائية سابقة محلولة لدرس احترام العمل وتقدير العاملين

[موقع المناهج](#) ← [المناهج العمانية](#) ← [الصف السادس](#) ← [اجتماعيات](#) ← [الفصل الثاني](#) ← [الملف](#)

تاريخ نشر الملف على موقع المناهج: 10:22:28 2023-05-19 | اسم المدرس: حنان الخوالي

التواصل الاجتماعي بحسب الصف السادس



روابط مواد الصف السادس على تلغرام

[الرياضيات](#)

[اللغة الانجليزية](#)

[اللغة العربية](#)

[التربية الاسلامية](#)

المزيد من الملفات بحسب الصف السادس والمادة اجتماعيات في الفصل الثاني

الاختبار النهائي الرسمي مسائي	1
الاختبار النهائي الرسمي في محافظة شمال الشرقية	2
اختبارات نهائية سابقة محلولة لدرس احترام العمل وتقدير العاملين	3
اختبارات نهائية سابقة محلولة لدرس إدارة الوقت واحترام المواعيد	4
اختبارات نهائية سابقة محلولة لدرس حقوق المواطن وواجباته	5

أسئلة اختبارات نهائية سابقة لدرس :- احترام العمل وتقدير العاملين

السؤال الأول :- أختار الإجابة الصحيحة من بين البدائل المعطاه

١- العمل الذي يحتاج الى خبرة و تأهيل دراسي عال هو:
أ) تقليم الأشجار ب) أعمال الكهرباء ج) النجارة د) صناعة الأجهزة

٢- الحرفة التي عمل بها النبي إدريس - عليه السلام - هي :
أ) الخياطة ب) النجارة ج) الرعي الغنم د) صناعة الدروع

٣- أحد الأعمال اليدوية التالية تحتاج إلى خبرة وتأهيل دراسي عال:
أ- صناعة السيارات ب- الحدادة ج- أعمال الحفر د- النجارة

٤) تحت الآية الكريمة ((هو الذي جعل لكم الارض نلولا فامشوا في مناكبها وكلوا من رزقه واليه النشور)) على:
أ) العمل ب) التحلي بالصدق ج) الامانة د) استغلال وقت الفراغ



٥- العمل اليدوي الذي تعبر عنه الصورة فشكل المقابل هو :-
أ- النجارة ب- الحلاقة ج- الزراعة د- الصناعة

٥- المصدر الأساسي لكسب الرزق الحلال في الإسلام :
أ- الميراث ب- العمل ج- الصدقة د- الزكاة

٥- الأعمال تحتاج إلى خبرة وتأهيل دراسي متوسط :
أ- أعمال الحفر ب- النظافة ج- الحدادة د- تقليم الأشجار

٦- العمل الذي لا يحتاج إلى خبرة و تأهيل دراسي:
أ- النظافة ب- صناعة السيارات ج- النجارة د- صناعة الطائرات

٧- النبي الذي عمل في صنع الدروع :-

أ- إدريس

ج- داود

ب - نوح

د- إبراهيم



٧ / العمل في الصورة التالية يحتاج إلى :

أ : لا تحتاج إلى تأهيل دراسي فقط

ج : تأهيل دراسي وخبرة متوسطة

ب : تأهيل دراسي فقط

د : خبرة وتأهيل دراسي عال

٧ الصورة التي تدل على العمل اليدوي :



(ب)



(أ)



(د)



(ج)

٧- الشكل الذي يدل على العمل الذي يحتاج فيه العامل إلى خبرة وتأهيل دراسي عال:



(د)



(ج)



(ب)



(أ)

٨ النبي الذي عمل نجاراً:

أ- نوح عليه السلام

ج- داود عليه السلام

ب- إدريس عليه السلام

د- موسى عليه السلام



٨- المهنة في الصورة امامك تحتاج الى :

أ- لا تحتاج الى تأهيل دراسي

ج- خبرة وتأهيل دراسي عالي

ب- تأهيل دراسي فقط .

د- خبرة وتأهيل دراسي متوسط

السؤال الثاني : أجب عن جميع الأسئلة الآتية .

٢- أذكر اثنين من جهود الحكومة من خلال وزارة القوى العاملة في تنظيم العمل؟

- ❖ توفير فرص العمل للمواطنين العمانيين في منشآت القطاع الخاص .
- ❖ الحد من استقدام (جلب) العمالة الوافدة قدر الإمكان .

فسر :-

٢- تعمل السلطنة على تدريب القوى العاملة الوطنية.

من أجل توفير اليد العاملة الوطنية المدربة .

(ب) علل/ حث الإسلام على إتقان العمل

حتى ينال رضى الله تعالى ورسوله ورضى مجتمعه .

٢ : افتتاح كليات التقنية العليا في مختلف مناطق السلطنة .

من أجل توفير اليد العاملة الوطنية المدربة .

٣ . هناك مشاريع رائدة لحفز الشباب العماني للعمل في القطاع الخاص منها

صندوق الرفد . و مشروع انطلاقه

محمد لم يحصل على وظيفة في القطاع الحكومي ففكر في التوجه الى القطاع الخاص . ساعد محمد لتعريفه بالمشاريع الرائدة لحفزه للعمل في القطاع الخاص ؟

صندوق الرفد . و مشروع انطلاقه

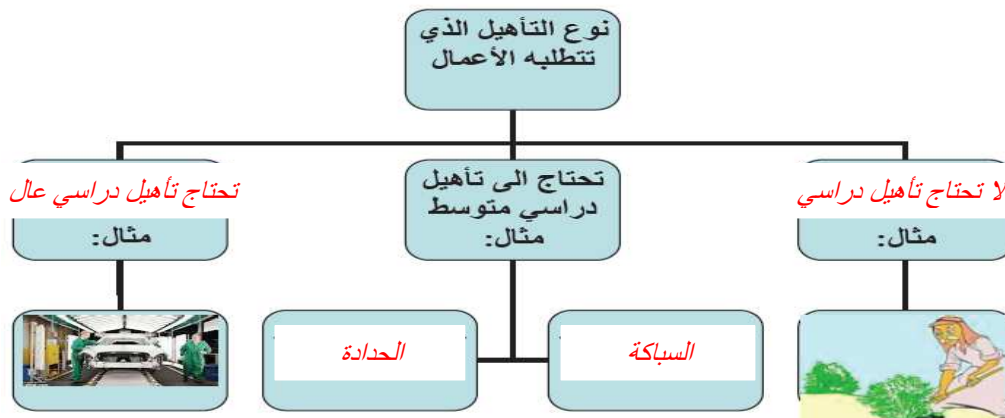
٢ . " سمعت زميلك (سعيد) يسخر من عمال النظافة أثناء توجيهكم للمدرسة صباحا ... ما النصيحة التي تقدمها له ؟

اخبره بان هذا تصرف خاطئ ، وأن الإسلام يدعونا إلى العمل النافع وإتقانه ويرفع من شأن العاملين . ولن يعيب المواطن أبدا أن يؤدي واجبه لخدمه بلاده من خلال أي من هذه الأعمال الشريفة النافعة له ولمجتمعه .

ب . قال رسول الله (صلى الله عليه وسلم) : " إن الله يحب إذا عمل أحدكم عملا أن يتقنه " استخلص صفتين يدعونا إليهما النبي الكريم في هذا الحديث الشريف في مجال العمل ؟

الأخلاص والإتقان والأمانة في العمل حتى ينال رضى الله تعالى ورسوله ورضى مجتمعه .

٢-أكمل المخطط التالي بوضع العبارات الواردة بين القوسين في مكانها المناسب:(تحتاج إلى تأهيل دراسي عال -النجارة-لا تحتاج إلى تأهيل دراسي-الحدادة)-:



ب) انظر الى الصورة التي أمامك جيدا ثم أجب عن الأسئلة التي تليها:



- ١) سم العمل اليدوي البسيط الواضح في الصورة. **الحلاقة**
- ٢) اعط مثال لعمل يدوي بسيط آخر. **النظافة - تقليم الأشجار - أعمال الحفر .**
- ٣) ما رأيك في بعض الشباب الذين يترفعون عن الأعمال اليدوية البسيطة.

رائي خاطئ لأن الإسلام يدعونا إلى العمل النافع وإتقانه ويرفع من شأن العاملين . ولن يعيب المواطن أبدا أن يؤدي واجبه لخدمه بلاده من خلال أي من هذه الأعمال الشريفة النافعة له ولمجتمعه .

ثانيا :-أضع علامة صواب أسفل نوع التأهيل الذي تتطلبه الأعمال الواردة في الجدول أدناه :-

م	التأهيل الاعمال	لا تحتاج إلى تأهيل دراسي	تحتاج إلى تأهيل دراسي متوسط	تحتاج إلى تأهيل دراسي عال
١	النظافة	_____		
٢	هندسة طائرات			_____
٣	الطب			_____
٤	الحدادة		_____	

ج) ادرس الصورة التي أمامك جيدا ثم أجب عن الاسئلة التالية:



١ - سم نوع المهارة.

أعمال الميكانيكا


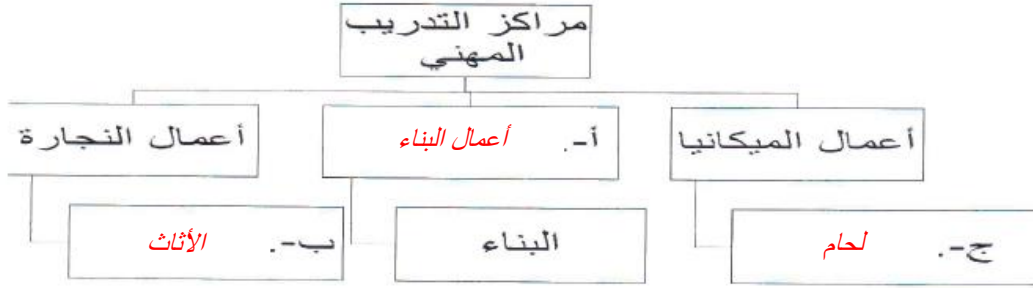
٢- لماذا تعمل السلطنة على تدريب القوى العاملة الوطنية.

من أجل توفير اليد العاملة الوطنية المدربة .

ثالثاً: ضع علامة (√) أسفل نوع التأهيل الذي تتطلبه الأعمال الواردة في الجدول الآتي:-

العمل	لا يحتاج إلى تأهيل دراسي	يحتاج إلى تأهيل دراسي متوسط	يحتاج إلى تأهيل دراسي عال
صناعة الطائرات			_____
الحدادة		_____	
أعمال الحفر	_____		
تقليم الأشجار	_____		

أولاً: أكمل المخطط الذهنية الآتي مستعيناً ببعض من الاعمال والتخصصات التالية
(أعمال السيارات - أعمال الإنشاءات - لحام - تمديدات منزلية - الأثاث)



أولاً: أقرأ النص، قرأه قراءة جيدة ثم أجب عن الأسئلة التالية:

”فإننا نشددُ بصفةٍ خاصّةٍ على الأهميّةِ الكُبرى لِتجاوبِ المواطنين أنفسهم وتقبُّلهم لِجميعِ الأعمالِ التي تقومُ بها العمالةُ الوافدةُ مهما كان نوعُها ، بما فيها العملُ اليدويُّ البسيطُ والوظائفُ المساعدةةُ ، ولن يعيبَ المواطنُ أبداً أن يؤدي واجبهُ لخدمةِ بلادِهِ من خلالِ أيِّ من هذهِ الأعمالِ الشريفةِ والنافعةِ لَهُ ولِمجتمَعِهِ “ .

من خطابِ صاحبِ الجلالة (حفظه الله ورعاه) بمناسبةِ العيدِ الوطنيِّ التاسعِ عشرِ المجيدِ (١٨/١١/١٩٨٩م) .

- ١- إلام يدعو صاحب الجلالة المواطنين ؟ **العمل**
- ٢- على أي الأعمال يشدد صاحب الجلالة بضرورة عمل المواطنين بها؟ **العمل اليدوي البسيط و الوظائف المساعدة.**
- ٣- في أي عام كان العيد الوطني التاسع عشر المجيد؟ **١٩٨٩م**
- ٤- اذكر أمثلة على العمل اليدوي ؟- **الحدادة**

٢) أقرأ الجدول التالي الذي يبين الطلبة المتدربين في مراكز التدريب المهني ثم أجب عن الأسئلة التي تليه

المجموع	أعداد الطلبة				المركز	القسم
	عبري	صور	صحح	السيب		
٤٢٢	١٢١	١٠٧	٧٩	١١٥	تركيبات	أعمال الميكانيكا
					لحام	
					تشغيل	
٣١١	٨٣	٧٣	٧٠	٨٥	ميكانيكي	أعمال السيارات
					كهربائي	
					ديزل	
					وينزين	
٢٧١	٣١	٣٩	٧٣	١٢٨	النقاء	أعمال الإنشاءات
					الخرسانة	
					البلاط	

- أ) كم يبلغ عدد المتدربين في قسم الميكانيكا في مركز ولاية صور؟ **١٠٧**
- ب) أذكر اثنين من أسماء التخصصات في قسم الإنشاءات
 - الخرسانة**
 - البلاط**
- ج) كم يبلغ العدد الإجمالي العام لطلبة قسم أعمال السيارات ؟ **٣١١**

ج) ادرس الصورة التي أمامك جيدا ثم أجب عن الأسئلة التالية:



- ١- سم نوع العمل. **البناء**
- ٢- لماذا حدث الاسلام على العمل؟

بوصفه المصدر الأساسي لكسب الرزق الحلال .

أولاً: أدرس الآيتين الكريمتين ثم أجب عن الأسئلة التي تليها:

أ- سمِّ الصفة أو الأمر الذي تدعونا إليه الآيتين:

١- الأمانة ٢- العمل

ب- عرف الصفة التي تدعونا إليها الآية رقم (١)

الأمانة

ج- علل/ حث الإسلام على الأمر في الآية رقم (٢)

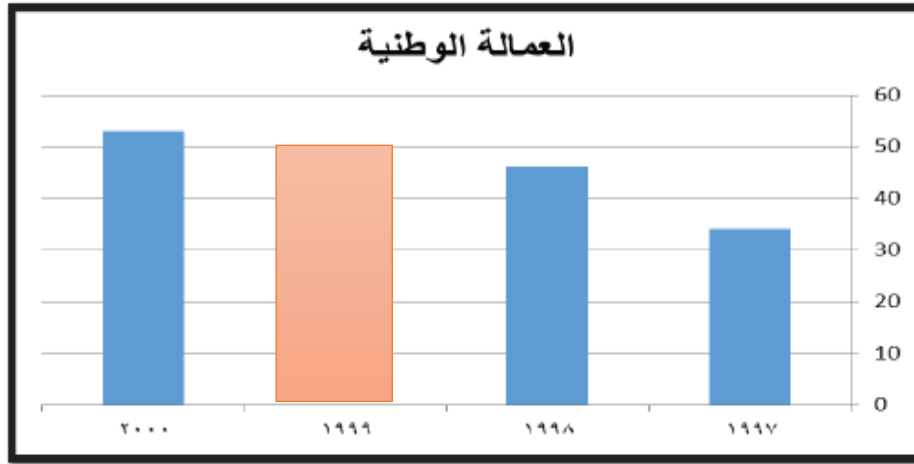
إلى العمل بوصفه المصدر الأساسي لكسب الرزق الحلال .

١ (إِنَّ اللَّهَ يَأْمُرُكُمْ أَنْ تُؤَدُّوا الْأَمَانَاتِ إِلَىٰ أَهْلِهَا)

٢ (هُوَ الَّذِي جَعَلَ لَكُمْ الْأَرْضَ ذُلُولًا فَأَمْشُوا فِي

مَنَاكِبِهَا وَكُلُوا مِن رِّزْقِهِ وَإِلَيْهِ النُّشُورُ)

ثالثاً : امامك مخططا بيانيا يوضح تطور العمالة الوطنية في القطاع الخاص ادرسه جيدا ثم اجب عن الاسئلة التي تليه :



السنة	العدد (الف عامل)
١٩٩٧	٣٤
١٩٩٨	٤٦
١٩٩٩	٥٠
٢٠٠٠	٥٣

١- قارن بين عدد العمالة الوطنية في سلطنة عمان بين عامي ١٩٩٧ و ٢٠٠٠م

اختر الاجابة الصحيحة

انخفض

ارتفع

علل اجابتك/ نتيجة طبيعية لجهود الحكومة الرشيدة في تعميم مختلف الأعمال في القطاع العام والقطاع الخاص.

٢- مثل بيانيا بالاستعانة بالجدول امامك عدد العمالة الوطنية في عام (١٩٩٩ م)

٣- دلل / دور الحكومة في توفير الايدي العاملة الوطنية المدربة . (يكتفى بدليل واحد)

١- إنشاء جامعة التقنية والعلوم التطبيقية عام ٢٠٢٠م

٢- توفير مراكز التدريب الخاصة التي بلغ عددها حتى نهاية عام ٢٠٠٠م (١٦٥ معهدا) .

: اكتب لفظ (مرغوب) أو (غير مرغوب) أمام العبارات والسلوكيات التالية:

١- معاملة الفرد للآخرين بما يحبه لنفسه.	مرغوب
٢- تنفيذ الأعمال في مواعيدها.	مرغوب
٣- اللامبالاة في تأدية العمل.	غير مرغوب
٤- ترفع الشباب عن الأعمال اليدوية	غير مرغوب

ثانياً: ادرس الجدول الذي أمامك جيداً، ثم أجب عن الأسئلة التالية:

نوع العمالة	١٩٩٧م (ألف عامل)	١٩٩٨م (ألف عامل)	١٩٩٩م (ألف عامل)	٢٠٠٠م (ألف عامل)
عمالة وطنية	٣٤	٤٦	٥٠	٥٣
عمالة وافدة	٤٩٤	٤٨٣	٤٧٥	٤٨١

١- ماذا تلاحظ على أعداد العمالة الوطنية بين عامي ١٩٩٧-٢٠٠٠م؟

تزايد أعداد العمالة الوطنية .

٢- كم بلغ عدد العمالة الوافدة في عام ٢٠٠٠م؟

٤٨١

ب : ادرس الجدول التالي الذي يبين أعداد الطلبة المتدربين في مراكز التدريب المهني للعام التدريبي ٩٩ / ٢٠٠٠ م ، ثم أجب عن الأسئلة التالية :

القسم	أعمال الميكانيكا	أعمال السيارات	أعمال الإنشاءات	أعمال النجارة	أعمال الكهرباء
المجموع	٤٢٢	٣١١	٢٧١	٢٦٣	٣٨٥

١ : أي الأقسام أكثر استقبالا للطلبة ؟

أعمال الكهرباء .

ثالثاً : بالاستعانة بالجدول الذي يبين تطور أعداد العمالة الوطنية في القطاع الخاص أجب عن ما يلي:

السنة	١٩٩٧م (ألف عامل)	١٩٩٨م (ألف عامل)	١٩٩٩م (ألف عامل)	٢٠٠٠م (ألف عامل)
البيان	٣٤	٤٦	٥٠	٥٣
العمالة الوطنية				

١- احسب الفرق في العمالة الوطنية بين عامي ١٩٩٧م و ٢٠٠٠م ؟. $١٧ = ٥٣ - ٣٤$

٢- بناءً على المعطيات السابقة في الجدول أكمل الشكل الآتي:

