

تم تحميل هذا الملف من موقع المناهج العُمانية



* للحصول على أوراق عمل لجميع الصفوف وجميع المواد اضغط هنا

<https://almanahj.com/om>

* للحصول على أوراق عمل لجميع مواد الصف السادس اضغط هنا

<https://almanahj.com/om/6>

* للحصول على جميع أوراق الصف السادس في مادة اجتماعيات ولجميع الفصول, اضغط هنا

<https://almanahj.com/om/6social>

* للحصول على أوراق عمل لجميع مواد الصف السادس في مادة اجتماعيات الخاصة بـ الفصل الأول اضغط هنا

<https://almanahj.com/om/6social1>

* لتحميل كتب جميع المواد في جميع الفصول للـ الصف السادس اضغط هنا

<https://almanahj.com/om/grade6>

* لتحميل جميع ملفات المدرس عمر العزري اضغط هنا

للتحدث إلى بوت على تلغرام: اضغط هنا

https://t.me/omcourse_bot

المادة: الدراسات الاجتماعية /الصف : السادس- الدور الأول - الفصل الدراسي الأول -العام الدراسي ٢٠١٨/٢٠١٩ م



المديرية العامة للتربية والتعليم محافظة جنوب الباطنة

دائرة التقويم التربوي

قسم مراقبة وتقويم التحصيل الدراسي

امتحان مادة الدراسات الاجتماعية للصف السادس

للعام الدراسي ١٤٣٩/١٤٤٠ هـ - ٢٠١٨/٢٠١٩ م

الدور الاول - الفصل الدراسي الاول

● زمن الامتحان : (ساعة ونصف)

● عدد صفحات أسئلة الامتحان: (٨) صفحات.

● الإجابة في الدفتر نفسه .

		اسم الطالب
الصف		المدرسة

التوقيع بالاسم		الدرجة		السؤال
المصحح الثاني	المصحح الأول	بالحروف	بالأرقام	
				١
				٢
				٣
				٤
				٥
مراجعة الجمع	جمعه			المجموع
				المجموع الكلي

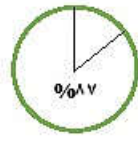
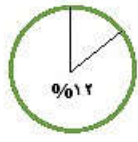
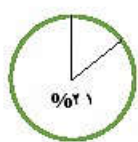
السؤال الأول: ضع دائرة حول رمز الإجابة الصحيحة من بين البدائل المعطاه:

١. مؤسس الدولة الأموية في الاندلس :-
 أ- معاوية بن ابي سفيان
 ب- عبد الرحمن بن معاوية
 ج- يزيد بن معاوية
 د- هشام بن عبد الملك

٢. يشير الرمز المقابل المستخدم في النشرة الجوية في سلطنة عمان إلى
 أ- امطار رعدية
 ب- جو غائم
 ج- جو غائم جزئيا
 د- جو ممطر



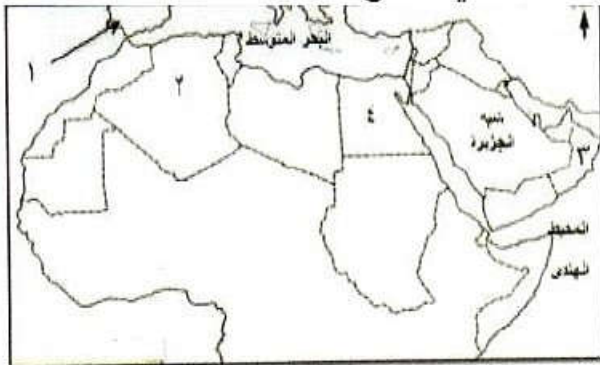
٣. الشكل الصحيح لنسبة غاز النيتروجين في الغلاف الجوي :



٤. هزات ارضية قصيرة سريعة متتالية تضرب سطح الأرض:-

- أ- الزلازل
 ب- الالتهوات
 ج- الانكسارات
 د- البراكين

٥. الرقم الذي يشير الى المنطقة الى حدثت فيها اول محاولة طيران في التاريخ:



- أ- (١)
 ب- (٢)
 ج- (٣)
 د- (٤)

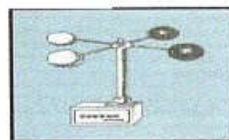

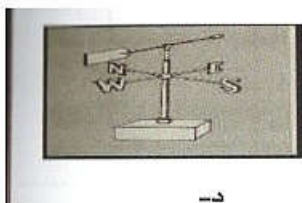
٦. السنة التي قامت فيها الإمامة الاباضية في عمان:

- أ- ١٣٢ هـ
 ب- ١٤٠ هـ
 ج- ١٣٨ هـ
 د- ١٦٠ هـ

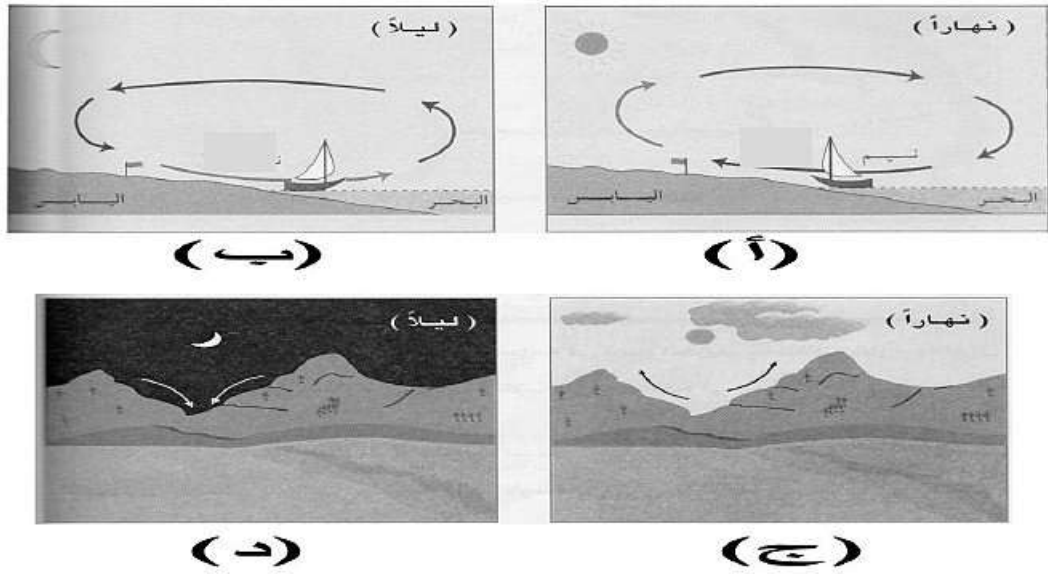
٧. العبارة الصحيحة التي تنتمي الى المناخ :

- أ- مساء يوم الجمعة سقطت أمطار غزيرة في محافظة جنوب الباطنة
 ب- أوضحت النشرة اليومية بحالة الجو انخفاض درجات الحرارة .
 ج- الجو خلال ٢٤ ساعة ممطر مع رياح نشطة
 د- تهب على السلطنة في فصل الشتاء رياح شمالية شرقية

٨. الصورة التي ينتمي إليها الجهاز المستخدم في قياس سرعة الرياح:



٩. الشكل الدال علي نسيم البحر :-



١٠. أول ولاية عمانية يدخلها الإسلام :

أ- سمائل ب- نزوى ج- صحار د- الرستاق

١١. أكبر الصحاري في العالم :

أ- الصحراء الكبرى ب- صحراء ثار ج- صحراء اتكاما د- صحراء كلهاري

١٢. مؤسس المذهب الاباضي :

أ- محبوب بن الرحيل ب- عبد الله بن إياض

ج- جابر بن زيد د- بشير بن المنذر

السؤال الثاني :

أولاً: أجب عن الأسئلة التالية مستعيناً بالشكل الذي

أمامك:

أ- علل : ارتفاع درجات الحرارة في المنطقة

المدارية؟.....

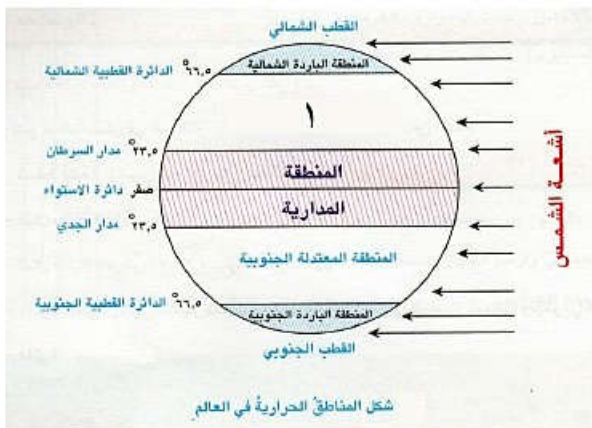
ب- سم المنطقة الحرارية المشار إليها بالرقم ١

.....

ج- تقع سلطنة عمان ضمن المنطقة

.....

د- اسم المنطقة الواقعه بين مدار الجدي والدائره القطبية الجنوبية.....



ثانياً: علل لما يلي:-

أ- يعمل الغلاف المائي كمنظم رئيسي لدرجة الحرارة على سطح الكرة الارضية؟

.....
.....

ب- تسقط الامطار التصاعدية طوال العام في المنطقة الاستوائية؟

.....

ثالثاً : تمعن في الشكل الذي أمامك ثم أجب عن الأسئلة التي تليه :



أ- إسم الشكل الهندسي الواضح في الصورة.....

ب- أذكر فائدة بنائه في سلطنة عمان.....


ج- تخيل إنهار هذا الشكل الهندسي الذي أمامك ، ما الأضرار المتوقع حدوثها.

.....
.....

السؤال الثالث :

أولاً:

أ- أكمل البطاقة التعريفية التالية :



١- يطلق على هذا البركان اسم

٢- من المقذوفات البركانية التي يخرجها
المواد المنصهرة والرماد، و.....

٣- درجة حرارة صهيره البركاني:
٧٠ س - ١٠٠٠ س (أختر الإجابة)


٤- الجزء الذي تخرج منه الحمم في البركان
يسمى.....

ب- عدد اثنين من فوائد البراكين ؟

.....
.....

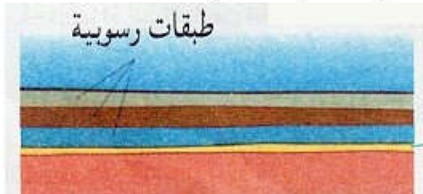
ثانياً : رتب الصور التي توضح نشوء الجبال الالنتوائية مع وصف كل مرحلة:

المرحلة ()



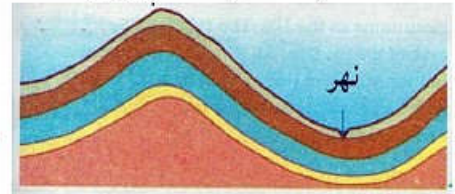
(٣)

المرحلة ()



(٢)

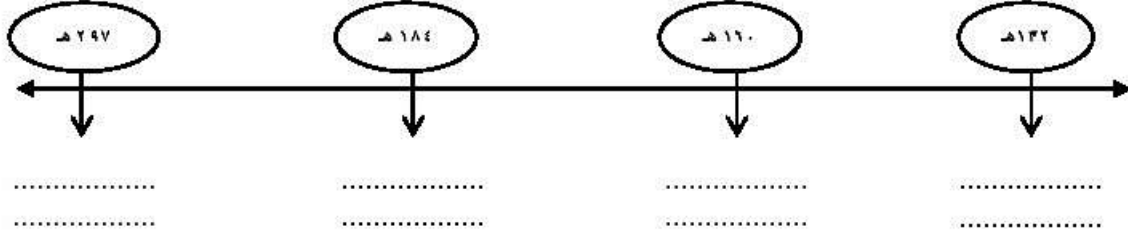
المرحلة () جبل معدل بالنحت



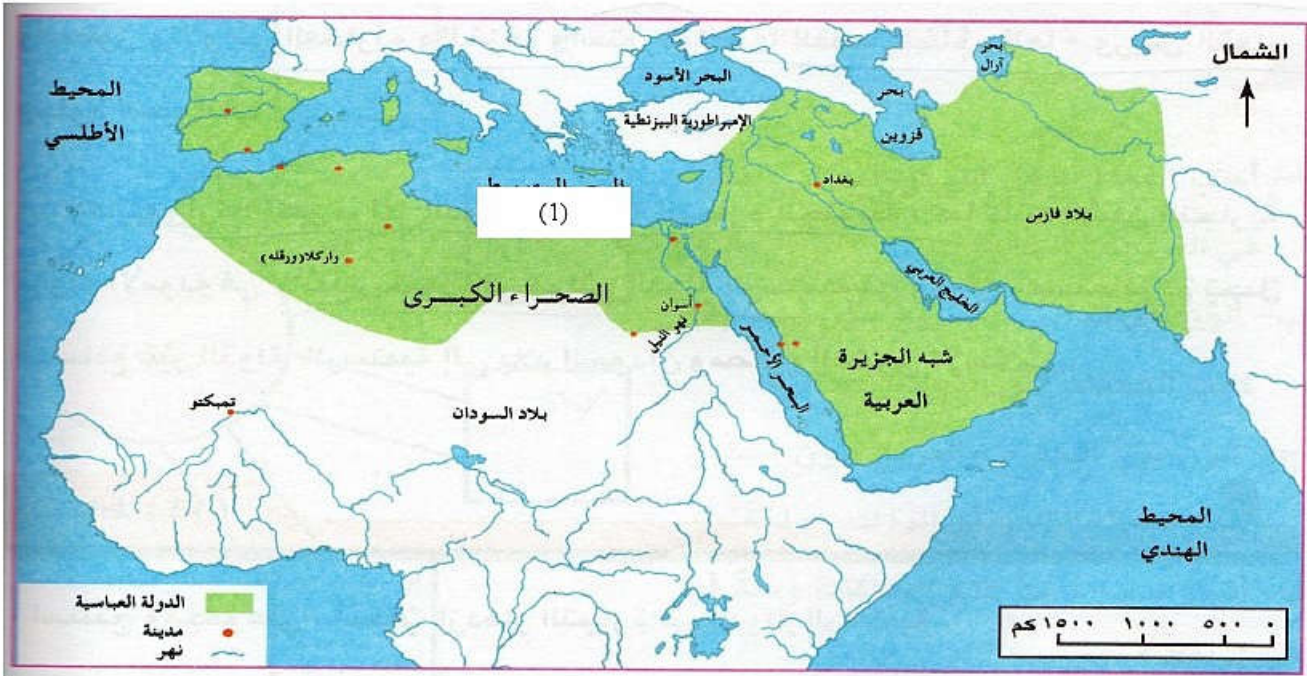
(١)

السؤال الرابع :

أولاً : أكمل المسطرة الزمنية بالاحداث التاريخية التالية :
(قيام الدولة الرستمية – الامامة الأولى في عمان – قيام دولة الاغلبية – مبايعة عبيد الله المهدي)



ثانياً : انظر الى الخريطة التي امامك واجب عما يليها :



أ- اكتب على الخريطة أقسام المغرب العربي (الاوسط – الاقصى)

ب- اسم المسطح المائي لمشر اليه بالبرقم (١)

ج- تتبع عن الخريطة الطريق البري الذي يربط عمان والبصرة؟

.....

د- اكتب على الخريطة اسم المدينة بناها الفاطميون في مصر

السؤال الخامس :

أولاً:

أ) في ضوء دراستك للدول المستقلة عن الدولة العباسية اكتب إحدى السلبيات وأحدى الإيجابيات الناتجة من قيام هذه الدول (يكتفى بذكر واحدة)

الإيجابيات :

السلبيات :

ب) بالنظر إلى الشكل الذي أمامك اكتب أربع من مصادر الحصول بيانات الطقس :



١-

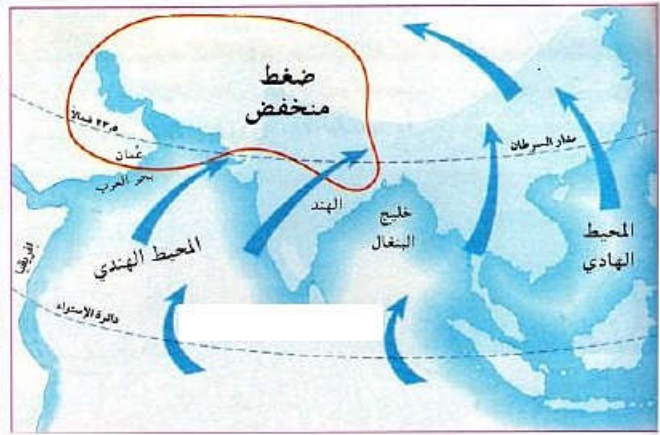
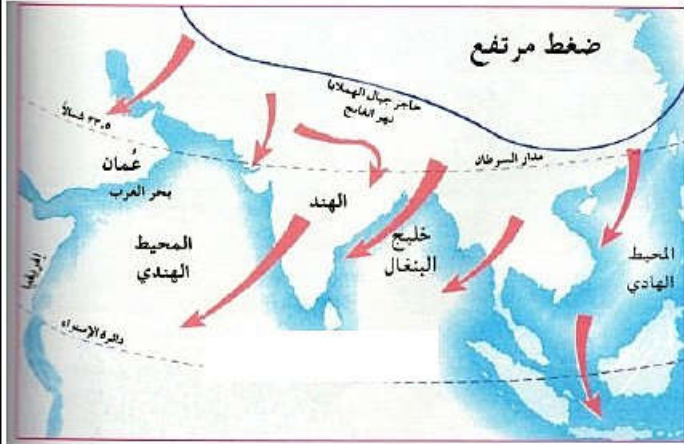
٢-

٣-

٤-

ثانياً :

اكتب العبارات الآتية تحت الخريطة المناسبة :
(الرياح شمالية شرقية تهب في شهر إبريل - الرياح في فصل الشتاء - موسم العودة إلى عمان - موسم الذهاب إلى أفريقيا- رياح جنوبية غربية - شهر نوفمبر)



١-

٢-

٣-

١-

٢-

٣-

انتهت الأسئلة مع الدعاء للجميع بالتوفيق والنجاح.