

تم تحميل هذا الملف من موقع المناهج العمانية



## حصاد درس منجزات عمانية في عصر الخلافة الراشدة

موقع فايلاتي ← المناهج العمانية ← الصف السادس ← اجتماعيات ← الفصل الأول ← ملفات متنوعة ← الملف

تاريخ إضافة الملف على موقع المناهج: 2024-11-21 21:05:40

ملفات اكتب للمعلم اكتب للطالب | اختبارات الكترونية | اختبارات | حلول | عروض بوربوينت | أوراق عمل  
منهج انجليزي | ملخصات وتقارير | مذكرات وبنوك | الامتحان النهائي للمدرس

المزيد من مادة  
اجتماعيات:

إعداد: خيرية بنت صالح العبرية

## التواصل الاجتماعي بحسب الصف السادس



صفحة المناهج  
العمانية على  
فيسبوك

الرياضيات

اللغة الانجليزية

اللغة العربية

التربية الاسلامية

المواد على تلغرام

## المزيد من الملفات بحسب الصف السادس والمادة اجتماعيات في الفصل الأول

اختبار تدريبي من سلسلة البيان نموذج خامس

1

اختبار تدريبي من سلسلة البيان نموذج رابع

2

اختبار تدريبي من سلسلة البيان نموذج ثالث

3

اختبار تدريبي من سلسلة البيان نموذج ثاني

4

اختبار تدريبي من سلسلة البيان نموذج اول

5

## ١- المنجزات العمانية في عصر الخلافة الراشدة:

| المجال السياسي                                   | المجال الاقتصادي  | المجال الثقافي                                     |
|--|---|--|
| المشاركة في الفتوحات الإسلامية وخاصة ( البحرية ) | ١- التجارة/ نقل السفن العمانية البضائع إلى موانئ بعيدة عبر المحيط الهندي .<br>٢- الصناعة/ صناعة السفن | - نشر الإسلام<br>- الاهتمام بالعلم مثل ( الخطابة ) |

٢- علل : استعانة الخليفة عمر بن الخطاب بالعمانيين في الفتوحات الإسلامية البحرية. بسبب خبرتهم في الملاحة البحرية وحماسهم في المشاركة في الفتوحات الإسلامية.

٣- الدول التي شارك العمانيون في فتحها في عصر الخلافة الراشدة .  
العراق – بلاد فارس(ايران حاليا) - قبرص- مصر- السند( باكستان حاليا).

٤- ما المقصود بالأسطول ؟

هو مجموعة من السفن تستخدم لأغراض مدنية او عسكرية .

٥- علل : مشاركة العمانيين في فتح فارس والعراق والسند.  
بسبب التجارة وعمق العلاقة بين عمان وتلك المناطق وقرب الموقع الجغرافي منها.

٦- ما الدور الذي لعبه العمانيون في مجال التجارة في عصر الخلافة الراشدة.  
كانت السفن العمانية تنقل البضائع إلى موانئ بعيدة عبر المحيط الهندي.

٧- الصورة المقابلة توضح إحدى الصناعات التي تميز بها العمانيون في عصر الخلافة الراشدة .



|         |                                  |
|---------|----------------------------------|
| السفن   | الصناعة                          |
| الأخشاب | مادة الصنع                       |
| الهند   | الدولة التي تجلب منها مادة الصنع |
| الألياف | طريقة ربط وتثبيت مادة الصنع      |



٨- علل: استخدام الألياف في صناعة السفن بدلا من المسامير.

بسبب توفرها في البيئة العمانية ومقاومتها للصدأ والتآكل في المياه المالحة وأسهل في الصيانة.

٩- الميناء الرئيسي للتجارة والملاحة في عُمان في عصر الخلافة الراشدة.  
صحار.

١٠- أهم الموانئ العمانية التي ازدهرت في عصر الخلافة الراشدة.  
• صحار  
• مرباط

١١- علل : ازدهار التجارة العمانية في عصر الخلافة الراشدة.  
بسبب شهرة العمانيين في الملاحة البحرية وصناعة السفن وعلاقاتهم القديمة مع الدول المجاورة .

١٢- طرق نشر العمانيين للإسلام في عصر الخلافة الراشدة.  
■ من خلال الفتوحات الإسلامية  
■ التجار العمانيون

١٣- أبرز العلماء العمانيون الذين برزوا في عصر الخلافة الراشدة.  
• كعب بن سور ( عينه الخليفة عمر بن الخطاب قاضيا على البصرة (العراق) .  
• صعصعة بن صوحان ( من خطباء العرب المشهورين).

### الأسئلة الموضوعية:

ضع دائرة حوال الرمز الدال على الإجابة الصحيحة من بين البدائل المعطاة:

- ١- الشخصية العمانية التي عينها الخليفة عمر بن الخطاب قاضيا على البصرة:  
أ- عقبة بن النعمان  
ب- كعب بن سور  
ج- عرفجة البارقي  
د- صعصعة بن صوحان

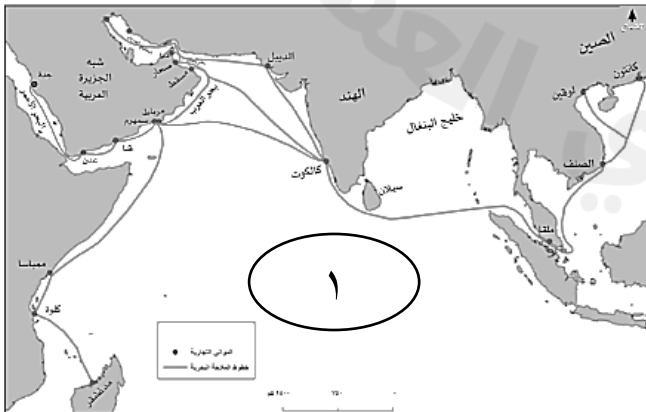
٢- المسطح المائي الذي يشير إليه الرقم (١) في الخريطة والذي عبرته السفن العمانية لنقل السلع:

أ- المحيط الهندي

ب- البحر الأحمر

ج- المحيط الأطلسي

د- بحر العرب



٣- الخطيب العماني الذي وصف بأنه من خطباء العرب المشهورين:

أ- عقبة بن النعمان      ب- كعب بن سور

ج- عرفجة البارقي      د- صعصعة بن صوحان

٤- من المنجزات الثقافية للعمانيين في عصر الخلافة الراشدة:

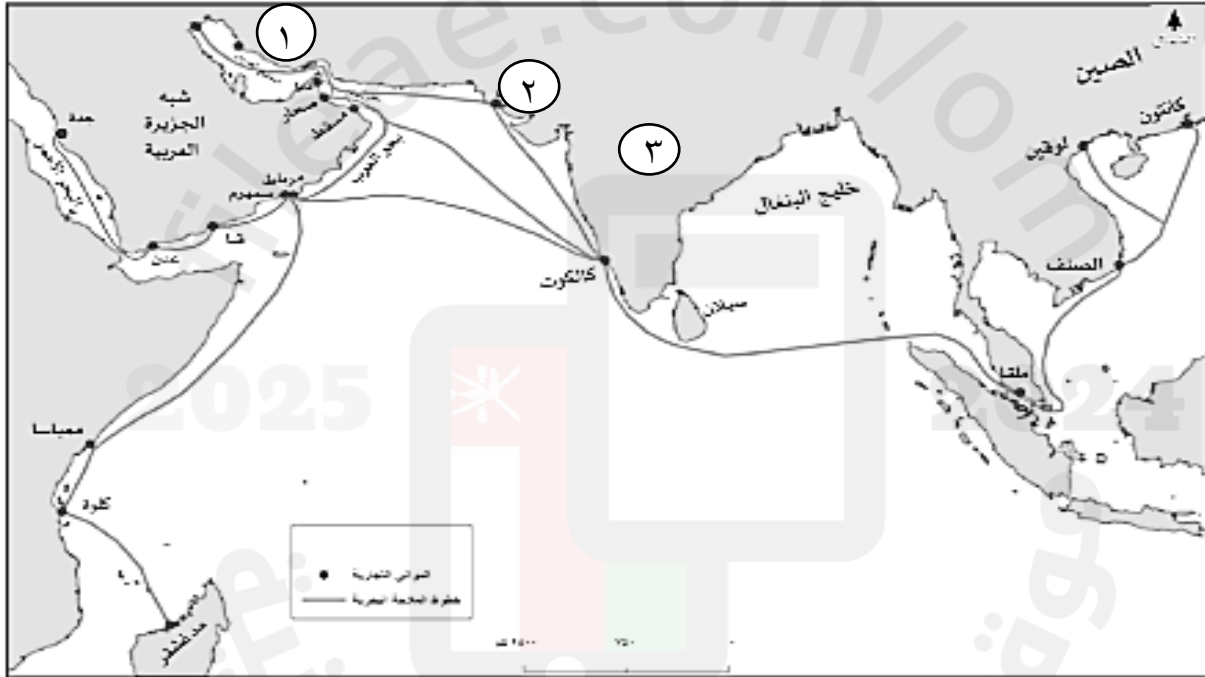
١- الخطابة      ب- التجارة      ج- الصناعة      د- الزراعة

٥- الميناء الرئيسي للتجارة والملاحة في عُمان في عصر الخلافة الراشدة:

أ- مسقط      ب- صور      ج- صحار      د- سمهرم

### الأسئلة المقالية:

١- ادرس الخريطة التي أمامك والتي توضح خطوط الملاحة البحرية عبر المحيط الهندي ثم  
أجب عن الأسئلة التي تليها:



١- اكتب على الخريطة المحيط الهندي في مكانه الصحيح.

٢- أسماء الدول التي شارك العمانيون في فتحها في عصر الخلافة الراشدة والمشار إليها في  
الخريطة بالأرقام:

..... (٢) ..... (١)

٣- رقم الدولة التي كان يجلب منها العمانيون الأخشاب لصناعة السفن.....

٤- ضع دائرة حول الميناء الرئيسي للتجارة والملاحة في عمان في عصر الخلافة الراشدة

٢- صنف المنجزات العمانية في عصر الخلافة الراشدة الآتية بوضع علامة (√) تحت المجال في الجدول الآتي :

| الثقافي | الاقتصادي | السياسي | المنجزات                               |
|---------|-----------|---------|--|
|         |           |         | نشر الإسلام                            |
|         |           |         | تبادل السلع مع الدول المجاورة          |
|         |           |         | المشاركة في الفتوحات الإسلامية البحرية |
|         |           |         | صناعة السفن                            |
|         |           |         | الخطابة                                |

٣- علل ما يلي:

أ- اعتماد دولة الخلافة الراشدة في فتوحاتها البحرية على العمانيين بالدرجة الأولى.


ب- ازدهار التجارة العمانية في عصر الخلافة الراشدة.

٤- أذكر اثنين مما يلي :

أ- المنجزات الثقافية للعمانيين في عصر الخلافة الراشدة.

ب- طرق نشر العمانيون للإسلام في عصر الخلافة الراشدة.

٥- ادرس الصورة المقابلة والتي توضح إحدى الصناعات التي تميز بها العمانيون في عصر الخلافة الراشدة ثم اكمل الجدول الآتي:



|                                  |  |
|----------------------------------|--|
| اسم الصناعة                      |  |
| مادة الصنع                       |  |
| الدولة التي تجلب منها مادة الصنع |  |
| طريقة ربط وتثبيت مادة الصنع      |  |

٦- أكمل المخطط الآتي والذي يوضح أبرز العلماء العمانيين في عصر الخلافة الراشدة:

|   |       |   |            |
|---|-------|---|------------|
|  | ..... |  | كعب بن سور |
| من خطباء العرب المشهورين  |       | .....   | .....      |