

## شكراً لتحميلك هذا الملف من موقع المناهج العمانية



## أسئلة الاختبار الرسمي مسقط

[موقع المناهج](#) ⇨ [المناهج العمانية](#) ⇨ [الصف السادس](#) ⇨ [علوم](#) ⇨ [الفصل الأول](#) ⇨ [الملف](#)

تاريخ نشر الملف على موقع المناهج: 09:35:06 2023-01-08

## التواصل الاجتماعي بحسب الصف السادس



## روابط مواد الصف السادس على تلغرام

[الرياضيات](#)

[اللغة الانجليزية](#)

[اللغة العربية](#)

[التربية الاسلامية](#)

## المزيد من الملفات بحسب الصف السادس والمادة علوم في الفصل الأول

[مراجعة عامة للوحدة الأولى](#)

1

[مراجعة الوحدة الثالثة](#)

2

[أسئلة متنوعة محلولة في الوحدة الثانية](#)

3

[مراجعة عامة للوحدة الثانية](#)

4

[سؤال قصير أول](#)

5

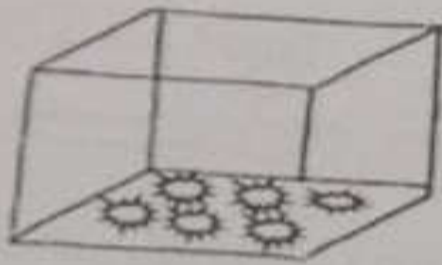
2

ب) ضع علامة (√) امام كل عبارة في الجدول الآتي:

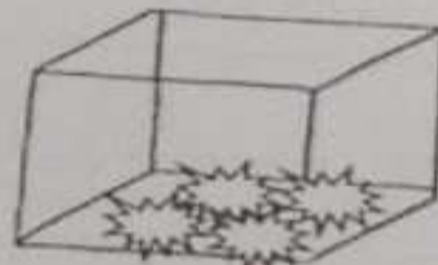
خطا	صواب	العبارة
		يقوم المرئ بدفع الطعام من الفم الى المعدة.
		يتم مزج الطعام بالعصارة الهضمية داخل الأمعاء.
		تفتت الأمعاء الدقيقة الطعام إلى جزيئات صغيرة لينقل عبر الدم.
		تقوم المعدة بإخراج الطعام الغير مهضوم خارج الجهاز الهضمي.

1

ج) الصناديق الآتية تمثل بقايا لنفس الطعام من المعدة والأمعاء الدقيقة :



الصندوق رقم ( 2 )



الصندوق رقم ( 1 )

1- أكتب رقم الصندوق الذي يمثل بقايا الطعام من :

- المعدة .....

- الأمعاء الدقيقة .....


السؤال السادس:



1) ما الغاز المنبعث من الشكل المقابل ؟  
(ظلل الإجابة الصحيحة)

- بخار الماء
- الأوكسجين
- أول أكسيد الكربون
- أكسيد الكبريت

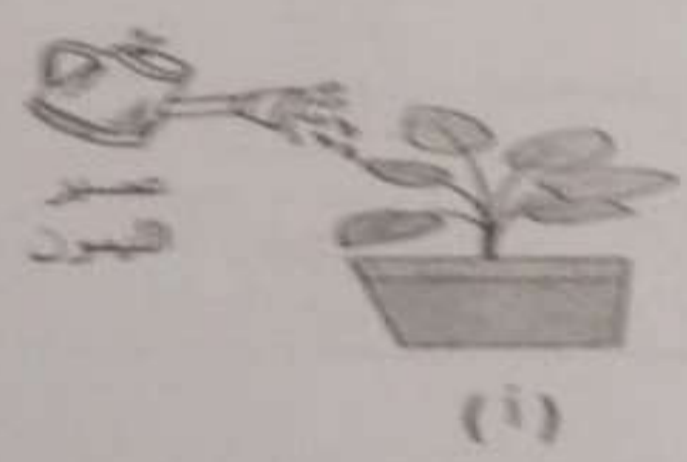
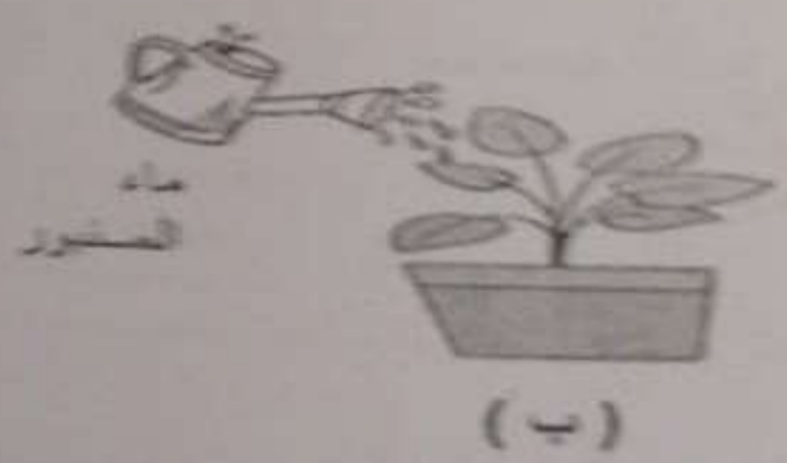
2) المخطط البياني الآتي يوضح بعض أنواع النفايات التي يخلقها البشر:



- 1- اذكر أنواع النفايات التي يخلقها البشر هي .....
- 2- صف كيف يمكن إعادة تدوير الزجاج؟

السؤال السابع:

1) يقوم طلاب الصف السادس بتنفيذ تجربة لدراسة تأثير الأقطار الحمضية على النبات:



1- ما رمز النبتة التي ستبدو بشكل أفضل؟

عصر إجابتك:

2- اذكر التعليل من الآثار السلبية التي تسببها الأقطار الحمضية.



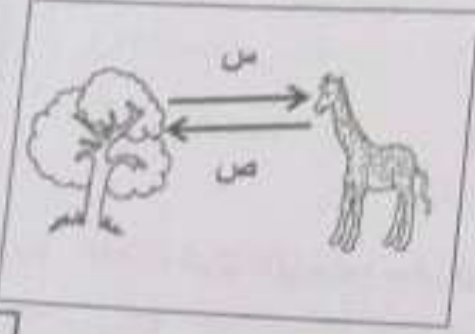
(4)

امتحان مادة العلوم للصف السادس  
الدور الأول - الفصل الدراسي الأول - العام الدراسي 2023/2022م

تابع السؤال الرابع:

1

ب) تترك إزالة الغابات آثاراً سلبية على البيئة كظاهرة الاحتباس الحراري.



1- ما رمز الغاز في الشكل المقابل الذي يسبب ظاهرة الاحتباس الحراري؟

.....

2- اذكر سببين من أسباب إزالة الغابات:

.....  
.....

2

السؤال الخامس:

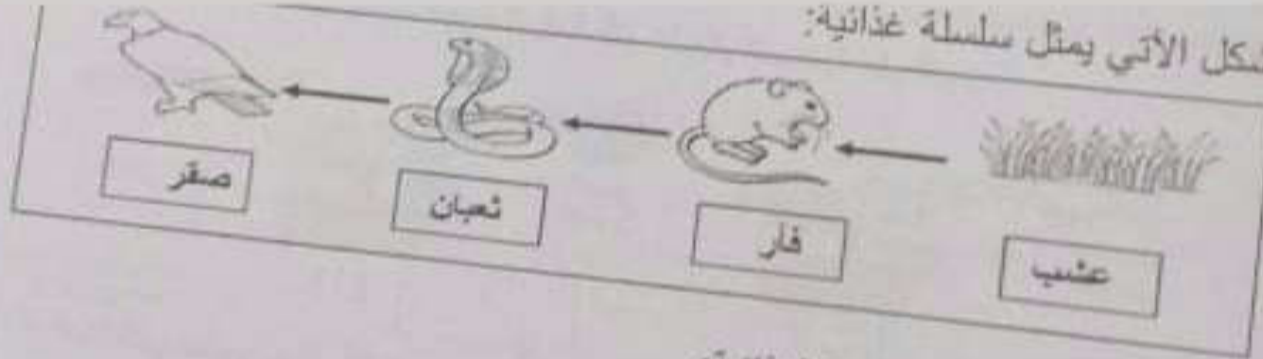
1

(ظلل الإجابة الصحيحة)

أ) ما المناخ الذي تنمو فيه الغابات الاستوائية:

- الحار الرطب  
 الحار الجاف  
 الحار المعتدل  
 الحار البارد

ب) الشكل الآتي يمثل سلسلة غذائية:



1- استخرج من السلسلة الغذائية:

- 1 - كائن منتج: .....
- 1 - كائن مستهلك ثاني: .....

2- تنبأ بما يحدث لأعداد الفئران إذا انقرضت الثعابين.

.....

يشع 5/

السؤال الثاني

أ. يورثنا من الطيور الطيور التي تسمى بالطيور المائية.

الطيور المائية

الطيور المائية
الطيور المائية
الطيور المائية
الطيور المائية

الطيور المائية

الطيور المائية
الطيور المائية
الطيور المائية
الطيور المائية

ب. الطيور المائية تسمى بالطيور المائية.



الشكل (1)

ج. الطيور المائية تسمى بالطيور المائية.



الشكل (2)

1

2

3

د. الطيور المائية تسمى بالطيور المائية.

هـ. الطيور المائية تسمى بالطيور المائية.

السؤال الرابع

أ. الشكر للفقير مثل سلعة غالية. الحيوان الذي يمكن إضافته مكان الرمز  هو:

(ظلل الإجابة الصحيحة)

طائر

حمار الوحش



من

يشو



السؤال الأول

أ) الجزء الذي ينقل الغذاء والأكسجين إلى جميع أجزاء الجسم هو:

(اختر الإجابة الصحيحة)

القلب

الأوعية الدموية

ب) مثل الشكل الآتي إحدى عمليتي التنفس في الجسم:



1- ما العملية التي يمثلها الشكل السابق؟

2- كيف يؤثر لعب كرة القدم على عملية التنفس؟

السؤال الثاني

أ) الرسم البياني الآتي يوضح معدل نبضات القلب لمجموعة من طلبة الصف السادس:



الطالب الذي له أعلى معدل نبض هو:

(اختر الإجابة الصحيحة)

سيف

علي

محمد

أحمد