


شكراً لتحميلك هذا الملف من موقع المناهج العمانية



دفتر الأنشطة للوحدتين الرابعة والخامسة

موقع المناهج ← المناهج العمانية ← الصف السابع ← اجتماعيات ← الفصل الثاني ← الملف

التواصل الاجتماعي بحسب الصف السابع



روابط مواد الصف السابع على تلغرام

[الرياضيات](#)

[اللغة الانجليزية](#)

[اللغة العربية](#)

[التربية الاسلامية](#)

المزيد من الملفات بحسب الصف السابع والمادة اجتماعيات في الفصل الثاني

الامتحان الرسمي النهائي بمحافظة الداخلية	1
الاختبار النهائي الرسمي في محافظة مسقط	2
نموذج إجابة الاختبار النهائي الرسمي في محافظة شمال الشرقية	3
الامتحان الرسمي النهائي لمحافظة الشرقية	4
الامتحان الرسمي النهائي لمحافظة الداخلية	5

سلطنة عمان

وزارة التربية والتعليم

المديرية العامة للتربية والتعليم بجنوب الشرقية


مدرسة القعقاع بن عمرو التميمي للتعليم الأساسي (٥-٨)

دفتر الانشطة لمادة الدراسات الاجتماعية

للفص السابع

الفصل الدراسي الثاني

إعداد معلم المادة: عبدالكريم العريمي



اسم الطالب المتميز:

قائمة المحتويات

الصفحة	الدروس
الوحدة الرابعة:- أنماط الحياة والاحتياجات السكانية	
٢	الدرس الأول:- الاستيطان الريفي والحضري
٦	الدرس الثاني:- الريف ومشكلاته
١٠	الدرس الثالث:- التحضر ومشكلات المدن
١٧	الدرس الرابع:- الاحتياجات السكانية
الوحدة الخامسة:- حضارات مصر والهلل الخصب	
٢٢	الدرس الأول:- الحضارة المصرية القديمة
٢٦	الدرس الثاني:- حضارات بلاد الرافدين
٣٢	الدرس الثالث:- حضارات بلاد الشام

الوحدة الرابعة:- أنماط الحياة والاحتياجات السكانية.

الدرس الأول:- الاستيطان الريفي والحضري.

السؤال الأول:- ضع دائرة حول رمز الإجابة الصحيحة من بين بدائل المعطاة:-

١- عدد المراحل تطور التجمعات البشرية تبعاً للمنجزات التي حققها الإنسان:

أ- ثلاث مراحل

ب- اربع مراحل

ج- خمس مراحل

د- ستة مراحل

٢- الترتيب الصحيح لمراحل تطور التجمعات البشرية حسب الشكل التالي:

أ- ٣ ٢ ٤ ٥ ١

ب- ٣ ٤ ٥ ١ ٢

ج- ٣ ٤ ٢ ٥ ١

د- ٣ ٢ ١ ٤ ٥

٤-الصيد والرعي

١-الصناعة

٥-التجارة

٢-الزراعة

٣-الجمع والالتقاط

٢-مرحلة التي أستأنس فيها الإنسان الحيوانات الأليفة وقام بتربيتها مرحلة:

أ-الجمع والالتقاط

ب-الصيد والرعي

ج-التجارة

د-الصناعة

٣- تأمل الصورة التالية، ثم اجب عن رقم أ و ب:

أ-تم اختراع الأداة في الشكل المقابل في مرحلة:

أ-الجمع والالتقاط

ب-الصيد والرعي

ج-التجارة

د-الصناعة

ب-تشير الصورة المقابلة إلى اختراع اسهم في تقدم الزراعة وهو استخدام:-

أ-المحراث

ب-الحيوان

ج-السماد

د-البذور

٥-النتيجة المترتبة على اختراع المحراث:

أ-الجمع والالتقاط

ب-الاستقرار في تجمعات

ج-ظهور المدن التجارية

د-تربية الحيوانات

٦-المرحلة التي قام الإنسان باستغلال موارد الأرض المحيطة به هي مرحلة:

أ-الجمع والالتقاط

ب-الصيد والرعي

ج-التجارة

د-الصناعة


٧-كثرة الحاصلات الزراعية وتنوعها في المرحلة :

أ-الجمع والالتقاط

ب-الصيد والرعي

ج-الزراعة


د-التجارة



٨- الصورة التي توضح مرحلة تقدم الزراعة في المجتمعات البشرية:



-د



-ج



-ب



-أ

٩- ابرز المنجزات التي حققها الانسان في مرحلة الصيد والرعي :

د- الهجرة من القرى

ج- استأنس الحيوانات

ب- جمع ثمار الأشجار

أ- الاستقرار في تجمعات سكانية

١٠- أدت كثرة الحاصلات الزراعية وتنوعها إلى:

د- تجارة العاج

ج- استأنس الحيوان

ب- التبادل التجاري

أ- الهجرة إلى الريف

١١- يطلق على التجمع السكاني الذي تتوفر فيه خدمات البنى التحتية:

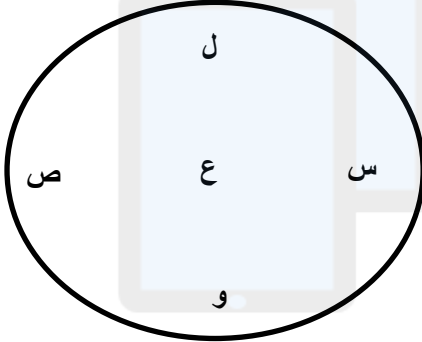
د- تنمية ريفية

ج- زحف حضري

ب- ريف

أ- منطقة حضرية

١٢- خاصية مركزية الخدمات في الموقع الحضري (المدينة) يرمز لها في الشكل التالي:



أ- ل

ب- س

ج- ع

د- و

السؤال الثاني:- اجب عن الاسئلة التالية:

١- انسب المنجزات الحضارية المذكورة في الجدول التالي إلى المرحلة التاريخية المناسبة: (الصيد والرعي - الزراعة - التجارة)

المنجزات الحضارية	المرحلة التاريخية
تقدم الصناعات المعتمدة على الحاصلات الزراعية
استقرار الإنسان في تجمعات سكانية
صنع أدوات الدفاع عن النفس

٢- من خلال الجدول التالي تعرف على مراحل تطور التجمعات البشرية بكتابة المرحلة مقابل إنجازاتها:

الإنجازات التي تمت فيها	اسم المرحلة
استهلاك من البيئة دون بذل جهد كبير.
استأنس الإنسان الحيوانات الأليفة.

٣- ما المقصود بالتوسط والمركزية .

.....

٤- ما النتيجة على تطور الآلات الزراعية في الدول المتقدمة .

.....

٥- لاحظ الصورة التالية، وأكمل الجدول التالي:



.....	اسم الاختراع
.....	اسم مرحلة التطور البشري لاستخدام الاختراع
.....	نتيجة واحدة ترتبت على استخدام الاختراع

٦- اذكر اثنين من اهم الانجازات التي استطاع الانسان ان يحققها في مرحلة الصيد والرعي.

٧- "اثر الظروف البيئية في الانسان القديم فجعلته ينتقل من منطقة إلى أخرى سعياً وراء الماء والغذاء" في ضوء هذا العبارة اجب عن السؤال التالي:

- ما العامل الذي ساعد الإنسان على الاستقرار في تجمعات بشرية.

٨- قارن في الجدول التالي بين الريف والحضر على حسب المعطيات التالية:

وجه المقارنة	الريف	الحضر
المفهوم
الخصائص

٩- امامك جدول يمثل مراحل تطور التجمعات البشرية، درسها جيداً ثم صف الإنجازات التالية على هذه المراحل:

(اختراع المحراث - اكتظاظ المدن بالسكان - استئناس الحيوانات - تجمعات إنسانية غير مستقرة)

مرحلة الجمع والالتقاط	مرحلة الصيد والرعي	مرحلة الزراعة	مرحلة التجارة	مرحلة الصناعة
.....

١٠- رتب المنجزات التالية التي حققها الإنسان على مراحل تطور المجتمعات من الأقدم إلى الأحدث:

(.....) هجرة سكان القرى من مناطق الزراعة إلى مناطق الصناعة.

(.....) أخذ بزراعة الأرض وأدى ذلك إلى استقرار الإنسان.

(.....) التبادل التجاري وظهور المدن التجارية.

(.....) عاش الإنسان مستهلكاً لما تنتجه البيئة دون ان يبذل جهداً كبيراً.

(.....) استئناس الحيوانات من خلال تربيته.

١١- فسر قيام التبادل التجاري بين البيئات المختلفة في بداية مراحل تطور المجتمعات البشرية.

١٢- ادرس الشكل المقابل جيداً، ثم اجب عن الاسئلة التالية:-



أ- على ماذا يدل الشكل المقابل

ب- ما المادة الأساسية التي استخدمت في صناعتها

ج- في أي عصر من العصور التاريخية صنع الإنسان هذه الأدوات وإلى أي مرحلة

تعود

د- استنتج الأهداف من صنع هذه الأدوات

١٣- ادرس الشكل المقابل جيداً، ثم اجب عن الاسئلة التالية:-



أ- على ماذا يدل الشكل المقابل

ب- ما المادة الأساسية التي استخدمت في صناعته

ج- في أي عصر من العصور التاريخية صنع الإنسان هذه الأداة وإلى أي مرحلة تعود

.....

د- ما النتيجة المترتبة من اختراع هذه الأداة

.....

هـ- فسر العبارة التالية: "تعد الزراعة من أهم العوامل التي ساعدت على الاستقرار

.....

١٤- صنف في الجدول أدناه العبارات التالية إلى خصائص الريف أو المدينة:

(انتشار نمط الأسرة الكبيرة - التوسط والمركزية - ارتفاع قيمة الأراضي - توفر الخامات الزراعية - توفر الخدمات الأساسية - قوة العلاقات الأسرية).

الريف	المدينة
.....
.....
.....

الوحدة الرابعة:- أنماط الحياة والاحتياجات السكانية.

الدرس الثاني:- الريف ومشكلاته.

السؤال الأول:- ضع دائرة حول رمز الإجابة الصحيحة من بين بدائل المعطاة:-

١- جميع العناصر التالية تؤدي إلى حدوث التصحر ما عدا:

أ-تفتت الملكية الزراعية ب-الرعي الجائر ج-شدة الجفاف د-تملح التربة

٢- يُطلق على مناطق الاستقرار في القرى الصغيرة أو الكبيرة:

أ-الحضر ب-الريف ج-الزحف الحضري د-التنمية الريفية

٣- المحافظة المشار إليها بالرقم (٤) في الخريطة عقدت فيها ندوة عام ٢٠٠٢م لحل احد مشكلات الريف الدول النامية وهي مشكل:

أ-الهجرة

ب-التصحر

ج-الزحف الصحراوي

د-نقص المياه

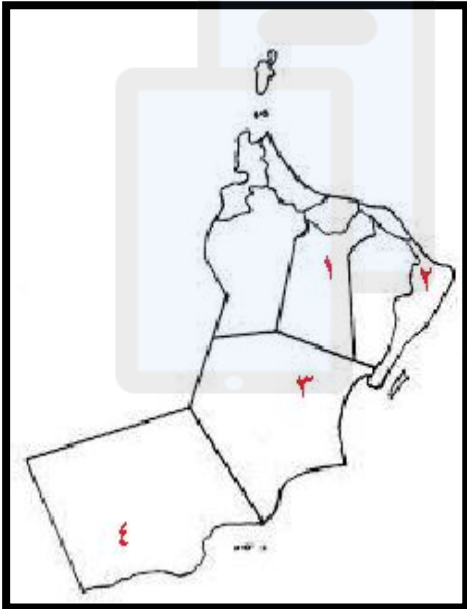
٤-الرقم الذي يشير في خريطة سلطنة عُمان التي عقدت فيها ندوة التصحر عام ٢٠٠٢م:

أ-١

ب-٢

ج-٣

د-٤

٥-الأرقام الدالة على المشكلات الاجتماعية التي تواجه الريف في

الدول النامية وفقاً للجدول:

أ-(٢،١) ب-(٤،٣) ج-(٣،١) د-(٤،٢)

٦- الأرقام الدالة على المشكلات الاقتصادية التي تواجه الريف في

الدول النامية وفقاً للجدول:

أ-(٢،١) ب-(٤،٣) ج-(٣،١) د-(٤،٢)

٧-خطط يتم تصميمها بهدف تطوير الحياة الاجتماعية والاقتصادية لمجموعة معينة من الناس في المناطق الريفية:

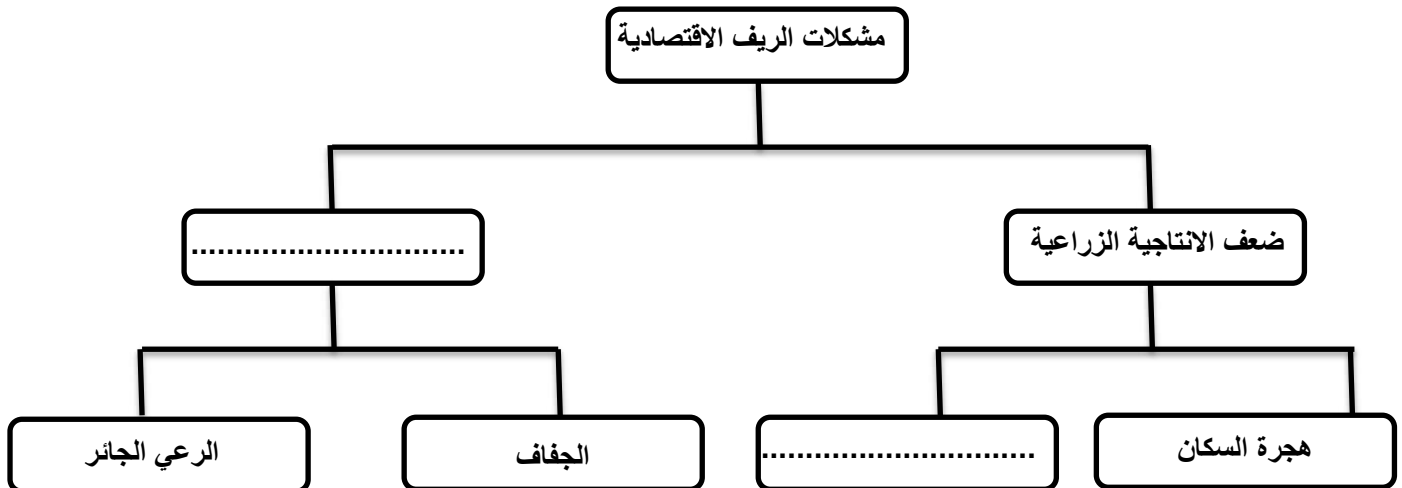
أ-الريف

ب- التنمية الريفية

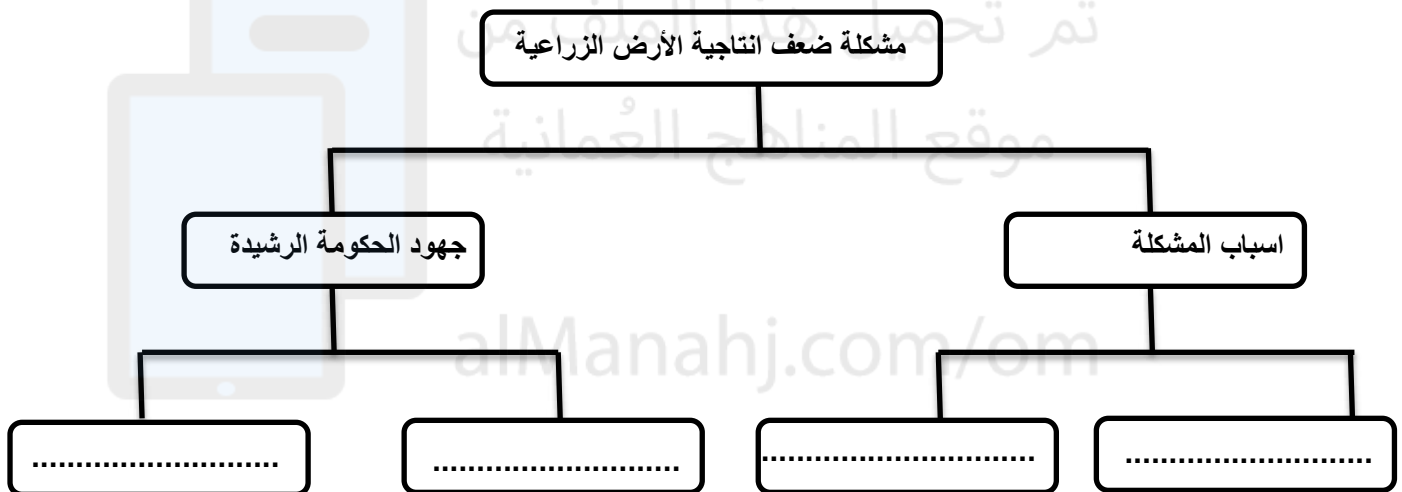
ج-الحضر

د- المركز الحضري

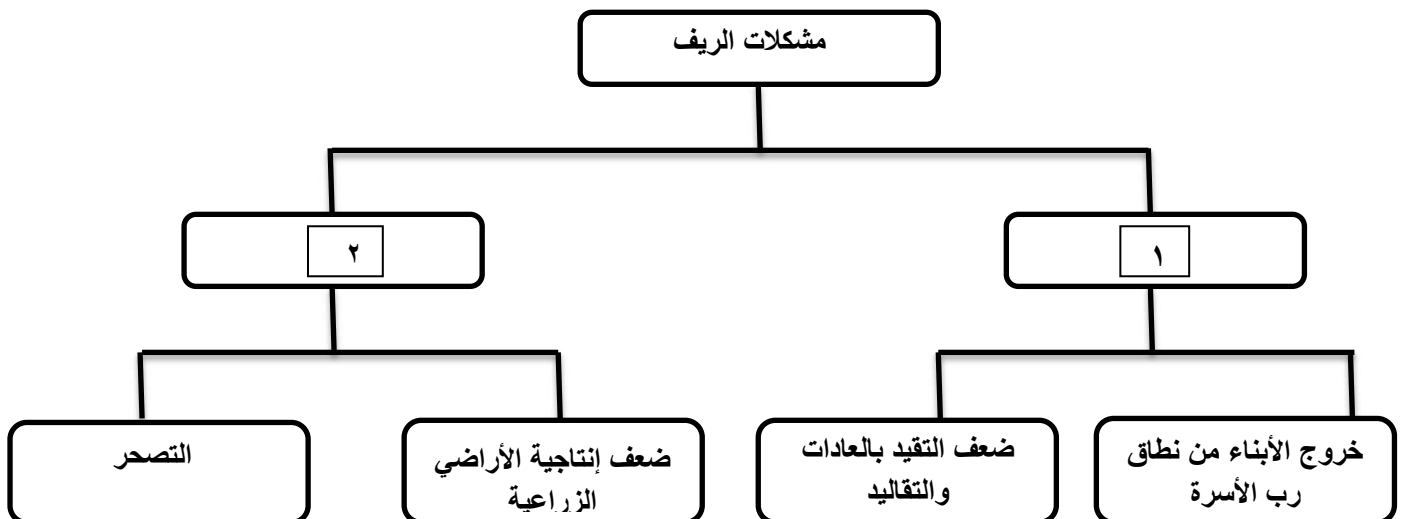
٥- اكمل المخطط التالي الذي يمثل مشكلات الريف الاقتصادية.



٦- يواجه الريف في الدول النامية بعض المشكلات الاقتصادية في ضوء ذلك اكمل خريطة المفاهيم التالية:



٧- امامك خريطة مفاهيمية تمثل بعض مشكلات الريف، ادرسها جيداً ثم اجب عن الأسئلة التي تليها:



أ-اكتب ما تشير إليه الأرقام التالية:

٢-.....

١-.....

ب- استخرج من خريطة المفاهيم اسم ظاهرة التي يعد الرعي الجائر احد اسبابها.

٨- ما المقصود بالتوسط والمركزية.

٩- ما النتائج المترتبة من هجرة السكان من الريف إلى المدن الحضرية.

١٠- ما النتائج المترتبة على هجرة الذكور في بعض الدول من الريف إلى المدن الحضرية.

١١- ما اسباب ظهور ظاهرة التصحر في الريف.

١٢- في ضوء دراستك للمشكلات التي تواجه التنمية الريفية، صنف في الجدول الذي أمامك المجالات الآتية حسب المشكلة التي تنتمي إليها: (الهجرة - الزراعي - الاقتصادي - الاجتماعي)

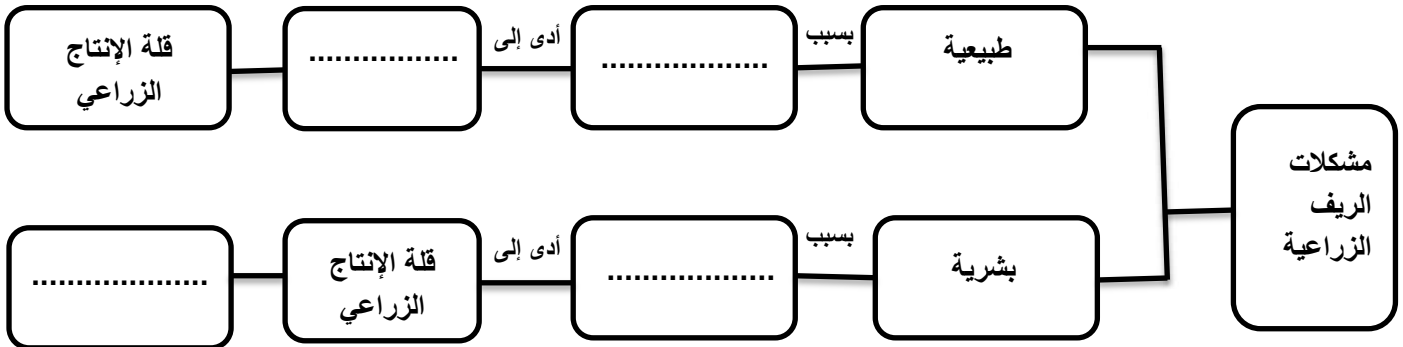
المجال	المشكلة	م
.....	تفتت الملكية الزراعية	١
.....	تخلخل البناء الاجتماعي والاقتصادي	٢
.....	تغير نمط الأسرة من الممتدة إلى صغيرة	٣
.....	ضعف إنتاجية الأراضي الزراعية	٤

١٣- برانيك ما سبب زيادة هجرة السكان من الريف إلى المدن الحضرية".

١٤- ما النتائج المترتبة على تفتت الملكية الزراعية.

١٥- امامك عدة نتائج ترتبت على مشكلات الريف الزراعية ، قم بإعادة ترتيبها في المخطط التالي:-

(الظروف المناخية - قلة دخل الفرد - تناقص الموارد المائية - هجرة القوى العاملة).



الوحدة الرابعة:- أنماط الحياة والاحتياجات السكانية.

الدرس الثالث:- التحضر ومشكلات المدن.

السؤال الأول:- ضع دائرة حول رمز الإجابة الصحيحة من بين بدائل المعطاة:-


١-يطلق على التجمع السكاني الذي تتوفر فيه خدمات البنى التحتية:

أ-ريف ب-تنمية ريفية ج-منطقة حضرية د-زحف حضري

٢-المدينة المليونية الأسرع نمواً في العالم تقع في قارة:

أ-آسيا ب-أوروبا ج-أمريكا الشمالية د-أستراليا

٣-إحدى مشكلات المدن في الدول النامية الموضحة في الشكل المقابل:



أ-الإسكان

ب-ضعف مستوى الخدمات

ج-التلوث

د-الاختناقات المرورية

٤-اتجاه نمو سكان المدن في الدول المتقدمة خلال الفترة (١٩٢٠-٢٠٠٠م) كما في الجدول المقابل:

النسبة المئوية لسكان المدن (%)			أقاليم العالم
٢٠٠٠م	١٩٨٠م	١٩٢٠م	
٤٣	٣٢	١٠	● الدول النامية
٤٠	٣١	٩	- شرقي آسيا
٣٥	٢٥	٩	- جنوبي آسيا
٨٠	٦٠	٢٢	- أمريكا اللاتينية
٣٩	٢٨	٧	- أفريقيا
٨٠	٧٠	٤٠	● الدول المتقدمة
٧١	٤٦	٤٦	- أوروبا
٧٨	٦٥	٥٢	- أمريكا الشمالية
٨٥	٨١	١٥	- روسيا

أ-يرتفع

ب-ينخفض

ج-ثابت

د-عكسي

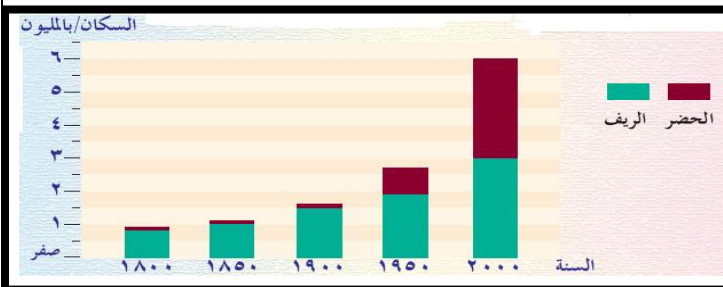
٥-السنة التي يتساوي او يتقارب فيها نمو كان الريف والحضر في العالم هي سنة:

أ-١٨٠٠م

ب-١٨٥٠م

ج-١٩٠٠م


د-٢٠٠٠م



٦-توضح الصورة المقابلة إحدى المشكلات التي تعاني منها المدن:

أ-الازدحام والاختناقات المرورية ب-ضعف مستوى الخدمات

ج-الإسكان د-تلوث المياه



٧- أكثر الخيارات التي يفضلها أغلبية المهاجرين إلى المدن للتغلب على مشكلة السكن:

أ- العيش على أرصفة الشوارع

ب- استئجار غرفة واحدة

ج- العودة إلى القرى

٨- أسرع المدن المليونية الضخمة نمواً في العالم:

أ- مكسيكو سيتي

ب- طوكيو

ج- ساوباولو

د- نيويورك

٩- يشكل سكان مدن الدول النامية حالياً بالنسبة لسكان المدن في العالم النسبة المئوية:

أ- ٤٠%

ب- ٤٥%

ج- ٥٠%

١٠- بلغ عدد المدن المليونية الضخمة مع بداية القرن الحادي والعشرين حوالي:

أ- ١٠٠

ب- ٢٠٠

ج- ٣٠٠

د- ٤٠٠

١١- يطلق على الهجرة العكسية من المدينة إلى الريف:

أ- التحضر

ب- التراجع الحضري

ج- التنمية الريفية

د- الزحف الحضري

١٢- الإقليمين الذين تتساوي فيهما النسبة المئوية لسكان المدن في

عام ٢٠٠٠ م من خلال الجدول المقابل:

أ- أمريكا اللاتينية وأستراليا

ب- جنوب اسيا وأوروبا

ج- شرقي اسيا وروسيا

د- أوروبا وأفريقيا

١٣- من خلال الجدول الذي أمامك، أسرع اقاليم العالم نمواً في سكان

المدن عام ٢٠٠٠ م:

أ- أفريقيا

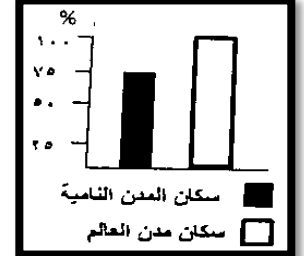
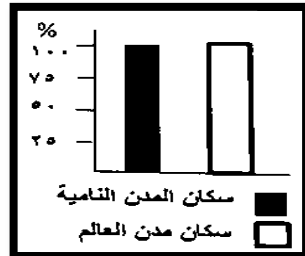
ب- أمريكا اللاتينية

ج- شرقي أفريقيا

د- روسيا

أقاليم العالم	النسبة المئوية لسكان المدن (%)		
	١٩٢٠ م	١٩٨٠ م	٢٠٠٠ م
● الدول النامية	١٠	٣٢	٤٣
- شرقي آسيا	٩	٣١	٤٠
- جنوبي آسيا	٩	٢٥	٣٥
- أمريكا اللاتينية	٢٢	٦٠	٨٠
- أفريقيا	٧	٢٨	٣٩
● الدول المتقدمة	٤٠	٧٠	٨٠
- أوروبا	٤٦	٤٦	٧١
- أمريكا الشمالية	٥٢	٦٥	٧٨
- روسيا	١٥	٨١	٨٥
- أستراليا والمحيط الهادي	٤٧	٦٨	٨٠
● العالم	١٩	٤٦	٥١

١٤- الشكل البياني الذي يوضح نسبة سكان مدن الدول النامية بالنسبة لسكان المدن في العالم:



١٥- المدن المليونية الضخمة يزيد عدد سكانها بالمليون نسمة عن:

أ- ٩

ب- ١٠

ج- ١١

د- ١٢

١٦- يشكل سكان مدن الدول النامية حالياً بالنسبة لسكان المدن في العالم النسبة المئوية:

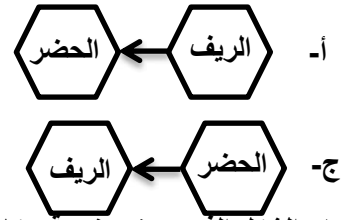
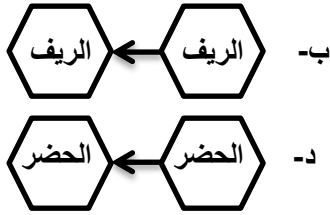
أ- ٤٠%

ب- ٤٥%

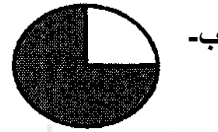


ج- ٥٠%

د- ٥٥%

١٧- الشكل الذي يشير إلى مفهوم التراجع الحضري:



١٨- الشكل الذي يوضح نسبة سكان مدن الدول النامية في العالم:



١٦- يطلق على عملية تزايد نسبة سكان المدن إلى المجموع الكلي للسكان في بلد ما اسم:

د- البنية السكانية

ج- التحضر

ب- الهجرة

أ- النمو السكاني

السؤال الثاني:- اجب عن الاسئلة التالية:

١- ما المقصود بالمصطلحات التالية:

أ-الحضر.....

ب-المدن المليونية الضخمة:.....

ج-التراجع الحضري.....

٢- ما الأسباب التي ادت إلى ظهور مدن الأكواخ.

.....

٣- انظر إلى الصورة التالية، ثم اجب عن الأسئلة التي تليها:

أ-المشكلة التي تعاني منها المدن من خلال الصورة.

.....

ب-ما الأسباب التي ادت إلى ظهور هذه المشكلة.

.....

ج-اذكر الأمراض الناتجة عن هذه المشكلة.

.....

د-كيف يمكن التغلب على هذه المشكلة.

.....



٤- ما مميزات مدن الأكواخ.

.....

.....

٥- علل زيادة حركة الهجرة من الريف إلى المدن الحضرية.

.....

٦- حول هذا درس صنف العبارات التالية إلى اسباب او نتائج في الجدول التالي:

(انتشار الأمراض - صعوبة الحصول على المياه الصالحة للشرب - تزايد عدد السكان والسيارات - بناء المنازل من بقايا الخشب والصفائح)

النتائج	الأسباب
.....	ضعف شبكات المياه
الازدحام والاختناقات المرورية
.....	تلوث الهواء والماء
ظهور مدن الأكواخ

٧- انظر إلى الرسم البياني الذي أمامك والذي يوضح نمو سكان الريف والحضر في العالم، ثم اجب عن الأسئلة التي تليها:



أ- بلغ عدد سكان الريف في عام ١٩٥٠ م تقريباً..... مليون.

ب- في أي عام بلغ عدد سكان الحضر (١) مليون.....

ج- في الرسم البياني الذي أمامك ارسم عموداً يبين أعداد سكان الريف والحضر في عام ٢٠٠٠ م علماً بأن عدد سكان الحضر ٦ مليون وعدد سكان الريف ٣ مليون.

٨- كيف ساهمت الثورة الصناعية في نمو المدن وتضخمها.

.....

٩- أمامك صورة تمثل مشكلة الإسكان التي تواجه المدن في الدول النامية ادرسها جيداً، ثم اجب عن الأسئلة التي تليها:

أ- استنتج اسم المشكلة التي تمثلها الصورة المقابلة.

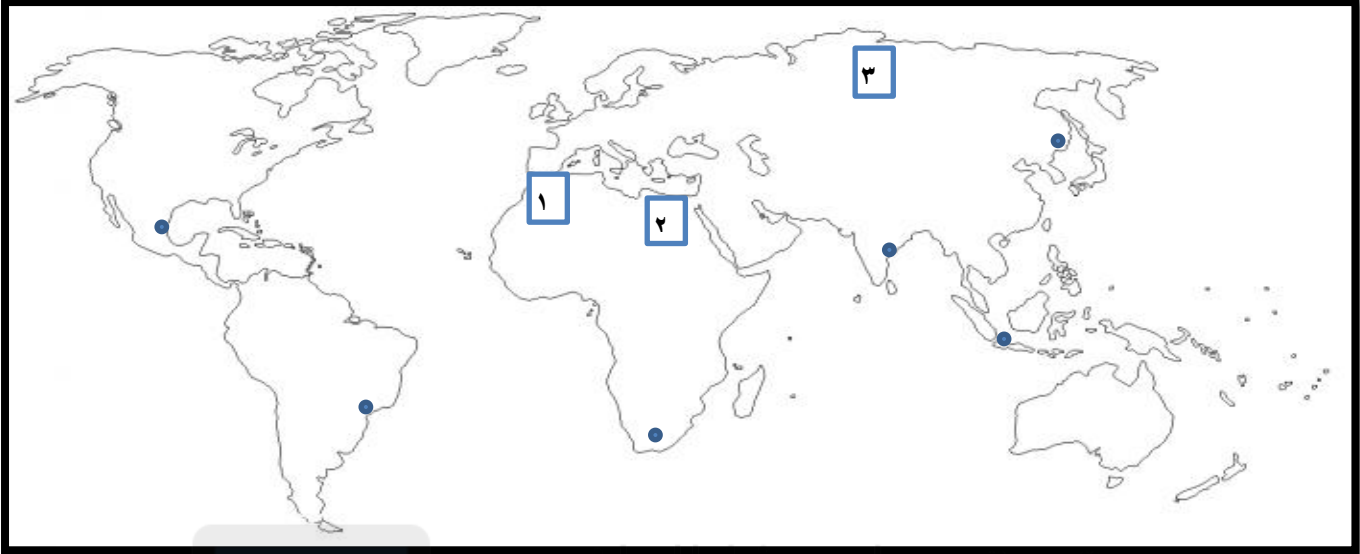
.....

ب- أعط مثالين على ما يميز هذه المشكلة.

.....



١٠- من خلال خريطة العالم الصماء، اجب عن الأسئلة التي تليها:



أ-ما الرقم الذي يشير إلى المدينة العربية المليونية.....

ب-وقع على الخريطة المدينة الاسرع نمواً في العالم.

ج-ظل على القارة التي تأتي في المرتبة الأولى من حيث عدد المدن المليونية فيها.

د-اكتب اسماء المدن المليونية الآتية في موقعها الصحيح على الخريطة: (كاليكوتا - ساوباولو - مكسيكوسيتي).

١١- امامك صورة تمثل واحدة من مشكلات المدن في العالم، أدرسها ثم اجب عن الأسئلة التي تليها:

أ-سم المشكلة الظاهرة في الصورة.

ب-ما سبب حدوث هذه المشكلة.

ج-ما النتائج الاقتصادية التي تنتج عن هذه المشكلة.

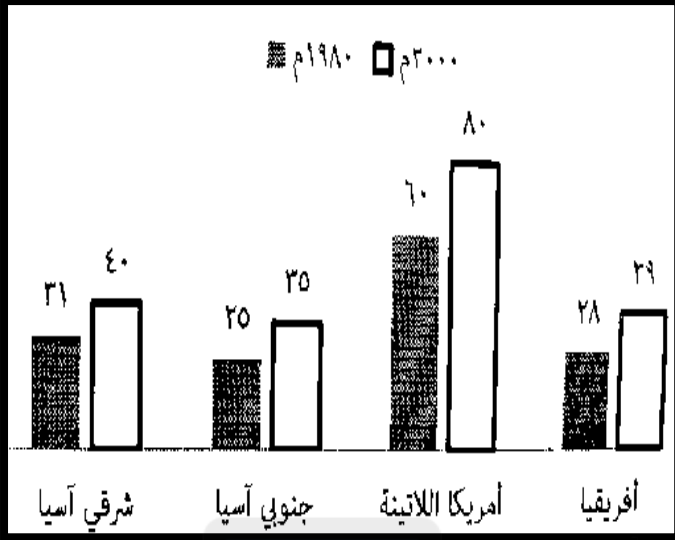
د-اعط حلاً واحداً لهذه المشكلة.



١٢- صف مدن الأكوخ.

١٣- اذكر الخيارات التي يواجهها المهاجر إلى المدن الحضرية في الدول النامية وعدم توفر المسكن .

١٤- أمامك شكل بياني النسبة المئوية لنمو سكان المدن في أقاليم الدول النامية في العالم ادرسه جيداً، ثم اجب عن الأسئلة التي يليها:



أ-كم بلغت نسبة سكان المدن في إقليم جنوبي آسيا عام ٢٠٠٠م.

ب-سم الإقليم الذي يمثل النسبة الأعلى لسكان المدن عام ١٩٨٠م.

ج-ما المرتبة التي احتلها إقليم أفريقيا عام ٢٠٠٠م.

د-استخرج الفرق في نسبة نمو سكان مدن إقليم شرقي آسيا بين


عامي ١٩٨٠م و ٢٠٠٠م.

١٥-قارن بين مشكلات المدن في الدول النامية حسب معطيات الجدول التالي:

وجه المقارنة	مشكلة الازدحام والاختناقات المرورية	التلوث والصحة
الأسباب
النتائج

١٦- علل تزايد أعداد المدن المليونية الضخمة في الثلاثين سنة الأخيرة.

١٧- اكتب امام كل جملة من الجمل التالية رقم الصورة الدالة عليها من الصور الموجودة أمامك:



(٢)



(١)


ب-الافتقار إلى التخطيط السكني (.....).

أ-عدم امتلاك نظاماً متطوراً للنقل العام (.....).

١٨- ما النتائج المترتبة على ازدحام الطرق بالسيارات والمركبات بالطرق الكبيرة.

١٩- اقترح حلاً مناسباً لحل مشكلة الازدحام المروري في ولاية جعلان بني بو علي.

.....



تم تحميل هذا الملف من
موقع المناهج العُمانية

alManahj.com/om

الوحدة الرابعة:- أنماط الحياة والاحتياجات السكنية.

الدرس الرابع:- الاحتياجات السكنية.



السؤال الأول:- ضع دائرة حول رمز الإجابة الصحيحة من بين بدائل المعطاة:-

١- الخدمة التي توفرها الحكومة العمانية حسب الصورة المقابلة:

- أ- الكهرباء
ب- الماء
ج- الطرق
د- الصحة

٢- الأسر التي تستفيد من برنامج القروض السكنية في مجال الإسكان الاجتماعي:

- أ- أسر الدخل المحدود
ب- أسر الضمان الاجتماعي
ج- أسر الدخل المتوسط
د- أسر الدخل العالي

٣- من الخدمات التي تقدمها الدولة وتكمن أهميتها في ربط مواقع الإنتاج بأسواق الاستهلاك والتصدير:

- أ- الماء
ب- الكهرباء
ج- الطرق
د- الصحة

٤- المخطط الصحيح للبرامج التي يشملها مجال الإسكان الاجتماعي في سلطنة عُمان:

- أ- المساعدات السكنية
ب- المخططات السكنية
ج- المساعدات السكنية
د- المخططات السكنية
أ- المساعدات السكنية
ب- القروض السكنية
ج- المساعدات السكنية
د- الأراضي السكنية

٥- برنامج المساعدات السكنية في السلطنة يخدم أسر الضمان الاجتماعي والأسر ذات الدخل:

- أ- المتوسط
ب- المحدود
ج- المرتفع
د- جميع ما ذكر

٦- تساهم عملية الإنتاج والاستيراد من الخارج في توفير المواد الغذائية الأساسية في سلطنة عُمان من خلال دور:

- أ- مخازن الاحتياطي الغذائي
ب- شركة المطاحن العمانية
ج- الأسواق التجارية
د- شركة المطاحن العمانية
ب- برنامج القروض الميسرة
د- الأسواق التجارية

- أ- مخازن الاحتياطي الغذائي
ب- دائرة الزراعة
ج- برنامج القروض الميسرة
د- نظام المقايضة
ب- مخازن الاحتياطي الغذائي
د- الأسواق التجارية

٧- الجدول الذي يوضح دور الحكومة في توفير احتياجات المواطنين:

احتياجات المواطنين	دور الحكومة	ب-
الغذاء	توفير الكوادر المؤهلة	
الرعاية الصحية	الاستيراد من الخارج	
الإسكان	تقديم القروض للمواطنين	

احتياجات المواطنين	دور الحكومة	أ-
الرعاية الصحية	توفير الكوادر المؤهلة	
الغذاء	الاستيراد من الخارج	
الإسكان	تقديم القروض للمواطنين	

احتياجات المواطنين	دور الحكومة	د-
الرعاية الصحية	توفير الكوادر المؤهلة	
الإسكان	الاستيراد من الخارج	
الغذاء	تقديم القروض للمواطنين	

احتياجات المواطنين	دور الحكومة	ج-
الإسكان	توفير الكوادر المؤهلة	
الغذاء	الاستيراد من الخارج	
الرعاية الصحية	تقديم القروض للمواطنين	

السؤال الثاني:- اجب عن الاسئلة التالية:

١-فسر العبارة التالية: "تعد الطرق من الوسائل الضرورية للمواطن والدولة".

٢-اقترح حلاً مناسباً لمشكلة شح المياه في سلطنة عُمان.

٣-وضح أهمية الطرق الحديثة في الدولة.

٤-وضح دور المواطن في دعم جهود الحكومة الرشيدة في توفير المياه الصالحة للشرب.

٥-علل صعوبة الحصول على المياه الصالحة للشرب بالمدن الكبرى في الدول النامية.

٦-اذكر اثنين من أهمية الطرق بالنسبة للإنسان والدولة.

٧-قارن بين كل من مجال التخطيط والمساحة ومجال الإسكان الاجتماعي من حيث ما يلي:

وجه المقارنة	مجال التخطيط والمساحة	مجال الإسكان الاجتماعي
الخدمات التي تقدمها الحكومة الرشيدة

٨-"تعد الكهرباء والطرق من الضروريات الأساسية للمواطنين ومؤشراً على نموهم الحضاري". في ضوء العبارة التالية اجب عن الأسئلة التي تليها.

أ-ما الجهود التي تبذلها السلطنة في مجال الكهرباء.

ب-ما مدى أهمية التغيرات الحاصلة في شبكة الطرق.

٩-دلل على حرص السلطنة على تأمين السكن الملائم للمواطنين.

١٠-عدد اهم وسائل الاتصال الحديثة.

١١- ادرس الصورة التالي جيداً، ثم اجب عن الاسئلة التي تليها:
أ-ما اسم الاحتياج السكاني الواضح في الصورة.



ب-لماذا يعتبر من اهم الضروريات للسكان.

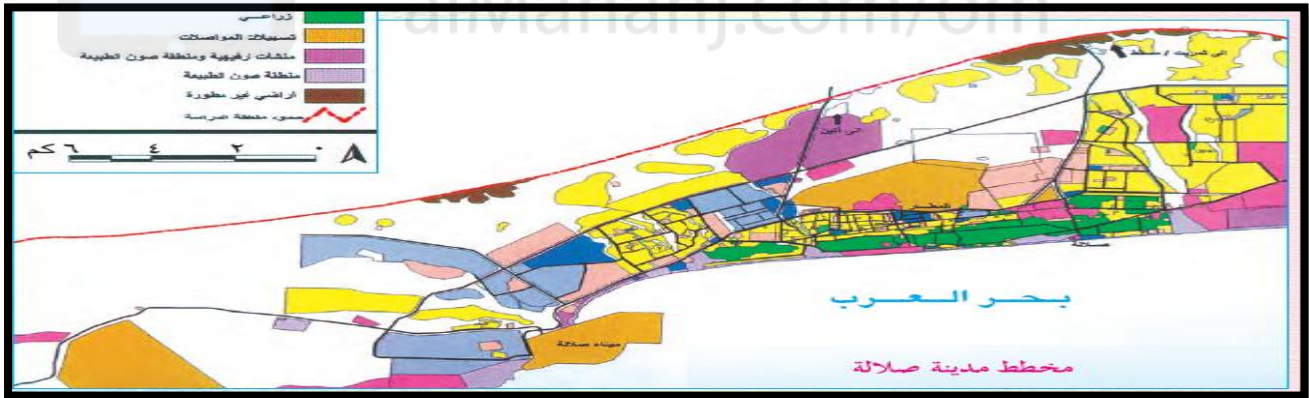
١٢- ادرس الصورة التالي جيداً، ثم اجب عن الاسئلة التي تليها:
أ-الصورة توضح إحدى الخدمات الأساسية التي تقدمها الحكومة
الرشيده للمواطنين وهي خدمة.....



ب-ما اهمية هذه الخدمة.....

ج-اذكر مثالا من بيئتك المحلية يؤكد اهتمام السلطنة بتوفير هذا النوع
من الخدمات.....

١٣- انظر إلى مخطط المدينة التي أمامك، ثم اجب عن الأسئلة التي تليها:



أ-استخرج من المخطط اثنين من التسهيلات التي تقدمها الحكومة في مجال المواصلات.

ب-المدينة العمانية التي يوضحها المخطط الذي أمامك: أ-صلالة ب-صحار (اختر الإجابة الصحيحة)

١٤- اذكر جهود الحكومة الرشيده في توفير:


أ-الرعاية الصحية.....

ب-التعليم.....

١٥- اكمل بيانات الجدول التالي باستخدام الجمل الموجودة بين القوسين:

(توفير شبكة المعلومات الدولية – تزويد الفرد بالمهارات الضرورية للحياة – تشجيع القطاع الخاص على إنشاء المحلات التجارية)

احتياجات المواطن العُماني	دور الدولة في توفيرها
الغذاء
الاتصالات
التعليم



تم تحميل هذا الملف من
موقع المناهج العُمانية

alManahj.com/om

الوحدة الخامسة:- حضارات مصر والهلال الخصيب.

الدرس الأول:- الحضارة المصرية القديمة.

السؤال الأول:- ضع دائرة حول رمز الإجابة الصحيحة من بين بدائل المعطاة:-

١-الملك الفرعوني الذي أمر بنحت تمثال أبو الهول:

د-أحمس

ج-منقرع

ب-خفرع

أ-خوفو

٢-الترتيب الصحيح لأسماء ملوك مصر في عهد الدولة الحديثة حسب اسبقية حكمهم لمصر (من الأقدم إلى الأحدث) هو :

١	أحمس
٢	أمنحوتب الرابع (أخناتون)
٣	حتشبسوت

د-(١-٣-٢)

ج-(١-٢-٣)

ب-(١-٣-٢)

أ-(١-٢-٣)

٣-لقب بملك مصر العليا والسفلى وعرف بصاحب التاجين هو:

د-خفرع

ج-أمنحوتب

ب-خوفو

أ-مينا



٤-موقع بناء الأهرامات (خوفو، خفرع، منقرع) في الخريطة المقابلة مشار إليه بالرقم:

أ-١

ب-٢

ج-٣

د-٤



٥-الحاكم الفرعوني الذي تدل عليه الصورة المقابلة:

ب-أخناتون الرابع

أ-تحتمس

د-رمسيس

ج-توت عنخ آمون

٦-عُقدت أقدم معاهدة سلام في التاريخ في عهد رمسيس الثاني الذي يُعتبر من فراعنة مصر في الدولة:

د-المعاصرة

ج-الحديثة

ب-الوسطى

أ-القديمة


٧-تمثل الصور المقابلة من أبرز إنجازات الحضارة:

أ-السومرية

ب-المصرية

ج-الأشورية

د-البابلية



٨-الفرعون الذي خاض معركة قادش ضد الحيثيين:

د-أحمس

ج-أمنحوتب الرابع

ب-رمسيس الثاني

أ-تحتمس الثالث

٩- تشير الصورة المقابلة إلى فرعون مصري عبد الإله آمون وتم اكتشاف مقبرته عام ١٩٢٢م:



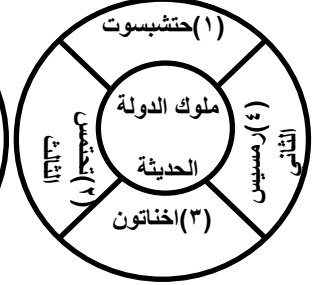
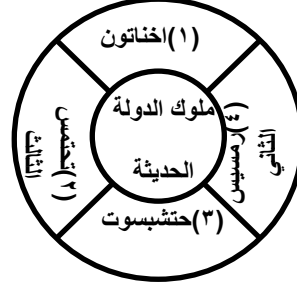
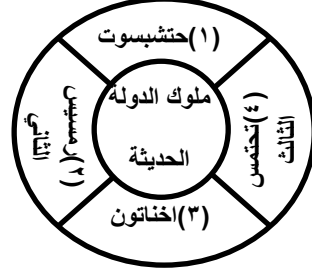
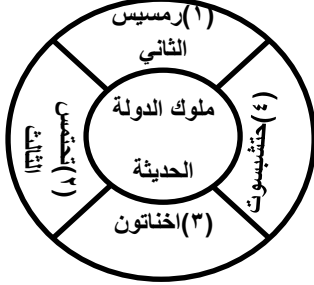
ب-أختاتون

أ-تحتمس الثالث

د-رمسيس الأول

ج-توت عنخ آمون

١٠- الشكل الصحيح لترتيب ملوك الدولة المصرية الحديثة من الأقدم إلى الأحدث:



١	بناء الاهرامات
٢	طرده الهكسوس من مصر
٣	استغلال المناجم والمحاجر

١١- الترتيب الصحيح لإجازات تاريخ مصر الفرعونية من الأقدم إلى الأحدث، حسب الجدول الآتي هو:

أ- (١-٢-٣) ب- (١-٣-٢) ج- (١-٢-٣) د- (١-٣-٢)

١٢- تمكن شامبليون من فك رموز اللغة الهيروغليفية في القرن الميلادي:

د- التاسع عشر

ج- الثامن عشر

ب- السابع عشر

أ- السادس عشر

١٣- تعد مدينة طيبة مقراً لعبادة الإله:

د- آمون

ج- رع

ب- آتون

أ- عشتار



١٤- تمثل الصورة التي أمامك إحدى الآثار القديمة التي اشتهرت:

ب- المصرية القديمة

أ- البابلية

د- الفينيقية

ج- السومرية

١٥- يمثل الشكل المقابل تاج:

ب- مصر الوسطى

أ- مصر العليا

د- الموحد

ج- مصر السفلى



١٦- يمثل الشكل المقابل تاج:

ب- مصر الوسطى

أ- مصر العليا

د- الموحد

ج- مصر السفلى



١٧- يمثل الشكل المقابل تاج:

د- الموحد

ج- مصر السفلى

ب- مصر الوسطى

أ- مصر العليا



السؤال الثاني:- اجب عن الاسئلة التالية:

١- ما اسم النهر الذي قامت عليه الحضارة المصرية.

٢- علل مما يأتي:-

أ- اتخذ الملك مينا ملك الأرضين.

ب- نزح الإنسان المصري القديم إلى ضفاف نهر النيل.

ج- نزوح الإنسان المصري القديم إلى ضفاف مجرى نهر النيل.

د- اهتمام المصريين القدماء بالتحنيط جثث موتاهم وتزويد المقبرة بكل ما يحتاج إليه الميت من أدوات وأثاث وطعام.

هـ- تعد أهرامات الجيزة إحدى عجائب الدنيا السبع.

٣- قارن بين استخدامات خشب الأرز ونبات البردي عند القدماء المصريين في الجدول الآتي:

وجه المقارنة	خشب الأرز	نبات البردي
الاستخدام

٤- صنف الملوك التالية اسمائهم (أحمس - حتشبسوت - خفرع - نارمر - رمسيس الثاني) وفقاً للمنجزات الحضارية التالية:

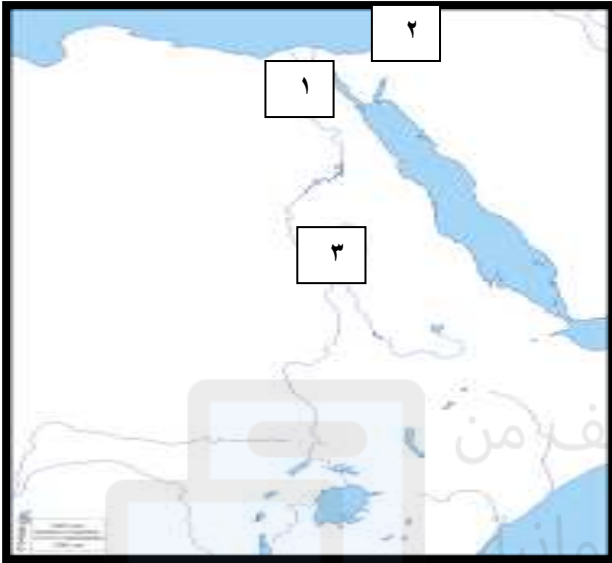
المنجزات	اسم الملك
أمر بنحت تمثال ابو الهول
تمكن من طرد الهكسوس بمساعدة أمراء طيبة
إرسال حملة تجارية إلى بلاد بونت
الفرعون الذي وقع مع الحيثيين أقدم معاهدة سلام في التاريخ
أسس أول سلالة حاكمة في مصر

٥- ما المقصود بالتالي:-

أ- بالهكسوس.

ب- حضارات وادي النيل.

٦-امامك خريطة الوطن العربي درسها جيداً، ثم اجب عن الاسئلة التي تليها:



أ-الرقم الدال على عاصمة الحضارة المصرية في الوجه البحري

ب-الرقم الدال على موقع معركة مجدو.....

ج-اكتب على الخريطة الموقع الصحيح:- لبحر المتوسط -

عاصمة مصر في الدولة القديمة.

٧-رتب الاحداث التاريخية الآتية من الأقدم إلى الأحدث :

(.....) طرد الهكسوس من مصر بقيادة أحمس. (.....) استنطاق أمنحوتب الثاني تأسيس الأسرة الحادية عشر.

(.....)انتصار تحتمس الثالث في معركة مجدو. (.....) انتهت معركة قادش بعقد معاهدة بين الفراعنة والحيثيين.

(.....) الملك مينا يوحد مصر. (.....) بناء تمثال ابو الهول.

(.....) حفر قناة تربط بين بحر الأحمر وبحر المتوسط عن طريق نهر النيل.

٨-من هم الفراعنة الذين بنوا أهرامات الجيزة.

٩-قارن بين معركة مجدو ومعركة قادش من حيث الآتي:

وجه المقارنة	معركة مجدو	معركة قادش
الدولة التي وقعت فيها
أطراف المعركة

١٠-دلل على تأثر الهكسوس بالحضارة المصرية.

١١-استكمل بيانات الجدول التالي مستعيناً بالمعلومات الآتية (طرد الهكسوس - منف - بناء الأهرامات - طيبة).

وجه المقارنة	عصر الدولة القديمة	عصر الدولة الحديثة
العاصمة
أهم الإنجازات



١٢- من خلال الصورة المقابلة، اجب عن الاسئلة التالية:

- أ- اسم المعلم الذي تبينه الصورة.....
ب- في أي مدينة من مدن مصر بنية.....
ج- من أين جلب المصريين أخشاب الأرز.....

١٣- رتب اسماء ملوك مصر في عهد الدولة الحديثة حسب اسبقيتهم لحكم مصر من الأقدم إلى الأحدث:

- (.....) رمسيس الثاني.
(.....) أمنحوتب الرابع.
(.....) حتشبسوت.
(.....) تحتمس الثالث.



١٤- انظر إلى الخريطة التي أمامك ثم اجب عن الأسئلة الآتية:

- أ- ضع دائرة حول اسم المدينة التي قام أمراؤها بمساعدة الملك
أحمس لطرد الهكسوس في مصر.
ب- مدينة (ممفيس) كانت عاصمة مصر العليا والسفلى في عهد
الملك مينا ويشار إليها بالرقم.....
ج- في أي جهة تقع بلاد الشام بالنسبة لمصر.....
١٥- ما الدليل على اهتمام الملكة حتشبسوت بالتجارة.

١٦- ما النتيجة من اعتقاد المصريين القدماء ان فيضان نهر النيل في كل عام يجلب لهم الحياة والثروة.

الوحدة الخامسة:- حضارات مصر والهلال الخصيب.

الدرس الثاني:- حضارات بلاد الرافدين.

السؤال الأول:- ضع دائرة حول رمز الإجابة الصحيحة من بين بدائل المعطاة:-

١- من أقدم الشعوب التي استقرت في السهل الجنوبي العراقي:

د- الأشوريون

ج- البابليون

ب- الأكاديون

أ- السومريون

٢- تمثل الصورة التالية نموذج للكتابة:



ب- الفينيقية

أ- اللاتينية

د- الهيروغليفية

ج- المسمارية

٣- المدينة التي أطلق عليها الأكاديون اسم "باب - اليم" :

د- كيش

ج- نينوى

ب- أشور

أ- بابل

٤- الحضارة التي سنت قوانين وتشريعات متعلقة بالأحوال الشخصية:

د- الأشورية

ج- الأكادية

ب- البابلية

أ- السومرية

٥- الدولة العربية التي تقع فيها آثار المدينة المشار إليها بحرف (ص) في الخريطة:



ب- سوريا

أ- العراق

د- فلسطين

ج- الأردن

٦- ترجع تسمية حضارة العراق القديمة بحضارة بلاد ما بين النهرين لوجودها بين نهري:

د- النيل والأردن

ج- دجلة والفرات

ب- دجلة والأردن

أ- النيل والفرات

٧- تمكن الفرس في عام ٥٣٩ ق.م من القضاء على الدولة:

د- الفينيقية

ج- الآرامية

ب- الكلدانية

أ- الأشورية

٨- تمثل الصورة المقابلة أحد منجزات العمارة في بلاد الرافدين في عهد الملك:



ب- نبوخذ نصر

أ- نابو بولاسر

د- نارام سن

ج- أشور بانيبال

٩- يعتبر من أشهر ملوك الدولة الكلدانية حكم بلادة أكثر من ٥٠ عاماً واستولى على القدس واخضع العبرانيين هو الملك:

د- سرجون الثاني

ج- نبوخذ نصر الثاني

ب- نابو بولاسر

أ- حمورابي

١٠- تعرضت الدولة البابلية الثانية في ظل حكم الملوك الضعاف لـ:

أ-غزو الفرس ب-غزو الهكسوس ج-غزو الأراميين د-غزو الكنعانيين

١١- الملك البابلي الذي بنى برج بابل:

أ-حمورابي ب-سرجون الثاني ج-نابو بولاسر د-نبوخذ نصر الثاني

السؤال الثاني:- اجب عن الاسئلة التالية:

١-ما المقصود بالتالي:

أ-قوانين حمورابي:

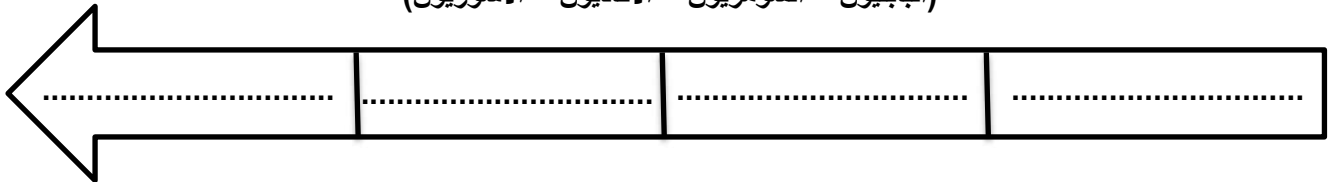
ب-الكتابة المسمارية:

٢-صنف الملوك التالية اسمائهم (اشور بانيبال - سرجون الأول - حمورابي - نبوخذ نصر الثاني)

المنجزات	اسم الملك
جمع علوم البابليين وحفظها في مكتبة نينوى
اصدر قوانين خلدت اسمه في التاريخ
اخضع المدن السومرية واتخذ من أكاد عاصمة لدولته
اهتم بالعمران وبنى الحدائق المعلقة

٣-رتب الشعوب التالية التي استوطنت بلاد الرافدين من الأقدم إلى الأحدث:

(البابليون - السومريون - الأكاديون - الآشوريون)



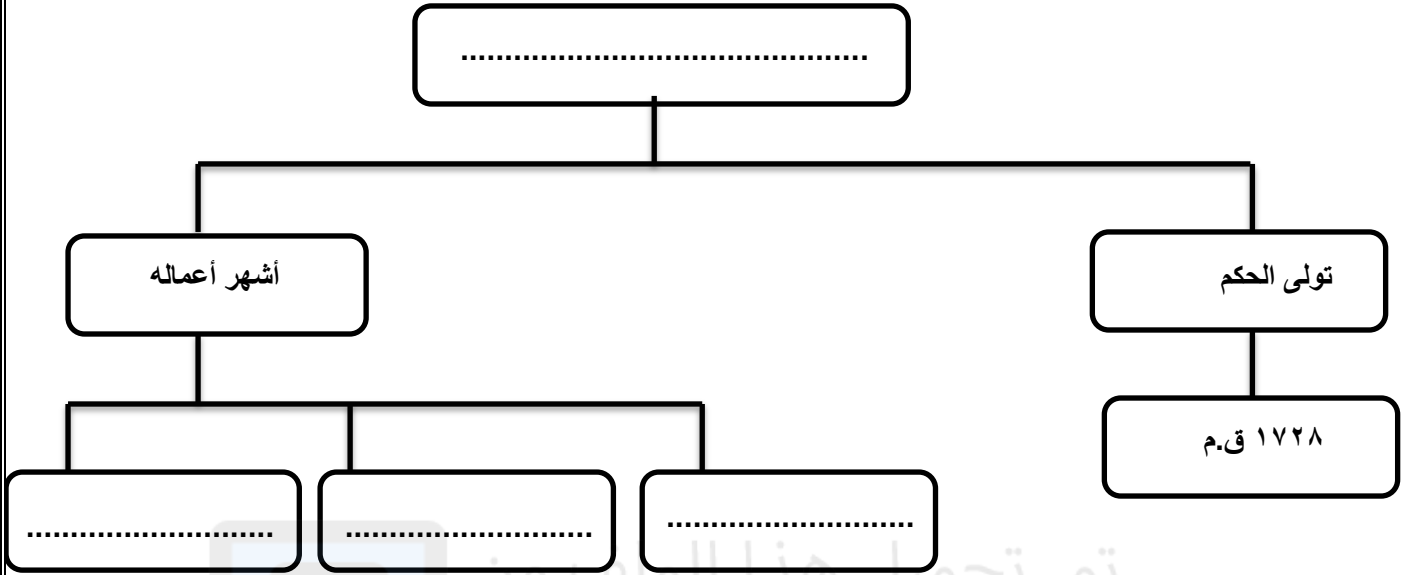
٤-ما القارة التي تقع فيها بلاد الرافدين.

٥-قارن بين الحضارات بلاد الرافدين في الجدول التالي:

وجه المقارنة	السومريون	الأكاديون	البابليون	الآشوريون
العاصمة
المناطق التي استوطنوها

٦-اين يوجد النصب الأصلي الذي سجلت عليه قوانين حمورابي.

٧- اكمل المخطط الشخصية التاريخية الآتية:-



٨-رتب الاحداث التاريخية الآتية من الأقدم إلى الأحدث :

(.....) استقرار السومريون في جنوب بلاد الرافدين.

(.....) أعلن نابول اسر نفسه ملكاً على بابل.

(.....) أنشأ نبوخذ نصر الثاني حدائق المعلقة.

(.....) تولى سرجون الثاني حكم الدولة الآشورية.

عقود الزراعة وشروط القروض - القصاص
والتعويضات

٩-القوانين الموجودة في الشكل الذي امامك تنسب إلى.....

١٠-تنقسم بلاد الرافدين جغرافياً إلى قسمين مختلفين. أذكرهما.

١١-من أشهر ملوك حضارات بلاد الرافدين "حمورابي" الذي تولى عرش بابل سنة ١٧٢٨ ق.م واستمر حكمه حوالي ٤٣ سنة.

في ضوء العبارة السابقة اجب عن الأسئلة الآتية:

أ-ما الدولة التي كان حمورابي ملكاً عليها.....

ب-أصدر حمورابي القوانين والتشريعات المشهورة باسم قوانين.....

ج-كان حمورابي يتلقى التشريعات من الإله.....

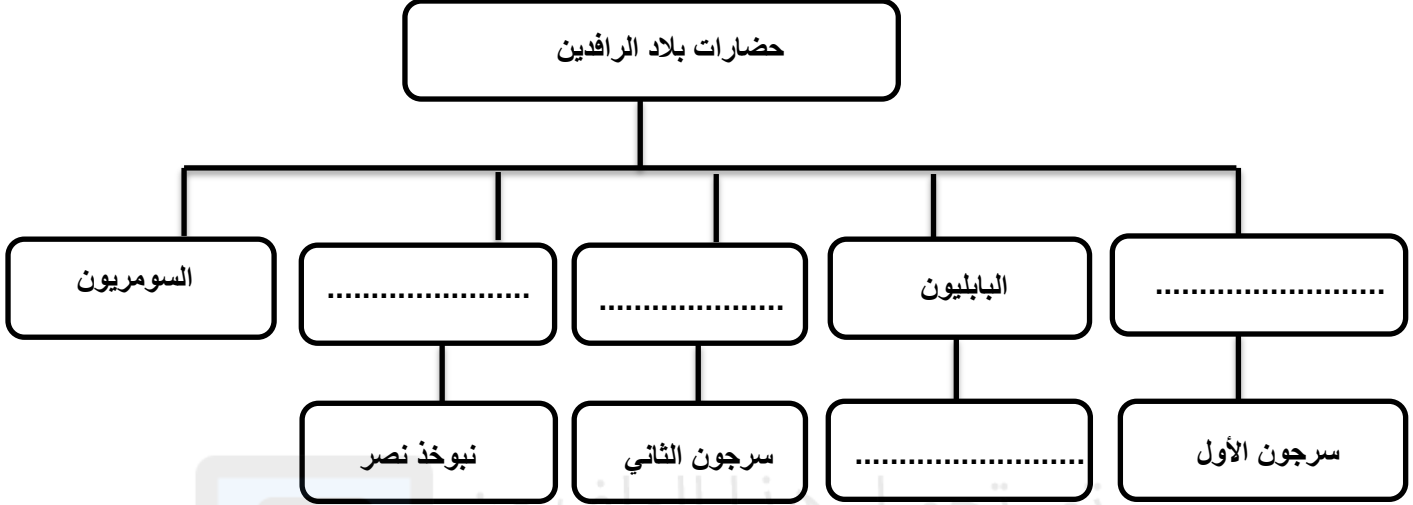
١٢-أذكر نتيجة واحده لالتقاء مجرى دجلة والفرات معاً.

١٣-ما اسم الكتابة التي عرفها السومريون.

١٤-أذكر إنجازات الملك حمورابي.

١٥- يوضح المخطط التالي أهم حضارات بلاد الرافدين واشهر ملوكها، أكمله بما يناسب من بين القوسين:

(الأشوريون - الأكاديون - الكلدانيون - حمورابي)

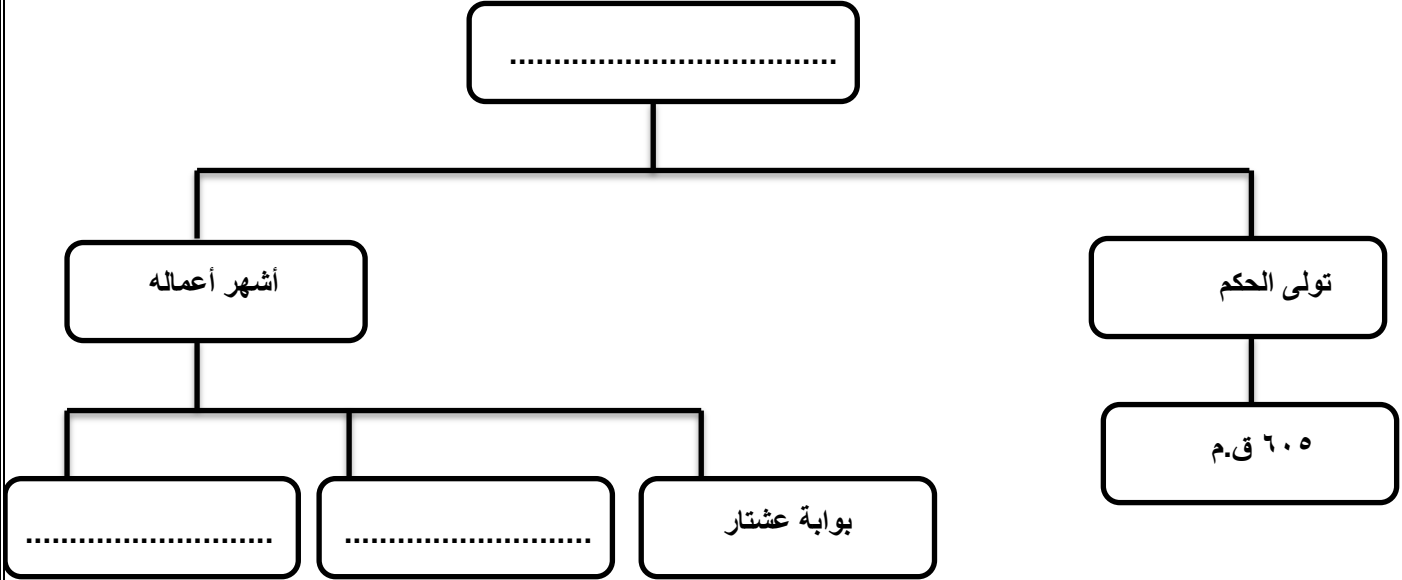


١٦- أكمل الجدول التالي:

وجه المقارنة	السومريون	الأشوريون	الأكاديون
مكان الاستقرار

١٧- ما اقدم الشعوب الذي استقروا في السهل الجنوبي للعراق منذ الألف الرابع قبل الميلاد.

١٨- اكمل المخطط الشخصية التاريخية الآتية:-



١٩- ادرس الخريطة التالية جيداً، ثم اجب عن الأسئلة التالية:-



- أ-الدولة التي استقرت في السهل الجنوبي للعراق.....
- ب-دولة من ملوكها سرجون الأول، نارام سن.....
- ج-الدولة التي تمكنت من القضاء على الدولة البابلية الأولى.....
- د-استخرج من الخريطة عاصمة الأشوريين الجيدة في عهد آشور بانيبال.....
- هـ- من خلال الخريطة ما اسم المدينة التي بناها السومريون على نهر الفرات.....
- و-ضع علامة (صح) على الإجابة الصحيحة.

- الاتجاه الذي يسلكه نهري دجلة والفرات: (.....) من الشمال إلى الجنوب. (.....) من الجنوب إلى الشمال.

ي-حدد على الخريطة كلاً من: (الخليج العربي - نهر دجلة - نهر الفرات)

٢٠-فسر تسمية حدائق بابل المعلقة بهذا الاسم.

الوحدة الخامسة:- حضارات مصر والهلال الخصيب.

الدرس الثالث:- حضارات بلاد الشام.

السؤال الأول:- ضع دائرة حول رمز الإجابة الصحيحة من بين بدائل المعطاة:-

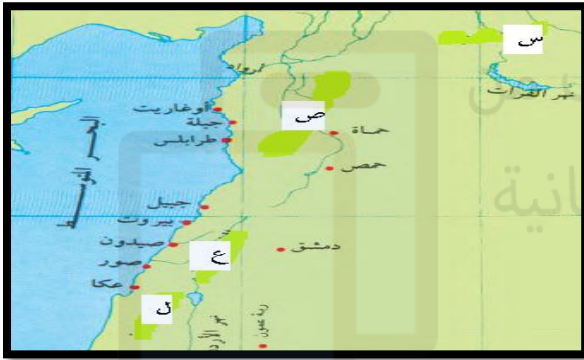
١- من أوائل الشعوب السامية التي هاجرت من شبه الجزيرة العربية إلى سهول بلاد الشام الشمالية حوالي ٢٥٠٠ ق.م:

أ-الكنعانيون ب-الأموريون ج-الحواريون د-الفينيقيون

٢- الحضارة التي قامت في بلاد الشام وعاصمتها ماري هي:

أ-الأمورية ب-الأرامية ج-السومرية د-الفينيقية

٣- الحرف الذي يشير إلى موقع حضارة العموريون على خريطة التي أمامك:



أ-س

ب-ص

ج-ع

د-ل

٤- اول أمه بحرية في التاريخ هي:

أ-الفينيقية ب-الفرعونية ج-السومرية د-الأرامية

٥- الحضارة التي اكتشفت النجم القطبي :

أ-الفينيقية ب-العمورية ج-الكنعانية د-الأرامية

٦- أعظم وأكبر مستعمرات الفينيقيين على شاطئ أفريقيا الشمالي هي:

أ-قرطاجة ب-طنجة ج-قبرص د-مالقة

٧- هاجر الأراميون من شبه الجزيرة العربية قبل الميلاد عام:

أ-٤٢٠٠ ب-٣٢٠٠ ج-٢٢٠٠ د-١٢٠٠

السؤال الثاني:- اجب عن الاسئلة التالية:

١- قارن في الجدول التالي بين العموريين والفينيقيين:

وجه المقارنة	العموريين	الفينيقيين
العاصمة
الموقع الجغرافي
اهم الحرف التي عملوا بها

٢- علل العبارات التالية:

أ- يعتبر الفينيقيون أول أمة بحرية.

ب- إعاقة جبال لبنان لتجارة الفينيقيين داخل سوريا.

٣- استنتج كيف كانت علاقة الدويلات الأمورية من جيرانها الكنعانيون.



٤- ادرس الصورة المقابلة، ثم اجب عن الأسئلة التي تليها:

أ- ماذا تمثل الصورة.

ب- اين استوطنت الحضارة التي تعبر عنها الصورة.

٥- اذكر واحد لكل مما يلي:

أ- أشهر الدويلات الأمورية.

ب- اهم المستعمرات التي أنشأها الفينيقيون على ساحل تونس.

٦- عبر عن رأيك في العبارات التالية:

"لعب الأراميون دوراً مهماً في تطور الكتابة العربية"

أوافق لا أوافق

وضح السبب.....

٧- كيف كانت نهاية الأرامية في بلاد الشام.

٨- اذكر اثنين من المنجزات الحضارية الفينيقية.

٩- علل لم تكن العلاقات الحسنة بين الدويلات الأمورية وجيرانهم الكنعانيون في الجنوب.

١٠- اذكر نتيجة واحدة لكل ما يأتي:

أ- "كان للفينيقيين منجزات حضارية متعددة".

ب- سيطرة الأموريين على الطريق التجاريه التي تمر بمدينتهم ماري.

١١- (سكن الفينيقيون في المنطقة الساحلية من بلاد الشام وأصبحوا أول أمة بحرية في التاريخ، وتمكنوا من تكوين عدة مستعمرات مثل قرطاجه).

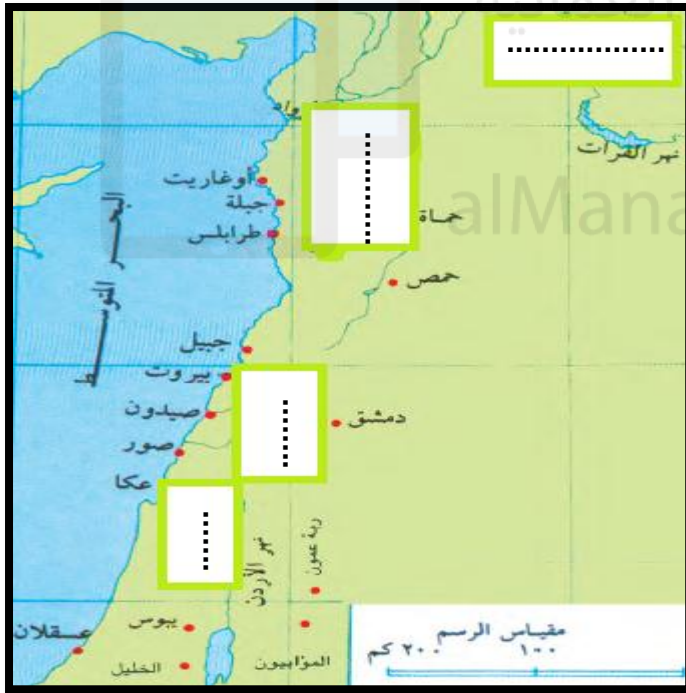
أ-المسطح المائي الذي يمارس فيه الفينيقيون تجارتهم هو.....

ب-ما اسم الدولة الحالية التي تقع فيها مستعمرة قرطاجه.....

ج-بما تفسر اتجاه الفينيقيون للتجارة البحرية.....

د-برأيك ما العوامل التي جعلت من الفينيقيين أمة بحرية.....

١٢- ادرس الخريطة التالية جيداً، ثم اجب عن الأسئلة التالية:-



أ-اكتب حضارات بلاد الشام الآتية في الصندوق المناسب.

(العموريون - الفينيقيون - الأراميون - الكنعانيون)

ب-ضع دائرة على أحد الموانئ الفينيقية.

١٣- ادرس صور الكتابات في الحضارات القديمة التي أمامك، ثم اجب عن الأسئلة التي تليها:



(٣)

الحروف الفينيقية القديمة	الحروف الإنجليزية
𐤀	A
𐤁	B
𐤂	C
𐤃	D
𐤄	F, U, V, W, Y
𐤅	H
𐤆	L
𐤇	M
𐤈	O
𐤉	Q
𐤊	T

(٢)



(١)

- أ-ما اسم الكتابة في الصورة رقم (١).....
- ب-إلى أي الحضارة تنتمي الصورة رقم (٣).....
- ج-ما الحضارة التي طورت الأبجدية في الصورة رقم (٢).....
- د-ما الأداة التي استخدمت للكتابة في الصورة رقم (٣).....

بِسْمِ اللَّهِ الرَّحْمَنِ الرَّحِيمِ