

تم تحميل هذا الملف من موقع المناهج العُمانية



*للحصول على أوراق عمل لجميع الصفوف وجميع المواد اضغط هنا

<https://almanahj.com/om>

* للحصول على أوراق عمل لجميع مواد الصف السابع اضغط هنا

<https://almanahj.com/om/7>

* للحصول على جميع أوراق الصف السابع في مادة اجتماعيات ولجميع الفصول, اضغط هنا

<https://almanahj.com/om/7social>

* للحصول على أوراق عمل لجميع مواد الصف السابع في مادة اجتماعيات الخاصة بـ الفصل الثاني اضغط هنا

<https://almanahj.com/om/7social2>


* لتحميل كتب جميع المواد في جميع الفصول للـ الصف السابع اضغط هنا

<https://almanahj.com/om/grade7>

* لتحميل جميع ملفات المدرس علي بن محمد الحسان اضغط هنا

للتحدث إلى بوت على تلغرام: اضغط هنا

https://t.me/omcourse_bot



**مذكرة إثرائية لمادة
الدراسات الاجتماعية**

2020-2021

الصف السابع

**الفصل الدراسي الثاني
الوحدة الخامسة**

(حضارات مصر والهلل الخصب)

اسئلة

إعداد :

علي بن محمد الحسن

للتواصل :

99493923

Ali 47536@moe.om

{ درس : حضارات بلاد الرافدين }

السؤال الأول : ضع علامة (✓) أو (X) أمام العبارة المناسبة مع تصحيح ما تحته خط إذا كانت العبارة خطأ :

- ١- () يلتقي نهري دجلة والفرات في مجرى واحد ويسمى شط العراق .
- ٢- () تقع بلاد الرافدين أو بلاد ما بين النهرين في القسم الجنوبي الغربي من قارة أفريقيا .
- ٣- () عاش السومريون في دويلات المدن ولم يعرفوا الوحدة السياسية .
- ٤- () استطاع الملك سرجون الاول من توحيد المدن السومرية وتوحيدها وأخذ مدينة أكاد عاصمة له .
- ٥- () يعد نارام سن من أشهر ملوك الأكاديين حيث تمكن من المحافظة على وحدة البلاد .
- ٦- () من قوانين حمورابي أنه إذا تزوج رجل امرأة وأصيبت بمرض يستطيع أن يتزوج من غيرها .
- ٧- () من قوانين حمورابي أنه يحق للزوج أن يطلق زوجته المريضة .
- ٨- () توجد القوانين التي أصدرها حمورابي حاليا في متحف الكرملين بباريس .

السؤال الثاني : (أ) أكمل الجمل التالية بكلمات مناسبة من عندك :

- ١- يصب نهري دجلة والفرات في
- ٢- ظهر في سومر نظام حكومات الذي يجعل كل مدينة دولة
- ٣- اتخذ البابليون مدينة بابل مركزا لها واشتغلوا وأقاموا علاقات مع جيرانهم .
- ٤- عرفت عمان قديما باسم والبحرين باسم
- ٥- عمل حمورابي على توحيد بلاد ما بين النهرين فازدهرت في عهده الزراعة و..... و.....
- ٦- حرص حمورابي على تنظيم دولته فأصدر والتشريعات المشهورة باسم قوانين
- ٧- العاصمة الأولى للأشوريين كانت مدينة آشور والثانية كانت مدينة
- ٨- اهرامات الجيزة ومنارة الإسكندرية توجد في أما حدائق بابل المعلقة فتوجد في

السؤال الثاني : (ب) أكمل الجمل التالية بكلمات مناسبة من عندك :

سجل السومريون كتاباتهم على ألواح من قبل تجفيفها واستخدموا للكتابة عليها أداة صنعت من العظم أو

تشبهه لذلك عرفت كتابتهم باسم الكتابة

السؤال الثالث : عرف كل مما يلي :١- بوابة عشتار .

.....

.....

٢- الحدائق المعلقة .

.....

.....

السؤال الرابع : ضع دائرة حول الإجابة الصحيحة من بين البدائل المعطاه :

- ١- ينبع نهري دجلة والفرات من هضبة .
(التبت - الأناضول - ارمينا)
- ٢- من أشهر ملوك البابليين أستمير حكمة حوالي ٤٣ سنة وعمل على توحيد بلاد ما بين النهرين
(حمورابي - سرجون الأول - نارام سن)
- ٣- توصل السومريون إلى معرفة الكتابة التي عرفت باسم الكتابة ...
(المسمارية - السومرية - اللوحية)
- ٤- يتلقى حمورابي تشريعاته من إله الشمس والعدالة وهو
(شمس - قمر - كوكب)
- ٥- الذين قضوا على حكم الكلدانيين عام ٥٣٩ ق.م هم
(الفرس - الروم - الأخباش)
- ٦- استطاع الأمير الكلداني " نابو بولاسر " من ضم كل من بلاد سومر وآكاد تحت دولة واحدة عرفت بالدولة البابلية الثانية وبالمملكة.....
(السومرية - الأكادية - الكلدانية)

السؤال الخامس : علل ما يلي " اذكر السبب " :

- ١- يعد السهل الجنوبي لبلاد الرافدين من أخصب بقاع العالم .

.....

.....

- ٢- تسمية السومريون بهذا الاسم ؟

.....

- ٣- سميت الكتابة المسمارية بهذا الاسم ؟

.....

- ٤- أطلق على الآشوريون هذا الاسم ؟

.....

- ٥- سميت حضارة العراق القديمة بحضارة بلاد ما بين النهرين .

.....

السؤال السادس : أذكر أهم الأعمال التي قام بها كل من :**١- سرجون الثاني**

.....

.....

٢- آشور بانيبال :



.....

.....

٣- حمورابي :

.....

.....

السؤال السابع : اكمل الشكل بكتابة اهم ثلاثة من معالم العمارة التي اهتم بها نبوخذ نصر**السؤال الثامن : اكتب ما تمثله الصور التالية :****السؤال التاسع : أجب عن الأسئلة التالية :****س ١ : " تنقسم بلاد الرافدين جغرافياً إلى إقليمين مختلفين " ما هما ؟****ج ١ :**

.....

س ٢ : " أصدر حمورابي الكثير من القوانين والتشريعات التي تنظم دولته " أذكر ثلاثة من هذه القوانين ؟**ج ٢ :**

.....