

تم تحميل هذا الملف من موقع المناهج العُمانية



* للحصول على أوراق عمل لجميع الصفوف وجميع المواد اضغط هنا

<https://almanahj.com/om>

* للحصول على أوراق عمل لجميع مواد الصف السابع اضغط هنا

<https://almanahj.com/om/7>

* للحصول على جميع أوراق الصف السابع في مادة اجتماعيات ولجميع الفصول, اضغط هنا

<https://almanahj.com/om/7social>

* للحصول على أوراق عمل لجميع مواد الصف السابع في مادة اجتماعيات الخاصة بـ الفصل الأول اضغط هنا

<https://almanahj.com/om/7social1>

* لتحميل كتب جميع المواد في جميع الفصول للـ الصف السابع اضغط هنا

<https://almanahj.com/om/grade7>

* لتحميل جميع ملفات المدرس عمر العزري اضغط هنا

للتحدث إلى بوت على تلغرام: اضغط هنا

https://t.me/omcourse_bot



امتحان مادة : الدراسات الاجتماعية

للفص : السابع

للعام الدراسي ١٤٤٠/١٤٣٩ هـ - ٢٠١٩/٢٠١٨ م

الدور الاول - الفصل الدراسي الاول

● زمن الامتحان : (ساعة ونصف) ● عدد صفحات أسئلة الامتحان : (٧) صفحات.

● الإجابة في الدفتر نفسه .

		اسم الطالب
الصف		المدرسة

التوقيع بالاسم		الدرجة		السؤال
المصحح الثاني	المصحح الأول	بالحروف	بالأرقام	
				١
				٢
				٣
				٤
				٥
مراجعة الجمع	جمعه			المجموع
				المجموع الكلي

(١)

المادة: الدراسات الاجتماعية الصف : السابع الدور الأول - الفصل الدراسي الأول - العام الدراسي ٢٠١٨/٢٠١٩م

أجب عن جميع الأسئلة الآتية

السؤال الأول: ضع دائرة حول رمز الإجابة الصحيحة لكل مفردة من المفردات الآتية:

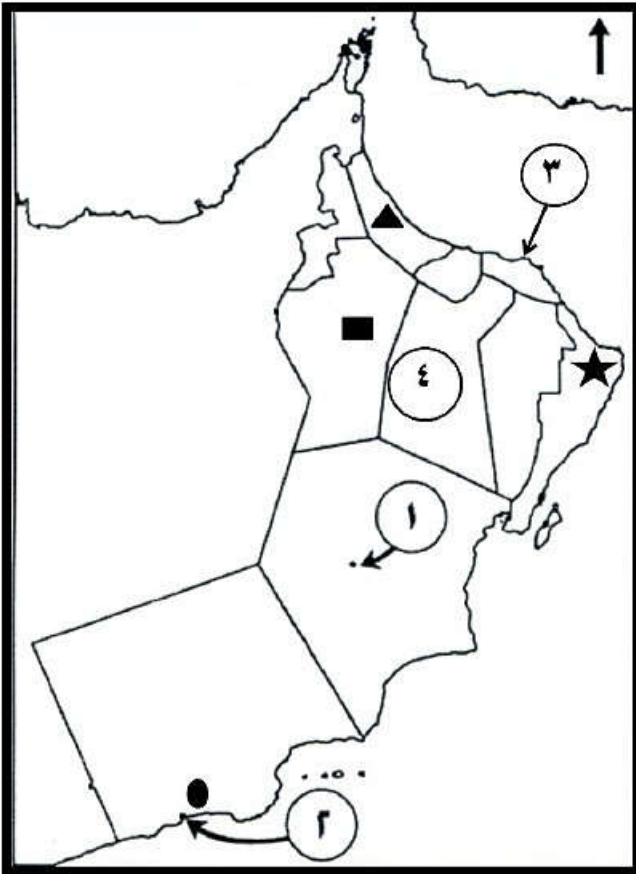
١- قامت دولة سبأ بين عامي (٨٠٠ ق . م - ١١٥ ق . م) في :

(أ) العراق (ب) اليمن (ج) البحرين (د) عمان

٢- يعود الفضل في اتساع رقعة الأراضي الزراعية في الحضارات القديمة لاكتشاف معدن :

(أ) النحاس (ب) البرونز (ج) الحديد (د) الفضة

استعن بخريطة سلطنة عُمان للإجابة على المفردات (٣ ، ٤) :



٣- الموقع الذي كان يصدر منه اللبان قديماً مشار إليه بالرمز :

(أ) ▲ (ب) ★
(ج) ■ (د) ●

٤- أكبر محافظة من حيث إجمالي عدد السكان مشار إليها بالرقم :

(أ) ١ (ب) ٢
(ج) ٣ (د) ٤

تابع السؤال الأول:

٥- تم أول تعداد شامل في سلطنة عُمان في العام الميلادي :

أ) ١٩٩١

ب) ١٩٩٣

ج) ١٩٩٥

د) ١٩٩٧

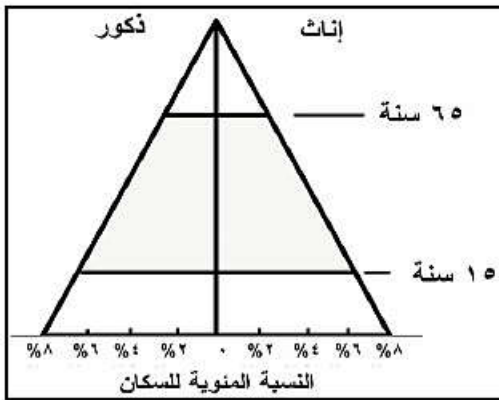
٦- معظم سكان العالم يعيشون فوق مساحة لا تزيد عن :

أ) ٤ %

ب) ٦ %

ج) ٨ %

د) ١٠ %



٧- الوصف الصحيح لخصائص الهرم الذي أمامك :

أ) ازدياد نسبة صغار السن

ب) انخفاض نسبة صغار السن

ج) ازدياد نسبة متوسطي السن

د) انخفاض نسبة متوسطي السن

٨- الصورة التي تمثل البيئة الغير جاذبة للسكان :



ب)



أ)



د)



ج)

(٣)

المادة: الدراسات الاجتماعية الصف: السابع الدور الأول - الفصل الدراسي الأول - العام الدراسي ٢٠١٨/٢٠١٩م

تابع السؤال الأول:

٩ - استغلال المال الزائد عن الحاجة لإقامة المشاريع يعرف بـ :

أ) الدخل ب) الترشيد ج) الادخار د) الاستثمار

١٠- التدخين أحد المسببات الرئيسية لسرطان :

أ) الدم ب) الرئة ج) العظام د) الدماغ

١١- الجدول الذي يمثل التصنيف الصحيح للممتلكات :

الممتلكات الخاصة	الممتلكات العامة
مركز شرطة هيمما	المدرسة السعيدية
سيارات الأجرة	فندق هوليداي ان

(ب)

الممتلكات الخاصة	الممتلكات العامة
فندق هوليداي ان	المدرسة السعيدية
سيارات الأجرة	مركز شرطة هيمما

(أ)

الممتلكات الخاصة	الممتلكات العامة
مركز شرطة هيمما	سيارات الأجرة
المدرسة السعيدية	فندق هوليداي ان

(د)

الممتلكات الخاصة	الممتلكات العامة
مركز شرطة هيمما	سيارات الأجرة
فندق هوليداي ان	المدرسة السعيدية

(ج)

١٢- الصورة التي توضح العلامة التحذيرية للتجاوز الخاطئ :



(ب)



(أ)



(د)



(ج)

(٤)


المادة: الدراسات الاجتماعية الصف: السابع الدور الأول - الفصل الدراسي الأول - العام الدراسي ٢٠١٨/٢٠١٩م

السؤال الثاني : أجب عن الأسئلة الآتية :

أولاً : - أكتب مقابل كل عبارة من العبارات الواردة في الجدول الآتي المفهوم الدال عليها :

المفهوم	العبارة
.....	١- كل ما أوجده الإنسان من أجل سد احتياجاته ، سواء كان ذلك مادياً أم غير مادي .
.....	٢- التطور الحاصل في أعداد السكان نتيجة الزيادة الطبيعية والهجرة .
.....	٣- سلامة الإنسان من أي مرض ، وقيامه بوظائفه على أكمل وجه .

ثانياً : أجب عن الأسئلة الآتية :



١ - المورد الذي يتجدد من خلال العملية الموضحة بالشكل هو

٢- أوجد العلاقة بين عدد السكان والموارد الطبيعية .

٣- وضح أهمية النفط والمعادن للدولة .

ثالثاً - (يوجد في سلطنة عمان عدد من المتاحف أبرزها : المتحف العماني ، والمتحف الوطني ، ومتحف التاريخ الطبيعي ، ومتحف أرض اللبان بصلالة ..) .

١- هل تؤيد إقامة مثل هذه المتاحف ؟

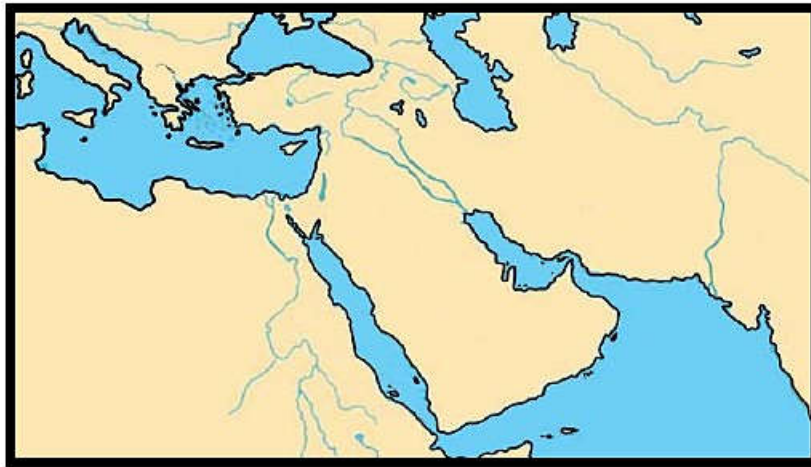
ضع علامة (√) في المكان المناسب

نعم لا

٢- فسر إجابتك :

السؤال الثالث : أجب عن الأسئلة الآتية :

أولا - ادرس الخريطة التي أمامك ثم أجب عن الأسئلة التي تليها :



١- أكتب الأسماء التالية في مكانها الصحيح على الخريطة :
أ (بلاد فارس

٢- ناقش / أهمية الادخار للأسرة .

ثانيا - أذكر نتيجة واحدة ترتبت على ما يأتي :

١ - انهيار سد مأرب .

٢- المشكلة السكانية .

٣- ازدياد حوادث الطرق .

ثالثا- أجب عن الأسئلة الآتية :

١- دلل على التقدم الصحي الذي شهدته السلطنة بعد النهضة المباركة.

٢- احسب معدل الوفيات وفق المعطيات التالية : (بلغ عدد السكان في أحد الدول عام ٢٠١٧م (١,٩٥٠,٣٤٠) نسمة ، وعدد الوفيات (١٢,٠٠٠) نسمة .

السؤال الرابع :



أولاً - تأمل الصورة أمامك، ثم أجب :

١- حدد اسم المشكلة الموضحة بالصورة ؟

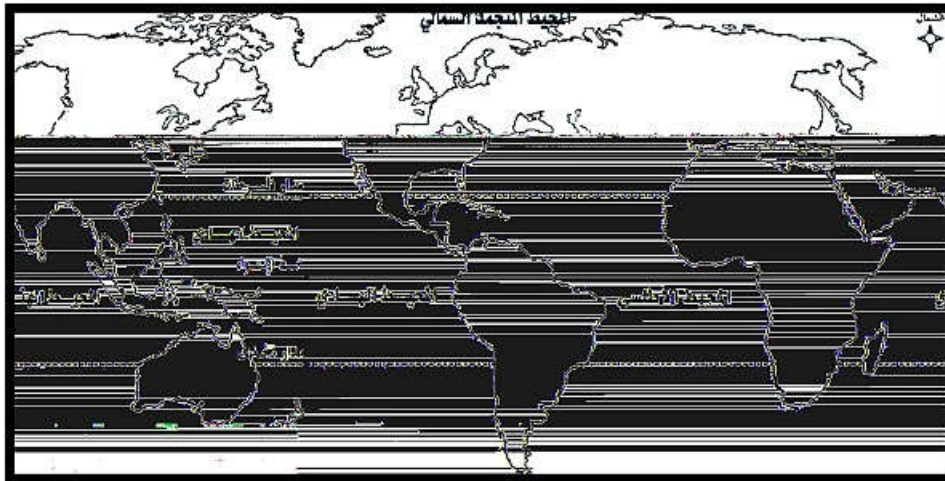
٢- اقترح حلاً واحداً لهذه المشكلة .

ثانياً : أجب عن الأسئلة الآتية :

١ - متى عرف الإنسان الكتابة ؟

٢- تعدد مؤسسات الخدمة في سلطنة عُمان ، أذكر إحداها .

ثالثاً - ادرس الخريطة أمامك ، ثم أجب عن الأسئلة التي تليها :



١- ظلل على الخريطة باستخدام الرمز (■) أقل قارات العالم من حيث عدد السكان.

٢- ضع علامة (√) : يتركز سكان العالم في :

نصف الكرة الأرضية الشمالي نصف الكرة الأرضية الجنوبي

(٧)

المادة: الدراسات الاجتماعية الصف: السابع الدور الأول - الفصل الدراسي الأول - العام الدراسي ٢٠١٨/٢٠١٩م

السؤال الخامس :

أولا -

١ - (تم العثور على بعض ثمار النخيل المتحجرة في مواقع الحفريات الأثرية بالسلطنة) ،
ما دلالة ذلك ؟

ثانيا - اقرأ النص ، ثم أجب عما يليه :

" عملت السلطنة على الحد من الهجرة من الريف إلى المدينة ، وذلك بإقامة المشاريع
التنموية والاقتصادية والاجتماعية والصحية في مختلف المحافظات " .

١- عرف الهجرة .

٢- ما نوع الهجرة في النص ؟

ثالثا - أدرس الصورة الآتية ، ثم أجب عن الأسئلة التي تليها :



١- الصورة التي أمامك توضح أحد قوانين السلامة
المرورية . ما هو ؟

٢- وجه نصيحة لسائقي المركبات الذين لا يطبقون
هذا القانون .

انتهت الأسئلة مع الدعاء للجميع بالتوفيق والنجاح.



نموذج إجابة امتحان الصف السابع
للعام الدراسي ١٤٣٩/١٤٤٠ هـ - ٢٠١٨/٢٠١٩ م
الدور الاول - الفصل الدراسي الاول

المادة: الدراسات الاجتماعية الدرجة الكلية: (٤٠) درجة.
تنبيهه: نموذج الإجابة في (٥) صفحات.

أولاً: إجابة السؤال الموضوعي:

المفردة	البديل الصحيح	الإجابة	الدرجة	الصفحة	المستوى المعرفي						
١	ب	اليمن	١	٣٦	معرفة						
٢	ج	الحديد	١	١٦	قدرات عليا						
٣	د	●	١	٢٧	فهم وتطبيق						
٤	ج	٣	١	٦٣	فهم وتطبيق						
٥	ب	١٩٩٣	١	٤٠	معرفة						
٦	د	١٠ %	١	٥٩	معرفة						
٧	أ	ازدياد نسبة صغار السن	١	٤٦-٤٧	فهم وتطبيق						
٨	ج		١	٥٩	فهم وتطبيق						
٩	د	الاستثمار	١	٧٣	معرفة						
١٠	ب	الرثة	١	٧٨	معرفة						
١١	أ	<table border="1"> <tr> <td>الممتلكات العامة</td> <td>الممتلكات الخاصة</td> </tr> <tr> <td>المدارس السعودية</td> <td>فنادق هولدايات</td> </tr> <tr> <td>مركز شرطة هيماء</td> <td>سيارات الأجرة</td> </tr> </table>	الممتلكات العامة	الممتلكات الخاصة	المدارس السعودية	فنادق هولدايات	مركز شرطة هيماء	سيارات الأجرة	١	٨٢	فهم وتطبيق
الممتلكات العامة	الممتلكات الخاصة										
المدارس السعودية	فنادق هولدايات										
مركز شرطة هيماء	سيارات الأجرة										
١٢	ج		١	٩٢	فهم وتطبيق						
المجموع			١٢ درجة								

(٢)

تابع نموذج إجابة امتحان الصف السابع
للعام الدراسي ١٤٤٠/١٤٣٩ هـ - ٢٠١٨/٢٠١٩ م
الدور الاول - الفصل الدراسي الاول
المادة : الدراسات الاجتماعية

ثانيا: إجابة الأسئلة المقالية:

الدرجة الكلية: (٨) درجات				إجابة السؤال الثاني	
المستوى المعرفي	الصفحة	الدرجة	الإجابة الصحيحة	المفردة	الجزئية
معرفة	١٣	١	الحضارة	١	أولا
معرفة	٥٠	١	النمو السكاني	٢	
معرفة	٧٧	١	الصحة.	٣	
فهم وتطبيق	٦٦	١	الماء	١	ثانيا
فهم وتطبيق	٦٦	١	تتأثر العلاقة سلباً بزيادة عدد السكان ، حيث تشكل الزيادة السكانية ضغطا على الموارد المتجددة واستنزافا للموارد غير المتجددة . (<u>هما يفيد المعنى</u>)	٢	
فهم وتطبيق	٨٦	١	تشكل مصدرا هاما لدخل الدولة (الايرادات) ، وتوفير الأموال بحيث تتمكن الدولة من الإنفاق على مشروعاتها الحيوية والتنمية (<u>هما يفيد المعنى</u>)	٣	
قدرات عليا	٢٠ ، ٢٣ ، ٨٦	١	- نعم	١	ثالثا
		١	(لأنها تحافظ على الآثار والمقتنيات التاريخية الهامة ، تعرفنا عليه ، تعرضه للزائرين .. الخ) . يترك للطالب حرية الإجابة (<u>هما يفيد</u> <u>المعنى</u>)	٢	

تابع نموذج إجابة امتحان الصف السابع
للعام الدراسي ١٤٤٠/١٤٣٩ هـ - ٢٠١٨/٢٠١٩ م
الدور الاول - الفصل الدراسي الاول
المادة : الدراسات الاجتماعية

تابع ثانيا: إجابة الأسئلة المقالية:

الدرجة الكلية: (٨) درجات			إجابة السؤال الثالث		
المستوى المعرفي	الصفحة	الدرجة	الإجابة الصحيحة	المفردة	الجزئية
فهم وتطبيق	١٧	١		أ / ٨	أولا
فهم وتطبيق	٣٥	١		ب / ١	
فهم وتطبيق	٧٣	١	يساعد على توفير أموال تساعد الأسرة على الانفاق عند الضرورة ، ويمكن استثمار الأموال المدخرة في بعض المشروعات التجارية والصناعية المختلفة . (يكتفى بذكر واحدة) (بما يفيد المعنى)	٢	
معرفة	٣٦	١	تخريب الأراضي الزراعية ، هجرة بعض القبائل نحو أطراف شبه الجزيرة العربية . (يكتفى بذكر واحدة)	١	
معرفة	٦٥ - ٦٩	١	تدني مستوى المعيشة ، انتشار الفقر ، سوء التغذية ، استنزاف الموارد الطبيعية ، انتشار الامراض ، المجاعات ، الجوع ، التدهور البيئي والتلوث (يكتفى بذكر واحدة)	٢	ثانيا
معرفة	٨٨	١	وفيات ، اصابات جسيمة ، اعاقات ، خسائر مادية ، تأثير سلبي على الاقتصاد الوطني للدولة (يكتفى بذكر واحدة)	٣	
فهم وتطبيق	٥١ ، ٥٢	١	انخفاض معدل الوفيات ، ازدياد المستشفيات الحكومية والاطباء ، وجود عدد كبير من الاطباء العمانيين (يكتفى بذكر واحدة) (بما يفيد المعنى)	١	ثالثا
فهم وتطبيق	٥١	١		٦,١٥ (بالآلف)	٢

(٤)

تابع نموذج إجابة امتحان الصف السابع
للعام الدراسي ١٤٣٩/١٤٤٠ هـ - ٢٠١٨/٢٠١٩ م
الدور الاول - الفصل الدراسي الاول
المادة : الدراسات الاجتماعية

تابع ثانيا: إجابة الأسئلة المقالية:

الدرجة الكلية: (٦) درجات			إجابة السؤال الرابع		
المستوى المعرفي	الصفحة	الدرجة	الإجابة الصحيحة	المفردة	الجزئية
قدرات عليا	٦٩	١	التلوث أو التدهور البيئي	١	أولا
قدرات عليا	٦٩	١	(وضع قوانين ، حملات توعية ، المحافظة على نظافة البيئة .. الخ) <u>يترك للطالب حرية الاجابة مما يفيد المعنى</u> (يكتفى بذكر واحدة)	٢	
معرفة	١٤	١	الالف الرابعة قبل الميلاد	١	ثانيا
معرفة	٨٤	١	المستشفيات ، المدارس ، مراكز التعليم والتدريب المهني ، وطرق النقل ، والمواصلات ، ومباني الخدمات الاعلامية ، والماء ، والكهرباء (يكتفى بذكر واحدة)	٢	
فهم وتطبيق	٥٨	١	قارة أستراليا تظل على الخريطة . 	١	ثالثا
معرفة	٥٩	١	عند إضافة الرمز (■) على الخريطة في قارة أستراليا تحسب الاجابة صحيحة	٢	
معرفة	٥٩	١	نصف الكرة الأرضية الشمالي	٢	

(٥)

تابع نموذج إجابة امتحان الصف السابع
للعام الدراسي ١٤٤٠/١٤٣٩ هـ - ٢٠١٨/٢٠١٩ م
الدور الاول - الفصل الدراسي الاول
المادة : الدراسات الاجتماعية

تابع ثانيا: إجابة الأسئلة المقالية :

الدرجة الكلية: (٦) درجات			إجابة السؤال الخامس		
المستوى المعرفي	الصفحة	الدرجة	الإجابة الصحيحة	المفردة	الجزئية
فهم وتطبيق	٢١	١	يدل على أن الانسان العماني عرف زراعة النخيل منذ العصور القديمة	١	أولا
معرفة	٥٤	١	انتقال السكان من مكان إلى آخر مع تغيير محل الإقامة ولو لفترة محدودة	١	ثانيا
معرفة	٥٤	١	هجرة داخلية	٢	
فهم وتطبيق	٩٣ ، ٩٠	١	استخدام حزام الأمان	١	ثالثا
قدرات عليا	٩٣ ، ٩٠	٢	حزام الأمان حماية للسائق والركاب ، ضرورة توعية أصحاب المركبات بالالتزام بربط حزام الأمان أثناء القيادة . (أي نصيحة تفيد في الحفاظ على سلامة راكبي المركبات) يتك للطلاب حرية الإجابة بما يفيد المعنى	٢	

نهاية نموذج الإجابة



امتحان مادة : الدراسات الاجتماعية

للفص : السابع

للعام الدراسي ١٤٤٠/١٤٣٩ هـ - ٢٠١٨/٢٠١٩ م

الدور الثاني - الفصل الدراسي الاول

● زمن الامتحان : (ساعة ونصف) ● عدد صفحات أسئلة الامتحان : (٧) صفحات.

● الإجابة في الدفتر نفسه .

		اسم الطالب
	الصف	المدرسة

التوقيع بالاسم		الدرجة		السؤال
المصحح الثاني	المصحح الأول	بالحروف	بالأرقام	
				١
				٢
				٣
				٤
				٥
مراجعة الجمع	جمعه			المجموع
				المجموع الكلي

(١)

المادة: الدراسات الاجتماعية- الصف : السابع - الدور الثاني - الفصل الدراسي الأول - العام الدراسي ٢٠١٨/٢٠١٩م

أجب عن جميع الأسئلة الآتية

السؤال الأول: ضع دائرة حول رمز الإجابة الصحيحة لكل مفردة من المفردات الآتية:

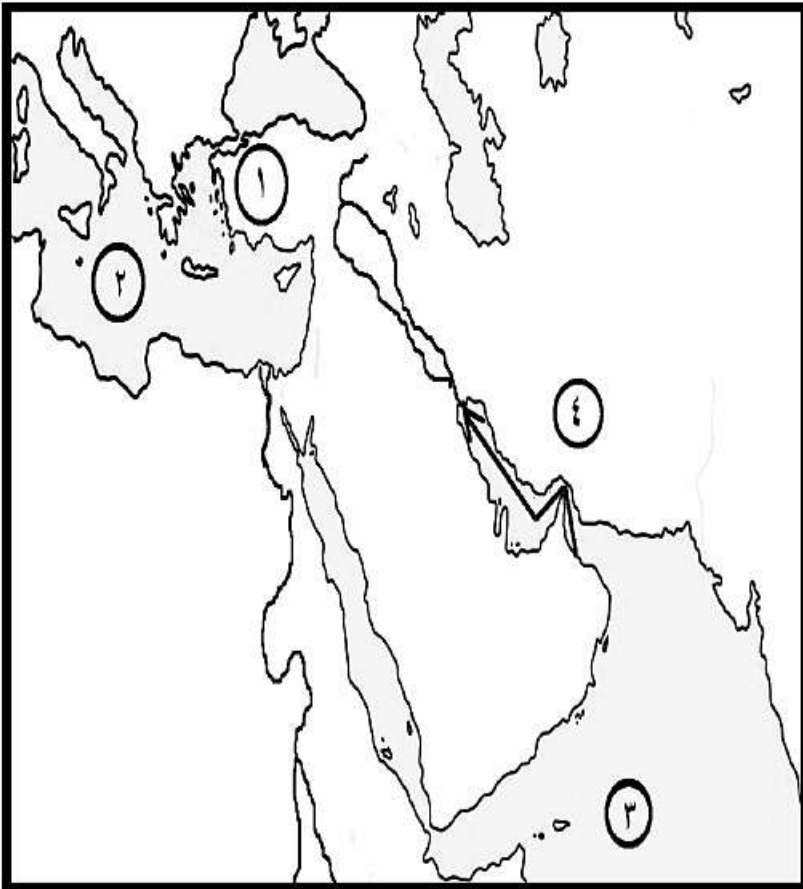
١- أطلقوا على اليمن اسم " بلاد العرب السعيدة " :

(أ) اليونان (ب) الرومان (ج) الفرس (د) السومريون

٢- نسبة عدد الذكور إلى الإناث في المجتمع تعرف بالبنية :

(أ) العمرية (ب) النوعية (ج) الاقتصادية (د) الاجتماعية

استعن بالخريطة للإجابة على المفردات (٣ ، ٤) :



٣- السفن التي أبحرت من مجان في
المسار المحدد على الخريطة حملت :

(أ) العاج (ب) الحرير

(ج) التوابل (د) النحاس

٤- الرقم الذي يشير إلى المحيط الهندي
على الخريطة :

(أ) ١ (ب) ٢

(ج) ٣ (د) ٤

(٢)

المادة: الدراسات الاجتماعية - الصف : السابع - الدور الثاني - الفصل الدراسي الأول - العام الدراسي ٢٠١٨/٢٠١٩م

تابع السؤال الأول:

٥- جميع ما يلي من العوامل البشرية التي تؤثر في توزيع السكان ، ماعدا :

(أ) وسائل النقل

(ب) الهجرة

(د) الأنشطة الاقتصادية

(ج) التضاريس

٦- العامل الرئيس الذي جعل الفرس يتخذون صحار مركزاً لتجارتهم البحرية :

(د) سكانها

(ج) مساحتها

(ب) موقعها

(أ) مناخها

٧- دولة ما أقيم أول تعداد فيها عام ٢٠١٠ م ، والثاني عام ٢٠١٥ م ، لذا من المتوقع أن يقام التعداد الثالث عام :

(د) ٢٠٣٥م

(ج) ٢٠٣٠م

(ب) ٢٠٢٥م

(أ) ٢٠٢٠م

٨- من الأمثلة على الهجرة الخارجية الإجبارية ، الهجرة بسبب :

(د) الزواج

(ج) الحروب

(ب) الدراسة

(أ) العمل

٩ - من مصادر دخل الأسرة قديماً :

(ب) تربية الحيوانات

(أ) الوظائف الحكومية

(د) الاستثمار في الأسهم المالية

(ج) العمل بالمصانع

(٣)

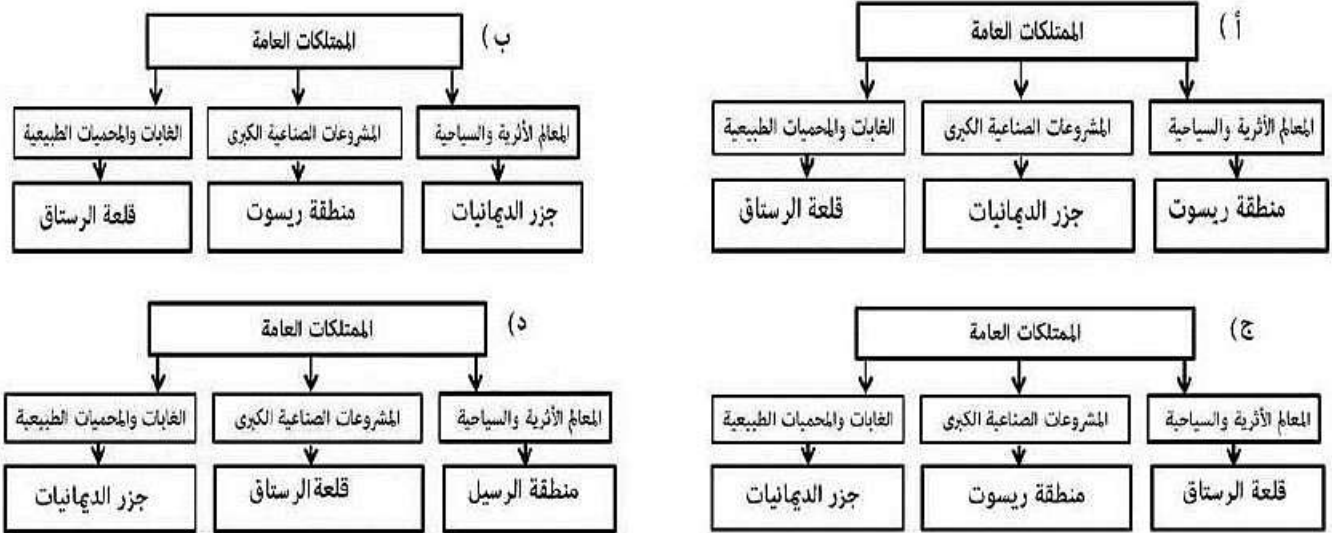
المادة: الدراسات الاجتماعية - الصف: السابع - الدور الثاني - الفصل الدراسي الأول - العام الدراسي ٢٠١٨/٢٠١٩م

تابع السؤال الأول:

١٠- التدخين أحد المسببات الرئيسية لأمراض :

أ (الرئة) ب (العظام) ج (الأعصاب) د (الدم)

١١- المخطط الذي يوضح التصنيف الصحيح للممتلكات العامة :



١٢- توضح الصورة أمامك مخالفة أحد قواعد السلامة على الطريق :



- أ (السرعة الزائدة)
- ب (الازدحام المروري)
- ج (التجاوز الخاطيء)
- د (استخدام الهاتف)

(٤)

المادة: الدراسات الاجتماعية - الصف: السابع - الدور الثاني - الفصل الدراسي الأول - العام الدراسي ٢٠١٨/٢٠١٩م

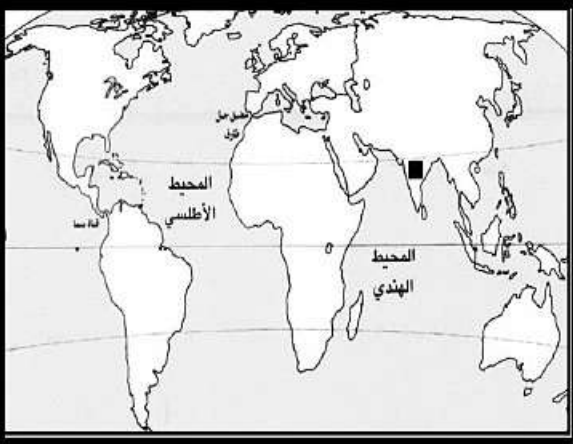
السؤال الثاني :

أولاً : أجب عن الأسئلة الآتية :

- أكتب مقابل كل عبارة من العبارات الواردة في الجدول الآتي المفهوم الدال عليها :

المفهوم	العبارة
.....	١- العصور التي كان الانسان يصنع فيها أدواته من الحجارة الصوانية البسيطة .
.....	٢- الفرق بين أعداد المواليد وأعداد الوفيات للسكان في مجتمع ما في فترة محددة .
.....	٣- الوعي بقواعد المرور والسلوك الصحيح لتطبيقها .

ثانياً : ١ - ادرس خريطة العالم التي أمامك ، ثم أجب عن الأسئلة التي تليها :



أ - الرمز (■) يشير إلى منطقة ذات تركيز سكاني:

() مرتفع () منخفض (✓) علامة (✓)

ب- صف طبيعة المناخ في هذه المنطقة .

٢ - قال صلى الله عليه وسلم " ما ملأ آدمى وعاء شراً من بطنه بحسب ابن آدم لقيمات يقمن صلبه فإن كان لأبد فاعلاً فثلث لطعامه وثلث لشرابه وثلث لنفسه ."

- بين مقوم الصحة الجيدة الذي جاء في الحديث الشريف ؟

ثالثاً : رتب الأحداث التاريخية التالية من الأقدم إلى الأحدث :

- () استأنس الانسان الحيوانات
- () ازدياد التبادل التجاري
- () سكن الانسان الكهوف والمغارات
- () استخدام الطوب في البناء

(٥)

المادة: الدراسات الاجتماعية - الصف: السابع - الدور الثاني- الفصل الدراسي الأول - العام الدراسي ٢٠١٨/٢٠١٩م

السؤال الثالث :

أولا : أجب عن الأسئلة الآتية:

- ١- صنف المكتشفات الأثرية حسب الموقع في الجدول الآتي :
(الجرار المصنوعة من الفخار ، العقود والخواتم)

المكتشفات الأثرية	الموقع
.....	دلمون
.....	بات

- ٢- وضح الأهمية الاقتصادية للآثار .

ثانيا : أذكر نتيجة واحدة ترتبت على ما يأتي :

- ١- التقدم الصحي والاجتماعي للمجتمع.

- ٢ - ممارسة الإنسان العماني القديم لحرفة صهر النحاس .

- ٣- الحفاظ على الممتلكات العامة.

ثالثا- أجب عن الأسئلة الآتية :

- ١- علل / خصصت الأمم المتحدة يوم ١٦ أكتوبر من كل عام للاحتفال بيوم الغذاء العالمي.

- ٢- قارن بين مظاهر التدهور البيئي في الدول الفقيرة والدول الصناعية في الجدول التالي:

وجه المقارنة	الدول الفقيرة/ النامية	الدول الصناعية/ المتقدمة
مظاهر التدهور البيئي

(٦)

المادة: الدراسات الاجتماعية- الصف: السابع - الدور الثاني - الفصل الدراسي الأول - العام الدراسي ٢٠١٨/٢٠١٩م

السؤال الرابع :

أولا :



١- توضح الصورة أحد الممتلكات العامة التي تشرف عليها الدولة هي

٢ - أكتب اسم أحد الحضارات التي قامت في بلاد الرافدين .

ثانيا - اقرأ النص ، ثم أجب عن الأسئلة التي تليه :

" لقد أسهم تزايد الطلب على الطاقة من المصادر التقليدية(الخشب والمخلفات النباتية) في تقلص مساحات الغابات في بعض الدول ، فمثلا : فقدت الدول ذات الدخل المنخفض حوالي (٤٥ ألف) كم^٢ من الغابات بين عامي (١٩٩٠ - ٢٠٠٥ م) يضاف إلى ذلك فقدان (٣٨ ألف) كم^٢ في الدول ذات الدخل تحت المتوسط " .


١- أذكر أحد مصادر الطاقة التقليدية .

٢- فسر : تقلص مساحات الغابات .

٣- اقترح حلاً للتغلب على هذه المشكلة .

2. خبيراً في تقييم مضمون الدرس من خلال الأسئلة التي انتهت

.....
2. خبيراً في تقييم مضمون الدرس من خلال الأسئلة التي انتهت
1 - الأسئلة التي انتهت بالصيغة
3 - الأسئلة التي انتهت بالصيغة



.....
: الأسئلة التي انتهت بالصيغة
1 - الأسئلة التي انتهت بالصيغة

.....
: الأسئلة التي انتهت بالصيغة
1 - الأسئلة التي انتهت بالصيغة

.....
: الأسئلة التي انتهت بالصيغة
1 - الأسئلة التي انتهت بالصيغة

.....
: الأسئلة التي انتهت بالصيغة
1 - الأسئلة التي انتهت بالصيغة

.....
: الأسئلة التي انتهت بالصيغة
1 - الأسئلة التي انتهت بالصيغة

.....
: الأسئلة التي انتهت بالصيغة
1 - الأسئلة التي انتهت بالصيغة



نموذج إجابة امتحان الصف السابع
للعام الدراسي ١٤٣٩/١٤٤٠ هـ - ٢٠١٨/٢٠١٩ م
الدور الثاني - الفصل الدراسي الاول

المادة: الدراسات الاجتماعية الدرجة الكلية: (٤٠) درجة.
تبيئه: نموذج الإجابة في (٥) صفحات.

أولاً: إجابة السؤال الموضوعي:

إجابة السؤال الأول					
المفردة	البديل الصحيح	الإجابة	الدرجة	الصفحة	المستوى المعرفي
١	أ	اليونان	١	٣٤	معرفة
٢	ب	النوعية	١	٤٦	معرفة
٣	د	النحاس	١	٢٤	قدرات عليا
٤	ج	٣	١	٥٧	فهم وتطبيق
٥	ج	التضاريس	١	٦٠ ، ٥٩	معرفة
٦	ب	موقعها	١	٢٦	فهم وتطبيق
٧	أ	٢٠٢٠ م	١	٤٠	فهم وتطبيق
٨	ج	الحروب	١	٥٤	فهم وتطبيق
٩	ب	تربية الحيوانات	١	٧٢	معرفة
١٠	أ	الرثة	١	٧٨	معرفة
١١	ج		١	٨٢	فهم وتطبيق
١٢	د	استخدام الهاتف	١	٩٢	فهم وتطبيق
المجموع			١٢ درجة		

(٢)

تابع نموذج إجابة امتحان الصف السابع
للعام الدراسي ١٤٣٩/١٤٤٠ هـ - ٢٠١٨/٢٠١٩ م
الدور الثاني - الفصل الدراسي الاول
المادة : الدراسات الاجتماعية

ثانيا: إجابة الأسئلة المقالية:

الدرجة الكلية: (٨) درجات				إجابة السؤال الثاني	
المستوى المعرفي	الصفحة	الدرجة	الإجابة الصحيحة	المفردة	الجزئية
معرفة	١٥	١	العصور الحجرية	١	أولا
معرفة	٥٣	١	الزيادة الطبيعية	٢	
معرفة	٨٩	١	التوعية المرورية	٣	
فهم وتطبيق	٥٩	١	(√) مرتفع	أ / ١	ثانيا
فهم وتطبيق	٥٩	١	كثرة الأمطار (بما يفيد المعنى)	ب / ١	
فهم وتطبيق	٧٧	١	تناول الأطعمة بشكل متوازن وعدم المبالغة فيه (بما يفيد المعنى)	٢	
قدرات عليا	١٦-١٤	٢ نصف درجة لكل مفردة	(٢) استأنس الانسان الحيوانات (٤) ازدياد التبادل التجاري (١) سكن الانسان الكهوف والمغارات (٣) استخدام الطوب في البناء		ثالثا

(٣)

تابع نموذج إجابة امتحان الصف السابع
للعام الدراسي ١٤٣٩/١٤٤٠ هـ - ٢٠١٨/٢٠١٩ م
الدور الثاني - الفصل الدراسي الاول
المادة : الدراسات الاجتماعية

تابع ثانيا: إجابة الأسئلة المقالية:

الدرجة الكلية: (٨) درجات			إجابة السؤال الثالث				
المستوى المعرفي	الصفحة	الدرجة	الإجابة الصحيحة		المفردة	الجزئية	
فهم وتطبيق	٢٣ ، ٣٠	٢	المكتشفات الأثرية	الموقع	١	أولا	
			العقود والخواتم (درجة واحدة)	دمون			
			الجرار المصنوعة من الفخار (درجة واحدة)	بات			
فهم وتطبيق	٨٦	١	تعمل الآثار على تنشيط السياحة (بما يفيد المعنى)		٢		
معرفة	٥١ ، ٥٣	١	انخفاض معدلات الوفيات ، يرتفع أمد الحياة (المطلوب واحدة فقط) (بما يفيد المعنى)		١		
معرفة	٢١	١	أصبح النحاس المادة الأساسية لصنع أدوات الانسان القديم ، تطور صناعة الأسلحة والحلي عما كانت عليه سابقا . (المطلوب واحدة فقط)		٢	ثانيا	
معرفة	٨٦	١	تضمن استمرارية تقديم الخدمات للمواطنين (بما يفيد المعنى)		٣		
فهم وتطبيق	٦٧	١	لتعميق الوعي بالمشكلة الغذائية		١		
فهم وتطبيق	٦٩	١	الدول الصناعية / المتقدمة	الدول النامية / الفقيرة	وجه المقارنة	٢	ثالثا
			تلوث البيئة البحرية بما يفيد المعنى (نصف درجة)	تلوث / تدهور الأراضي الزراعية والحياة النباتية الطبيعية بما يفيد المعنى (نصف درجة)			

(٤)

تابع نموذج إجابة امتحان الصف السابع
للعام الدراسي ١٤٤٠/١٤٣٩ هـ - ٢٠١٨/٢٠١٩ م
الدور الثاني - الفصل الدراسي الاول
المادة : الدراسات الاجتماعية

تابع ثانيا: إجابة الأسئلة المقالية:

الدرجة الكلية: (٦) درجات			إجابة السؤال الرابع		
المستوى المعرفي	الصفحة	الدرجة	الإجابة الصحيحة	المفردة	الجزئية
معرفة	٨٢	١	المدرسة / المدارس	١	أولا
معرفة	١٧	١	سومر ، أكاد ، آشور (ذكر واحدة فقط)	٢	
معرفة	٦٩	١	الخشب ، المخلفات النباتية (ذكر واحدة فقط)	١	ثانيا
فهم وتطبيق	٦٩	١	قطع أشجار الغابات من أجل الأخشاب (بما يفيد المعنى)	٢	
قدرات عليا	٦٩	٢	التوعية ، إصدار قوانين ، زرع أشجار ... الخ (يترك للطالب حرية الاجابة) (بما يفيد المعنى)	٣	

يتبع ٥/

تابع نموذج إجابة امتحان الصف السابع
للعام الدراسي ١٤٤٠/١٤٣٩ هـ - ٢٠١٨/٢٠١٩ م
الدور الثاني - الفصل الدراسي الاول
المادة : الدراسات الاجتماعية

تابع ثانيا: إجابة الأسئلة المقالية:

الدرجة الكلية: (٦) درجات			إجابة السؤال الخامس			
المستوى المعرفي	الصفحة	الدرجة	الإجابة الصحيحة		المفردة	الجزئية
معرفة	٣٣	٢	حضارة أم النار		١	أولا
			الموقع	دولة الامارات العربية المتحدة (درجة واحدة)		
			الحرفة الرئيسية للسكان	التجارة البحرية (درجة واحدة)		
فهم وتطبيق	٢٨	١	نبي الله موسى (عليه السلام) طلب من أخيه هارون أن يحمل مبخرا لتبخير المصلين باللبان أيام انتشار مرض الطاعون باعتباره مطهرا .		٢	ثانيا
فهم وتطبيق	٩٢	١	الاستعراض بالسيارة ، التفحيط (ما يفيد المعنى)		١	
قدرات عليا	٩٢	٢	ينصحهم بعدم المخاطرة بحياتهم (يترك للطالب حرية الاجابة) (بما يفيد المعنى)		٢	

نهاية نموذج الإجابة