

تم تحميل هذا الملف من موقع المناهج العُمانية



* للحصول على أوراق عمل لجميع الصفوف وجميع المواد اضغط هنا

<https://almanahj.com/om>

* للحصول على أوراق عمل لجميع مواد الصف السابع اضغط هنا

<https://almanahj.com/om/7>

* للحصول على جميع أوراق الصف السابع في مادة اجتماعيات ولجميع الفصول, اضغط هنا

<https://almanahj.com/om/7social>

* للحصول على أوراق عمل لجميع مواد الصف السابع في مادة اجتماعيات الخاصة بـ الفصل الأول اضغط هنا

<https://almanahj.com/om/7social1>

* لتحميل كتب جميع المواد في جميع الفصول للـ الصف السابع اضغط هنا

<https://almanahj.com/om/grade7>

* لتحميل جميع ملفات المدرس عمر العزري اضغط هنا

للتحدث إلى بوت على تلغرام: اضغط هنا

https://t.me/omcourse_bot



امتحان مادة : الدراسات الاجتماعية
للف : السابع الأساسي

للعام الدراسي ١٤٣٨/١٤٣٩ هـ - ٢٠١٧/٢٠١٨ م
الدور الأول - الفصل الدراسي الأول

- زمن الامتحان: (ساعة ونصف) ● عدد صفحات أسئلة الامتحان: (٧) صفحات.
- الإجابة في الدفتر نفسه .

		اسم الطالب
الصف		المدرسة

التوقيع بالاسم		الدرجة		السؤال
المصحح الثاني	المصحح الأول	بالحروف	بالأرقام	
				١
				٢
				٣
				٤
مراجعة الجمع	جمعه			المجموع
				المجموع الكلي

(١)

المادة : الدراسات الاجتماعية- الصف : السابع - الدور الأول - الفصل الدراسي الأول-العام الدراسي ٢٠١٧/٢٠١٨م

أجب عن جميع الأسئلة الآتية

السؤال الأول: ضع دائرة حول رمز الإجابة الصحيحة لكل مفردة من المفردات الآتية:

١) تنتمي نماذج الأسلحة في الشكل المقابل الى العصر :



أ) الحجري

ب) البرونزي

ج) الحديدي

د) عصر ما قبل التاريخ

٢) الحضارة القديمة التي عاصرت حضارة مجان وامتدت على الساحل الغربي للخليج العربي :

د) آشور

ج) أكاد

ب) سومر

أ) دلمون

٣) بلغ عدد المواليد الأحياء في دولة ما ١١٢٥٠ مولودا في السنة ، وكان إجمالي السكان في منتصف العام ٥٧٩٠٠٠ نسمة ، فأن معدل المواليد بالألف لهذا المجتمع هو :

د) ١,٩

ج) ١٩,٤

ب) ١٨,٤

أ) ١,٨

٤) زيادة أعداد السكان بصورة كبيرة تفوق الزيادة في الموارد الطبيعية :

د) الزيادة الطبيعية

ج) الانفجار السكاني

ب) الهجرة

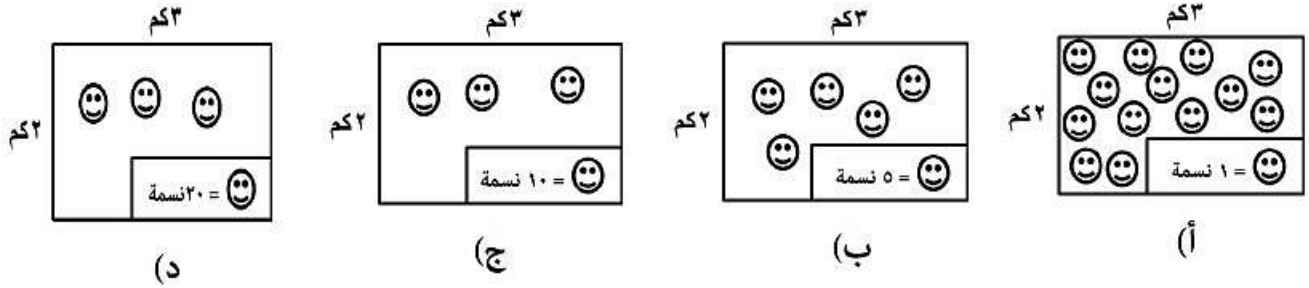
أ) النمو السكاني

(٢)

المادة : الدراسات الاجتماعية- الصف : السابع - الدور الأول - الفصل الدراسي الأول- العام الدراسي ٢٠١٧/٢٠١٨م

تابع السؤال الأول:

٥) الشكل الصحيح الذي يعبر عن الكثافة السكانية المرتفعة من بين الأشكال الآتية:



٦) المخطط الصحيح لمقومات الصحة الجيدة هو :

أ	تجنب الدهون	ترك الوجبات السريعة	ممارسة الرياضة بانتظام	تجنب المشروبات الغازية	تجنب التدخين
ب	تجنب الدهون	قلة الرياضة	ترك وجبة الإفطار	تناول المشروبات الغازية	الإكثار من الوجبات السريعة
ج	تجنب الدهون	الإكثار من الوجبات السريعة	تجنب المشروبات الغازية	تجنب التدخين	قلة الرياضة
د	تجنب الدهون	تجنب المشروبات الغازية	الإكثار من التدخين	الإكثار من الوجبات السريعة	قلة الرياضة

٧) السبب الرئيسي في زيادة حوادث المرور بسلطنة عمان عام ٢٠٠٩م وفقا للجدول المقابل هو :

عدد الحوادث	السبب
٣٧٤	التجاوز الخاطئ
١٦٣٩	سوء التصرف
٣٧٤٤	السرعة
٦١٥	الإهمال

- أ) سوء التصرف
ب) الإهمال
ج) التجاوز الخاطئ
د) السرعة

(٣)

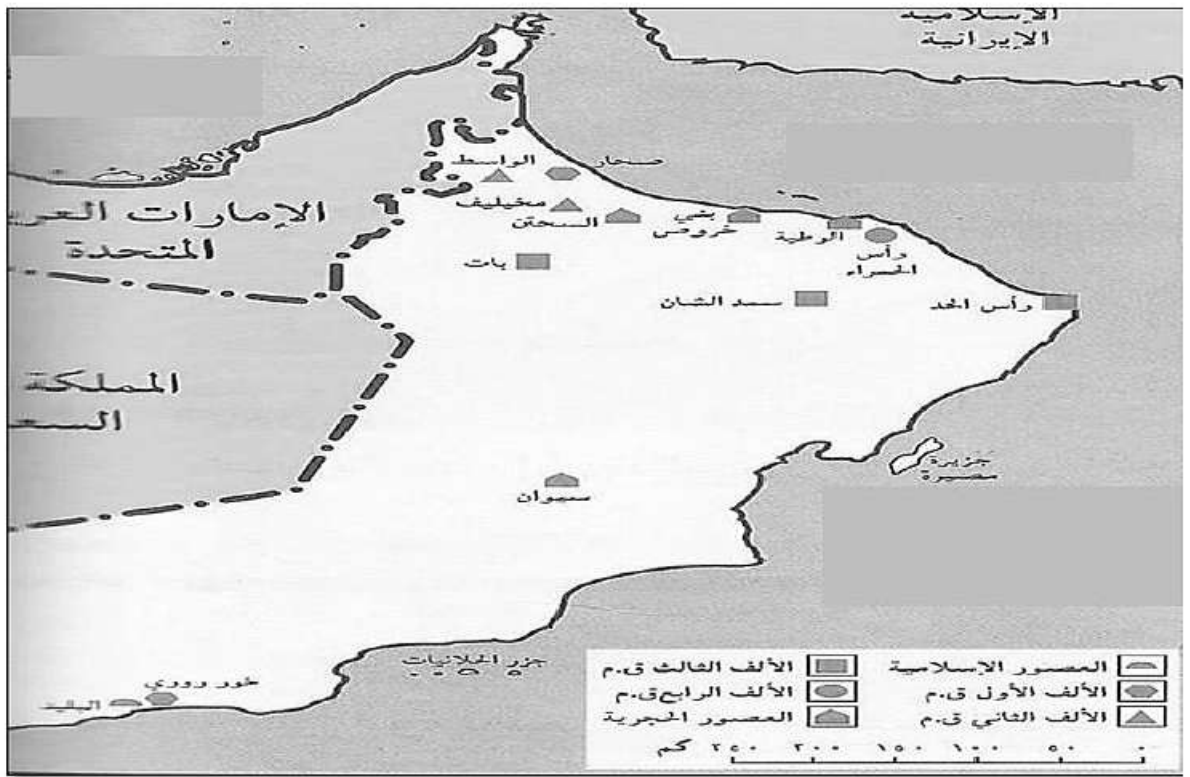
المادة : الدراسات الاجتماعية- الصف : السابع - الدور الأول - الفصل الدراسي الأول-العام الدراسي ٢٠١٧/٢٠١٨م
تابع السؤال الأول:

٤) من الممتلكات العامة للدولة التي تعد شواهد تاريخية تعمل على تنشيط قطاع السياحة في السلطنة :

أ) الشواطئ ب) الرمال ج) الآثار د) المحميات الطبيعية

السؤال الثاني:

١) ادرس الخريطة التي أمامك جيدا ثم أجب على الأسئلة التالية :



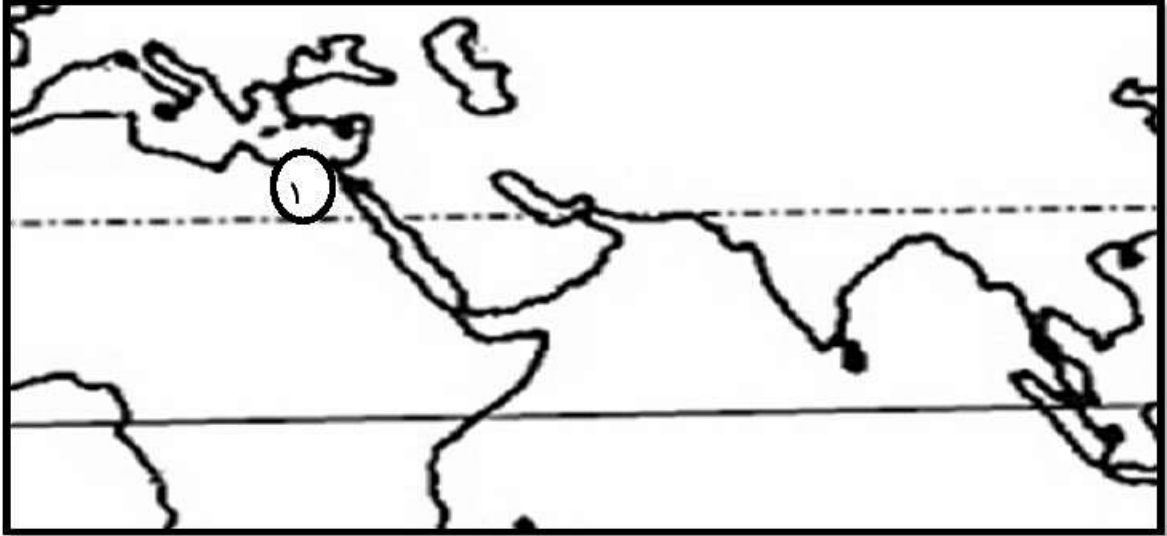
أ) استخراج من الخريطة موقع أثري واحد يعود للعصور الآتية :

المواقع الأثرية	العصور التاريخية
.....	الألف الثالث ق.م
.....	العصور الإسلامية

(٤)

المادة : الدراسات الاجتماعية- الصف : السابع - الدور الأول - الفصل الدراسي الأول-العام الدراسي ٢٠١٧/٢٠١٨م
تابع : السؤال الثاني :

(ب) ادرس الخريطة الآتية جيدا ثم أجب عن الأسئلة التي تليها :



- ١- اكتب بحر العرب في موقعه الصحيح على الخريطة .
٢- يشير الرقم (١) الى احدى الحضارات القديمة المجاورة لشبه الجزيرة العربية هي (اكمل)

٢) أ- صنف أفراد الأسرة في الجدول الآتي حسب الفئة العمرية لكل فرد .

الاسم	العمر	الفئة العمرية
احمد	١٣ سنة
سام	٧٦ سنة

- ب - انسب المكتشفات التالية حسب العصور التاريخية التي ظهرت فيها :
(استخدام الأثاث الخشبي - معرفة النقود - ممارسة الزراعة)
١. - العصر الحجري الحديث (.....)
 ٢. - العصر البرونزي (.....)
 ٣. - العصر الحديدي (.....)

(٥)

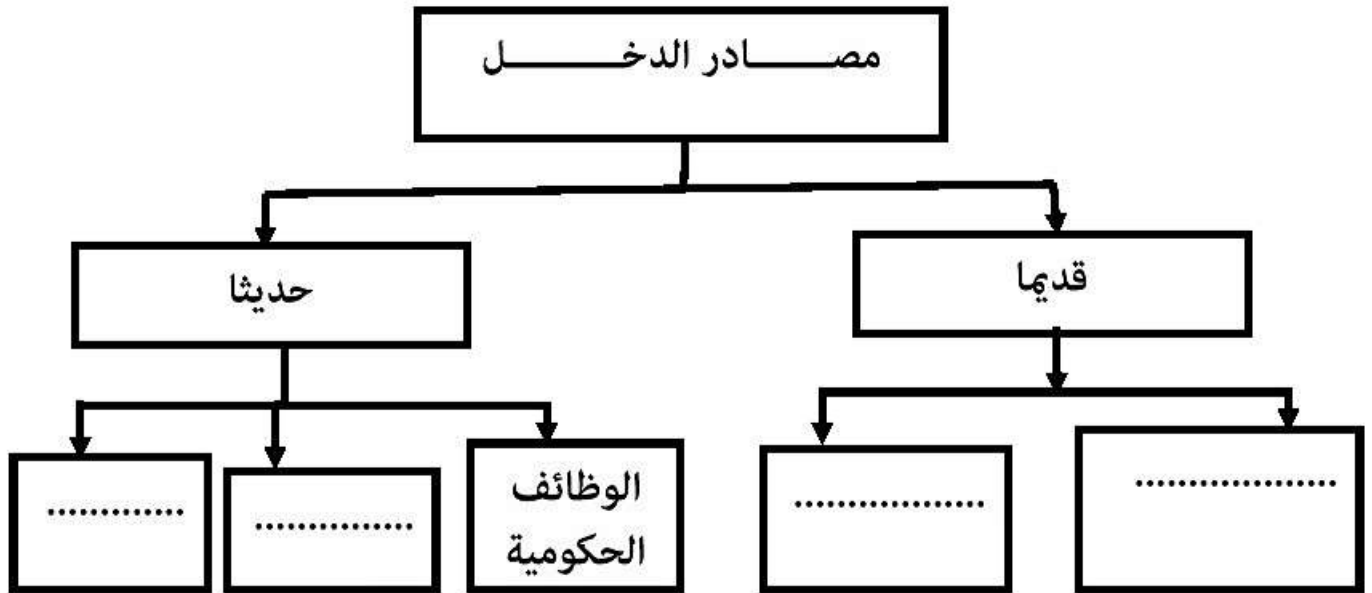
المادة : الدراسات الاجتماعية- الصف : السابع - الدور الأول - الفصل الدراسي الأول-العام الدراسي ٢٠١٧/٢٠١٨م
السؤال الثالث :

أولا : اكتب بين القوسين المفهوم الصحيح لكل عبارة من العبارات الآتية :

١. (.....) العملية الشاملة لحصر الأفراد والتعرف على حالتهم الاقتصادية والاجتماعية في أماكن إقامتهم في دولة ما خلال فترة زمنية محددة .
٢. (.....) عدد السنوات المتوقع أن يعيشها الفرد الواحد .
٣. (.....) نظام السير على الطرقات سواء للمركبات أم للمشاة .

ثانيا :

أ) أكمل الخريطة الذهنية التي توضح مصادر الدخل قديما وحديثا باستخدام المفردات الموجودة بين القوسين :
(تربية الحيوانات - الصناعة - الزراعة - الشركات الخاصة)



ب) علل : اهتمام الحكومة بإدارة وتنمية الموارد المائية في السلطنة ؟

.....
.....

(٦)

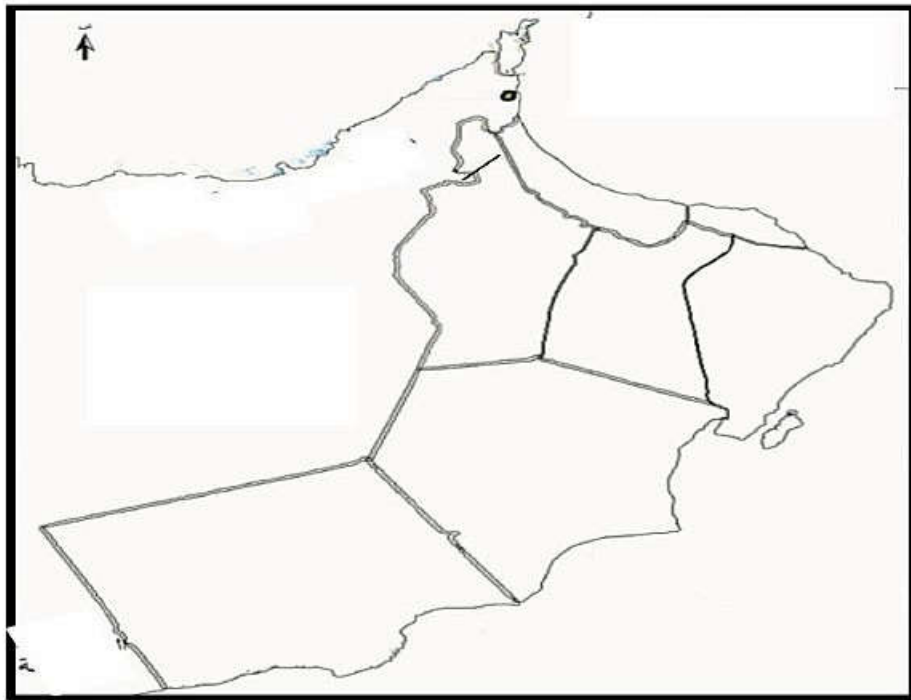
المادة : الدراسات الاجتماعية- الصف : السابع - الدور الأول - الفصل الدراسي الأول-العام الدراسي ٢٠١٧/٢٠١٨م
تابع السؤال الثالث :

ثالثا : فرق بين المجتمعات الفقيرة والمجتمعات الغنية من حيث :
(النمو السكاني)

المجتمعات الغنية	المجتمعات الفقيرة	
.....	النمو السكاني

السؤال الرابع :

أولا : ادرس الخريطة التي أمامك ثم اجب عن الأسئلة التالية :



أ) ظلل محافظة مسقط في مكانها الصحيح على الخريطة .

ب) تعاني محافظة مسقط من ارتفاع الهجرة الداخلة . اقترح حلا واحدا لتقليل الهجرة الداخلة اليها؟

.....

.....

.....

(٧)

المادة : الدراسات الاجتماعية- الصف : السابع - الدور الأول - الفصل الدراسي الأول-العام الدراسي ٢٠١٧/٢٠١٨م

تابع السؤال الرابع :

ثانيا :

أ) بلغ عدد الذكور في مجتمع ما ٦٨٩٠٠ نسمة وبلغ عدد الإناث ٦٥٠٠٠ نسمة في ضوء ذلك • احسب نسبة النوع لهذا المجتمع مع كتابة القانون المستخدم في الحل؟

.....

.....

.....

.....

.....

.....

.....

.....

.....

ب) حدد السلوكيات الآتية الى سلوك صحيح وسلوك خاطئ ؟

- ١- التزاحم عند ركوب حافلة المدرسة قبل التوقف الكامل (.....)
- ٢- التوقف عند الحاجة لاستعمال الهاتف النقال (.....)

ثالثا :

يعمل راشد في مؤسسة ما براتب شهري قدرة ٣٥٠ ريالاً عمانياً ، بينما يبلغ ما ينفقه ٤٠٠ ريالاً عمانياً •

أ- ما المشكلة التي يعاني منها راشد ؟

.....

ب- اقترح حلاً واحداً لمساعدة راشد على زيادة دخله ؟

.....

.....

(انتهت الأسئلة مع تمنياتنا للجميع بالتوفيق والنجاح.)



امتحان مادة : الدراسات الاجتماعية
للف : السابع الأساسي

للعام الدراسي ١٤٣٨/١٤٣٩ هـ - ٢٠١٧/٢٠١٨ م
الدور الأول - الفصل الدراسي الأول

- زمن الامتحان: (ساعة ونصف) ● عدد صفحات أسئلة الامتحان: (٧) صفحات.
- الإجابة في الدفتر نفسه .

		اسم الطالب
الصف		المدرسة

التوقيع بالاسم		الدرجة		السؤال
المصحح الثاني	المصحح الأول	بالحروف	بالأرقام	
				١
				٢
				٣
				٤
مراجعة الجمع	جمعه			المجموع
				المجموع الكلي

(١)

المادة : الدراسات الاجتماعية- الصف : السابع - الدور الأول - الفصل الدراسي الأول-العام الدراسي ٢٠١٧/٢٠١٨م

أجب عن جميع الأسئلة الآتية

السؤال الأول: ضع دائرة حول رمز الإجابة الصحيحة لكل مفردة من المفردات الآتية:

١) تنتمي نماذج الأسلحة في الشكل المقابل الى العصر :



أ) الحجري

ب) البرونزي

ج) الحديدي

د) عصر ما قبل التاريخ

٢) الحضارة القديمة التي عاصرت حضارة مجان وامتدت على الساحل الغربي للخليج العربي :

د) آشور

ج) أكاد

ب) سومر

أ) دلمون

٣) بلغ عدد المواليد الأحياء في دولة ما ١١٢٥٠ مولودا في السنة ، وكان إجمالي السكان في منتصف العام ٥٧٩٠٠٠ نسمة ، فأن معدل المواليد بالألف لهذا المجتمع هو :

د) ١,٩

ج) ١٩,٤

ب) ١٨,٤

أ) ١,٨

٤) زيادة أعداد السكان بصورة كبيرة تفوق الزيادة في الموارد الطبيعية :

د) الزيادة الطبيعية

ج) الانفجار السكاني

ب) الهجرة

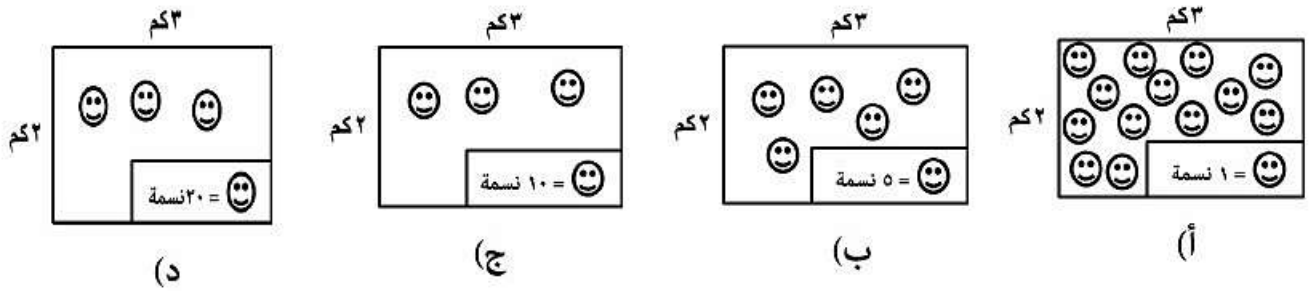
أ) النمو السكاني

(٢)

المادة : الدراسات الاجتماعية- الصف : السابع - الدور الأول - الفصل الدراسي الأول- العام الدراسي ٢٠١٧/٢٠١٨م

تابع السؤال الأول:

٥) الشكل الصحيح الذي يعبر عن الكثافة السكانية المرتفعة من بين الأشكال الآتية:



٦) المخطط الصحيح لمقومات الصحة الجيدة هو :

أ	تجنب الدهون	ترك الوجبات السريعة	ممارسة الرياضة بانتظام	تجنب المشروبات الغازية	تجنب التدخين
ب	تجنب الدهون	قلة الرياضة	ترك وجبة الإفطار	تناول المشروبات الغازية	الإكثار من الوجبات السريعة
ج	تجنب الدهون	الإكثار من الوجبات السريعة	تجنب المشروبات الغازية	تجنب التدخين	قلة الرياضة
د	تجنب الدهون	تجنب المشروبات الغازية	الإكثار من التدخين	الإكثار من الوجبات السريعة	قلة الرياضة

٧) السبب الرئيسي في زيادة حوادث المرور بسلطنة عمان عام ٢٠٠٩م وفقا للجدول المقابل هو :

عدد الحوادث	السبب
٣٧٤	التجاوز الخاطئ
١٦٣٩	سوء التصرف
٣٧٤٤	السرعة
٦١٥	الإهمال

- أ) سوء التصرف
ب) الإهمال
ج) التجاوز الخاطئ
د) السرعة

(٣)

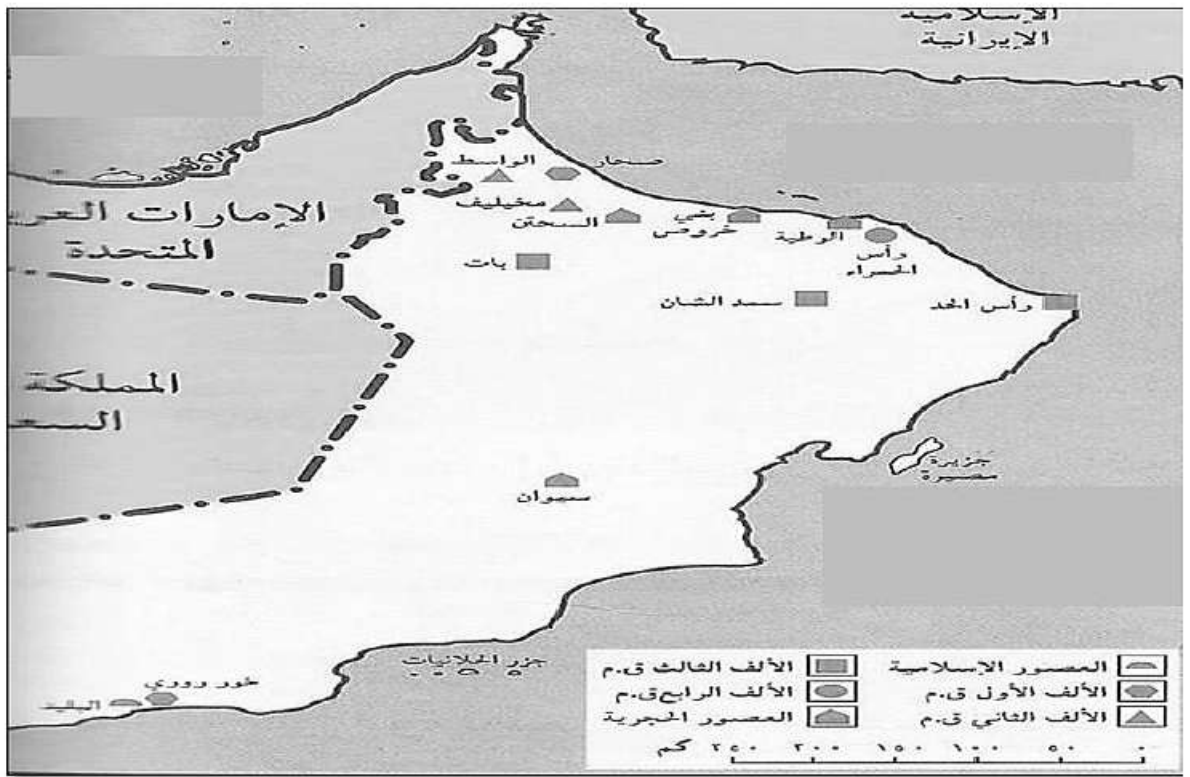
المادة : الدراسات الاجتماعية- الصف : السابع - الدور الأول - الفصل الدراسي الأول-العام الدراسي ٢٠١٧/٢٠١٨م
تابع السؤال الأول:

٤) من الممتلكات العامة للدولة التي تعد شواهد تاريخية تعمل على تنشيط قطاع السياحة في السلطنة :

أ) الشواطئ ب) الرمال ج) الآثار د) المحميات الطبيعية

السؤال الثاني:

١) ادرس الخريطة التي أمامك جيدا ثم أجب على الأسئلة التالية :



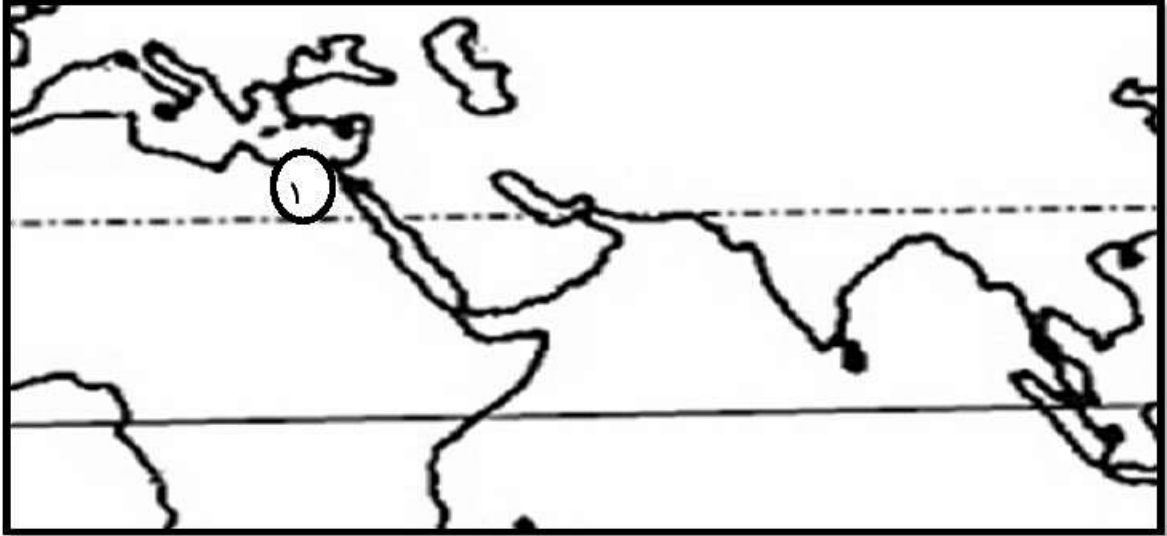
أ) استخراج من الخريطة موقع أثري واحد يعود للعصور الآتية :

المواقع الأثرية	العصور التاريخية
.....	الألف الثالث ق.م
.....	العصور الإسلامية

(٤)

المادة : الدراسات الاجتماعية- الصف : السابع - الدور الأول - الفصل الدراسي الأول-العام الدراسي ٢٠١٧/٢٠١٨م
تابع : السؤال الثاني :

(ب) ادرس الخريطة الآتية جيدا ثم أجب عن الأسئلة التي تليها :



- ١- اكتب بحر العرب في موقعه الصحيح على الخريطة .
٢- يشير الرقم (١) الى احدى الحضارات القديمة المجاورة لشبه الجزيرة العربية هي (اكمل)

٢) أ- صنف أفراد الأسرة في الجدول الآتي حسب الفئة العمرية لكل فرد .

الاسم	العمر	الفئة العمرية
احمد	١٣ سنة
سام	٧٦ سنة

- ب - انسب المكتشفات التالية حسب العصور التاريخية التي ظهرت فيها :
(استخدام الأثاث الخشبي - معرفة النقود - ممارسة الزراعة)
١. - العصر الحجري الحديث (.....)
 ٢. - العصر البرونزي (.....)
 ٣. - العصر الحديدي (.....)

(٥)

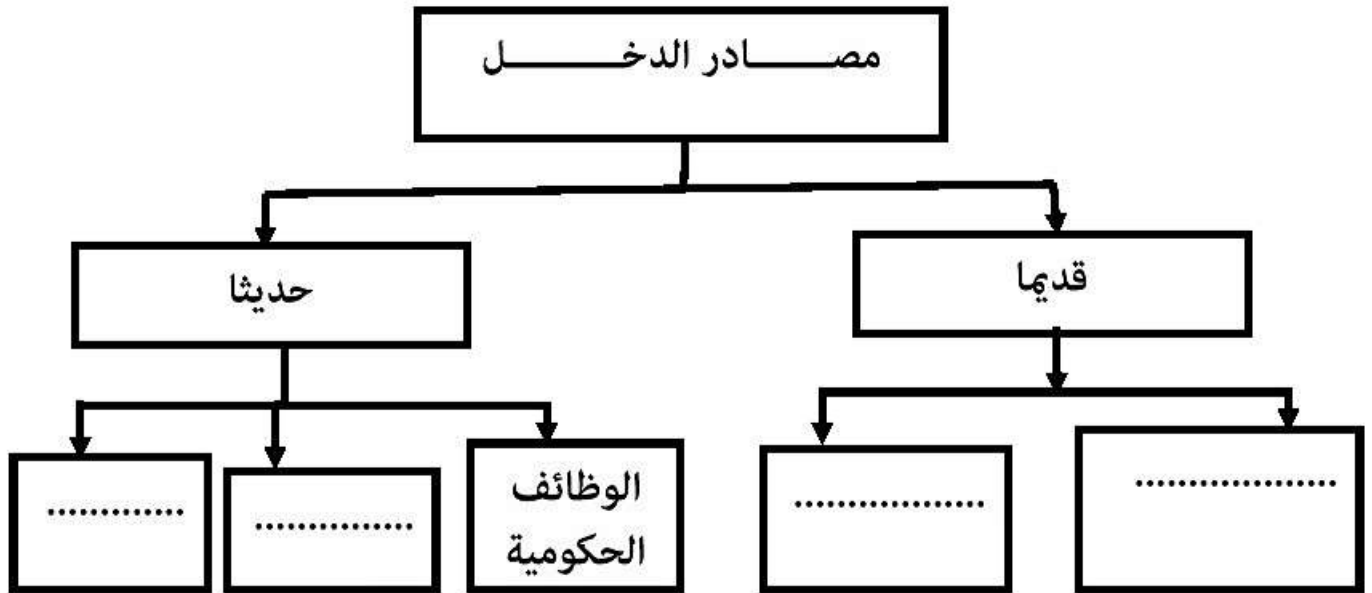
المادة : الدراسات الاجتماعية- الصف : السابع - الدور الأول - الفصل الدراسي الأول-العام الدراسي ٢٠١٧/٢٠١٨م
السؤال الثالث :

أولا : اكتب بين القوسين المفهوم الصحيح لكل عبارة من العبارات الآتية :

١. (.....) العملية الشاملة لحصر الأفراد والتعرف على حالتهم الاقتصادية والاجتماعية في أماكن إقامتهم في دولة ما خلال فترة زمنية محددة .
٢. (.....) عدد السنوات المتوقع أن يعيشها الفرد الواحد .
٣. (.....) نظام السير على الطرقات سواء للمركبات أم للمشاة .

ثانيا :

أ) أكمل الخريطة الذهنية التي توضح مصادر الدخل قديما وحديثا باستخدام المفردات الموجودة بين القوسين :
(تربية الحيوانات - الصناعة - الزراعة - الشركات الخاصة)



ب) علل : اهتمام الحكومة بإدارة وتنمية الموارد المائية في السلطنة ؟

.....
.....

(٦)

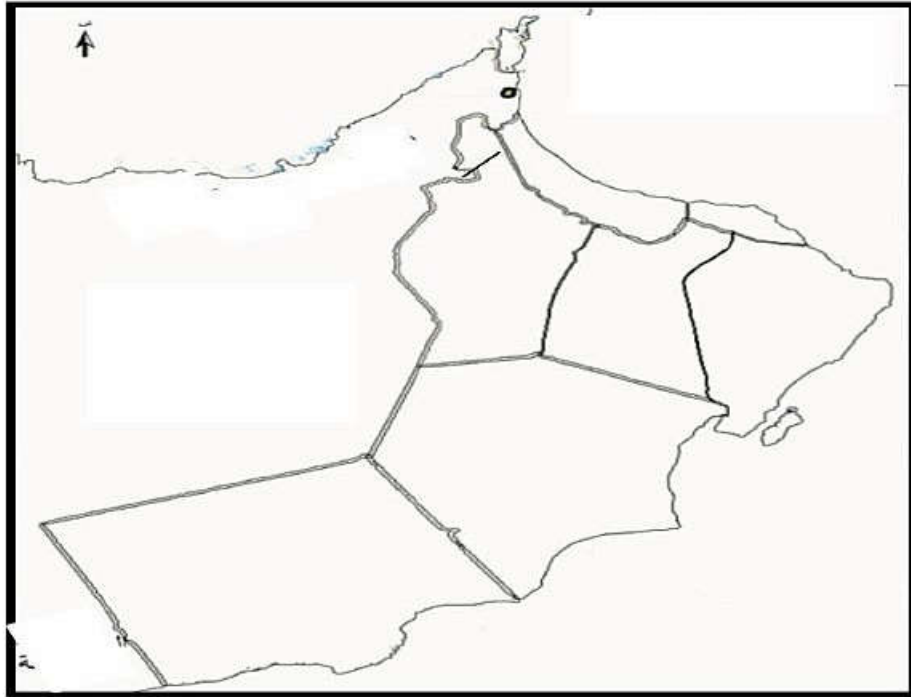
المادة : الدراسات الاجتماعية- الصف : السابع - الدور الأول - الفصل الدراسي الأول-العام الدراسي ٢٠١٧/٢٠١٨م
تابع السؤال الثالث :

ثالثا : فرق بين المجتمعات الفقيرة والمجتمعات الغنية من حيث :
(النمو السكاني)

المجتمعات الغنية	المجتمعات الفقيرة	
.....	النمو السكاني

السؤال الرابع :

أولا : ادرس الخريطة التي أمامك ثم اجب عن الأسئلة التالية :



أ) ظلل محافظة مسقط في مكانها الصحيح على الخريطة .

ب) تعاني محافظة مسقط من ارتفاع الهجرة الداخلة . اقترح حلا واحدا لتقليل الهجرة الداخلة اليها؟

.....

.....

.....

(٧)

المادة : الدراسات الاجتماعية- الصف : السابع - الدور الأول - الفصل الدراسي الأول-العام الدراسي ٢٠١٧/٢٠١٨م

تابع السؤال الرابع :

ثانيا :

أ) بلغ عدد الذكور في مجتمع ما ٦٨٩٠٠ نسمة وبلغ عدد الإناث ٦٥٠٠٠ نسمة في ضوء ذلك • احسب نسبة النوع لهذا المجتمع مع كتابة القانون المستخدم في الحل؟

.....

.....

.....

.....

.....

.....

.....

.....

.....

ب) حدد السلوكيات الآتية الى سلوك صحيح وسلوك خاطئ ؟

- ١- التزاحم عند ركوب حافلة المدرسة قبل التوقف الكامل (.....)
- ٢- التوقف عند الحاجة لاستعمال الهاتف النقال (.....)

ثالثا :

يعمل راشد في مؤسسة ما براتب شهري قدرة ٣٥٠ ريالاً عمانياً ، بينما يبلغ ما ينفقه ٤٠٠ ريالاً عمانياً •

أ- ما المشكلة التي يعاني منها راشد ؟

.....

.....

.....

.....

ب- اقترح حلاً واحداً لمساعدة راشد على زيادة دخله ؟

.....

.....

(انتهت الأسئلة مع تمنياتنا للجميع بالتوفيق والنجاح.)



امتحان مادة : الدراسات الاجتماعية
للف : السابع الأساسي

للعام الدراسي ١٤٣٨/١٤٣٩ هـ - ٢٠١٧/٢٠١٨ م
الدور الثاني - الفصل الدراسي الأول

- زمن الامتحان: (ساعة ونصف) ● عدد صفحات أسئلة الامتحان: (٨) صفحات.
- الإجابة في الدفتر نفسه .

		اسم الطالب
الصف		المدرسة

التوقيع بالاسم		الدرجة		السؤال
المصحح الثاني	المصحح الأول	بالحروف	بالأرقام	
				١
				٢
				٣
				٤
مراجعة الجمع	جمعه			المجموع
				المجموع الكلي

(١)

المادة: الدراسات الاجتماعية - الصف : السابع - الدور الثاني- الفصل الدراسي الأول-العام الدراسي ٢٠١٧/٢٠١٨م

أجب عن جميع الأسئلة الآتية

السؤال الأول: ضع دائرة حول رمز الإجابة الصحيحة لكل مفردة من المفردات الآتية:
 (١) الدولة اليمنية القديمة التي اتخذت مدينة قرناو عاصمة لها هي :

أ- معين ب- قُتبان ج-سبأ د-حمير

(٢) العصر الذي بدأ فيه الانسان استخدام النقود بدلا من نظام المقايضة هو العصر :

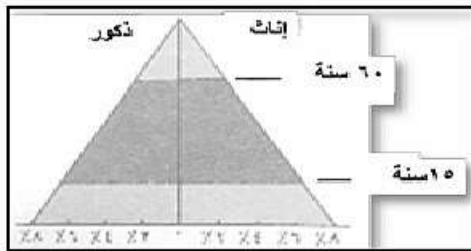
أ- البروزي ب- الحديدي ج - الحجري الحديث د - الحجري القديم

(٣) أحد المعدلات الآتية يستخدم كمؤشر لقياس المستوى الصحي للمجتمع:

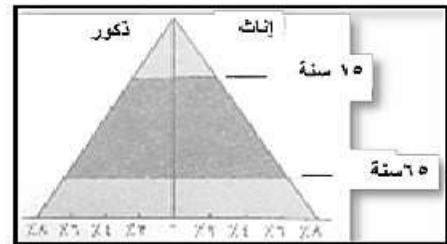
أ-معدل المواليد الخام ب-معدل الوفيات الخام

ج-معدل وفيات الأطفال الرضع د-معدل الهجرة


(٤) الهرم السكاني الصحيح الذي يمثل المجتمع الفتى هو :



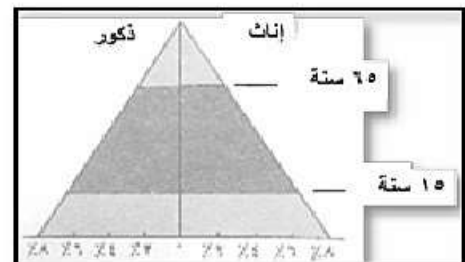
(ب)



(أ)



(د)



(ج)

(٢)

المادة : الدراسات الاجتماعية- الصف : السابع - الدور الثاني - الفصل الدراسي الأول-العام الدراسي ٢٠١٧/٢٠١٨م

تابع السؤال الأول:

٥)السبب الرئيسي لحوادث المرور في سلطنة عمان عام ٢٠٠٩م:

أ-الإرهاق ب-الإهمال ج-التجاوز د-السرعة

٦) جميع ما يلي من الممتلكات العامة ، عدا :

أ- الموارد الطبيعية ب- المجمعات التجارية
ج-المشروعات الصناعية الكبرى ج-المعالم الأثرية

٧) السلوك الصحيح لسائق السيارة من بين البدائل الآتية :

أ-التوقف عند الحاجة لاستخدام الهاتف النقال

ب-التجاوز من اليمين

ج-عدم التوقف عندما تكون الإشارة الضوئية حمراء

د-السرعة الزائدة في الطرق الداخلية

٨) الصورة التي تمتاز بأنها الأكثر كثافة سكانية من بين الصور الآتية:



ب



أ



د




ج

(٣)

المادة : الدراسات الاجتماعية - الصف : السابع - الدور الثاني - الفصل الدراسي الأول - العام الدراسي ٢٠١٧/٢٠١٨

السؤال الثاني:

أ) اكتب أسفل كل صورة من الصور الآتية المهنة التي مارسها الإنسان في عمان منذ القدم:

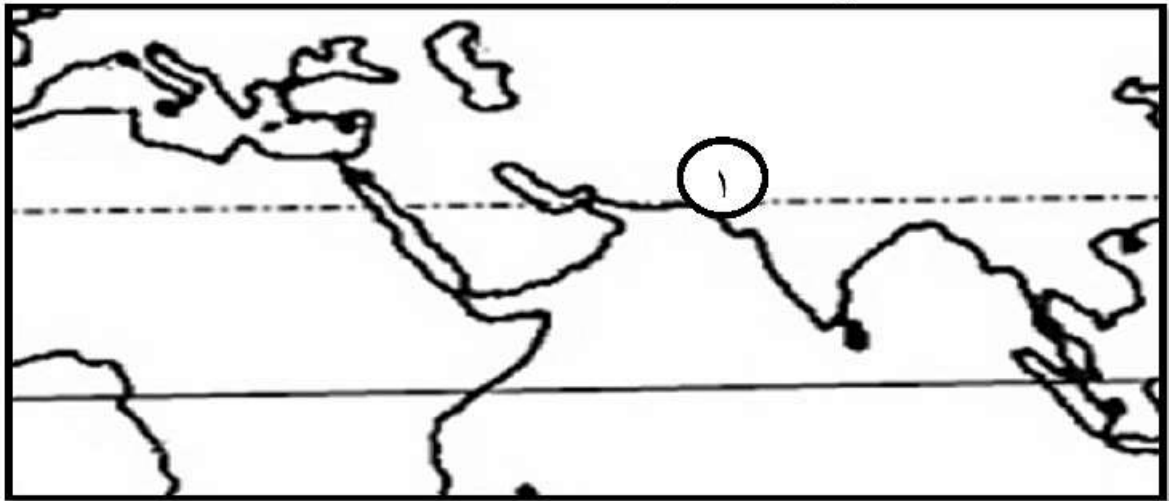


..... (٢)



..... (١)

ب) أدرس الخريطة التي أمامك ، ثم أجب عن الأسئلة التالية:



- ١- يشير الرقم (١) في الخريطة إلى إحدى الحضارات القديمة وهي : (.....) أكمل .
- ٢- ظلل موقع البحر الأحمر على الخريطة.

ج) ١- أعط دليلا واحدا على ازدهار الزراعة في دولة سبأ .

.....
.....

(٤)



المادة : الدراسات الاجتماعية - الصف : السابع - الدور الثاني - الفصل الدراسي الأول - العام الدراسي ٢٠١٧/٢٠١٨

تابع السؤال الثاني:

٢- علل:اهتمام السلطنة بإقامة المشاريع التنموية والاقتصادية والصحية في مختلف المحافظات.

.....

٣- أكمل الجدول الآتي:

الحضارة التي تنتمي إليها	الآثار المكتشفة
	 <p>(أ)</p>
	 <p>(ب)</p>

(٥)

المادة : الدراسات الاجتماعية - الصف : السابع - الدور الثاني - الفصل الدراسي الأول - العام الدراسي ٢٠١٧/٢٠١٨
السؤال الثالث:

أ- ادرس الجدول الآتي ثم أجب عن الأسئلة التي تليه :

المحافظة	إجمالي السكان	المساحة/كم ^٢	الكثافة السكانية
مسقط	٧٧٥٨٧٨	٣٥٠٠	٢٢١.٦
ظفار	٢٤٩٧٢٩	٩٩٣٠٠	٢.٥
الداخلية	٣٢٦٦٥١	٣١٩٠٠	١٠.٢
الشرقية	٣٥٠٥١٤	٣٦٨٠٠
الباطنة	٧٧٢٥٩٠	١٢٥٠٠	٦١.٨
مسندم	٣١٤٢٥	١٨٠٠	١٧.٤
الوسطى	٤٢١١١	٧٩٧٠٠	٥.

١- ما هي أكبر محافظات السلطنة مساحة؟

.....

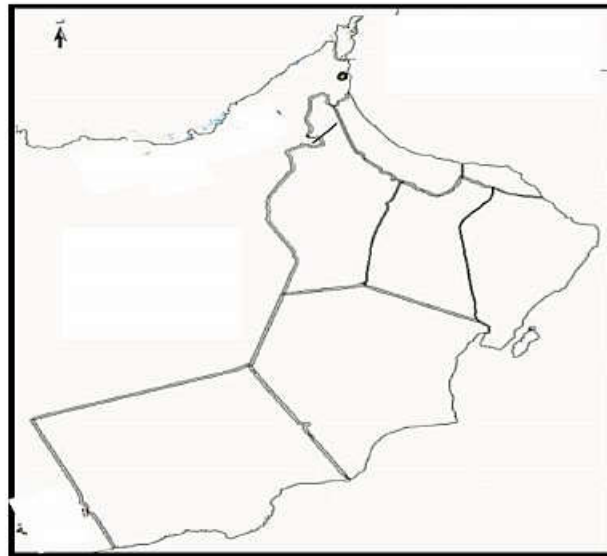
٢- احسب الكثافة السكانية لمحافظة الشرقية.

.....

.....

.....

٣- اكتب على الخريطة التي أمامك الموقع الصحيح لاسم المحافظة الأقل كثافة سكانية، اعتماداً على بيانات الجدول السابق .



(٦)

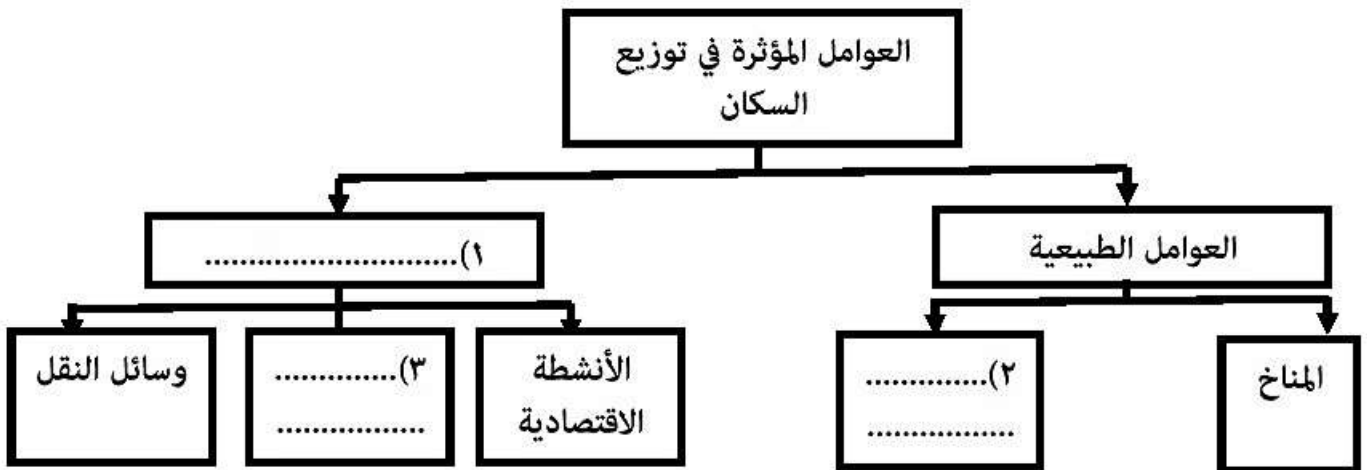
المادة : الدراسات الاجتماعية - الصف : السابع - الدور الثاني - الفصل الدراسي الأول - العام الدراسي ٢٠١٧/٢٠١٨
تابع السؤال الثالث:

ب- عرف ما يلي:

١- أمد الحياة.

٢- سوء التغذية

ج- أكمل الشكل التالي:



(٧)

المادة : الدراسات الاجتماعية - الصف : السابع - الدور الثاني - الفصل الدراسي الأول - العام الدراسي ٢٠١٧/٢٠١٨
السؤال الرابع :

أ- اختر من بين القوسين المفهوم المناسب لكل عبارة من العبارات التالية:
(الإدخار - إستهلاك - الإستثمار - الدخل)

١- يعمل سالم موظفا في إحدى الشركات الخاصة براتب شهري قدره ٥٠٠ ريال عماني. ()
٢- دفع سالم فواتير الماء والكهرباء. ()

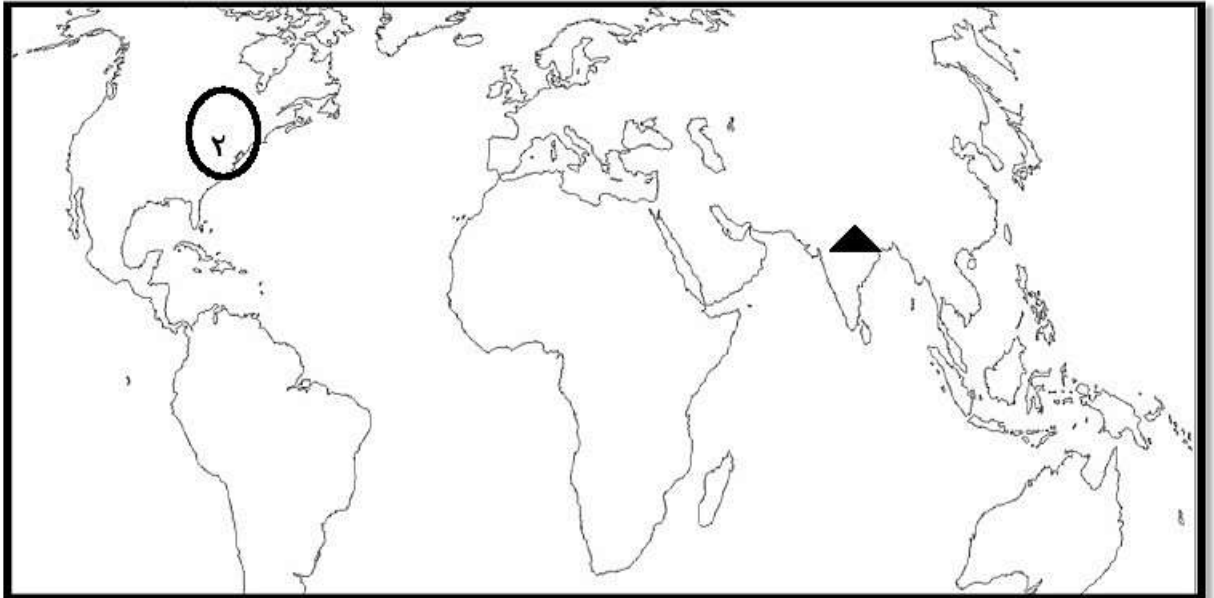
٣- تبقى لدى سالم مبلغ ١٠٠ ريال عماني وسوف يستخدمها في الإنفاق على الأسرة عند
الضرورة. ()

٤- وفر سالم مبلغا من المال وفتح محلا لبيع الخضار والفواكه. ()

ب) أجب عن الأسئلة الآتية:

١- فسر: أهمية تناول الطالب لوجبة الإفطار .

٢- ادرس الخريطة التي امامك ثم أجب عن الأسئلة التي تليها :



أ- نوع التركز السكاني في المنطقة المشار إليها بالرمز ▲ ()
أ. اذكر السبب الرئيسي وراء تركيز السكان في شرق الدولة المشار إليها بالرقم (٢) .

(٨)

المادة : الدراسات الاجتماعية - الصف : السابع - الدور الثاني - الفصل الدراسي الأول - العام الدراسي ٢٠١٧/٢٠١٨

تابع السؤال الرابع :

ج- ادرس الصورتين الآتيتين ثم أجب عن الأسئلة التي تليها:



(٢)



(١)

- ١- الرقم الذي يشير إلى الصورة التي تؤدي إلى تلوث البيئة () .
- ٢- اقترح حلاً لمعالجة السلوك الخاطئ في الصورة التي اخترتها .

انتهت الأسئلة مع تمنياتنا للجميع بالتوفيق والنجاح.



نموذج إجابة امتحان الصف السابع
للعام الدراسي ١٤٣٩/١٤٣٨ هـ - ٢٠١٧/٢٠١٨ م
الدور الثاني - الفصل الدراسي الأول
المادة : الدراسات الاجتماعية

المادة: الصف السابع الدرجة الكلية: (٤٠) درجة.
تنبيهه: نموذج الإجابة في (٤) صفحات.

أولاً: إجابة السؤال الموضوعي:

إجابة السؤال الأول					
المفردة	البديل الصحيح	الإجابة	الدرجة	الصفحة	المستوى المعرفي
١	أ	معين	٢	٣٥	معرفة
٢	ب	العصر الحديدي	٢	١٦	معرفة
٣	ج	معدل وفيات الأطفال الرضع	٢	٥١	معرفة
٤	ج		٢	٤٧	فهم وتطبيق
٥	د	السرعة	٢	٩١	معرفة
٦	ب	المجمعات التجارية	٢	٨٢	معرفة
٧	أ	التوقف عند الحاجة لاستخدام الهاتف النقال	٢	٩٣	فهم وتطبيق
٨	ج		٢	٦٠	فهم وتطبيق
المجموع			١٦ درجة		

(٢)

نمذج إجابة امتحان الصف السابع
للعام الدراسي ١٤٣٨/١٤٣٩ هـ - ٢٠١٧/٢٠١٨ م
الدور الثاني - الفصل الدراسي الأول
المادة : الدراسات الاجتماعية

ثانيا: إجابة الأسئلة المقالية:

الدرجة الكلية: () درجة				إجابة السؤال الثاني	
المستوى المعرفي	الصفحة	الدرجة	الإجابة الصحيحة	المفردة	الجزئية
فهم وتطبيق	٢١	١	استخراج اللبان	١	أ
	٢٧	١	صهر النحاس	٢	
فهم وتطبيق	١٧	١	ميلوفا	١	ب
		١	يظل البحر الأحمر على الخريطة	٢	
معرفة	٢٣ ٣١	٢	أقام السبثيون مشاريع الري وبنوا السدود التي كان أهمها سد مأرب	١	ج
معرفة	٣٦	١	لحد من الهجرة من الريف إلى المدينة	٢	
فهم وتطبيق	٥٥	١	أ. آثار بات ب. الأختام الدلمونية	٣	
الدرجة الكلية (٨ درجات)					

(٣)

نموذج إجابة امتحان الصف السابع
للعام الدراسي ١٤٣٨/١٤٣٩ هـ - ٢٠١٧/٢٠١٨ م
الدور الثاني - الفصل الدراسي الأول
المادة : الدراسات الاجتماعية

تابع ثانيا: إجابة الأسئلة المقالية:

إجابة السؤال الثالث					
الدرجة الكلية: () درجة					
المستوى المعرفي	الصفحة	الدرجة	الإجابة الصحيحة	المفردة	الجزئية
فهم وتطبيق	٦٣	١	ظفار	١	أ
		١	الكثافة السكانية لمحافظة الشرقية : $= \frac{\text{عدد السكان في منطقة ما}}{\text{المساحة الكلية للمنطقة}} = \frac{٣٥٠٥١٤}{٣٦٨٠٠} = ٩,٥ \text{ نسمة/ كم}^٢$	٢	
		١	يظل الطالب محافظة الوسطى على خريطة سلطنة عمان	٣	
قدرات عليا	٥٣	١	عدد السنوات التي يعيشها الفرد الواحد.	١	ب
		١	افتقار الغذاء للعناصر الغذائية المطلوبة للجسم	٢	
معرفة	٦٧	١	العوامل البشرية	١	ج
		١	التضاريس/المسطحات المائية/الموارد الطبيعية (يكتفى بواحدة)	٢	
		١	الهجرة	٣	
الدرجة الكلية (٨ درجات)					

نودج إجابة امتحان الصف السابع
للعام الدراسي ١٤٣٨/١٤٣٩ هـ - ٢٠١٧/٢٠١٨ م
الدور الثاني - الفصل الدراسي الأول
المادة : الدراسات الاجتماعية

تابع ثانيا: إجابة الأسئلة المقالية:

الدرجة الكلية: () درجة			إجابة السؤال الرابع		
المستوى المعرفي	الصفحة	الدرجة	الإجابة الصحيحة	المفردة	الجزئية
فهم وتطبيق	٧٥-٧٢	٢ (لكل نصف درجة)	الدخل	١	أ
			الاستهلاك	٢	
			الادخار	٣	
			الاستثمار	٤	
معرفة	٧٨	٢	تناول الطالب للوجبة الغذائية يعمل على النمو السليم لجسمه ويساعده في تحصيله الدراسي (مراعاة اجابة الطالب بما يفيد المعنى)	١	ب
قدرات عليا	٥٧	١	أ- تركز سكاني كبير	٢	
	٦٠	١	ب- توافر المناطق الصناعية		
		١		٢	ج
قدرات عليا		١	وضع القمامة في مكان خاص في السيارة ثم التوقف ورميها في مكانها المخصص (مراعاة اجابة الطالب بما يفيد المعنى)	٢	
الدرجة الكلية(٨ درجات)					

نهاية نموذج الإجابة