

شكراً لتحميلك هذا الملف من موقع المناهج العمانية



سؤال قصير محلول لدرس التعرف على الأشكال المتطابقة

[موقع المناهج](#) ← [المناهج العمانية](#) ← [الصف السابع](#) ← [رياضيات](#) ← [الفصل الثاني](#) ← [الملف](#)

تاريخ نشر الملف على موقع المناهج: 05:10:18 2024-04-25

التواصل الاجتماعي بحسب الصف السابع



[اضغط هنا للحصول على جميع روابط "الصف السابع"](#)

روابط مواد الصف السابع على تلغرام

[الرياضيات](#)

[اللغة الانجليزية](#)

[اللغة العربية](#)

[التربية الاسلامية](#)


المزيد من الملفات بحسب الصف السابع والمادة رياضيات في الفصل الثاني

نموذج اختبار قصير أول	1
ملخص ثاني للمادة من سلسلة همة وإنجاز	2
مراجعة شاملة للمادة	3
إجابات تمارين كتابي الطالب والنشاط	4
ملخص الوحدة التاسعة التماثل	5

١-٩ التعرف على الأشكال المتطابقة


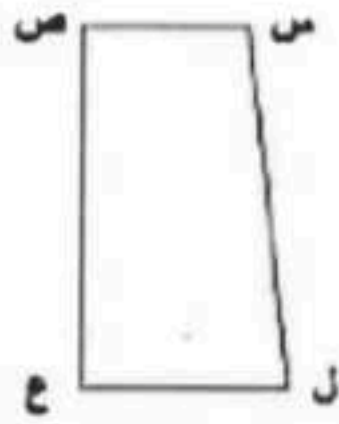
- استطيع تحديد وتر المثلث القائم 😊 😐 ☹️

حددي الوتر في المثلثات التالية :-



- استطيع تحديد الأضلاع والزوايا المتناظرة في الأشكال المتطابقة ومعرفة أنها متساوية 😊 😐 ☹️

إذا كان الشكلان التالين متطابقان



(أ) اكتب الضلع المتناظر مع (١) ب ج .. ص .. ع (٢) ص ع .. ج .. د

(ب) اكتب الزاوية المتناظرة مع (١) ا ب ج .. ل .. ن .. ص (٢) ص ع ل ج .. د .. ا

٢-٩ التعرف على التماثل الخطي

- استطيع التعرف على خط التماثل في الأشكال 😊 😐 ☹️

عدد خطوط التماثل في المثلث متطابق الأضلاع

(د) ٠ (اختاري)

(ج) ٣

(ب) ٢

(أ) ١

- استطيع رسم خطوط التماثل للأشكال 😊 😐 ☹️

ارسمي خطوط التماثل للأشكال التالية :

لا يوجد خط تماثل

