

شكراً لتحميلك هذا الملف من موقع المناهج العمانية



تجميع اختبارات على الوحدة الخامسة حضارات مصر والهلال الخصيب

[موقع المناهج](#) ⇨ [المناهج العمانية](#) ⇨ [الصف السابع](#) ⇨ [اجتماعيات](#) ⇨ [الفصل الثاني](#) ⇨ [الملف](#)

التواصل الاجتماعي بحسب الصف السابع

روابط مواد الصف السابع على تلغرام

[الرياضيات](#)

[اللغة الانجليزية](#)

[اللغة العربية](#)

[التربية الاسلامية](#)

المزيد من الملفات بحسب الصف السابع والمادة اجتماعيات في الفصل الثاني

[الامتحان الرسمي النهائي بمحافظة الداخلية](#)

1

[الاختبار النهائي الرسمي في محافظة مسقط](#)

2

[نموذج إجابة الاختبار النهائي الرسمي في محافظة شمال الشرقية](#)

3

[الامتحان الرسمي النهائي لمحافظة الشرقية](#)

4

[الامتحان الرسمي النهائي لمحافظة الداخلية](#)

5

تجميع

اختبارات جديده

لعام ٢٠٢٢ / ٢٠٢٣

دراسات سابع

خاصة بالوحدة الخامسة

تنسيق / أبو الياس الوضاحي



للصف: السابع – الدراسات الاجتماعية

للعام الدراسي ١٤٤٤هـ - ٢٠٢٢/٢٠٢٣م

الفصل الدراسي الثاني

- زمن الامتحان: (ساعة واحدة) ● درجات الاختبار (٤٠) ● عدد الصفحات (٥)
- الإجابة في الدفتر نفسه .

اسم الطالب	الصف
------------	------

السؤال	الدرجة		التوقيع بالاسم	
	بالأرقام	بالحروف	المصحح الأول	المصحح الثاني
١				
٢				
٣				
٤				
٥				
المجموع			جمعه	مراجعة الجمع
المجموع الكلي				

(١)

المادة: الدراسات الاجتماعية الصف: السابع الفصل الدراسي الثاني

العام الدراسي ٢٠٢٢/٢٠٢٣ م

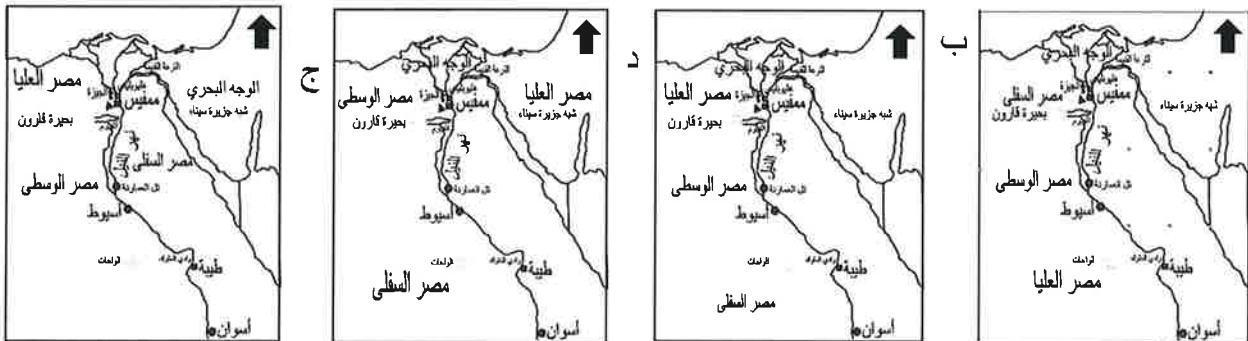
أجب عن جميع الأسئلة الآتية

السؤال الأول: ضع دائرة حول رمز الإجابة الصحيحة لكل مفردة من المفردات الآتية:

١- المؤرخ اليوناني الذي وصف مصر بأنها هبة النيل:

أ- هيردوت      ب- نارمر      ج- تحتمس      د- شامبليون

٢- الخريطة التي يظهر فيها التوزيع الصحيح لأقاليم مصر قبل توحيدها:



٣- الأسر التي حكمت مصر في عصر الدولة القديمة:

أ- الأسرة الأولى حتى السادسة      ب- الأسرة الثانية حتى السادسة  
ج- الأسرة الثالثة حتى السادسة      د- الأسرة الرابعة حتى السادسة

٤- الأسرة الحاكمة لمصر والتي قامت ببناء المعلم الأثري الذي تشير إليه الصورة المقابلة:

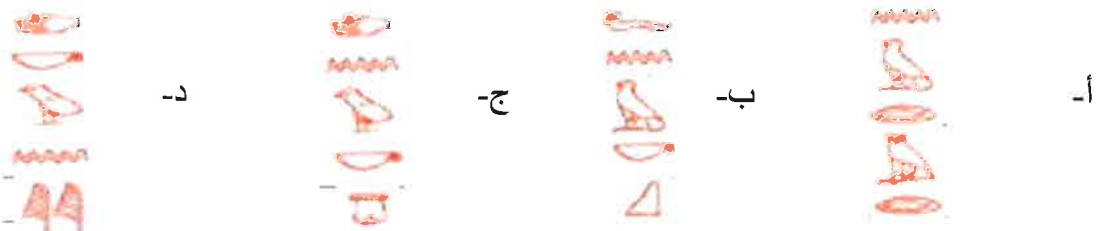


أ- الأولى      ب- الثانية      ج- الثالثة      د- الرابعة

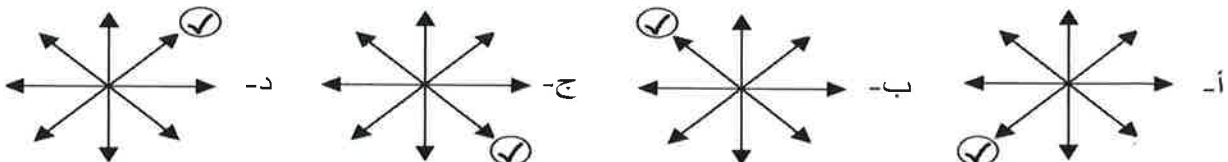
٥- ترتيب بناء أهرامات الجيزة حسب التسلسل الزمني من الأقدم إلى الأحدث:

أ- خوفو، خفرع، منقرع      ب- منقرع، خوفو، خفرع      ج- خفرع، خوفو، منقرع      د- خوفو، منقرع، خفرع

٦- العلامات الهيروغليفية التي كتب بها اسم الملك المصري نارمر



٧- الجهة التي تقع فيها بلاد الرافدين من قارة آسيا:

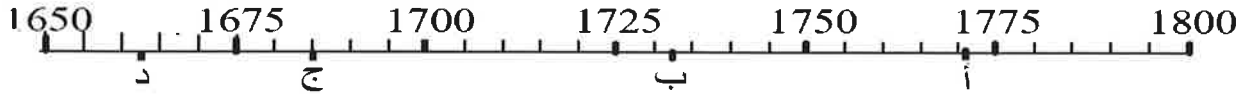


## تابع السؤال الأول:

٨- من أشهر دويلات المدن السومرية:

أ- نينوى      ب- كيش      ج- آشور      د- أكاد

٩- السنة التي انتهى فيها حكم حمورابي والذي تولى الحكم عام ١٧٢٨ ق.م لمدة ٤٣ سنة:

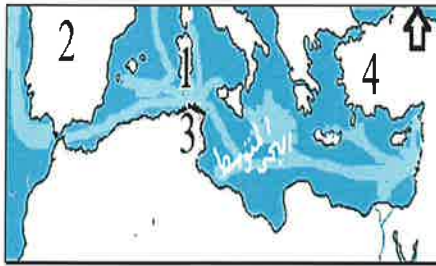


١٠- الظاهرة الجغرافية التي توجد شرق بلاد الشام:

أ- جبال      ب- صحراء      ج- هضاب      د- سهول

١١- الحضارتان اللتان استطاعتا القضاء على الممالك الآرامية في بلاد الشام:

الأنباط	الآشوريون	الفينيقيون	الكنعانيون
✓		✓	
✓	✓		
	✓		✓
		✓	✓



١٢- الأرقام في الخريطة التي تدل على موقع

المستعمرات الفينيقية في البحر المتوسط:

أ- ١ و ٢      ب- ١ و ٣

ج- ٢ و ٣      د- ٢ و ٤

## السؤال الثاني :

١- رتب الأحداث التاريخية لحضارات بلاد الرافدين من الأقدم إلى الأحدث بالأرقام من ١-٤:

( ) - استقلال الدولة الآشورية وتمكنها من القضاء على الدولة البابلية الأولى

( ) - تعرض الدولة الكلدانية للغزو الفارسي والقضاء على حكمهم.

( ) - إخضاع سرجون الأول الأكادي المدن السومرية وتوحيدها تحت سيطرته

( ) - ازدهار التجارة والصناعة والزراعة في عهد الملك البابلي حمورابي.

يتبع/٣

(٣)

المادة: الدراسات الاجتماعية الصف: السابع الفصل الدراسي الثاني

العام الدراسي ٢٠٢٢/٢٠٢٣ م

## السؤال الثاني:

٢- أكمل المخطط بالمعلومات الجغرافية والتاريخية حول معركة مجدو:

سبب المعركة: قيام تحتمس الثالث بحملات عسكرية على بلاد الشام.		ظلل الموقع الذي وقعت فيه المعركة
النتيجة:	أطراف المعركة:	
.....	-1	
.....	-2	

٣- فسر ما يأتي:

أ- يحمل الخط الهيروغليفى معنى النقش المقدس.

الإجابة: .....

ب- تعد إهرامات الجيزة إحدى عجائب الدنيا.

الإجابة: .....

ج- لم تكن علاقة الدويلات الأمورية مع جيرانها حسنة.

الإجابة: .....

## السؤال الثالث:

١- صنف الحضارات التي ظهرت فيها الأحداث الواردة في الجدول التالي:  
(الأمورية - الأكادية - المصرية - الآرامية - الفينيقية - السومرية)

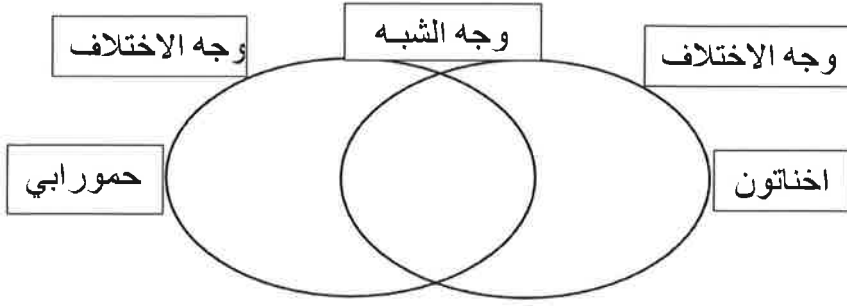
الإجابة	العبارات
	قاموا بتحنيط جثث الموتى واشتهروا ببناء الإهرامات
	من أقدم الشعوب التي استقرت في السهل الجنوبي للعراق.
	من أوائل الشعوب السامية التي هاجرت من شبه الجزيرة العربية إلى بلاد الشام
	قاموا بتطوير أبجدية خاصة اشتقوها من الأبجدية الفينيقية
	أنشأوا مستعمرة قرطاجة على الشاطئ الشمالي في إفريقيا (ساحل تونس حالياً)
	ضعفت امبراطورية الملك (نارام سن) بعد وفاته حتى استولى عليها البابليون

يتبع/٤

(٤)

المادة: الدراسات الاجتماعية الصف: السابع الفصل الدراسي الثاني  
العام الدراسي ٢٠٢٢/٢٠٢٣م

### تابع. السؤال الثالث:



٢- اكتب وجهها للشبه والاختلاف بين حمورابي واخنتون من حيث:  
أ- وجه الشبه: الآلهة.  
ب- وجه الاختلاف: الحضارة.

٣- اكتب ما تعرفه عما يأتي:

أ- معركة قادش.

الإجابة: .....

ب- مصطلح: حضارات وادي النيل.

الإجابة: .....

### السؤال الرابع:

١- اكتب اجابتين لكل عنصر مما يأتي:

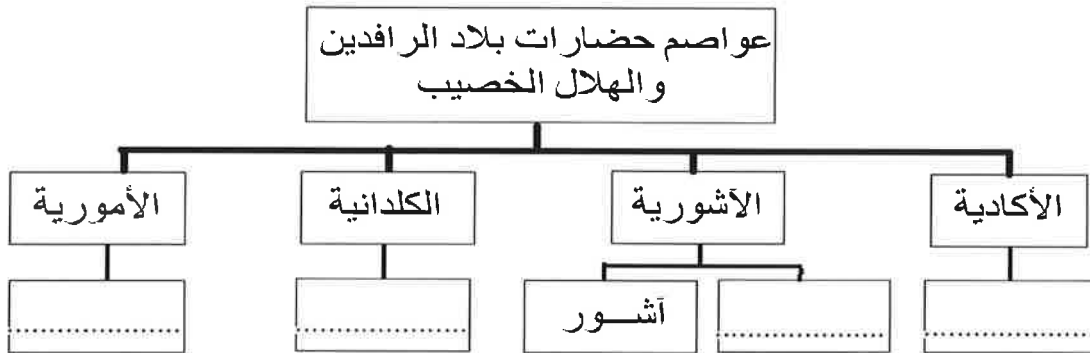
أ- العوامل التي جعلت من الفينيقيين أول أمة بحرية في التاريخ.

الإجابة: .....

ب- تأثيرات الظروف القاسية على حياة الإنسان في مصر

الإجابة: .....

٢- أكمل المخطط بأسماء عواصم الحضارات الواردة فيه:



يتبع/٤

(٥)

المادة: الدراسات الاجتماعية الصف: السابع الفصل الدراسي الثاني  
العام الدراسي ٢٠٢٢/٢٠٢٣ م

## تابع السؤال الرابع:

٣- استدل على ما يأتي:

أ- اهتمام المصريين بموتاهم.

الإجابة:

ب- كان آشور بانيبال مغرما بالعلم والأدب.

الإجابة:

## السؤال الخامس:

١- أمامك خريطة للحضارة المصرية ادرسها وأجب عما يأتي:

أ- استخراج الرقم الذي يدل على المنطقة التي بنيت فيها الإهرامات

ب- ما الإنجاز الذي تحقق في عصر الدولة الوسطى في المنطقة

المشار إليها بالرقم ٣؟

ج- ضع دائرة على عاصمتي مصر في فترتي:

١- عصر الدولة القديمة. ٢- حكم توت عنخ آمون



٢- قارن بين الكتابة الهيروغليفية والكتابة المسمارية في الجدول التالي:

الكتابة المسمارية	الكتابة الهيروغليفية	أوجه المقارنة
		الحضارة التي ظهرت فيها
		استخدامها
		أداة الكتابة
		مادة الكتابة



٣- ادرس الصورة التي أمامك وأجب عما يأتي:

أ- من هو صاحب القناع الذي تشير إليه الصورة؟

ب- اعط مثالا واحدا على عمل قام به.

إنتهت الأسئلة مع الدعاء للجميع بالتوفيق والنجاح.





امتحان الوحدة الخامسة

للف: السابع - الدراسات الاجتماعية

للعام الدراسي ١٤٤٤ هـ - ٢٠٢٢/٢٠٢٣ م

الفصل الدراسي الثاني

- زمن الامتحان: (ساعة واحدة)
- درجات الاختبار (٤٠) ● عدد الصفحات (٥)
- الإجابة في دفتر نفسه .

اسم الطالب	الصف
------------	------

السؤال	الدرجة		التوقيع بالاسم	
	بالأرقام	بالحروف	المصحح الأول	المصحح الثاني
١				
٢				
٣				
٤				
٥				
المجموع			جمعه	مراجعة الجمع
المجموع الكلي				

(١)

المادة: الدراسات الاجتماعية الصف: السابع الفصل الدراسي الثاني  
العام الدراسي ٢٠٢٢/٢٠٢٣ م

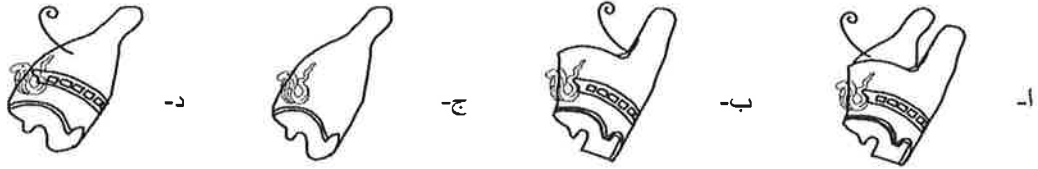
أجب عن جميع الأسئلة الآتية

السؤال الأول: ضع دائرة حول رمز الإجابة الصحيحة لكل مفردة من المفردات الآتية:

١- الوصف الذي أطلقه المؤرخ اليوناني هيردوت على مصر:

أ- خيرات النيل      ب- هدية النيل      ج- هبة النيل      د- عروس النيل

٢- التاج الذي اتخذه ملك مصر العليا والسفلى:



٣- المنطقة التي تكونت فيها مملكة الجنوب في مصر القديمة:

أ- الوجه البحري      ب- شبه جزيرة سيناء      ج- دلتا النيل      د- مصر العليا

٤- عاصمة مصر بعد توحيد مملكتي مصر الشمالية والجنوبية:

أ- ممفيس      ب- طيبة      ج- أسوان      د- هليوبوليس

٥- العلامات الهيروغليفية التي تقابل الأحرف الإنجليزية A – M – W:

W	نسر	د-	W	كتكوت	ج-	W	بومة	ب-	W	نسر	أ-
M	كتكوت		M	بومة		M	كتكوت		M	بومة	
A	بومة		A	نسر		A	نسر		A	كتكوت	

٦- الكتابة التي تمكن العالم الفرنسي شامبليون من حل رموزها عام ١٨٢٢م:

أ- الهيروغليفية      ب- المسمارية      ج- الأرامية      د- الفينيقية

٧- إدارة نظام الحكم في مصر:

شؤون الحكم والجيش	فرعون	أ-	شؤون الحكم والجيش	فرعون	ب-
التشريع	المستشار		التشريع	المستشار	
الدين	المستشار		الدين	الكهنة	

شؤون الحكم والجيش	فرعون	ب-	شؤون الحكم والجيش	فرعون	ج-
التشريع	فرعون		التشريع	الكهنة	
الدين	فرعون		الدين	الكهنة	

٨- الفترة الزمنية (ما قبل الميلاد) التي استقر فيها السومريون في السهل الجنوبي للعراق:



## تابع السؤال الأول:

٩- الحضارة التي ظهر فيها نظام حكومات المدن:

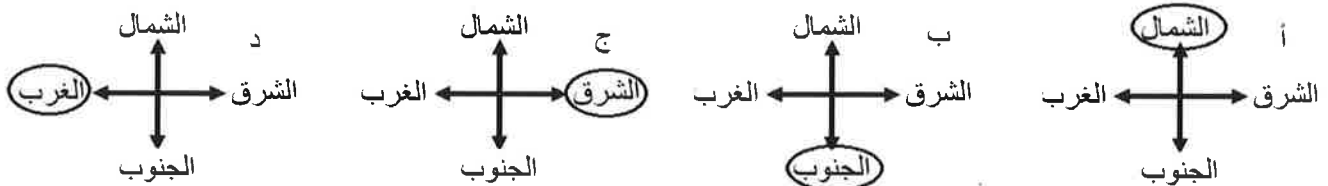
أ- الآشورية      ب- الأكادية      ج- الكلدانية      د- السومرية

١٠- القانون الذي يطبق حسب قوانين حمورابي إذا تزوج رجل وأصببت زوجته بمرض:

أ- يطلقها ويتزوج غيرها      ب- يطلقها ولا يتزوج غيرها

ج- يعيها ويتزوج غيرها      د- يعالجها ولا يتزوج غيرها

١١- الجهة التي تحد فيها جبال طوروس بلاد الشام:




١٢- الاكتشاف الذي يعود فيه الفضل للفينيقيين:

أ- النجم القطبي      ب- كوكب الزهرة      ج- طريق الحرير      د- البوصلة البحرية

## السؤال الثاني :

١- أمامك صورتان تشيران إلى أهم الآثار القديمة، ادرسهما وأكمل الجدول التالي:



		اسم المعلم الأثري
		الحضارة التي قامت بإنجازه

يتبع/٣

(٣)

المادة: الدراسات الاجتماعية الصف: السابع الفصل الدراسي الثاني  
العام الدراسي ٢٠٢٢/٢٠٢٣ م

## السؤال الثاني:

- ٢- رتب الأحداث التاريخية للحضارة المصرية من الأقدم إلى الأحدث بالأرقام من ١-٤:
- ( ) - بناء أهرامات خوفو وخفرع ومنقرع
- ( ) - توحيد مينا (نارمر) ملك الجنوب لمصر في مملكة واحدة.
- ( ) - اكتشاف مقبرة توت عنخ آمون في طيبة الغربية.
- ( ) - الأمير امنحوتب الثاني يوحد مصر ويؤسس الأسرة الحادية عشرة.

٣- فسر ما يأتي:

أ- تقديم المصريين القرايين لنهر النيل وللآلهة.

الإجابة:

ب- تغيرت أساليب حياة الإنسان المصري نتيجة نزوحه إلى ضفاف نهر النيل.

الإجابة:

ج- قيام المصريين بتحنيط جثث الموتى.

الإجابة:

د- يعد السهل الجنوبي المنبسط في العراق من أخصب بقاع الأرض.

الإجابة:

## السؤال الثالث:

- ١- صنف الشخصيات أمام العبارات الدالة عليها في الجدول التالي:  
(تحتمس الثالث - نبوخذ نصر الثاني - حتشبسوت - سرجون الأول)

الإجابة	العبارات
	أرسلت في العام التاسع لحكمها بعثة تجارية إلى بلاد بونت وأطراف الجزيرة العربية
	انتصر في معركة مجدو في فلسطين وسيطر على معظم مواني الساحل الفينيقي
	توحيد المدن السومرية تحت سيطرته واتخذ مدينة أكاد عاصمة لدولته
	حكم أكثر من نصف قرن واستولى على القدس وأخضع العبرانيين

٢- اكتب ما تعرفه عما يأتي:

أ- معركة قادش.

الإجابة:

ب- الهكسوس.

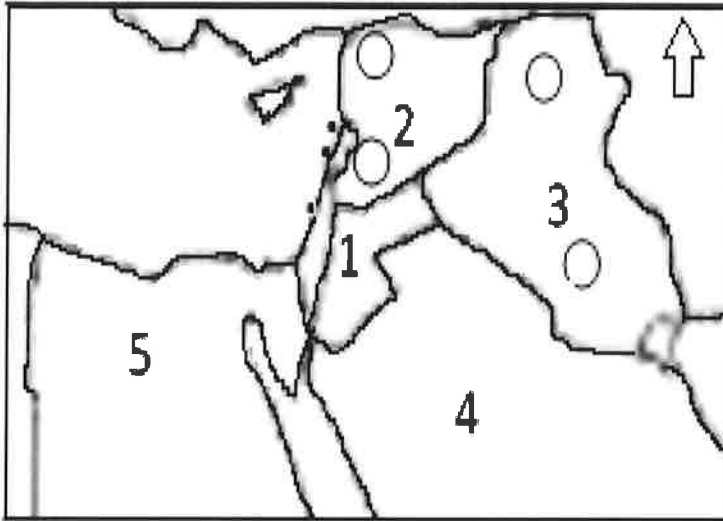
الإجابة:

يتبع/٤

(٤)

المادة: الدراسات الاجتماعية الصف: السابع الفصل الدراسي الثاني  
العام الدراسي ٢٠٢٢/٢٠٢٣ م

### تابع. السؤال الثالث:



٣- أمامك خريطة صماء ادرسها وأجب عما يأتي:  
أ- الدول الأمورية التي ظهرت في الدول المشار إليها بالأرقام ١ و ٢

المواقع	١	٢
الدول الأمورية		

٢- ظلل الدوائر التي تدل على المواقع الآتية:

أ- دمشق ب- بابل

٣- اكتب أسماء اثنين من الموانئ الفينيقية على الساحل الشرقي للبحر المتوسط.

٤- استخراج رقم الدولة التي يوجد بها ما يأتي:

أ- حدائق بابل المعلقة ( )

ب- اهرامات الجيزة ( )

### السؤال الرابع:

١- اعط مثالا واحدا لعمل قام به كل من:

أ- سرجون الثاني.

الإجابة: .....

ب- آشور بانيبال.

الإجابة: .....

٢- قارن بين خريطتي الدولتين في الجدول التالي:



الخريطة رقم ٢	الخريطة رقم ١	أوجه المقارنة
		اسم الدولة
		العاصمة

يتبع/٤

(٥)

المادة: الدراسات الاجتماعية الصف: السابع الفصل الدراسي الثاني  
العام الدراسي ٢٠٢٢/٢٠٢٣ م

## تابع السؤال الرابع:

٣- اقرأ النص، وأجب عما يليه من أسئلة:

(ظهرت في بلاد الشام حضارات متعددة كحضارات الحيثيين والسومريين والكنعانيين والأموريين والعبانيين، وقد قامت بين تلك الحضارات علاقات عدائية أدت إلى سيطرة أحدها على اثنتين من الحضارات)

أ- استخراج اسم حضارة من النص لم تظهر في بلاد الشام.

الإجابة: .....

ب- أكمل: نشأت علاقات عدائية بين الأموريين و..... إلى أن جاء ..... وأخضعوا الطرفين.

## السؤال الخامس:

- اتحدث عن الكتابة المسمارية من حيث:

أ- أهمية الكتابة.

ب- طريقة الكتابة.

٢- استدل على ما يأتي:

أ- اهتمام الحاكم الكلداني نبوخذ نصر بالعمارة.

الإجابة: .....

ب- تحقيق الفينيقيين منجزات حضارية.

الإجابة: .....

٣- أكمل المخطط بأسماء حضارات بلاد الرافدين بترتيبها من الأقدم إلى الأحدث فيما يأتي:



إنتهت الأسئلة مع الدعاء للجميع بالتوفيق والنجاح.



للصف: السابع – الدراسات الاجتماعية

للعام الدراسي ١٤٤٤ هـ - ٢٠٢٢/٢٠٢٣ م

الفصل الدراسي الثاني

- زمن الامتحان: (ساعة واحدة) ● درجات الاختبار (٤٠) ● عدد الصفحات (٥)
- الإجابة في الدفتر نفسه .

اسم الطالب	الصف
------------	------

السؤال	الدرجة		التوقيع بالاسم	
	بالأرقام	بالحروف	المصحح الأول	المصحح الثاني
١				
٢				
٣				
٤				
٥				
المجموع			جمعه	مراجعة الجمع
المجموع الكلي				

(١)

المادة: الدراسات الاجتماعية الصف: السابع الفصل الدراسي الثاني  
العام الدراسي ٢٠٢٢/٢٠٢٣ م

أجب عن جميع الأسئلة الآتية

السؤال الأول: ضع دائرة حول رمز الإجابة الصحيحة لكل مفردة من المفردات الآتية:

١- الفترة الزمنية التي عرف فيها المصريون الكتابة:



٢- الذين أطلقوا على الكتابة التي ظهرت في مصر اسم الخط الهيروغليفي:

أ- الفراعنة      ب- الفرس      ج- الإغريق      د- الفرنسيون

٣- العصور المصرية التي وقعت فيها معركتي قادش ومجدو:

عصر الدولة	قادش	مجدو
الوسطى	<input checked="" type="checkbox"/>	<input checked="" type="checkbox"/>
الحديثة	<input checked="" type="checkbox"/>	<input checked="" type="checkbox"/>

د

عصر الدولة	قادش	مجدو
الوسطى	<input checked="" type="checkbox"/>	<input type="checkbox"/>
الحديثة	<input type="checkbox"/>	<input checked="" type="checkbox"/>

ج

عصر الدولة	قادش	مجدو
الوسطى	<input type="checkbox"/>	<input checked="" type="checkbox"/>
الحديثة	<input checked="" type="checkbox"/>	<input type="checkbox"/>

ب

عصر الدولة	قادش	مجدو
الوسطى	<input type="checkbox"/>	<input type="checkbox"/>
الحديثة	<input checked="" type="checkbox"/>	<input checked="" type="checkbox"/>

أ

٤- عدد الأسر التي حكمت مصر حسب تقسيمات المؤرخين القدماء:

أ- ١٥      ب- ٢٠      ج- ٢٥      د- ٣٠

٥- من الأحداث التي وقعت في عصر الدولة الوسطى في مصر:

أ- حفر قناة تربط البحر الأحمر بالبحر المتوسط عبر نهر النيل	ب- بناء أهرامات خوفو وخفرع ومنقرع في منطقة الجيزة	ج- طرد الأمير أحمس الهكسوس والنجاح في إقامة دولة كبرى	د- انتصار تحتمس الثالث في معركة مجدو في فلسطين
--	---	---	--

٦- من الأعمال التي قام بها الفرعون المصري رمسيس الثاني:

الأعمال	أ	ب	ج	د
تشديد عاصمة جديدة لمصر في شرق دلتا النيل	<input checked="" type="checkbox"/>	<input checked="" type="checkbox"/>	<input type="checkbox"/>	<input checked="" type="checkbox"/>
إقامة عدد كبير من المسلات والتماثيل الضخمة	<input type="checkbox"/>	<input checked="" type="checkbox"/>	<input checked="" type="checkbox"/>	<input checked="" type="checkbox"/>
أسس أول أسرة حاكمة في مصر وبنى الأهرامات	<input type="checkbox"/>	<input type="checkbox"/>	<input checked="" type="checkbox"/>	<input checked="" type="checkbox"/>

٧- الشكل الصحيح الذي يمثل بعض الحروف الفينيقية وما يقابلها بالإنجليزية:

حروف فينيقية	حروف إنجليزية
𐤀	A
𐤁	D
𐤂	H
𐤃	L
𐤄	Q

د

حروف فينيقية	حروف إنجليزية
𐤀	A
𐤁	D
𐤂	H
𐤃	L
𐤄	Q

ج

حروف فينيقية	حروف إنجليزية
𐤀	A
𐤁	D
𐤂	H
𐤃	L
𐤄	Q

ب

حروف فينيقية	حروف إنجليزية
𐤀	A
𐤁	D
𐤂	H
𐤃	L
𐤄	Q

أ



## تابع السؤال الأول:

٨- الدول التي ظهرت في بلاد الشام حسب المواقع التي تشير إليها الأرقام في الخريطة أمامك:

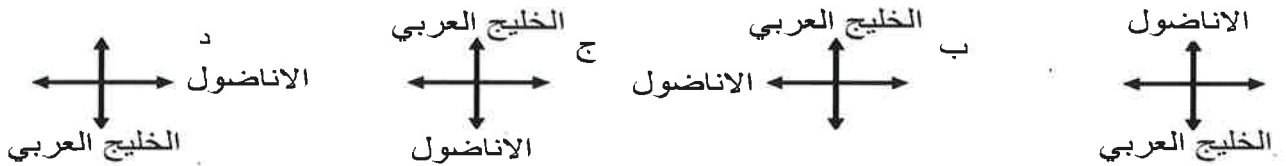


الدول	أ	ب	ج	د
الفينيقيون	١	١	٢	٢
الآراميون	٢	٣	١	٣
الكنعانيون	٣	٢	٣	١

٩- الآلهة التي تم عبادتها في الحضارتين المصرية والكلدانية:

الآلهة	المصرية	الكلدانية	الآلهة	المصرية	الكلدانية	الآلهة	المصرية	الكلدانية	الآلهة	المصرية	الكلدانية
أتون	✓		أتون	✓		أتون		✓	أتون	✓	
زمردوخس		✓	زمردوخس		✓	زمردوخس	✓		زمردوخس		✓
أمون	✓		أمون		✓	أمون	✓		أمون	✓	
		د			ج			ب			أ

١٠- موقع بلاد الرافدين ما بين هضبة الأناضول والخليج العربي:



١١- حكم أكثر من نصف قرن واستولى على القدس وأخضع العبرانيين:

أ- سرجون الأول      ب- سرجون الثاني      ج- آشور بانيبال      د- نبوخذ نصر الثاني

١٢- ترتيب مدة حكم حتشبسوت ورمسيس الثاني وأشور بانيبال وحمورابي:

مدة الحكم	22	41	43	67
ب- حمورابي	رمسيس الثاني	حتشبسوت	رمسيس الثاني	أشور بانيبال

مدة الحكم	22	41	43	67
أ- حتشبسوت	حمورابي	أشور بانيبال	رمسيس الثاني	

مدة الحكم	22	41	43	67
د- حمورابي	رمسيس الثاني	حتشبسوت	أشور بانيبال	

مدة الحكم	22	41	43	67
ج- حتشبسوت	أشور بانيبال	حمورابي	رمسيس الثاني	

## السؤال الثاني :

١- اكتب اسم الحضارة التي استطاعت إنهاء حكم الحضارات الواردة في الجدول الآتي:

الحضارة التي حكمت بلاد الرافدين	السومريون	الأكاديون	البابليون	الآشوريون
الحضارة التي قضت عليها				

يتبع ٣

(٣)

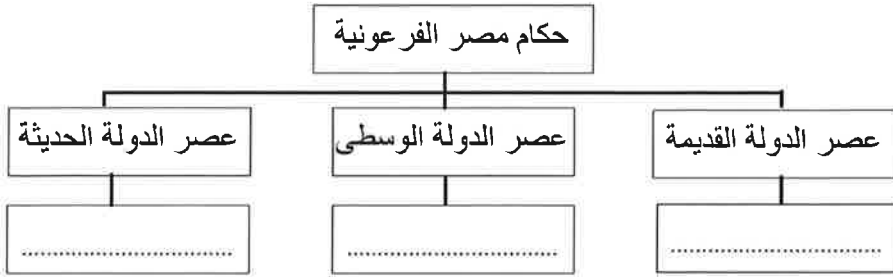
المادة: الدراسات الاجتماعية الصف: السابع الفصل الدراسي الثاني  
العام الدراسي ٢٠٢٢/٢٠٢٣ م

## السؤال الثاني:

٢- اكتب اسما واحدا لملك

حكم مصر في الفترة الزمنية

التي يدل عليها المخطط:



٣- صنف أسماء ملوك حضارة بلاد الرافدين أمام الإنجاز الذي حققوه في الجدول التالي:

(أشور بانيبال- سرجون الثاني- نبوخذ نصر الثاني- حمورابي- نارام سن- نابوبو لاسر)

الملوك	الإنجازات
	حافظ على وحدة الدولة الأكادية ووصلت قواته لسواحل شرق جزيرة العرب
	أصدر قوانين وتشريعات مشهورة سجلت على نصب كبير من الحجر
	حكم الآشوريين سنة ٧٢٢ ق.م وشجع الفنون والآداب
	حكم الآشوريين ٤١ سنة وجمع علوم البابليين وحفظها في مكتبة نينوى
	ضم بلاد سومر وأكاد واستولى على عاصمة الآشوريين نينوى
	أهم آثاره في العمارة برج بابل وبوابة عشتار والحدائق المعلقة

## السؤال الثالث:

١- ادرس خريطة بلاد الرافدين جيدا وأجب عما يأتي:

أ- اكتب أسماء الأنهار المشار إليها بالأرقام:

١- نهر ..... ٢- نهر .....

ب- اعط اثنين من الأمثلة على أهم الإنجازات في مجال

العمارة التي تحققت في المدينة المشار إليها بالرقم ٣

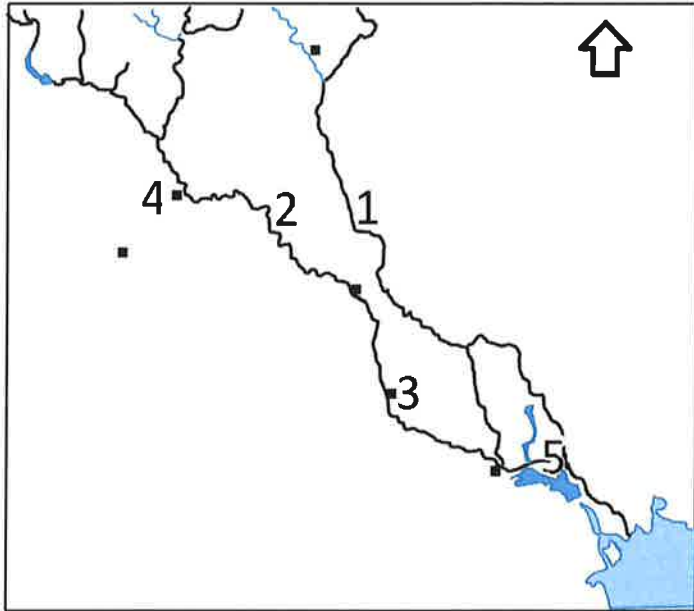
ج- اكتب في الموقع المناسب أسماء عواصم الحضارتين

الآشورية والأكادية.

د- استخراج الأرقام التي تدل على مواقع:

١- عاصمة دولة الأموريين. ( )

٢- شط العرب. ( )



يتبع/٤

(٤)

المادة: الدراسات الاجتماعية الصف: السابع الفصل الدراسي الثاني

العام الدراسي ٢٠٢٢/٢٠٢٣ م

## تابع السؤال الثالث:

٢- رتب حكام مصر الفراعنة حسب فترة الحكم من الأقدم حتى الأحدث بالأرقام من ١-٦ فيما يأتي:

حكام مصر	أحمس	نارمر	توت عنخ امون	امنحوتب الثاني	اخناتون	خوفو
الترتيب						

٣- اكتب اثنين من العوامل ساعدت على ما يأتي:

أ- العوامل الاقتصادية التي ساعدت المصريين على ازدهار مدنهم.

الإجابة:

ب- العوامل التي جعلت من الفينيقيين أول أمة بحرية في التاريخ.

الإجابة:

## السؤال الرابع:

١- فسر ما يأتي:

أ- اتخاذ الملك مينا لقب ملك الأرضين وصاحب التاجين.

الإجابة:

ب- تسمية حدائق بابل المعلقة بهذا الاسم.

الإجابة:

ج- انتشار الفوضى في عصر الدولة الوسطى في الفترة ٢٢٨٠ - ٢٠٥٠ ق.م.

الإجابة:

٢- اكتب ما تعرفه عما يأتي:

أ- مفهوم: الجندل.

الإجابة:

ب- بوابة عشتار.

الإجابة:

٣- صف النصب الذي سجلت عليه قوانين حمورابي.

الإجابة:

يتبع/٤


(٥)

المادة: الدراسات الاجتماعية الصف: السابع الفصل الدراسي الثاني

العام الدراسي ٢٠٢٢/٢٠٢٣ م

## السؤال الخامس:

١- استنتج من دراسة الشكلين عصر الدولة المصرية الذي ترتبط بهما فيما يأتي:



٢- استدل على ما يأتي:

أ- تأثر قبائل الهكسوس بالحضارة المصريّة.

الإجابة: .....

ب- حرص حمورابي على تنظيم الدولة البابلية.

الإجابة: .....

ج- اهتمام المصريين ببناء الأهرامات.

الإجابة: .....

٣- وضح: كيف تطورت الكتابة العربية.

الإجابة: .....

إنتهت الأسئلة مع الدعاء للجميع بالتوفيق والنجاح.



للف: السابع - الدراسات الاجتماعية

للعام الدراسي ١٤٤٤ هـ - ٢٠٢٢/٢٠٢٣ م

الفصل الدراسي الثاني

- زمن الامتحان: (ساعة واحدة) ● درجات الاختبار (٤٠) ● عدد الصفحات (٥)
- الإجابة في الدفتر نفسه .

اسم الطالب	الصف
------------	------

السؤال	الدرجة		التوقيع بالاسم	
	بالأرقام	بالحروف	المصحح الأول	المصحح الثاني
١				
٢				
٣				
٤				
٥				
المجموع			جمعه	مراجعة الجمع
المجموع الكلي				

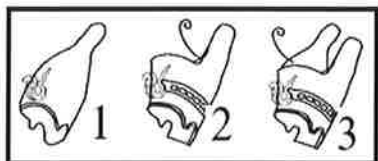
(١)

المادة: الدراسات الاجتماعية الصف: السابع الفصل الدراسي الثاني  
العام الدراسي ٢٠٢٢/٢٠٢٣ م

أجب عن جميع الأسئلة الآتية

السؤال الأول: ضع دائرة حول رمز الإجابة الصحيحة لكل مفردة من المفردات الآتية:

١- تصنيف التيجان الملكية في عهد الملك مينا حسب ما تدل عليه الأرقام في الشكل المقابل:



د	ج	ب	أ	
٢	٢	٣	٣	التاج الموحد
١	٣	٢	١	تاج مصر السفلى
٣	١	١	٢	تاج مصر العليا

٢- الآلهة التي آمن بها المصريون في عصري الدولتين القديمة والحديثة:

عصر الدولة القديمة	عصر الدولة القديمة	عصر الدولة القديمة	عصر الدولة القديمة	عصر الدولة القديمة	عصر الدولة القديمة	عصر الدولة القديمة	عصر الدولة القديمة
أمون	أمون	أمون	أمون	أمون	أمون	أمون	أمون
رع	رع	رع	رع	رع	رع	رع	رع
أتون	أتون	أتون	أتون	أتون	أتون	أتون	أتون
✓	✓	✓	✓	✓	✓	✓	✓
✓	✓	✓	✓	✓	✓	✓	✓
د	ج	ب	أ				

٣- العام الميلادي الذي تم فيه اكتشاف مقبرة توت عنخ آمون:



٤- العلاقة بين الملكين (اخناتون) و (توت عنخ آمون)

أ- عسكرية      ب- سياسية      ج- أسرية      د- عدائية

٥- النتائج التي ترتبت عليها معركة (مجدو) و (قادش)

معركة مجدو	انتصار الحيثيين واحتلال شرق دلتا النيل
معركة قادش	انتصار حلف أمراء الشام على تحتمس الثالث
ب	

معركة مجدو	انتصار تحتمس الثالث على حلف أمراء الشام
معركة قادش	عقد معاهدة سلام بين الحيثيين ورمسيس الثاني
أ	

معركة مجدو	عقد معاهدة سلام بين الحيثيين ورمسيس الثاني
معركة قادش	سيطرة حلف أمراء الشام وطردهم تحتمس الثالث
د	

معركة مجدو	ساد سلام بين حلف أمراء الشام وتحتمس الثالث
معركة قادش	انتصار الحيثيين واحتلال شرق دلتا النيل
ج	

٦- ترتيب تعاقب ملوك من مصر على الحكم من الأقدم إلى الأحدث:

١	٢	٣	٤	ب-
منقرع	حتشبسوت	أحمس	اخناتون	

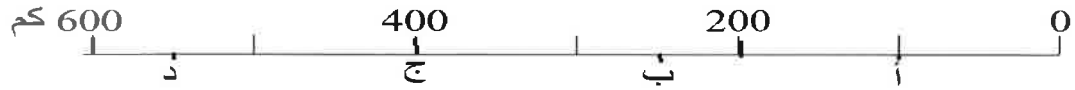
١	٢	٣	٤	أ-
اخناتون	أحمس	حتشبسوت	منقرع	

١	٢	٣	٤	د-
منقرع	أحمس	حتشبسوت	اخناتون	

١	٢	٣	٤	ج-
أحمس	منقرع	اخناتون	حتشبسوت	

## تابع السؤال الأول:

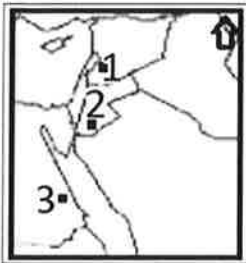
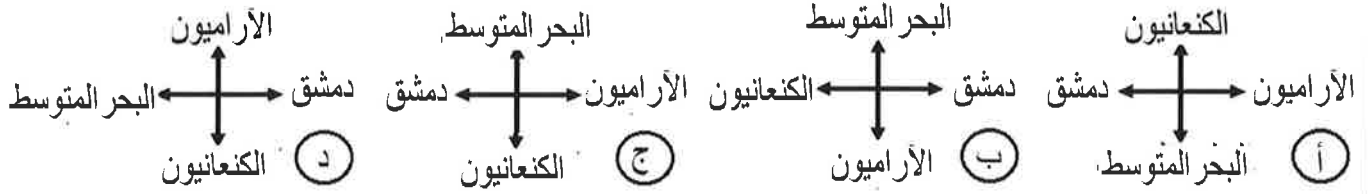
٧- المسافة التي تبعد فيها مدينة البصرة عن منطقة التقاء نهري دجلة والفرات:



٨- المعلم العمراني الذي يصل ارتفاعه ٦٠ مترا وفي أسفله هيكل الإله زمردوخس:

أ- بوابة عشتار      ب- معبد الكرنك      ج- برج بابل      د- هرم خوفو

٩- المواقع التي تحيط بالفينيقيين من الجهات الأربع:



د	ج	ب	أ	
2	1	2	1	الأنباط
3	3	1	2	الآشوريون

١٠- الأرقام في الخريطة التي تدل على الممالك الآرامية التي سيطر عليها الأنباط والآشوريون:

١١- الهضبة التي ينبع منها نهر دجلة والفرات:

أ- أرمنيا      ب- الأناضول      ج- التبت      د- الجولان

١٢- الشعوب السامية التي هاجرت من شبه الجزيرة العربية إلى بلاد الرافدين منذ الألف الرابعة ق.م:

أ- الأكاديين، البابليين، الآشوريين، الكلدانيين      ب- الفينيقيين، الأموريين، البابليين، الآراميين  
ج- العموريين، البابليين، الآشوريين، السومريين      د- الكنعانيين، الأموريين، البابليين، الآراميين

## السؤال الثاني :

١- رتب الأحداث التاريخية من الأقدم إلى الأحدث:

- ( ) - نابوبولاسر يعلن نفسه ملكا على بابل ويؤسس الدولة البابلية الثانية.  
( ) - حفر قناة تربط بين البحر الأحمر والبحر المتوسط عن طريق نهر النيل.  
( ) - القضاء على حكم الكلدانيين بعد تعرض بلادهم للغزو الفارسي.  
( ) - استقرار السومريين في السهل الجنوبي للعراق وأقاموا نظام حكومات المدن.

يتبع ٣/

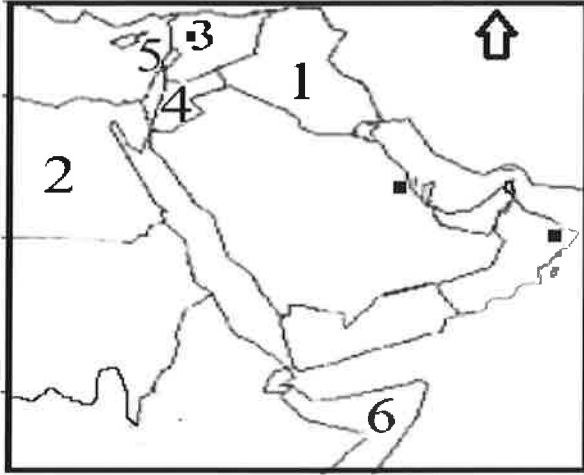
(٣)

المادة: الدراسات الاجتماعية الصف: السابع الفصل الدراسي الثاني  
العام الدراسي ٢٠٢٢/٢٠٢٣ م

## السؤال الثاني:

٢- قارن بين الكتابة الهيروغليفية والكتابة المسمارية في الجدول الآتي:

الكتابة المسمارية	الكتابة الهيروغليفية	أوجه المقارنة
		الحضارة التي ظهرت فيها
		الفترة الزمنية لظهورها



٣- ادرس الخريطة الصماء، وأجب عما يأتي:

أ- استخرج الأرقام التي تدل على موقع ما يأتي:

- مدينة حلب التي بناها الأموريون.

- المنطقة التي تم منها جلب خشب الأرز لبناء الأهرامات.

ب- اكتب أسماء حضارتي دلمون ومجان في موقعهما الصحيح.

ج- اعط مثالا واحدا لمعالم أثرية صنفت من عجائب الدنيا تقع

في الدول المشار إليها بالأرقام: ١-.....

٢-.....

د- ما الحدث الذي جرى في عهد حتشبسوت مع الدولة المشار إلى موقعها بالرقم ٦؟

الإجابة:.....

## السؤال الثالث:

١- اقرأ النص التالي وأجب عما يأتي من أسئلة:

( .... فجمع علوم البابليين وآدابهم، وسجلها على ألواح طينية حفظها في مكتبة نينوى ..).

أ- ما اسم الدولة التي يرتبط بها الحدث الذي يشير إليه النص؟

الإجابة:.....

ب- من هو الملك الذي قام بجمع العلوم؟

الإجابة:.....

ج- ما اسم الكتابة التي تم استخدامها لكتابة العلوم؟

الإجابة:.....

يتبع/٤

(٤)

المادة: الدراسات الاجتماعية الصف: السابع الفصل الدراسي الثاني

العام الدراسي ٢٠٢٢/٢٠٢٣ م



### تابع السؤال الثالث:

٢- اكتب اثنين مما يأتي:

أ- المناطق التي سيطرت عليها مصر بعد طرد الهكسوس.

الإجابة:

ب- أهم المكتشفات التي عثر عليها في مقبرة توت عنخ آمون.

الإجابة:

ب- القوانين والتشريعات التي أصدرها الملك البابلي حمورابي.

الإجابة:



٣- ادرس الشكل المقابل، وأجب عما يأتي:

أ- من أمر بنحت التمثال؟

ب- إلى ماذا ترمز أجزاء التمثال: ١- الرأس ..... ب- الجسم: .....

### السؤال الرابع:

١- فسر ما يأتي:

أ- محاربة رمسيس الثاني للحيثيين.

الإجابة:

ب- استوطن السكان في بلاد الشام المناطق الجبلية والساحلية.

الإجابة:

ج- تغيير امنحوتب الرابع اسمه إلى اخناتون.

الإجابة:

٢- اكتب ما تعرفه عما يأتي:

أ- حوران وحسبان.

الإجابة:

ب- حجر رشيد.

الإجابة:

يتبع/٤

(٥)

المادة: الدراسات الاجتماعية الصف: السابع الفصل الدراسي الثاني  
العام الدراسي ٢٠٢٢/٢٠٢٣ م

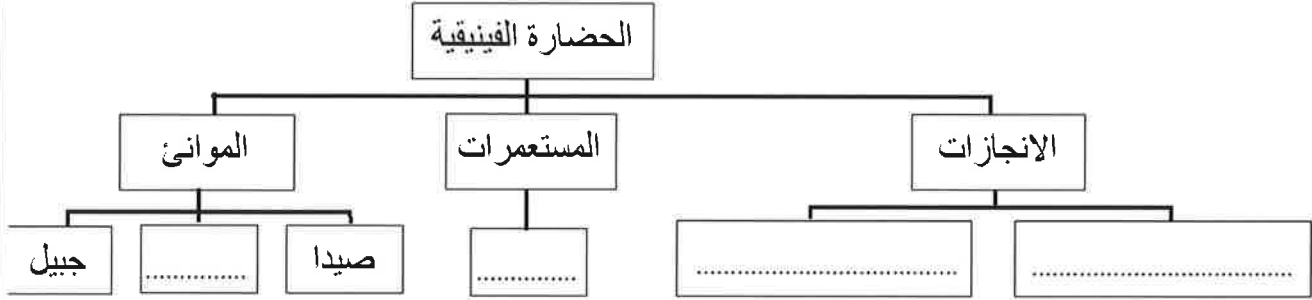
تابع السؤال الرابع:

٣- بم تميز عصر الملكة حتشبسوت المصرية؟

الإجابة: .....

السؤال الخامس:

١- امامك مخطط يمثل جانبا من الحضارة الفينيقية، ادرسه وأجب عما يأتي:



أ- أكمل الفراغات الواردة في المخطط.

ب- استخرج اسم مدينة قام الأموريون ببنائها.

ج- ما اسم المسطح المائي الذي تطل عليه الموانئ الواردة في المخطط؟

٢- اكتب اثنتين من النتائج ترتبت على ما يأتي:

أ- تعاقب ملوك ضعاف على حكم مصر في عصر الدولة الوسطى.

الإجابة: .....

ب- تعرض الحياة الإنسانية في مصر لظروف الجفاف وقلة الأمطار.

الإجابة: .....

٣- ارسم مقطعا لشكل هرم مصري من الداخل موضحا عليه بعض أجزائه.

إنتهت الأسئلة مع الدعاء للجميع بالتوفيق والنجاح.