

شكراً لتحميلك هذا الملف من موقع المناهج العمانية



الامتحان النهائي الدور الأول الفترة الصباحية للمحافظات الداخلية ومسقط

[موقع المناهج](#) ⇨ [المناهج العمانية](#) ⇨ [الصف السابع](#) ⇨ [اجتماعيات](#) ⇨ [الفصل الأول](#) ⇨ [الملف](#)

تاريخ نشر الملف على موقع المناهج: 05:22:55 2024-01-04

التواصل الاجتماعي بحسب الصف السابع



روابط مواد الصف السابع على تلغرام

[الرياضيات](#)

[اللغة الانجليزية](#)

[اللغة العربية](#)

[التربية الاسلامية](#)

المزيد من الملفات بحسب الصف السابع والمادة اجتماعيات في الفصل الأول

[الامتحان النهائي الدور الأول الفترة الصباحية لمحافظة شمال الباطنة](#)

1

[امتحان تحريبي نهائي مع نموذج الإجابة](#)

2

[حل أسئلة كتاب الطالب للوحدة الثالثة](#)

3

[حل أسئلة كتاب الطالب للوحدة الثانية](#)

4

[حل أسئلة كتاب الطالب للوحدة الأولى](#)

5

المزيد من الملفات بحسب الصف السابع والمادة اجتماعيات في الفصل الأول

(١)

المادة : الدراسات الاجتماعية الصف : السابع - الدور الأول - الفصل الدراسي الأول - الفترة الصباحية
العام الدراسي ٢٠٢٣/٢٠٢٤ م

السؤال الأول: ضع دائرة حول رمز الإجابة الصحيحة لكل مفردة من المفردات الآتية:


١٢

١- من الممتلكات العامة والتي تعد من الشواهد التاريخية على حضارات قامت على أرض الدولة وتعمل على تنشيط السياحة :

(أ)




(ب)



(ج)



(د)



٢- دولة ما أقيم فيها أول تعداد عام ٢٠١٤ م والثاني عام ٢٠١٩ م؛ لذا فمن المتوقع أن يقام التعداد الثالث في العام :

(أ) ٢٠٢٢

(ب) ٢٠٢٣

(ج) ٢٠٢٤

(د) ٢٠٢٥

٣- الحضارة التي اطلقت على عمان أسم مجان هي :

(أ) السومرية

(ب) الأكادية

(ج) الآشورية

(د) الفرعونية

٤- من الموارد الطبيعية غير المتجددة :

(أ) الهواء

(ب) الماء

(ج) النفط

(د) التربة

٥- الإنجاز الذي حققه الإنسان في الصورة المقابلة ظهر في العصر :

(أ) الحديدي

(ب) البرونزي

(ج) الحجري الحديث

(د) الحجري القديم




المادة : الدراسات الاجتماعية الصف : السابع - الدور الأول - الفصل الدراسي الأول - الفترة الصباحية
العام الدراسي ٢٠٢٣/٢٠٢٤ م

تابع : السؤال الأول : ضع دائرة حول رمز الإجابة الصحيحة لكل مفردة من المفردات الآتية:

٦- الفئة العمرية المنتجة بالمجتمع :
(أ) أقل من ١٥ سنة (ب) من ١٥-٦٤ سنة (ج) من ٤٠-٦٥ سنة (د) أكثر من ٦٥ سنة

٧- السهم الذي يشير إلى موقع حضارة أم النار بالنسبة لحضارة دلمون:



٨- السبب الرئيسي في حوادث المرور في سلطنة عمان عام ٢٠٢٠ م وفقا للجدول التالي :

٢٨٢	سوء التصرف
٢٠٦	الإهمال
٧٠٢	السرعة
٣٠	التجاوز الخاطئ

(أ) السرعة (ب) الإهمال (ج) التجاوز الخاطئ (د) سوء التصرف

٩- العمود الصحيح الذي يمثل مقومات الصحة الجيدة :

(أ) (ب) (ج) (د)

تناول وجبة الإفطار	التقليل من الرياضة	ممارسة الرياضة بانتظام	تجنب التدخين
الاكثار المشروبات الغازية	تجنب التدخين	تناول وجبة الإفطار	ممارسة الرياضة بانتظام
تجنب التدخين	تناول وجبة الإفطار	تجنب المشروبات الغازية	تناول وجبة الإفطار
ممارسة الرياضة بانتظام	تجنب المشروبات الغازية	التدخين المستمر	تجنب المشروبات الغازية

١٠- الاسم الذي أطلقه العرب على اليمن :

(أ) اليمن السعيدة (ب) الأرض المباركة (ج) يمن الخير (د) اليمن الخضراء

١١- قام أحمد بتصفح موقع المركز الوطني للإحصاء والمعلومات ووجد أن عدد المواليد في محافظته في عام ٢٠٢٢ م بلغ (٥٠٠٠) مولود وعدد الوفيات في نفس العام (٤٠٠) حالة وفاة ؛ فإن الزيادة الطبيعية في محافظته تبلغ :
(أ) ٤٠٠ (ب) ٤٦٠٠ (ج) ٥٠٠٠ (د) ٥٤٠٠

المادة : الدراسات الاجتماعية الصف : السابع - الدور الأول - الفصل الدراسي الأول - الفترة الصباحية
العام الدراسي ٢٠٢٣/٢٠٢٤ م

تابع : السؤال الأول : ضع دائرة حول رمز الإجابة الصحيحة لكل مفردة من المفردات الآتية:

١٢- تصنف الهجرة من حيث مدة الإقامة إلى :

(أ) دائمة/داخلية (ب) مؤقتة /اجبارية (ج) دائمة/مؤقتة (د) مؤقتة/داخلية

السؤال الثاني : أجب عن الأسئلة التالية :


٨

أولاً : إقرأ الآية الكريمة ؛ ثم أجب عن الأسئلة التي تليها :

قال تعالى : ﴿ لَقَدْ كَانَ لِسَبَإٍ فِي مَسْكِنِهِمْ آيَةٌ ۖ جَنَّتَانِ عَنْ يَمِينٍ وَشِمَالٍ ۚ كُلُوا مِنْ رِزْقِ رَبِّكُمْ وَاشْكُرُوا لَهُ ۗ بَلَدَةٌ طَيِّبَةٌ وَرَبِّ غَفُورٌ ﴾

- ١- أذكر اسم الدولة التي قامت في اليمن وذكرت في هذه الآية.
- ٢- ما اسم المشروع المائي الذي أقامته هذه الدولة لحفظ المياه.
- ٣- من أشهر ملوك هذه الدولة والتي ذكر اسمها في القرآن الكريم (أكمل)
- ٤- الدولة التي كانت تسيطر على اليمن مع ظهور الدولة الإسلامية. (أكمل)

ثانياً : تمعن صورة الاهرامات التالية ثم اجب عن الأسئلة التي تليها :



ج



ب



أ

- ١- كم يبلغ عدد الفئات العمرية التي يمثلها الهرم .
- ٢- رمز الهرم الذي يمثل سلطنة عمان . (أكمل)
- ٣- الهرم الذي يمثل المجتمع المسن (الهرم) يرمز له بالرمز . (أكمل)

(٤)

المادة : الدراسات الاجتماعية الصف : السابع - الدور الأول - الفصل الدراسي الأول - الفترة الصباحية
العام الدراسي ٢٠٢٣/٢٠٢٤ م

تابع السؤال الثاني : أجب عن الأسئلة التالية :
ثالثاً : صنف أرقام العبارات التالية بما يعد وصفاً صحيحاً للحضارات التي قامت في شبه الجزيرة العربية :

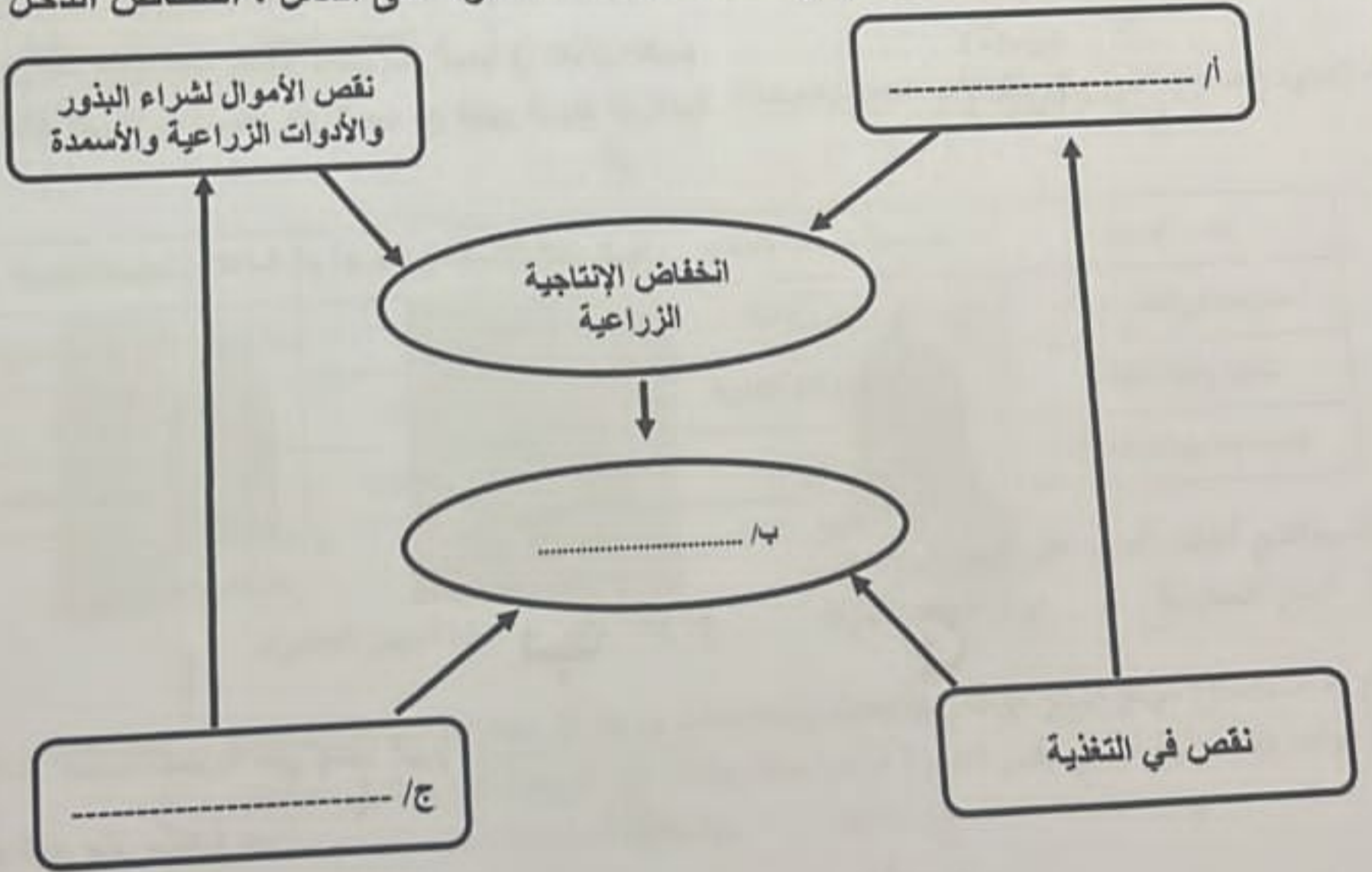
- ١- يضم موقعها ما يزيد عن خمسين مدفناً .
- ٢- توجد بها مقبرة عالي .
- ٣- بنو مدنهم محاطة بالأسوار .
- ٤- يتميز فخارها بتعدد الألوان والزخارف .
- ٥- تتواجد آثارها حالياً في إمارة أبو ظبي .
- ٦- توجد آثار للمعابد في منطقة باربار .

حضارة أم النار	حضارة دلمون
.....
.....
.....

السؤال الثالث : أجب عن الأسئلة التالية :

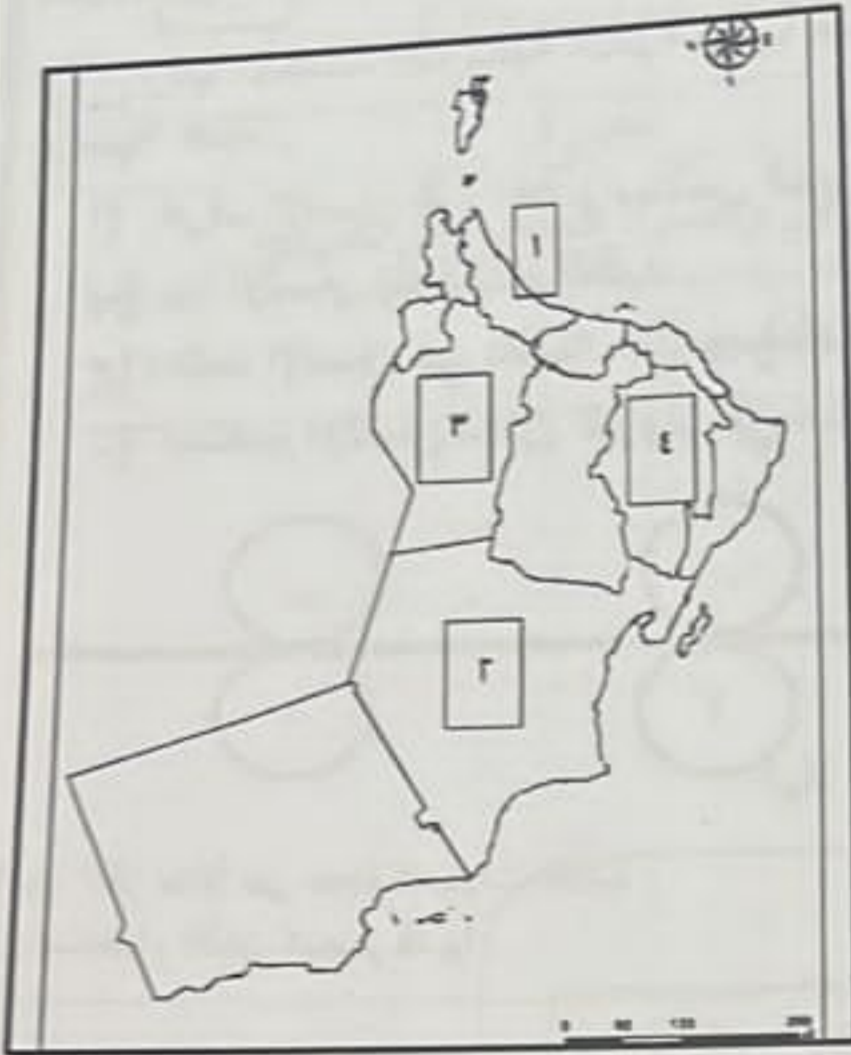
٨

أولاً: أكمل المخطط التالي والذي يوضح حلقة الفقر بالعبارات بين القوسين :
(ضعف فرص الادخار ، نقص الأيدي العاملة ، ضعف القدرة على العمل ، انخفاض الدخل)



(5)
المادة : الدراسات الاجتماعية الصف : السابع - الدور الأول - الفصل الدراسي الأول - الفترة الصباحية
العام الدراسي ٢٠٢٣/٢٠٢٤ م

تابع السؤال الثالث : تعمن خريطة سلطنة عمان التالية ثم اجب عن الأسئلة :



١- ضع الرمز \bigcirc على المحافظة العمانية التي تعتبر الموطن الأصلي لشجرة اللبان .

٢- حدد بالرمز \triangle الولاية التي عثرفي جامع قلعتهاعلى (٢٧٠) قطعة فضية تعود إلى الألف الثالثة قبل الميلاد .

٣- رقم المحافظة العمانية التي اتخذ الفرس من إحدى مدنها مركزا لتجارتهم البحرية في عصر الدولة الساسانية (.....)



٤- رقم المحافظة العمانية التي توجد بها الآثار في الصورة المقابلة (.....)

ثالثا : اقرأ الفقرة التالية ثم اجب عن الأسئلة التي تليها :

(يعمل أحمد في إحدى الشركات ويتقاضى أجراً شهرياً قدره ألف (١٠٠٠) ريالاً عمانياً ، ويقوم باستقطاع مئة (١٠٠) ريال عماني من أجره ويضعها في حساب خاص لاستخدامه عند الضرورة . ويقوم بشراء بضاعة بقيمة مئتي (٢٠٠) ريالاً ويبيعهها في السوق .

١- المبلغ الذي يدل على الاستثمار (أكمل)

٢- المبلغ الذي يدل على الدخل (أكمل)

٣- المبلغ الذي يدل على الادخار (أكمل)

(٦)

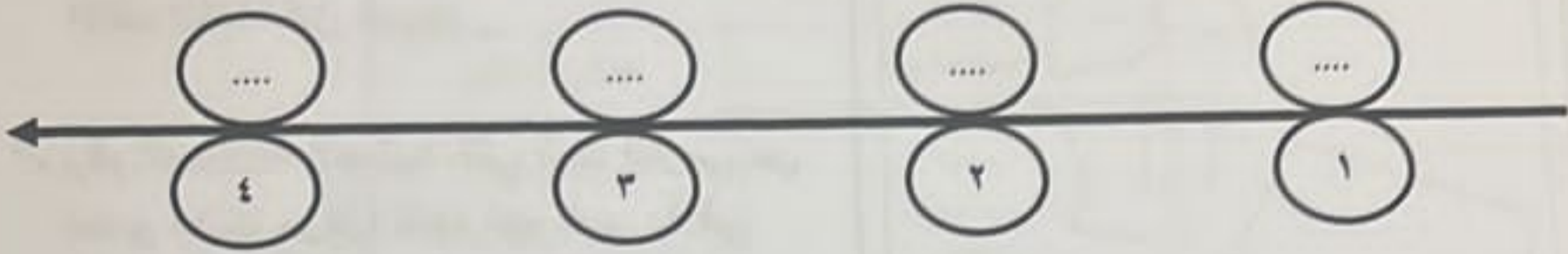
المادة : الدراسات الاجتماعية الصف : السابع - الدور الأول - الفصل الدراسي الأول - الفترة الصباحية
العام الدراسي ٢٠٢٣/٢٠٢٤ م

٦

السؤال الرابع : أجب عن الأسئلة التالية :

أولاً : رتب الأحداث التاريخية التالية ترتيباً صحيحاً وذلك بوضع الرموز الصحيحة على المسطرة الزمنية أدناه .

- عرف الإنسان الزراعة واستأنس الحيوانات .
- بدأ الإنسان باستخدام النقود .
- اعتمد الإنسان في غذائه على جمع ثمار الأشجار وصيد الحيوانات .
- استخدم الإنسان معدن البرونز في صناعة أدواته وأسلحته .



ثانياً : اذكر مثلاً على صحة العبارات التالية :
١) استخدام اللبان كمطهر قديماً .

٢) إسهامات السلطنة في الحد من الهجرة من الريف إلى المدن .

ثالثاً : انظر إلى الصورة أدناه ثم اجب عن الأسئلة .



١) توضح الصورة أحد الممتلكات العامة التي تشرف عليها الدولة هي.....
٢) ما دورك كطالب في المحافظة على المؤسسة الموضحة في الصورة؟

(٧)
الدراسات الاجتماعية الصف : السابع - الدور الأول - الفصل الدراسي الأول - الفترة الصباحية
العام الدراسي ٢٠٢٣/٢٠٢٤ م

الخامس : أجب عن الأسئلة التالية :

٦


الكتابة : اكتب اسم المفهوم / المصطلح الدال على كل عبارة من العبارات التالية :

المفهوم / المصطلح	العبارة
.....	النوعي بقواعد المرور والسلوك الصحيح في تطبيقها
.....	عدد السنوات التي يعيشها الفرد الواحد

ثانيا : أذكر اثنين من نتائج الابتعاد عن التدخين .

- (١)
- (٢)

ثالثا : انظر إلى الشكل التالي ثم اجب عن الأسئلة التي تليه :



(١) احسب الكثافة السكانية للمدينة أعلاه .

-
-
-

(٢) يفضل الإنسان العيش في المناطق :

() الجبلية () السهلية

علل اجابتك .

-
-

انتهت الأسئلة مع أطيب التمنيات بالتوفيق