

تم تحميل هذا الملف من موقع المناهج العُمانية



*للحصول على أوراق عمل لجميع الصفوف وجميع المواد اضغط هنا

<https://almanahj.com/om>

* للحصول على أوراق عمل لجميع مواد الصف السابع اضغط هنا

<https://almanahj.com/om/7>

* للحصول على جميع أوراق الصف السابع في مادة اجتماعيات ولجميع الفصول, اضغط هنا

<https://almanahj.com/om/7social>

* للحصول على أوراق عمل لجميع مواد الصف السابع في مادة اجتماعيات الخاصة بـ الفصل الثاني اضغط هنا

<https://almanahj.com/om./7social2>

* لتحميل كتب جميع المواد في جميع الفصول للـ الصف السابع اضغط هنا

<https://almanahj.com/om./grade7>

للتحدث إلى بوت المناهج العمانية على تلغرام: اضغط هنا

https://t.me/omcourse_bot



امتحان الصف السابع
للعام الدراسي ١٤٣٧/١٤٣٨ هـ - ٢٠١٦/٢٠١٧ م
الدور الثاني - الفصل الدراسي الثاني

- المادة: الدراسات الاجتماعية.
- زمن الإجابة: ساعة ونصف.
- عدد صفحات أسئلة الامتحان: (٨) صفحات.
- الإجابة في الورقة نفسها.

			اسم الطالب
	الصف		المدرسة

التوقيع بالاسم		الدرجة		السؤال
المصحح الثاني	المصحح الأول	بالحروف	بالأرقام	
				١
				٢
				٣
				٤
مراجعة الجمع	جمعه			المجموع
				المجموع الكلي

(١)

امتحان الصف السابع
للعام الدراسي ١٤٣٧/١٤٣٨ هـ - ٢٠١٦/٢٠١٧ م
الدور الثاني - الفصل الدراسي الثاني
المادة: الدراسات الاجتماعية

أجب عن جميع الأسئلة الآتية

السؤال الأول: ضع دائرة حول رمز الإجابة الصحيحة لكل مفردة من المفردات الآتية:

(١) مرحلة التطور البشري التي تصفها تغريدة حساب الصف السابع المقابلة:



أ. الجمع والالتقاط.

ب. الصيد والرعي.

ج. الزراعة.

د. التجارة.

(٢) يُطلق على التجمع السكاني الذي تتوافر فيه خدمات البنى التحتية:

أ. منطقة حضرية. ب. ريف. ج. زحف حضري. د. تنمية ريفية.

(٣) الأرقام الدالة على المشكلات الاقتصادية التي تواجه الريف في الدول النامية وفقاً للجدول:

م	مشكلات تواجه الريف في الدول النامية
١	ضعف التقيد بالعادات والتقاليد.
٢	ضعف إنتاجية الأراضي الزراعية.
٣	خروج الأبناء عن نطاق الأسرة الكبيرة.
٤	ظاهرة التصحر نتيجة الرعي الجائر.

أ. (١ ، ٢)

ب. (٣ ، ٤)

ج. (١ ، ٣)

د. (٢ ، ٤)

(٤) الملك البابلي الذي بنى برج بابل:

أ. حمورابي. ب. سرجون الثاني. ج. نابوبولاسر. د. نبوخذنصر الثاني

(٥) اكتُشفت مقبرة توت عنخ آمون في العام الميلادي:

أ. ١٩٠٠

ب. ١٩٢٢

ج. ١٩٤٤

د. ١٩٦٦

(٢)

امتحان الصف السابع

للعام الدراسي ١٤٣٧/١٤٣٨ هـ - ٢٠١٦/٢٠١٧ م

الدور الثاني - الفصل الدراسي الثاني

المادة: الدراسات الاجتماعية

تابع السؤال الأول:

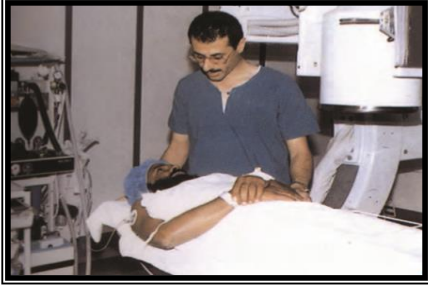
٦) الخدمة التي توفرها الحكومة العُمانية حسب الصورة المقابلة:

أ. المياه.

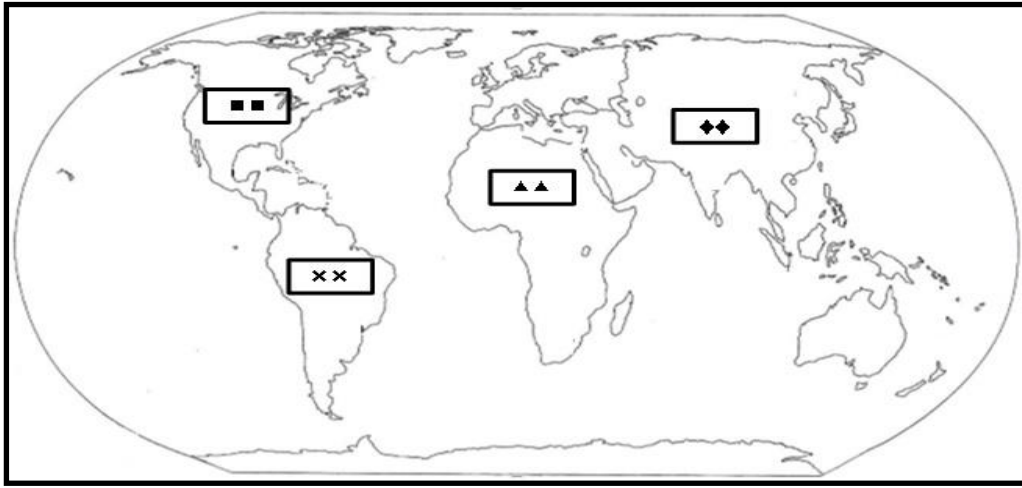
ب. الصحة.

ج. الطرق.

د. الاتصالات.

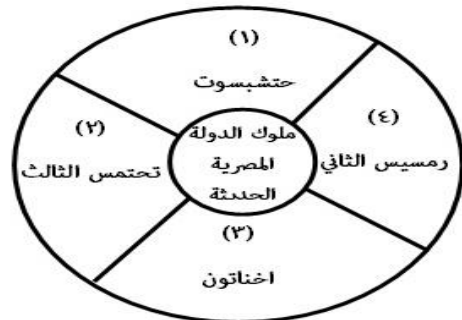
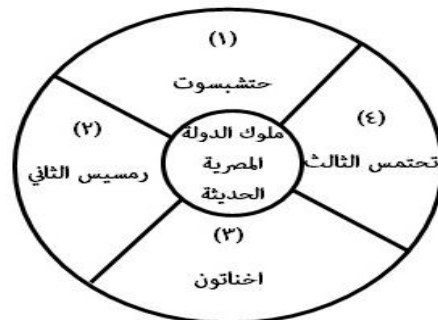
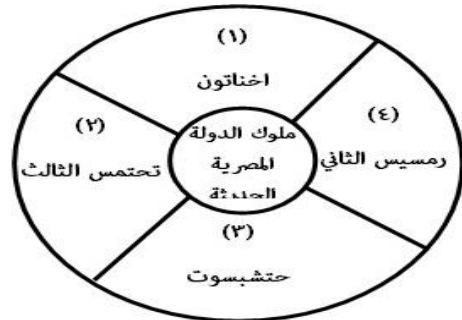
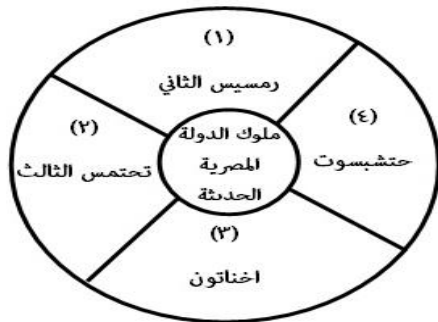


٧) الرمز النقطي الدال على القارة التي توجد بها مدينة مكسيكو سيتي:



أ.  ب.  ج.  د. 

٨) الشكل الصحيح لترتيب ملوك الدولة المصرية الحديثة من الأحدث إلى الأقدم:



(٣)

امتحان الصف السابع
للعام الدراسي ١٤٣٧/١٤٣٨ هـ - ٢٠١٦/٢٠١٧ م
الدور الثاني - الفصل الدراسي الثاني
المادة: الدراسات الاجتماعية

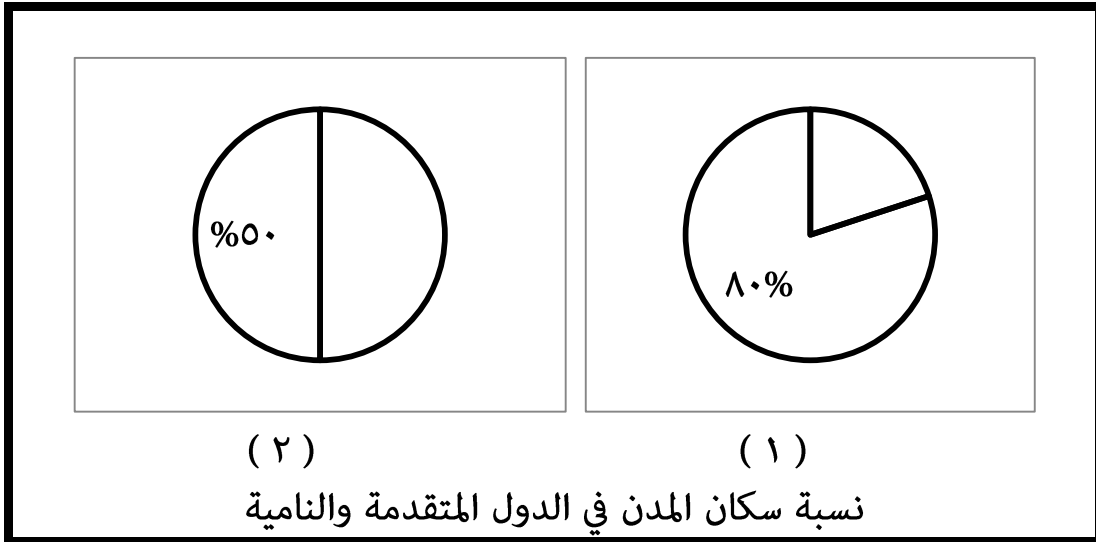
السؤال الثاني:

(أ) وضح دور كل من:

١. المواطن في دعم جهود حكومة السلطنة في توفير المياه الصالحة للشرب.

٢. حكومة سلطنة عُمان في دعم القطاع الزراعي.

(ب) أمامك شكل يوضح (نسبة سكان المدن في الدول المتقدمة والنامية) ادرسه، وأجب عن الأسئلة الآتية.



١. الشكل رقم (١) يُعبّر عن نسبة سكان المدن في الدول:

النامية. المتقدمة. (ظلّل الشكل المقترن بالإجابة الصحيحة)

٢. رقم الشكل الذي يدل على نسبة سكان المدن في الدول النامية:

(١). (٢). (ظلّل الشكل المقترن بالإجابة الصحيحة)

(٤)

امتحان الصف السابع

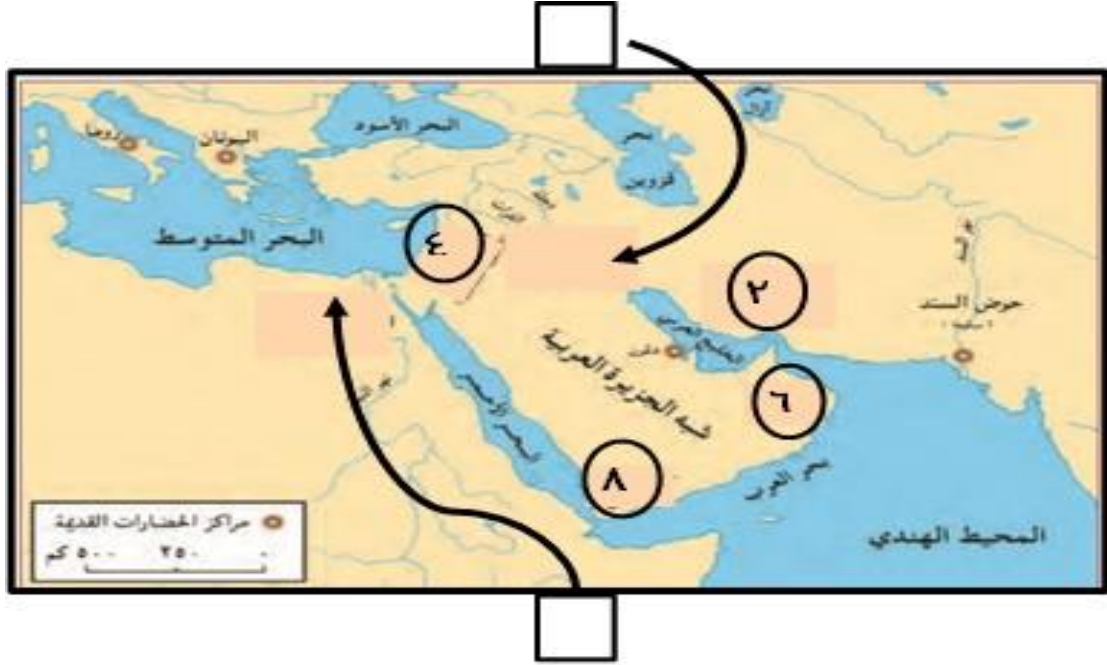
للعام الدراسي ١٤٣٧/١٤٣٨ هـ - ٢٠١٦/٢٠١٧ م

الدور الثاني - الفصل الدراسي الثاني

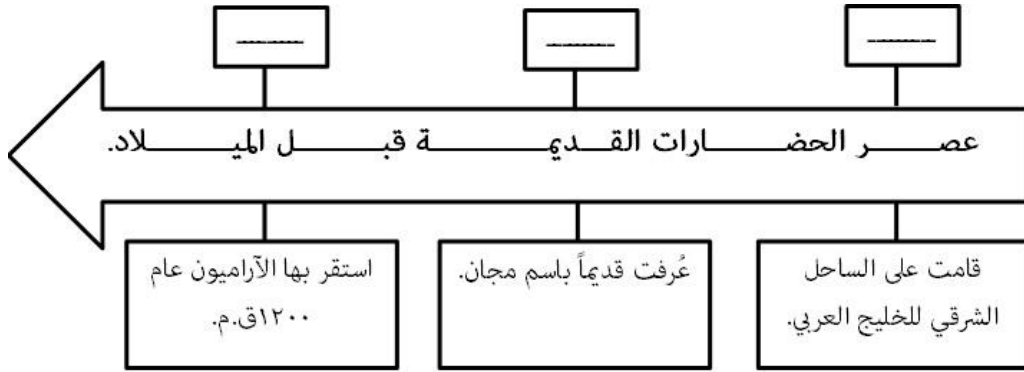
المادة: الدراسات الاجتماعية

تابع السؤال الثاني:


ج) أمامك خريطة (مراكز الحضارات القديمة) ادرسها، ثم أجب عن الأسئلة الآتية:



١- استخراج من الخريطة الرقم الدال على الحضارة المرتبطة بالأحداث التاريخية وفقاً للمسطرة الزمنية الآتية.



٢- اكتب على الخريطة رمز كل صورة داخل المربع الدال على الموقع الصحيح للحضارة التي ينتمي إليها.



(ب)



(أ)

(٥)

امتحان الصف السابع
للعام الدراسي ١٤٣٧/١٤٣٨ هـ - ٢٠١٦/٢٠١٧ م
الدور الثاني - الفصل الدراسي الثاني
المادة: الدراسات الاجتماعية

السؤال الثالث:

(أ) سمّ.

١. القارة التي تقع فيها بلاد الرافدين.

٢. النهر الذي قامت عليه الحضارة المصرية القديمة.

(ب)

١. أصدر حكماً على العبارتين الآتيتين، وفقاً للجدول الآتي.

التعليل	صحيحة أو خاطئة	العبرة
		اتخذ الملك مينا لقب ملك الأرضين.
		تؤدي الهجرة من الريف إلى الحضر إلى عرقلة القطاع الزراعي.

٢. لاحظ الصورة التي نشرت على حساب الصف السابع في الفيس بوك، وأكمل الجدول الآتي.



اسم المشكلة.	نتيجة اقتصادية واحدة ترتبت على هذه المشكلة.

(٦)

امتحان الصف السابع

للعام الدراسي ١٤٣٧/١٤٣٨ هـ - ٢٠١٦/٢٠١٧ م

الدور الثاني - الفصل الدراسي الثاني

المادة: الدراسات الاجتماعية

تابع السؤال الثالث:

ج) أمامك خريطة (المدن والمستعمرات الفينيقية) ادرسها، ثم أجب عن الأسئلة الآتية:



١. استخراج من الخريطة الرموز الصحيحة للدلالات الموضحة في الجدول.

دلالة الرمز	شكل الرمز
طرق التجارة الفينيقية.	_____
مدينة رئيسية.	_____

٢. اكتب على الخريطة (البحر المتوسط) في الموقع الصحيح.

السؤال الرابع:

(أ)

١. أذكر واحداً من خصائص الريف.

٢. فسر: أسهمت الثورة الصناعية في زيادة نمو المدن في الدول المتقدمة.

(٧)

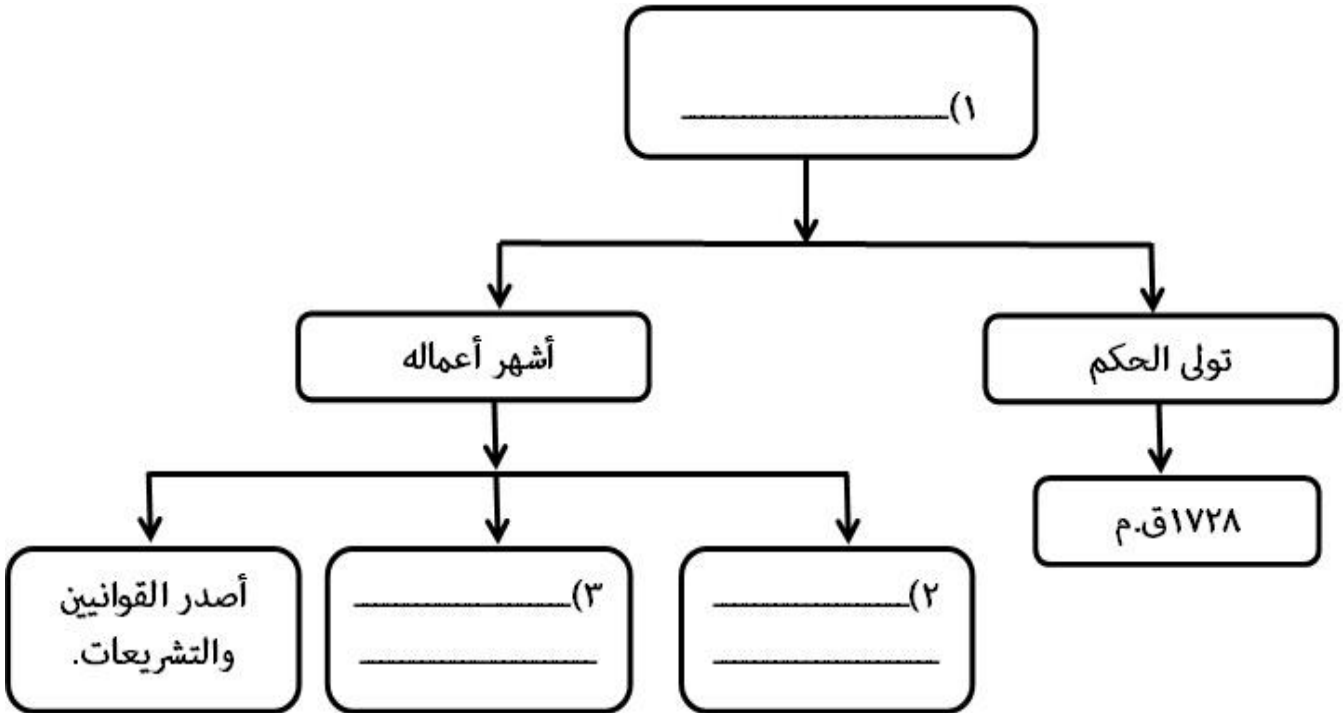
امتحان الصف السابع
للعام الدراسي ١٤٣٧/١٤٣٨ هـ - ٢٠١٦/٢٠١٧ م
الدور الثاني - الفصل الدراسي الثاني
المادة: الدراسات الاجتماعية

تابع السؤال الرابع:
(ب)

١. قارن بين الأكاديميون والأموريون من حيث الآتي.

الأموريون	الأكاديميون	الشعب وجه المقارنة.
_____	_____	العاصمة.
_____	_____	المناطق التي استوطنوها

٢. أكمل تصميم مخطط الشخصية التاريخية الآتية.



(٨)

امتحان الصف السابع

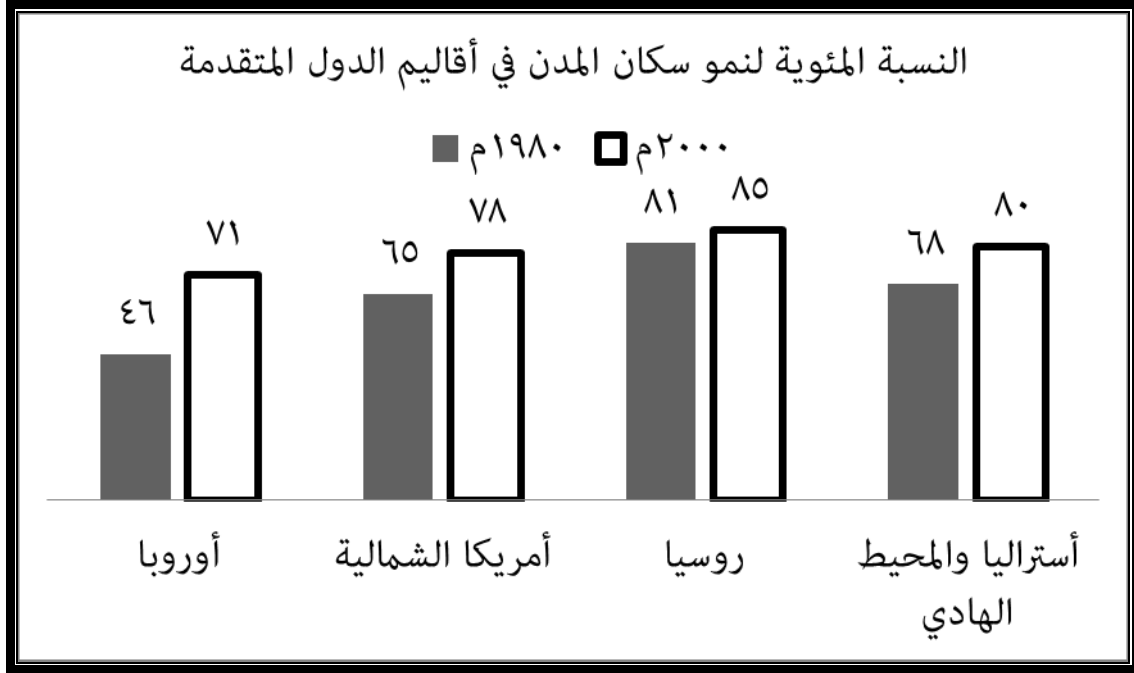
للعام الدراسي ١٤٣٧/١٤٣٨ هـ - ٢٠١٦/٢٠١٧ م

الدور الثاني - الفصل الدراسي الثاني

المادة: الدراسات الاجتماعية

تابع السؤال الرابع:

ج) أمامك شكل بياني (النسبة المئوية لنمو سكان المدن في أقاليم الدول المتقدمة في العالم)، ادرسه وأجب عن الأسئلة الآتية.



١. كم بلغت نسبة سكان المدن في إقليم أمريكا الشمالية عام ٢٠٠٠م؟

٢. سم الإقليم الذي يُمثل النسبة الأعلى لسكان المدن عام ١٩٨٠م.

٣. ما المرتبة التي احتلها إقليم أوروبا عام ٢٠٠٠م؟

٤. استخراج الفرق في نسبة نمو سكان مدن أستراليا والمحيط الهادي بين عامي ١٩٨٠م و ٢٠٠٠م.


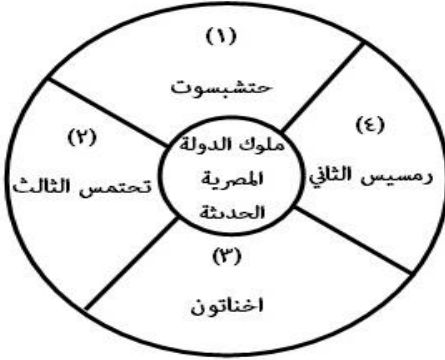
انتهت الأسئلة مع الدعاء للجميع بالتوفيق والنجاح.



نموذج إجابة امتحان الصف السابع
للعام الدراسي ١٤٣٧/١٤٣٨ هـ - ٢٠١٦/٢٠١٧ م
الدور الثاني - الفصل الدراسي الثاني

المادة: الدراسات الاجتماعية. الدرجة الكلية: (٤٠) درجة.
تبيئه: نموذج الإجابة في (٧) صفحات.

أولاً: إجابة السؤال الموضوعي:

الصفحة	الدرجة	الإجابة	البديل الصحيح	المفردة
١٢	٢	الزراعة.	ج	١
١٥	٢	منطقة حضرية.	أ	٢
٢٢	٢	(٢، ٤)	د	٣
٥٩	٢	نبوخذ نصر الثاني.	د	٤
٤٨	٢	١٩٢٢ م.	ب	٥
٣٢	٢	الصحة.	ب	٦
٢٥	٢		د	٧
٤٩-٤٧	٢		ج	٨
١٦		المجموع		

(٢)

تابع نموذج إجابة امتحان الصف السابع
للعام الدراسي ١٤٣٧/١٤٣٨ هـ - ٢٠١٦/٢٠١٧ م
الدور الثاني - الفصل الدراسي الثاني
المادة: الدراسات الاجتماعية


ثانياً: إجابة الأسئلة المقالية:

الدرجة الكلية: (٨) درجة		إجابة السؤال الثاني		
الصفحة	الدرجة	الإجابة الصحيحة	المفردة	الجزئية
٣٣	١	<ul style="list-style-type: none"> - عدم الإسراف في استخدام المياه. - أن يتجاوب مع الجهود المبذولة لترشيد استهلاك المياه. (يكتفى بوحدة) • يُراعى ما يفيد المعنى ضمن سياق الإجابات السابقة.	١	أ
٢٢	١	<ul style="list-style-type: none"> - تقديم الدعم اللازم للمزارعين. - توفير أجهزة الري الحديثة. - تقديم البذور والشتلات. - تقديم الإرشاد الزراعي المناسب. (يكتفى بوحدة) • يُراعى ما يفيد المعنى ضمن سياق الإجابات السابقة.	٢	
٢٣	١	<ul style="list-style-type: none"> - المتقدمة. 	١	ب
٢٣	١	<ul style="list-style-type: none"> - (٢). 	٢	
ب (١ و ٢) - يُقبل أي نوع من التظليل يدل على الإجابة الصحيحة. -تظليل الإجابتين يعتبر إجابة خاطئة.				
٥٤ ٥٤ ٦٥	١ ١ ١		١	ج
لكل درجة				

(٣)

تابع نموذج إجابة امتحان الصف السابع
للعام الدراسي ١٤٣٧/١٤٣٨ هـ - ٢٠١٦/٢٠١٧ م
الدور الثاني - الفصل الدراسي الثاني
المادة: الدراسات الاجتماعية

تابع ثانيا: إجابة الأسئلة المقالية:

الدرجة الكلية: (٨) درجة		تابع إجابة السؤال الثاني		
الصفحة	الدرجة	الإجابة الصحيحة	المفردة	الجزئية
٤٨	1/2	<p>ب</p>  <p>أ</p>	٢	ج
٥٩	1/2	<p>لكل نصف</p> <ul style="list-style-type: none">• كتابة الرمز في الموقع الصحيح على الخريطة، تعتبر إجابة صحيحة.• كتابة اسم المنجز مقترن بالموقع الصحيح على الخريطة، تعتبر إجابة صحيحة. (بوابة عشتار - حضارة بلاد الرافدين) (قناع توت عنخ آمون - الحضارة المصرية القديمة)		

يتبع /٤

(٤)

تابع نموذج إجابة امتحان الصف السابع
للعام الدراسي ١٤٣٧/١٤٣٨ هـ - ٢٠١٦/٢٠١٧ م
الدور الثاني - الفصل الدراسي الثاني
المادة: الدراسات الاجتماعية

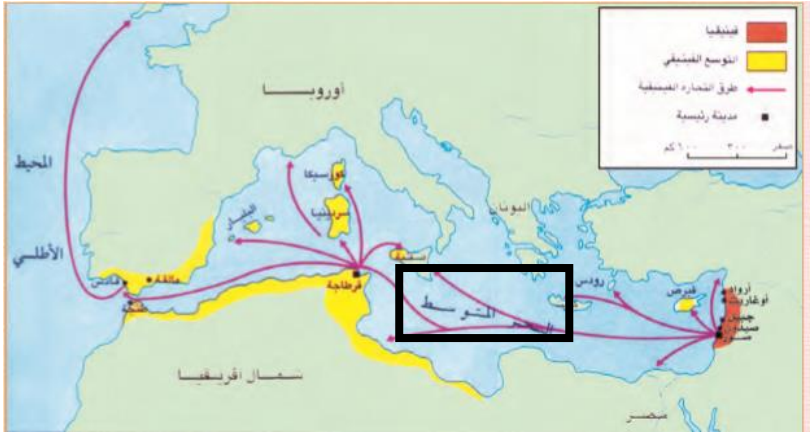
تابع ثانياً: إجابة الأسئلة المقالية:

الدرجة الكلية: (٨) درجة		إجابة السؤال الثالث							
الصفحة	الدرجة	الإجابة الصحيحة	المفردة						
٥١	١	- آسيا.	١						
٣٨	١	- النيل.	٢						
٤٠	١/٢+١/٢ لكل نصف	<table border="1"> <thead> <tr> <th>التعليل</th> <th>صحيحة أو خاطئة</th> <th>العبارة</th> </tr> </thead> <tbody> <tr> <td>لأنه استطاع توحيد المملكتين في مملكة واحدة عاصمتها مدينة ممفيس (منف). (تراعى لغة الطالب)</td> <td>صحيحة</td> <td>اتخذ الملك مينا لقب صاحب ملك الأرضين.</td> </tr> </tbody> </table>	التعليل	صحيحة أو خاطئة	العبارة	لأنه استطاع توحيد المملكتين في مملكة واحدة عاصمتها مدينة ممفيس (منف). (تراعى لغة الطالب)	صحيحة	اتخذ الملك مينا لقب صاحب ملك الأرضين.	١
		التعليل	صحيحة أو خاطئة	العبارة					
لأنه استطاع توحيد المملكتين في مملكة واحدة عاصمتها مدينة ممفيس (منف). (تراعى لغة الطالب)	صحيحة	اتخذ الملك مينا لقب صاحب ملك الأرضين.							
لأن الريف يفقد كثيراً من القوى العاملة. (يراعى ما يفيد المعنى)	صحيحة	تؤدي الهجرة من الريف إلى الحضر إلى عرقلة القطاع الزراعي.							
١٨	١/٢+١/٢ لكل نصف								
٢٩	٢	<table border="1"> <thead> <tr> <th>نتيجة اقتصادية واحدة ترتبت على هذه المشكلة.</th> <th>اسم المشكلة.</th> </tr> </thead> <tbody> <tr> <td>ضياع ساعات العمل / تأخر نقل البضائع. (يراعى ما يفيد المعنى) <u>(يكتفى بواحدة)</u> (درجة)</td> <td>الازدحام والاختناقات المرورية. (تراعى لغة الطالب) (درجة)</td> </tr> </tbody> </table>	نتيجة اقتصادية واحدة ترتبت على هذه المشكلة.	اسم المشكلة.	ضياع ساعات العمل / تأخر نقل البضائع. (يراعى ما يفيد المعنى) <u>(يكتفى بواحدة)</u> (درجة)	الازدحام والاختناقات المرورية. (تراعى لغة الطالب) (درجة)	٢		
		نتيجة اقتصادية واحدة ترتبت على هذه المشكلة.	اسم المشكلة.						
ضياع ساعات العمل / تأخر نقل البضائع. (يراعى ما يفيد المعنى) <u>(يكتفى بواحدة)</u> (درجة)	الازدحام والاختناقات المرورية. (تراعى لغة الطالب) (درجة)								

(٥)

تابع نموذج إجابة امتحان الصف السابع
للعام الدراسي ١٤٣٧/١٤٣٨ هـ - ٢٠١٦/٢٠١٧ م
الدور الثاني - الفصل الدراسي الثاني
المادة: الدراسات الاجتماعية

تابع ثانيا: إجابة الأسئلة المقالية:

الدرجة الكلية: (٨) درجة		تابع إجابة السؤال الثالث						
الصفحة	الدرجة	الإجابة الصحيحة	المفردة	الجزئية				
٦٨	1/2	دلالة الرمز	١					
	1/2 لكل نصف	شكل الرمز						
		<table border="1"><tr><td>طرق التجارة الفينيقية</td><td>←</td></tr><tr><td>مدينة رئيسية</td><td>■</td></tr></table>	طرق التجارة الفينيقية	←	مدينة رئيسية	■		
طرق التجارة الفينيقية	←							
مدينة رئيسية	■							
٦٨	١		٢	٥				

يتبع ٦/

(٦)

تابع نموذج إجابة امتحان الصف السابع
للعام الدراسي ١٤٣٧/١٤٣٨ هـ - ٢٠١٦/٢٠١٧ م
الدور الثاني - الفصل الدراسي الثاني
المادة: الدراسات الاجتماعية

تابع ثانياً: إجابة الأسئلة المقالية:

الدرجة الكلية: (٨) درجة		إجابة السؤال الرابع								
الصفحة	الدرجة	الإجابة الصحيحة	المفردة	الجزئية						
١٤	١	<p>- توفر الإمكانيات الطبيعية للإنتاج الزراعي.</p> <p>- توافر بعض الخامات الزراعية والحيوانية المستخدمة في الصناعة.</p> <p>- انتشار نمط الأسرة الكبيرة (الممتدة).</p> <p>- قوة العلاقات الأسرية بين أفراد المجتمع.</p> <p>(يكتفى بوحدة)</p> <p>• يُراعى ما يفيد المعنى ضمن سياق الإجابات السابقة.</p>	١	أ						
٢٣	١	- نتيجة التطور الذي طرأ على الآلة الزراعية.	٢							
٥٤	1/2+1/2	<table border="1"> <thead> <tr> <th>الأماوريون.</th> <th>الأكاڊيون.</th> <th>الشعب. وجه المقارنة.</th> </tr> </thead> <tbody> <tr> <td>ماري</td> <td>آكاڊ</td> <td>العاصمة.</td> </tr> </tbody> </table>	الأماوريون.	الأكاڊيون.	الشعب. وجه المقارنة.	ماري	آكاڊ	العاصمة.	١	ب
الأماوريون.	الأكاڊيون.	الشعب. وجه المقارنة.								
ماري	آكاڊ	العاصمة.								
٦٣-٦٢	1/2+1/2	<table border="1"> <thead> <tr> <th>سهول بلاد الشام الشمالية/بلاد الشام/ المناطق الجنوبية من بلاد الشام/وسط بلاد الشام.</th> <th>المنطقة الوسطى من العراق/ بلاد الرافدين/العراق.</th> <th>المناطق التي استوطنوها.</th> </tr> </thead> <tbody> <tr> <td>(ماري-حلب-جيبيل) (الأردن - سوريا)</td> <td>(يكتفى بوحدة)</td> <td>(يكتفى بوحدة)</td> </tr> </tbody> </table>	سهول بلاد الشام الشمالية/بلاد الشام/ المناطق الجنوبية من بلاد الشام/وسط بلاد الشام.	المنطقة الوسطى من العراق/ بلاد الرافدين/العراق.	المناطق التي استوطنوها.	(ماري-حلب-جيبيل) (الأردن - سوريا)	(يكتفى بوحدة)	(يكتفى بوحدة)		
سهول بلاد الشام الشمالية/بلاد الشام/ المناطق الجنوبية من بلاد الشام/وسط بلاد الشام.	المنطقة الوسطى من العراق/ بلاد الرافدين/العراق.	المناطق التي استوطنوها.								
(ماري-حلب-جيبيل) (الأردن - سوريا)	(يكتفى بوحدة)	(يكتفى بوحدة)								

(٧)

تابع نموذج إجابة امتحان الصف السابع
للعام الدراسي ١٤٣٧/١٤٣٨ هـ - ٢٠١٦/٢٠١٧ م
الدور الثاني - الفصل الدراسي الثاني
المادة: الدراسات الاجتماعية

تابع ثانيا: إجابة الأسئلة المقالية:

الدرجة الكلية: (٨) درجة		تابع إجابة السؤال الرابع		
الصفحة	الدرجة	الإجابة الصحيحة	المفردة	الجزئية
٥٦ - ٥٥	١ $1/2 + 1/2$	<p>(١) حمورابي</p> <p>أشهر أعماله</p> <p>تولى الحكم</p> <p>(٢) وحد بلاد ما بين النهرين (الرافدين).</p> <p>(٣) ازدهرت في عهده الزراعة والتجارة والصناعة.</p> <p>(٤) أصدر القوانين والتشريعات.</p> <p>١٧٢٨ ق.م</p> <p>لا يشترط الترتيب في (أشهر أعماله).</p>	٢	ب
٢٤	$1/2$		٧٨%	١
٢٤	$1/2$		روسيا	٢
٢٤	$1/2$		الرابعة. (رقم ٤)	٣
٢٤	$1/2$		$80 - 68 = 12\%$	٤
		المطلوب القيمة العددية، ولا يشترط إجراء العملية الحسابية.		

نهاية نموذج الإجابة