


شكراً لتحميلك هذا الملف من موقع المناهج العمانية



أسئلة امتحانات سابقة على درس حضارات بلاد الرافدين

[موقع المناهج](#) ← [المناهج العمانية](#) ← [الصف السابع](#) ← [اجتماعيات](#) ← [الفصل الثاني](#) ← [الملف](#)

التواصل الاجتماعي بحسب الصف السابع



روابط مواد الصف السابع على تلغرام

[الرياضيات](#)

[اللغة الانجليزية](#)

[اللغة العربية](#)

[التربية الاسلامية](#)

المزيد من الملفات بحسب الصف السابع والمادة اجتماعيات في الفصل الثاني

الامتحان الرسمي النهائي بمحافظة الداخلية	1
الاختبار النهائي الرسمي في محافظة مسقط	2
نموذج إجابة الاختبار النهائي الرسمي في محافظة شمال الشرقية	3
الامتحان الرسمي النهائي لمحافظة الشرقية	4
الامتحان الرسمي النهائي لمحافظة الداخلية	5

أسئلة امتحانات سابقة على درس (حضارات بلاد الرافدين)

٦- الملك الآشوري الذي شجع الفنون والآداب والتجارة والصناعة :

- أ- سرجون الأول ب- سرجون الثاني ج- حمورابي د- نارام سن

٤- تم القضاء على حكم الكلدانيين عام ٥٣٩ ق.م بعد تعرضهم للغزو :

- أ- الفارسي ب) الفرعوني ج) الروماني د) الفينيقي

٤) الملك البابلي الذي بنى برج بابل:

- أ. حمورابي ب. سرجون الثاني. ج. نابوبولاسر. د. نبوخذنصر الثاني

٨- تعرضت الدولة البابلية الثانية للغزو الفارسي سنة ٥٣٩ ق.م بسبب:

- أ- عظم امتدادها ب- ظهور دويلات مستقلة ج- ضعف ملوكها د- موقعها الجغرافي

٨- تمثل الصورة التالية نموذج للكتابة :

- أ/ اللاتينية
ب/ الفينيقية
ج/ المسمارية
د/ الهيروغليفية



٦- الحضارة التي سنت قوانين وتشريعات متعلقة بالأحوال الشخصية:

- د- الآشورية

أ- السومرية ب- البابلية ج- الأكادية

٦- العاصمة الأولى للحضارة الآشورية:

- أ- أور ب- نينوى ج- بابل د- آشور

٧- من أقدم الشعوب التي استقرت في السهل الجنوبي العراقي :

- أ- السومريون ب- الأكاديون ج- البابليون د- الآشوريون

٨- ترجع تسمية حضارة العراق القديمة بحضارة بلاد ما بين النهرين لوجودها بين نهري:

- أ- النيل والفرات ب- دجلة والاردن


ج- دجلة والفرات د- النيل والاردن

٧) المدينة التي أطلق عليها الأكاديون اسم " باب - اليم " :

- أ - بابل ب- آشور ج- نينوى د- كيش

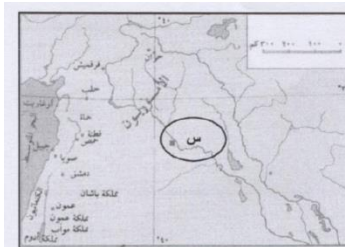
٧) الصورة التي أمامك من أهم الاتجازات المعمارية للملك :

- أ) نارام سن ب) حمورابي
ج) آشور بانيبال د) نبوخذ نصر

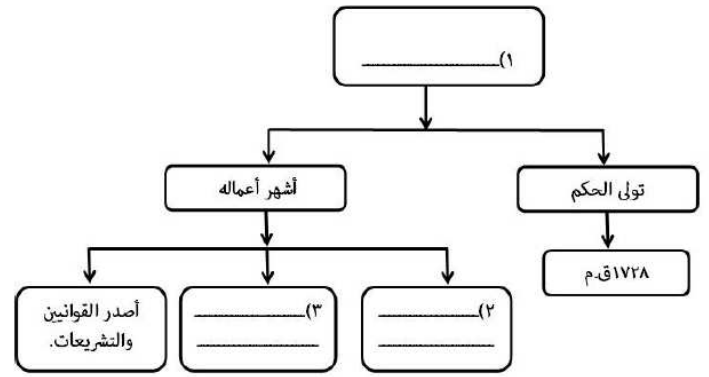


٨- الدولة العربية التي تقع فيها آثار المدينة المشار إليها بالرمز (س) في الخريطة:

- أ - العراق ب- سوريا
ج- الأردن د- فلسطين



٢. أكمل تصميم مخطط الشخصية التاريخية الآتية.



أولاً: انصب الإنجازات التالية إلى الحضارات التي تنتمي إليها بالاستعانة بما بين القوسين (السومريون - الفراعنة - الفينيقيون - الكلدانيون - البابليون - الآموريون) :

- ١- (.....) الكتابة المسمارية .
- ٢- (.....) الحدايق المعلقة .
- ٣- (.....) الزراعة المروية .
- ٤- (.....) قوانين حمورابي .
- ٥- (.....) اكتشاف النجم القطبي .
- ٦- (.....) الكتابة الهيروغليفية .

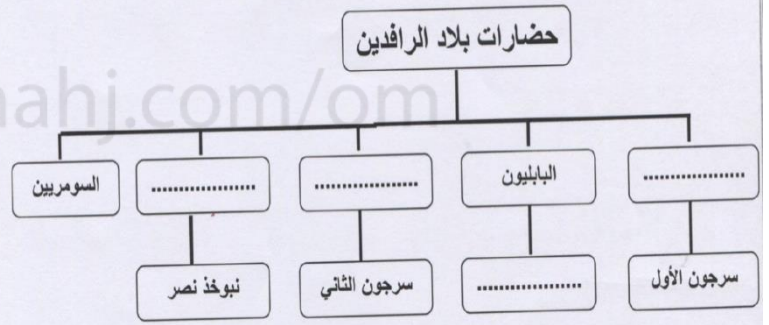
٢ - صنف الملوك في الجدول التالي حسب الحضارة التي ينتمي كل منهم إليها :

سرجون الأول ----- حمورابي ----- نبوخذ نصر الثاني ----- سرجون الثاني

اسم الملك	الحضارة التي ينتمي إليها
.....	حضارة الكلدانيين (الدولة البابلية الثانية)
.....	حضارة الآشوريين
.....	حضارة البابليين
.....	حضارة الأكاديين

ج - يوضح المخطط التالي أهم حضارات بلاد الرافدين ، وأشهر ملوكها .. اكمله بما يناسب من بين القوسين:

(الآشوريين ، الأكاديين ، الكلدانيون ، حمورابي)



ب : ما الموقع الجغرافي لبلاد الرافدين ؟

ب - بين اثنين من أعمال سرجون الثاني ؟

ب - عدد أشهر المدن السومرية ؟

١- ٢-

ب - عدد اثنان من أهم أعمال الملك نبوخذ نصر الثاني المعمارية ؟

١ - ٢ -

ثانياً :

أ - دلل على أن الملك آشور بانيبال كان مغزماً بالعلم و الأدب ؟

١. القارة التي تقع فيها بلاد الرافدين.

٣- أنسب الانجازات التالية الى الملك التي تمت في عصره.
(سرجون الثاني - نبوخذ نصر)

٦ :

أ - ما اسم الكتابة التي عرفها السومريون ؟

٢.....

زود الجيش بالعجلات
الحربية والأسلحة
المصنوعة من الحديد

١.....

اهتم بالعمران وبنى
الحدائق المعلقة

ب : سمي الحضارة التي ينتمي إليها الملوك التالية أسمائهم ؟

١- آشور بانيبال: ٢- نارام سن:

أ - اذكر واحد فقط لكل مما يلي :

١- أشهر دويلات المدن السومارية.

٢. علل : أ. استقرار السكان ونشأة الحضارات في السهل الجنوبي من بلاد الرافدين .

ب - اذكر انجازاً واحداً للملك حمورابي .

٢- رتب الشعوب التالية التي استوطنت بلاد الرافدين من الاقدم للأحدث:
(البابليون - الآشوريون - السومريون - الأكاديون - الكلدانيون)

١..... ٢..... ٣..... ٤..... ٥.....

قوانين:

*القصاص والتعويضات.
*عقود الزراعة وشروط القروض

٢- القوانين الموجودة في الشكل الذي امامك تنسب الى.....

٣. قسّم العراق الى ثلاثة.

ب - ما سبب تسمية حدائق بابل بالحدائق المعلقة؟

.....

.....

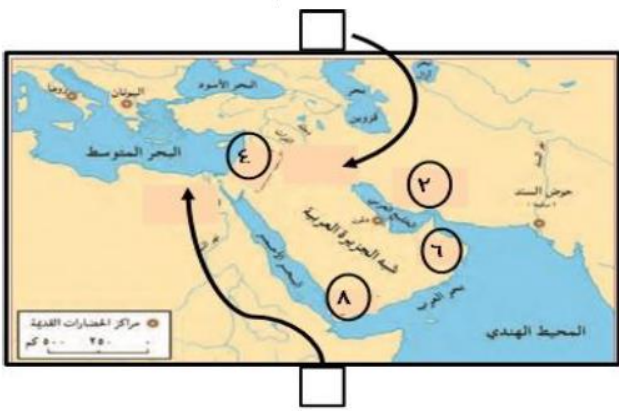
أ- أعط نتيجة واحدة فقط لكل مما يلي:

٢- التقاء مجرى نهر دجلة ومجرى نهر الفرات معا .

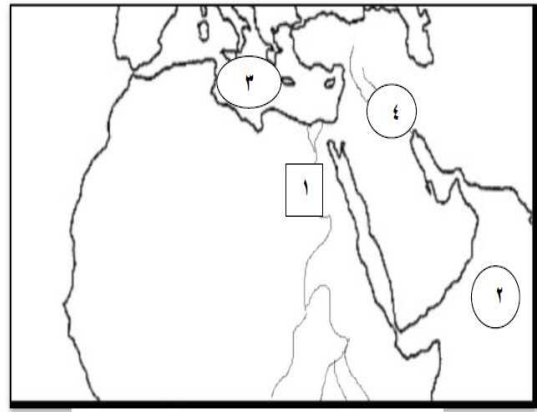
أ- أعط نتيجة واحدة فقط لكل مما يلي:

٢- خصوبة أراضي السهل الجنوبي من بلاد الرافدين .

ج) أمامك خريطة (مراكز الحضارات القديمة) ادرسها، ثم أجب عن الأسئلة الآتية:



١- أمامك خريطة الحضارات ادرسها جيدا ثم اجب عن الاسئلة التي تليها:



٢- اكتب على الخريطة رمز كل صورة داخل المربع الدال على الموقع الصحيح للحضارة التي ينتمي إليها



(ب)

الظاهرة	موقع حضارات بلاد الرافدين
الرقم الذي يشير اليه	

أ-

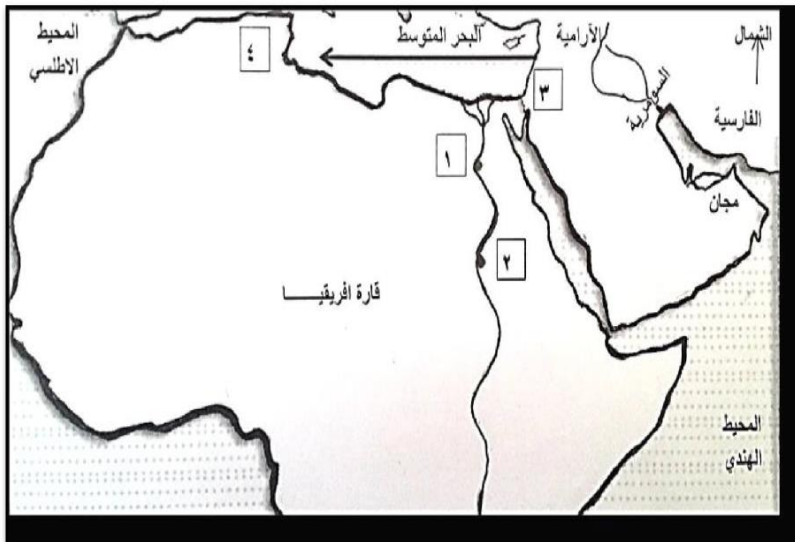
تم تحميل هذا الملف من

١) أمامك خريطة توضح مراكز الحضارات القديمة ، ادرسها جيدا ، ثم أجب عن الأسئلة التالية:



أ (ظلل على الخريطة موقع حضارات بلاد الرافدين .

١- أمامك خريطة الوطن العربي ادرسها جيدا ثم اجب عن الاسئلة التي تليها:



أ- ب- ضع دائرة في الخريطة على اسم الحضارة التي كانت من اشهر مدنها: كيش واور ولجش.

: - بعد دراستك لخريطة الحضارات القديمة في بلاد الرافدين اجب عما يلي : استخرج من الخريطة :

أ - الدولة التي استقرت السهل الجنوبي للعراق .

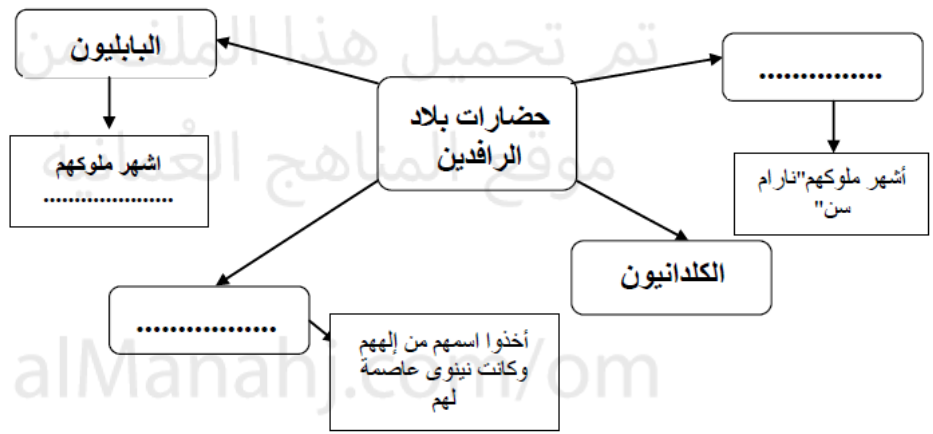
ب - دولة من ملوكها سرجون الأول ، ونارام سن .

ج - الدولة التي تمكنت من القضاء على الدولة

البابلية الأولى .



(٢) اكمل الخريطة الذهنية لحضارات بلاد الرافدين :



١- أدرس الخريطة التالية ثم اجب عن الأسئلة التي تليها .



أ/ استخرج من الخريطة عاصمة الآشوريين الجديدة في عهد آشور باتييال .

ب/ من خلال الخريطة ؛ ما اسم المدينة التي بناها السومريون على نهر الفرات .

ج/ ضع علامة (✓) على الإجابة الصحيحة .

الاتجاه الذي يسلكه نهري دجلة والفرات : () من الشمال للجنوب () من الجنوب للشمال

٢- أكتب اسم الملك في المكان الصحيح للإنجاز الذي تم في عصره :

(رسميس الثاني - حمورابي - نبوخذ نصر الثاني)

الملك صاحب الإنجاز	المنجز h
	بنى برج بابل والحدائق المعلقة
	اشتهر المسلات والتماثيل الضخمة أشهرها معبد في الصخر أبو سمبل .
	من أشهر من ملوك الدولة البابلية الثانية ، اشتهر بقوانينه وتشريعاته