

شكراً لتحميلك هذا الملف من موقع المناهج العمانية



اختبار على الوحدة التاسعة

موقع المناهج ← المناهج العمانية ← الصف السابع ← رياضيات ← الفصل الثاني ← الملف

التواصل الاجتماعي بحسب الصف السابع



روابط مواد الصف السابع على تلغرام

[الرياضيات](#)

[اللغة الانجليزية](#)

[اللغة العربية](#)

[التربية الاسلامية](#)

المزيد من الملفات بحسب الصف السابع والمادة رياضيات في الفصل الثاني

[نموذج إجابة الامتحان الرسمي النهائي بمحافظة جنوب الباطنة](#)

1

[الامتحان الرسمي النهائي بمحافظة جنوب الباطنة](#)

2

[الاختبار النهائي الرسمي في محافظة جنوب الداخلية](#)

3

[الاختبار النهائي الرسمي في محافظة الشرقية](#)

4





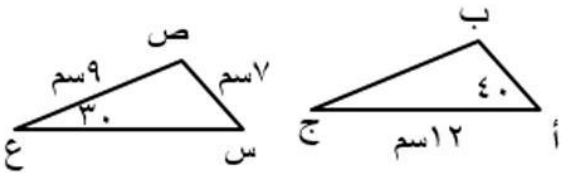
[الاختبار النهائي الرسمي في محافظة شمال الباطنة](#)

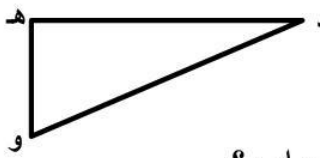


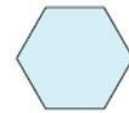
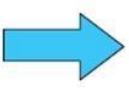

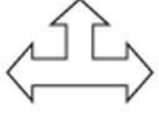




5

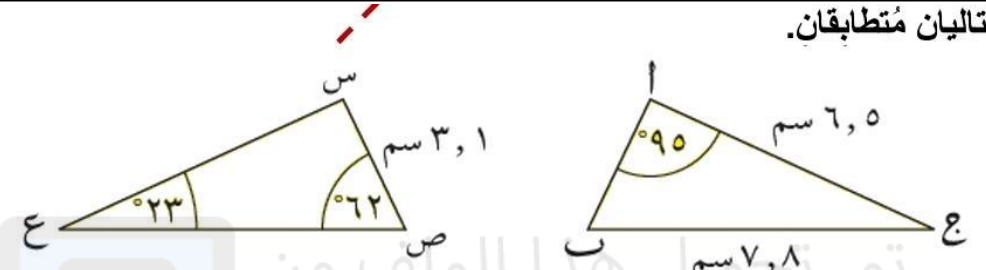
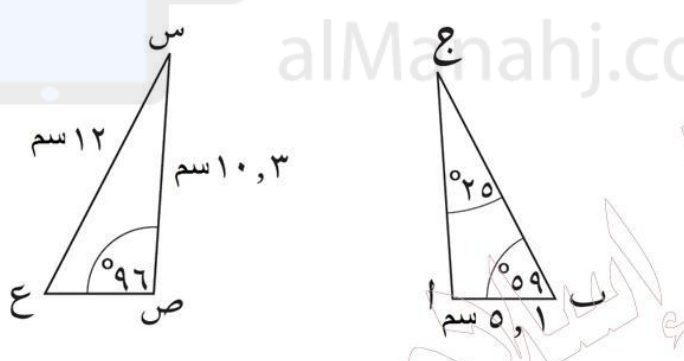
اختبار الرياضيات الوحدة التاسعة للصف السابع الأساسي

مدرسة دوت للتعليم الأساسي

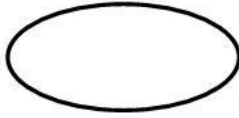
الدرجة	السؤال	م
2	<p>من خلال الرسم اذا علمت ان المثلثان متطابقان المطلوب فيما يلي :</p> <p>أ) حدد وتر كل مثلث الوتر في المثلث الأول هو..... الوتر في المثلث الثاني هو.....</p> <p>ب) طول أ ج = قياس الزاوية ب ج أ = مع ذكر السبب</p>	1
2	<p>المثلث أ ب ج يطابق المثلث س ص ع ، أوجد :</p> <p>(١) طول أ ب ، طول س ع (٢) قياس الزاوية (س ص ع)</p> <p>الإجابة :</p> <p>(١) طول أ ب = (٢) طول س ع = (٢) ق(س ص ع) =</p>	2

1	<p>يقول أحمد : للمثلث متطابق الضلعين ثلاث خطوط تماثل</p>   <p>أ هل ما قاله أحمد صحيح ؟ صحيح <input type="checkbox"/> غير صحيح <input type="checkbox"/></p> <p>ب) فسر كيف توصلت الى الاجابة مستعينا بالرسم</p>	3
1	<p>في الشكل المقابل الرتبة الدورانية لشكل المقابل تساوي</p>  <p>محميل هذا الملف من موقع المناهج العمانية alManahj.com/om</p>	4
1	<p>حوظ الإجابة الصحيحة : عدد خطوط التماثل للشكل التالي :</p>  <p>١ ٢ ٣ ٤</p>	5
2	<p>المثلث أ ب ج يطابق المثلث س ص ع ، أوجد :</p>  <p>(١) طول س ص = _____</p> <p>(٢) طول أ ب = _____</p> <p>(٣) قياس الزاوية (ب ج أ) = _____</p>	6

1	<p>يقول سالم : </p> <p>هل ما يقوله سالم صواب ؟ صواب <input type="checkbox"/> غير صواب <input type="checkbox"/></p> <p>فسر إجابتك</p>	7
1	<p>اكتب وتر المثلث القائم المقابل </p>	8
2	<p>الشكلان المجاوران متطابقان. (أ) ما الضلع الذي يتناظر مع الضلع وه ؟ (ب) ما الزاوية المتناظرة مع (أ) ؟ </p>	9
1	<p>اكتب عدد خطوط التماثل لكل شكلٍ من الأشكال التالية:</p> <p>(أ)  (ب)  (ج)  (د) </p>	10
1	<p>حوط الأشكال التي يكون لها خطين من خطوط التماثل</p> <p>    </p>	11

2	<p>حَوِّط اسم المَضَلَعِ الرباعيِّ الخاصِّ الذي ينطبق عليه الوصف التالي:</p> <p>كلُّ أضلاعي لها نفس الطول، وأقطاري متعامدة وتنصف كلَّ منها الآخر، والزوايا المتقابلة فيِّ متساوية ، ولديَّ رتبة تماثل دوراني قدرها ٢</p> <p>المربع المعين المستطيل شبه المنحرف</p>	12
2	<p>المثلثان التاليان مُتطابقان.</p>  <p>طول ا ب =</p> <p>قياس زاوية س =</p>	13
2	<p>المثلثان التاليان مُتطابقان.</p> <p>اكتب طول (ا ج)</p> <p>اكتب قياس (ب ا ج)</p> 	14
1	<p>حَوِّط اسم المَضَلَعِ الرباعيِّ الخاصِّ الذي ينطبق عليه الوصف التالي:</p> <p>كلُّ أضلاعي لها نفس الطول، وأقطاري متعامدة وتنصف كلَّ منها الآخر، ولديَّ رتبة تماثل دوراني قدرها ٤</p> <p>المربع المعين المستطيل شبه المنحرف</p>	15

لكل من الأشكال الآتية خط تماثل واحد أو خطين :-




(د)



(ج)



(ب)



(أ)

2

اكمل الجدول التالي :-

خط تماثل واحد	خطين تماثلين	الشكل

تم تحميل هذا الملف من

موقع المناهج التعليمية

alMarahj.com/

صل بين العمود الأول بما يناسبه من العمود الثاني:

رتبة التماثل الدوراني
قد،ها 2

خماسي منتظم

رتبة التماثل الدوراني
قد،ها 1

متوازي أضلاع

رتبة التماثل الدوراني
قدرها 4

مثلث مختلف الأضلاع

رتبة التماثل الدوراني
قدرها 5

2

لي قطران متعامدان وينصف قطر واحد الآخر فمن أنا ؟

1

2	<p>صل كل مسألة في العمود الأول بالإجابة المناسبة لها في العمود الثاني</p> <table border="0"> <tr> <td data-bbox="264 203 544 293">(١) المربع</td> <td data-bbox="842 185 1315 331">(أ) لي خمسة خطوط تماثل ورتبة تماثل دوراني قدرها ٥</td> </tr> <tr> <td data-bbox="264 338 544 427">(٢) المعين</td> <td data-bbox="842 353 1315 499">(ب) لي أربعة خطوط تماثل ورتبة تماثل دوراني قدرها ٤</td> </tr> <tr> <td data-bbox="264 465 544 555">(٣) متوازي الأضلاع</td> <td data-bbox="842 521 1315 667">(ج) ليس لي أي خطوط تماثل ورتبة تماثل دوراني قدرها ٢</td> </tr> <tr> <td data-bbox="264 607 544 696">(٤) الخماسي المنتظم</td> <td></td> </tr> </table>	(١) المربع	(أ) لي خمسة خطوط تماثل ورتبة تماثل دوراني قدرها ٥	(٢) المعين	(ب) لي أربعة خطوط تماثل ورتبة تماثل دوراني قدرها ٤	(٣) متوازي الأضلاع	(ج) ليس لي أي خطوط تماثل ورتبة تماثل دوراني قدرها ٢	(٤) الخماسي المنتظم		19
(١) المربع	(أ) لي خمسة خطوط تماثل ورتبة تماثل دوراني قدرها ٥									
(٢) المعين	(ب) لي أربعة خطوط تماثل ورتبة تماثل دوراني قدرها ٤									
(٣) متوازي الأضلاع	(ج) ليس لي أي خطوط تماثل ورتبة تماثل دوراني قدرها ٢									
(٤) الخماسي المنتظم										
1	<p>أكمل الفراغ التالي: الشكل الذي له زوجان من الأضلاع المتطابقة وخط تماثل واحد هو.....</p>	20								

ترسل الإجابات على الرابط
alManahj.com/om

https://docs.google.com/forms/d/e/1FAIpQLSeadu0nC2X53MgxxuzGUoMGtJ9CdtNBm6f9J3twmZAWpTB5FQ/viewform?usp=sf_link

انتهت الأسئلة مع خالص تمنياتي لكن بالنجاح و التفوق

1. أمل البادي