

تم تحميل هذا الملف من موقع المناهج العُمانية



*للحصول على أوراق عمل لجميع الصفوف وجميع المواد اضغط هنا

<https://almanahj.com/om>

* للحصول على أوراق عمل لجميع مواد الصف السابع اضغط هنا

<https://almanahj.com/om/7>

* للحصول على جميع أوراق الصف السابع في مادة اجتماعيات ولجميع الفصول, اضغط هنا

<https://almanahj.com/om/7social>

* للحصول على أوراق عمل لجميع مواد الصف السابع في مادة اجتماعيات الخاصة بـ الفصل الأول اضغط هنا

<https://almanahj.com/om/7social1>


* لتحميل كتب جميع المواد في جميع الفصول للـ الصف السابع اضغط هنا

<https://almanahj.com/om/grade7>

* لتحميل جميع ملفات المدرس علي بن محمد الحسان اضغط هنا

للتحدث إلى بوت على تلغرام: اضغط هنا

https://t.me/omcourse_bot



مذكرة إثرائية لمادة
الدراسات الاجتماعية

2020-2021

الصف السابع

الفصل الدراسي الأول

الوحدة الثانية

(جغرافية السكان)

سؤال وجواب

إعداد :

علي بن محمد الحسان

للتواصل :

99493923

Ali 47536@moe.om

{ درس : مفهوم جغرافية السكان }

السؤال الأول : ضع علامة (✓) أو (X) أمام العبارة المناسبة مع تصحيح ما تحته خط إذا كانت العبارة خطأ .

- ١- (X) المصدر الأول والرئيسي لدراسة السكان وبنيتهم هو سجلات الهجرة . التعداد
- ٢- (✓) تم التعداد الثالث للسكان في سلطنة عمان عام ٢٠١٠ .
- ٣- (✓) تختص جغرافية السكان بدراسة خصائص السكان وتوزيعه الجغرافي .

السؤال الثاني : ضع دائرة حول الإجابة الصحيحة من بين البدائل المعطاه .

- ١- تم أول تعداد شامل في سلطنة عمان عام
- (١٩٩١ - ١٩٩٢ - ١٩٩٣)
- ٢- زيادة أعداد السكان بصورة كبيرة تفوق الزيادة في الموارد الطبيعية يقصد به .
- (التعداد السكاني - الانفجار السكاني - النمو السكاني)
- ٣- العملية الشاملة لحصر الأفراد والتعرف على حالتهم الاقتصادية والاجتماعية في الدولة وفي زمن معين يقصد به .
- (التعداد - بنية السكان - نمو السكان)

السؤال الثالث : أكمل مايلي بعبارات مناسبة من عندك .

- ١ - يجري التعداد على فترات منتظمة كل عشر سنوات أو خمس سنوات .
- ٢- تشمل الإحصاءات الحيوية على سجلات المواليد وسجلات الوفيات وحالات الزواج والطلاق .
- ٣- سجلات الهجرة وتشمل حصر اعداد المهاجرين من الدولة وإليها .

السؤال الرابع : أجب عن الأسئلة التالية:

- س ١: بماذا تختص جغرافية السكان ؟
- ج ١ : تختص بدراسة خصائص السكان وبنية السكان وتوزيعهم الجغرافي والنمو السكاني .

س ٢ : " تتلخص خصائص جغرافية السكان بثلاثة جوانب رئيسية " ماهي ؟

ج ٢ : ١- بنية السكان (البنية النوعية والعمرية والاقتصادية والاجتماعية)

٢- نمو السكان (المواليد والوفيات والهجرة)

٣- توزيع السكان والكثافة السكانية

س ٣ : " هناك العديد من المصادر لدراسة السكان إلا أن أهمها ثلاث مصادر أذكرها ؟

ج ٣ : ١- التعداد

٢-البيانات الحيوية

٣- سجلات الهجرة .

س ٤ : " تكمن أهمية دراسة السكان في ثلاثة أشياء " أذكرها ؟

ج ٤ : ١- متابعة الزيادة المطردة في أعداد السكان ومراقبة ما يعرف بالانفجار السكاني .

٢- إيجاد الحلول المناسبة لمشكلة ندرة الموارد اللازمة لسد احتياجات الأعداد المتزايدة من جراء الانفجار السكاني

٣- دراسة تزود الدولة ببيانات مهمة للأغراض التنموية المتعددة .

almanahj.com/om

{ درس : بنية السكان }

السؤال الأول : ضع علامة (✓) أو (X) أمام العبارة المناسبة مع تصحيح ما تحته خط إذا كانت العبارة خطأ .

- ١- (X) الفئة المنتجة في المجتمع والأكثر قدرة على الحركة والهجرة هي كبار السن . " متوسطي العمر "
- ٢- (X) الأسرة المكونة من الأب والأم والأطفال والجد والجددة يطلق عليها أسرة متوسطة . " كبيرة "
- ٣- (✓) الهرم الذي يمثل المجتمع المسن و تنخفض فيه نسبة صغار السن هو الهرم ذو القاعدة الضيقة.

السؤال الثاني : صل بخط بين نوع البنية في العمود الأول ومعناها في العمود الثاني .

معناها	البنية
دراسة السكان حسب فئات العمر	البنية العمرية
نسبة عدد الذكور إلى الإناث في المجتمع	البنية النوعية
يقصد بها الخصائص الاجتماعية للسكان في المجتمع من حيث الحالة الزوجية والمستوى التعليمي وحجم الأسرة	البنية الاقتصادية
يقصد بها ملامح النشاط الاقتصادي في المجتمع وارتباطها بظروف البيئة الجغرافية	البنية الاجتماعية

السؤال الثالث : ضع دائرة حول الإجابة الصحيحة من بين البدائل المعطاه .

- ١- نسبة الأفراد المنتجين " العاملين " إلى الأفراد غير المنتجين أو العاملين يقصد به (نسبة الإعالة - القوى العاملة - الهرم السكاني)
- ٢- شكل بياني يبين توزيع السكان من حيث العمر والنوع يقصد بها (نسبة الإعالة - القوى العاملة - الهرم السكاني)
- ٣- الأفراد في سن العمل من الذكور والإناث سواء أكانوا عاملين أم باحثين عن العمل يقصد به (نسبة الإعالة - القوى العاملة - الهرم السكاني)

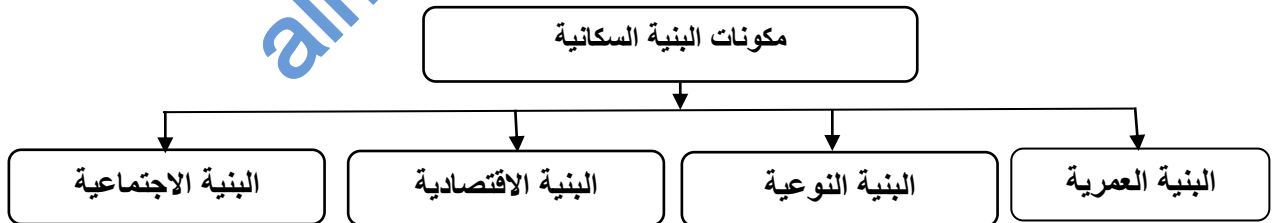
السؤال الرابع : أكمل مايلي بعبارات مناسبة من عندك .

- ١ - الخصائص السكانية تتأثر بعوامل حيوية مثل معدل المواليد والوفيات ومعدلات الهجرة في المجتمع .
- ٢- دراسة الخصائص السكانية المتعلقة بالنوع والسن تساعد على فهم النمو السكاني ودراسة الأوضاع الاقتصادية والاجتماعية في المجتمع .
- ٣- القوى غير العاملة تشمل الأطفال وكبار السن .

السؤال الخامس : أختبر من بين القوسين المصطلح الدال على مايلي وضعه أمام العبارة المناسبة .

(البنية النوعية - الهرم السكاني - بنية السكان - نسبة الإعالة)

- ١- بنية السكان دراسة خصائص السكان في المجتمع من حيث العمر والنوع والنشاط الاقتصادي والاجتماعي .
- ٢- البنية النوعية نسبة عدد الذكور إلى الإناث في المجتمع ؟.
- ٣- نسبة الإعالة نسبة الأفراد المنتجين " العاملين " إلى الأفراد غير المنتجين أو العاملين .
- ٤- الهرم السكاني شكل بياني يبين توزيع السكان من حيث العمر والنوع .

السؤال السادس : أكتب تحت كل هرم اسمه الصحيح :**السؤال السادس : اكمل الشكل التالي بكتابة مكونات البنية السكانية**

السؤال السابع : أجب عن الأسئلة التالية:

س ١ : " ينقسم السكان إلى ثلاث فئات عمرية " ماهي ؟

- ج ١ : ١- فئة صغار السن (أقل من ١٥ سنة) وتتميز بأنها غير منتجة .
 ٢- فئة متوسطي العمر (١٥-٦٥ سنة) وتتميز بأنها فئة منتجة والأكثر قدرة على الحركة والهجرة .
 ٣- فئة كبار السن (٦٥ سنة فأكثر) وتتميز بقلة الإنتاج .

س ٢ : كيف يتم حساب نسبة الإعالة ؟

ج ٢ :
$$\text{نسبة الإعالة} = \frac{\text{عدد السكان المعالين " غير العاملين "}}{\text{عدد السكان العاملين}} \times 100$$

س ٣ : كيف يتم حساب نسبة النوع ؟

ج ٣ :
$$\text{نسبة النوع} = \frac{\text{عدد الذكور}}{\text{عدد الإناث}} \times 100$$

س ٤ : ما المقصود بأن نسبة النوع في معظم الدول (١٠٠-١٠٥) ؟

ج ٤ : أي أنه يولد ١٠٥ من الذكور مقابل كل ١٠٠ من الإناث .

س ٥ : " تتأثر نسبة النوع في المجتمعات بعوامل عدة " أذكر أهم هذه العوامل ؟

- ج ٥ : ١- التفاوت في معدلات الهجرة حيث تزيد الهجرة بين الذكور .
 ٢- تباين معدل الوفيات بين الذكور والإناث .
 ٣- الأخطاء في البيانات التي يشملها التعداد مثل النقص في تسجيل عدد الإناث
 ٤- الحروب التي تؤدي إلى زيادة في وفيات الذكور.

س ٦ : تقسم الأهرامات السكانية إلى ثلاثة أنواع رئيسية " ماهي ؟

- ج ٦ : ١- الهرم ذو القاعدة العريضة والجوانب المنحدرة : وهو يمثل المجتمع الفتى حيث تزيد فيه نسبة صغار السن
 ٢- الهرم ذو القاعدة الضيقة : ويمثل المجتمع المسن " الهرم " حيث تنخفض فيه نسبة صغار السن
 ٣- الهرم ذو القاعدة المتوسطة : ويمثل المجتمع الذي تزيد فيه نسبة متوسطي السن .

س ٧ : " تنقسم القوى البشرية في المجتمع إلى نوعين من القوى " ماهي ؟

- ج ٧ : ١- القوى العاملة النشطة أو المنتجة اقتصاديا والباحثين عن عمل .
 ٢- القوى غير العاملة وتشمل الأطفال وكبار السن .

{ درس : النمو السكاني }

السؤال الأول : ضع علامة (✓) أو (X) أمام العبارة المناسبة مع تصحيح ما تحته خط إذا كانت العبارة خطأ .

- ١- (✓) يمكن معرفة أنواع الهجرة من خلال معرفة المكان ومدة الإقامة والرغبة.
- ٢- (✓) انخفاض معدل وفيات الرضع يدل على التقدم الصحي والاجتماعي للمجتمع.
- ٣- (X) يرتفع معدل أمد الحياه في الدول التي تفتقر إلى شبكة الخدمات العامة . " يقل "
- ٤- (✓) تعتبر الهجرة مصدرا رئيسيا لتغير السكان .

السؤال الثاني : (أ) أكمل مايلي بعبارات مناسبة من عندك .

- ١- ترتفع معدلات المواليد في المجتمعات الزراعية التقليدية بينما تقل في المجتمعات الصناعية .
- ٢- إذا كان عدد المواليد أكبر من عدد الوفيات فإنها تكون الزيادة موجبة .
- ٣- إذا كان عدد المواليد أقل من عدد الوفيات فإنها تكون الزيادة سالبة .

السؤال الثاني : (ب) أكمل مايلي لأنواع الهجرة من حيث :

- ١- المكان : حيث أنها تكون : داخلية أو خارجية .
- ٢- مدة الإقامة : حيث أنها تكون : دائمة أو مؤقتة .
- ٣- الرغبة : حيث أنها تكون : اختيارية أو إجبارية .

السؤال الثالث : علل " أذكر السبب "

- ١ - تختلف معدلات المواليد بين الدول من دولة لأخرى .
بسبب اختلاف الأوضاع الاقتصادية والاجتماعية والثقافية بين الدول .
- ٢ - تتفاوت الزيادة الطبيعية من دولة لأخرى .
بسبب اختلاف العوامل المؤثرة في معدلات المواليد والوفيات .

السؤال الرابع : صل بخط بين المصطلح ومعناه

تعريفه	المصطلح
هي انتقال السكان من مكان إلى آخر مع تغيير محل الإقامة ولو لفترة محدودة	المواليد
يقصد به عدد السنوات التي يعيشها الفرد الواحد	أمد الحياة
هم عدد الأطفال الذين ولدوا أحياء في السنة	الهجرة

السؤال الخامس : ضع دائرة حول الإجابة الصحيحة من بين البدائل المعطاه .

- ١- من أهم العوامل التي تؤثر في حجم السكان ونموهم .
 (المواليد - الوفيات - الهجرة)
- ٢- الفرق بين أعداد المواليد وأعداد الوفيات للسكان في مجتمع ما في فترة محددة يقصد به .
 (الزيادة الطبيعية - أمد الحياة - الهجرة)

السؤال السادس : أجب عن الأسئلة التالية:

- س١ : ما ذا يقصد بالنمو السكاني ؟
 ج١ : هو التطور الحاصل في أعداد السكان نتيجة الزيادة الطبيعية (المواليد - الوفيات) والهجرة .
- س٢ : كيف يتم حساب معدل المواليد الخام ؟
 ج٢ : معدل المواليد الخام = $\frac{\text{عدد المواليد الاحياء}}{\text{عدد السكان في منتصف العام}} * 1000$
- س٣ : " تحدث الوفيات نتيجة لعدة عوامل " اذكر ثلاثة من هذه العوامل ؟
 ج٣ : عوامل طبيعية - أمراض - حوادث - حروب
- س٤ : كيف يتم حساب معدل الوفيات الخام ؟
 ج٤ : معدل الوفيات الخام = $\frac{\text{عدد الوفيات خلال السنة}}{\text{اجمالي السكان في منتصف العام}} * 1000$
- س٥ : " من الأسباب التي تؤدي إلى الهجرة عوامل الجذب " ماذا يقصد بعوامل الجذب ؟ مع ذكر مثالين عليها ؟
 ج٥ : عوامل الجذب هي العوامل التي تشجع السكان على الانتقال إلى مكان آخر ،
 من امثلتها : تهيئة فرص عمل بأجور مرتفعة - توفر خدمات تعليمية واجتماعية وصحية ومستوى معيشة أفضل
- س٦ : ماذا عملت السلطنة من أجل الحد من الهجرة من الريف إلى المدينة ؟
 ج٦ : عملت على إقامة المشاريع التنموية والاقتصادية والاجتماعية والصحية في مختلف المحافظات .

{ درس : الكثافة السكانية }

السؤال الأول : ضع علامة (✓) أو (X) أمام العبارة المناسبة مع تصحيح ما تحته خط إذا كانت العبارة خطأ .

- ١- (X) يتوزع سكان العالم على سطح الأرض بشكل متساوٍ . غير متساوي
- ٢- (X) يقل عدد السكان في المناطق الغنية بالموارد الطبيعية . يزداد
- ٣- (✓) عدد القارات في العالم القديم ثلاث قارات فقط .

السؤال الثاني : ضع دائرة حول الإجابة الصحيحة من بين البدائل المعطاه .

١- معظم سكان العالم يعيشون فوق مساحة لا تزيد عن من مساحة العالم .
(١٠% - ٢٠% - ٣٠%)

٢- سكان العالم القديم يمثلون مائته من سكان العالم .
(ربع - ربعين - ثلاثة ارباع)

٣- غالبية سكان العالم يتركزون في نصف الكرة ...
(الجنوبي - الشمالي - الغربي)

٤- تعد السهول من أكبر مناطق العالم إزدحاما بالسكان
(الساحلية - الداخلية - النهرية)

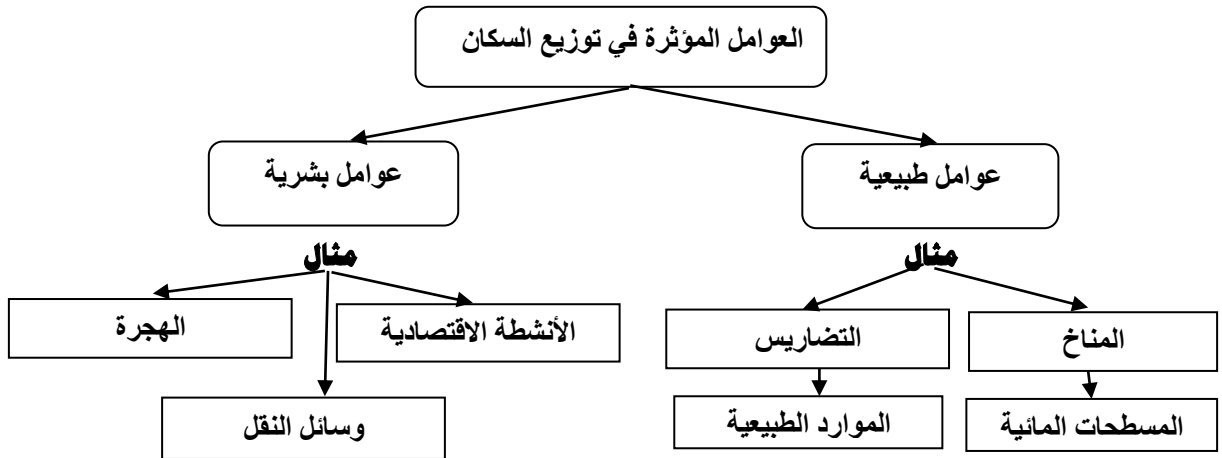
السؤال الثالث : أكمل مايلي بعبارات مناسبة من عندك .

- ١- توصف المناطق المزدحمة بالسكان بانها مناطق ذات كثافة سكانية عالية .
- ٢- توصف المناطق قليلة السكان بانها ذات كثافة سكانية منخفضة .
- ٣- يساعد عنصر المطر في ارتفاع الكثافة السكانية في العديد من مناطق العالم .

السؤال الرابع : علل " أذكر السبب " .

١ : يفضل الإنسان العيش في المناطق السهلية على المناطق الجبلية ؟
لسهولة الوصول إليها وملاءمتها لبناء المسكن وقيام الزراعة

٢- يميل الإنسان الى الانتشار في المناطق التي تشرف على المسطحات المائية أو القريبة منها ؟
لاعتدال مناخها وتوافر الثروات البحرية فيها

السؤال الخامس : أكمل الجدول التالي :**السؤال الخامس : أجب عن الأسئلة التالية:**

س ١ : ما ذا يقصد بالكثافة السكانية ؟

ج ١ : عدد السكان في الكيلو متر المربع الواحد

س ٢ : تقسم العوامل التي تؤثر في وتوزيع سكان العالم إلى قسمين ماهما ؟

ج ٢ : ١- العوامل الطبيعية ٢- العوامل البشرية

س ٣ : عرف الكثافة السكانية ؟ وكيف تحسب ؟

ج ٣ : الكثافة السكانية هي عدد السكان في الكيلو متر المربع الواحد .

جملة عدد السكان في منطقة ما

حساب الكثافة السكانية

المساحة الكلية للمنطقة (كم ٢)