

شكراً لتحميلك هذا الملف من موقع المناهج العمانية



نموذج اختبار قصير أول

موقع المناهج ← المناهج العمانية ← الصف السابع ← رياضيات ← الفصل الثاني ← الملف

تاريخ نشر الملف على موقع المناهج: 2024-03-08 10:40:11 | اسم المدرس: معالج الآمال

التواصل الاجتماعي بحسب الصف السابع



روابط مواد الصف السابع على تلغرام

[الرياضيات](#)

[اللغة الانجليزية](#)

[اللغة العربية](#)

[التربية الاسلامية](#)

المزيد من الملفات بحسب الصف السابع والمادة رياضيات في الفصل الثاني

[ملخص ثاني للمادة من سلسلة همّة وإنجاز](#)

1

[مراجعة شاملة للمادة](#)

2

[إجابات تمارين كتابي الطالب والنشاط](#)

3

[ملخص الوحدة التاسعة التماثل](#)

4

[نموذج إجابة الامتحان الرسمي النهائي بمحافظة جنوب الباطنة](#)

5



الاختبار القصير الأول لمادة الرياضيات
الصف السابع - الفصل الدراسي الثاني للعام الدراسي 2023-2024م

١٥


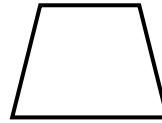

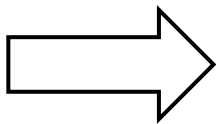
الصف: 7 / ()

اسم طالبتي المجتهدة :

حوظ على جميع الاشكال التي لها خط تماثل واحد فقط

(1)

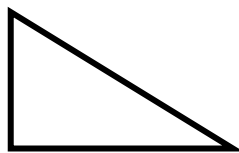
[1]



أكمل

(2)

[1]

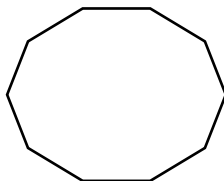


وتر المثلث في الشكل المثلث المقابل هو _____

حدد نوع البيانات في كل ممايلي

(3)

[2]



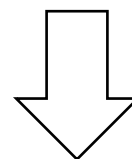
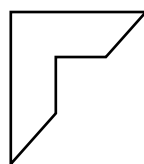
عدد أضلاع الشكل _____

أطوال أضلاع الشكل _____

حوظ الشكل الذي له محور تماثل قطري:

(5)

[1]



شكل رباعي فيه ضلعان متوازيان فقط، ورتبة تماثل دوراني قدرها 1 فمن أنا؟ (حوظ الإجابة الصحيحة)

(6)

[1]

شبه منحرف
متطابق الضلعين

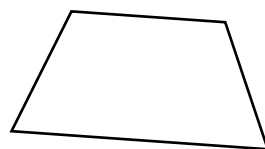
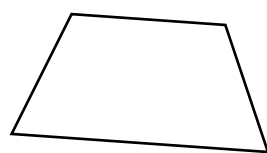
المستطيل

الدالتون

المربع

إذا علمت ان الشكلين متطابقين فأوجد ما يلي

[3]



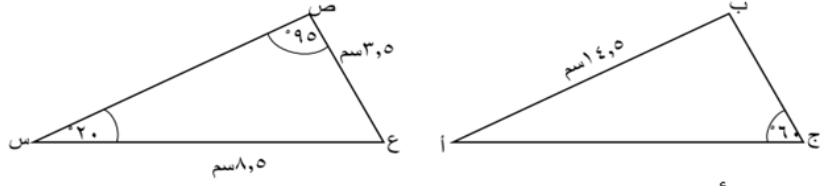
طول (أ ب) _____

طول (س ع) _____

طول (ج د) _____

إذا كان مثلثان أ ب ج ، س ص ع متطابقان

(7)



ضع إشارة أمام العبارة الصحيحة :

العبارة	صح	خطأ
(١) طول س ص يساوي ١٤,٥ سم		
(٢) قياس الزاوية (أ ب ج) = ق (س ع ص)		

[2]

(ب)

صل العمود (أ) بما يناسبه في العمود (ب)


القطران غير متعامدان
وينصف كل منهما الآخر



ليس له خطوط تماثل



القطران متعامدان وينصف
كل منهما الآخر



(9)

[2]

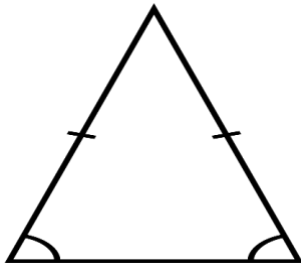
يقول خالد للمثلث التالي ثلاث خطوط تماثل

(10)

(أ) هل خالد على صواب ؟

نعم ، لا

(ب) فسر اجابتك مستعينا بالرسم



[2]

انتهت الأسئلة مع أطيب الدعوات للجميع بالتوفيق