

تم تحميل هذا الملف من موقع المناهج العمانية



الملف اختبار مع سؤال قصير

[موقع المناهج](#) ⇨ [المناهج العمانية](#) ⇨ [الصف السابع](#) ⇨ [علوم](#) ⇨ [الفصل الأول](#)

روابط مواقع التواصل الاجتماعي بحسب الصف السابع



روابط مواد الصف السابع على تلغرام

[الرياضيات](#)

[اللغة الانجليزية](#)

[اللغة العربية](#)

[التربية الاسلامية](#)

المزيد من الملفات بحسب الصف السابع والمادة علوم في الفصل الأول

[امتحان وإجابة الأسئلة الرسمية للفصل الدراسي الأول الدور الأول 20162017](#)

1

[كتاب دليل المعلم لمادة العلوم](#)

2

[تحميل كتاب الطالب](#)

3

[ملف تحميل أسئلة الامتحانات الرسمية والأجوبة للسنوات السابقة](#)

4

[مذكرة شرح الوحدة الأولى](#)

5

السؤال القصير (١)لمادة العلوم للصف الثالث

اسم الطالب / ة :

الصف : ٣ /

الدرجة الكلية / / ٥

تم تحميل هذا الملف من

موقع المناهج العمانية

alManahj.com/om

ظل الشكل البيضاوي يمين الإجابة الصحيحة : (درجة)

(١) المجموعة الغذائية التي يجب أن نأكل منها بأقل كمية هي :

النشويات البروتينات الدهون الخضروات والفواكه

(٢) أكمل الفراغ بالكلمة واحدة مناسبة : (٢ درجة)

(أ) تناول السكريات بكثرة يضر ب _____

(ب) تناول الكثير من الدهون والملح يضر ب _____

(٣) صنف الأكلات التالية (كولا ، برتقال ، كيك ، أرز) إلى غذاء صحي وغير صحي : (٢ درجة)

غير صحي	صحي

نموذج الإجابة السؤال القصير ١ للعلوم للصف الثالث

تم تحميل هذا الملف من
موقع المناهج العُمانية

المفردة	الإجابة	الدرجة	مستوى التعليم	الهدف						
١	الدهون	١	معرفة	الوحدة الثانية / الاعتناء بأنفسنا نظام غذائي غير صحي						
٢	أ	٢	تطبيق	الوحدة الثانية / الاعتناء بأنفسنا (نظام غذائي غير صحي)						
	ب									
٣	<table border="1"> <tr> <td>صحي</td> <td>غير صحي</td> </tr> <tr> <td>برتقال</td> <td>كولا</td> </tr> <tr> <td>أرز</td> <td>كيك</td> </tr> </table>	صحي	غير صحي	برتقال	كولا	أرز	كيك	٢ (إذا الكل صحيح) درجة () إذا صنف كلمتين أو ٣ كلمات () صفر () إذا واحدة صحيحة	تطبيق	الوحدة الثانية / الاعتناء بأنفسنا (نظام غذائي صحي وغير صحي)
صحي	غير صحي									
برتقال	كولا									
أرز	كيك									

سلطنة عمان

وزارة التربية والتعليم

المديرية العامة بمحافظة جنوب الشرقية

مدرسة سيح السنده للتعليم الأساسي (١ - ٤)

اسم الطالب / ة :

الصف : ٣ /

الدرجة الكلية /

٥ /

الواجب المنزلي (١)

لمادة العلوم للصف الثالث

ظل الشكل البيضاوي يمين الإجابة الصحيحة : (معرفة ، درجة)

(١) يشير السهم إلى جزء من أجزاء النبات هو

الأوراق ○ الجذور ○ الأزهار ○ الساق ○

(٢) أكمل فيما يلي (معرفة ، ٢ درجة)

يحتاج النبات لكي ينمو ؟

أ -

ب -

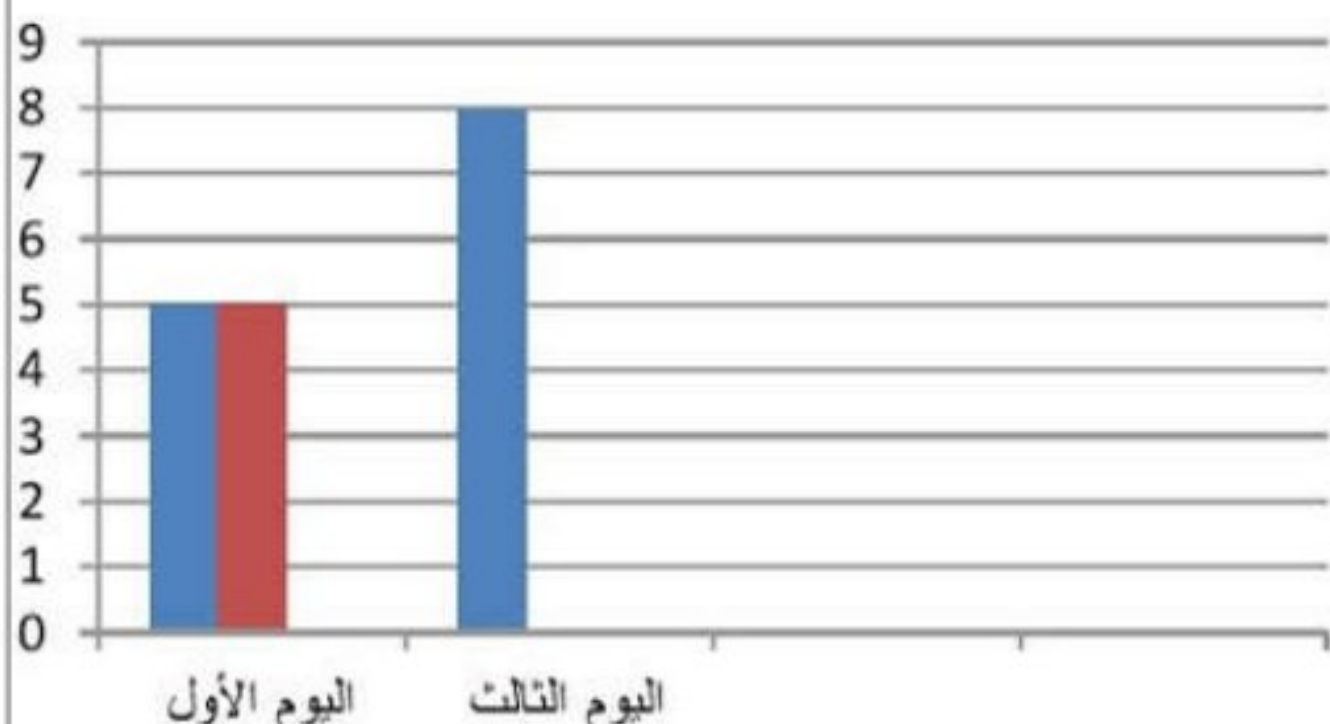
(٣) صل العمود الأول (أجزاء النبات) بوظيفته في العمود الثاني : (معرفة ، درجة)

العمود الثاني
الوظيفة
تمتص الماء من التربة
تنتج البذور
تصنع الغذاء للنبات
ينقل الماء إلى الأوراق والأزهار

العمود الأول
أجزاء النبات
الأوراق
الجذور
الساق
الأزهار

(٣) لدى أحمد نبتتان متشابهتان قام بري واحدة ولم يرو الأخرى ومن ثم قام بقياس طول النبتتين كل يوم .

هذه نتائج اليوم الأول والثالث . (أرسم التمثيل البياني بالأعمدة لليوم الثالث بدون الماء)



مع الماء
بدون ماء
عموداً

اليوم	مع الماء (سم)	بدون ماء (سم)
اليوم الأول	5	5
اليوم الثالث	8	4

نموذج الإجابة الواجب المنزلي ١ للعلوم للصف الثالث

تم تحميل هذا الملف من
موقع المناهج العُمانية

الهدف	مستوى التعليم	الدرجة	الإجابة	الم فر دة
<u>الوحدة الأولى / الاعتناء بالنباتات</u> <u>النباتات وأجزاؤها</u>	معرفة	١	الازهار	١
<u>الوحدة الأولى / الاعتناء بالنباتات</u> <u>(النباتات بحاجة إلى الضوء والماء)</u>	معرفة	١	الضوء	أ
		١	الماء	ب
<u>الوحدة الأولى / الاعتناء بالنباتات</u> <u>(نقل الماء)</u>	معرفة	١	الأوراق : صنع الغذاء للنبات الجنود: تمتص الماء من التربة الساق : ينقل الماء إلى الأوراق والازهار الازهار : تنتج البذور	٣
<u>الوحدة الأولى / الاعتناء بالنباتات</u> <u>(النباتات بحاجة إلى الضوء والماء)</u>	تطبيق	١		٤

نموذج الإجابة الواجب المنزلي ١ للعلوم للصف الثالث

تم تحميل هذا الملف من
موقع المناهج العُمانية

الهدف	مستوى التعليم	الدرجة	الإجابة	المفرقة
<u>الوحدة الأولى / الاعتناء بالنباتات</u> <u>النباتات وأجزاؤها</u>	معرفة	١	الازهار	١
<u>الوحدة الأولى / الاعتناء بالنباتات</u> <u>(النباتات بحاجة إلى الضوء والماء)</u>	معرفة	١	الضوء	أ
		١	الماء	ب
<u>الوحدة الأولى / الاعتناء بالنباتات</u> <u>(نقل الماء)</u>	معرفة	١	الأوراق : صنع الغذاء للنبات الجنور: تمتص الماء من التربة الساق : ينقل الماء إلى الأوراق والازهار الازهار : تنتج البذور	٣
<u>الوحدة الأولى / الاعتناء بالنباتات</u> <u>(النباتات بحاجة إلى الضوء والماء)</u>	تطبيق	١	<p>مع الماء بدون ماء عموداً</p> <p>اليوم الأول اليوم الثالث</p>	٤

اختبار مادة العلوم (١)

للفص الثالث

اسم الطالب / ة :

الصف : ٣ /

معرفة وفهم / / ٧

حل مشكلات / / ٣

الدرجة الكلية / هذا الملف من / ١٠

موقع المناهج العمانيه

alManahj.com/om

ظل الشكل البيضاوي يمين الإجابة الصحيحة :

١- لعظام وأسنان قوية تحتاج إلى : (درجة)

○ الحلويات ○ مشتقات الالبان ○ النشويات ○ البروتينات

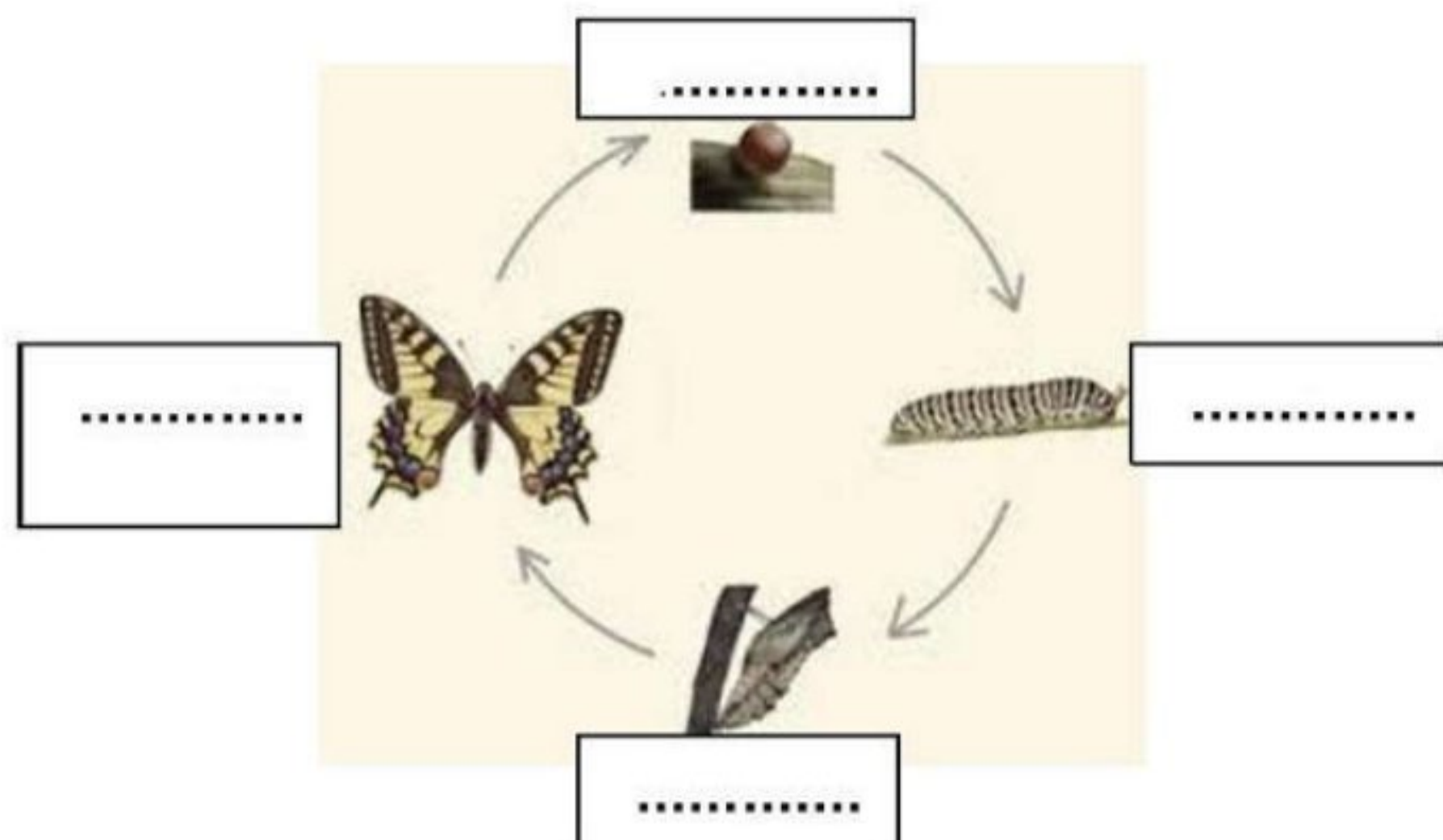
٢- عندما نعيش من دون ماء لأيام قليلة فإن . (درجة)

ضع الرمز (√) داخل المربع الصحيح لكل عبارة .

خطأ	صواب	العبارة
<input type="checkbox"/>	<input type="checkbox"/>	أ) نصاب بالجفاف عندما ينقص الماء من أجسامنا .
<input type="checkbox"/>	<input type="checkbox"/>	ب) الماء من النظام الغير الصحي.

٣- ممارسة التمارين الرياضية مفيدة للقلب والعظام و (درجة)

٤) أكتب المصطلحات على دورة حياة الفراشة التالية (٢ درجة)



٥) صنف الأشياء التالية إلى كائنات حية وأشياء غير حية : (٢ درجة)

تم تحميل هذا الملف من
موقع المناهج العُمانية

(نبات ، كرة ، جمل ، طاولة)

alManahj.com/om

كائنات حية	أشياء غير حية


ظل الشكل البيضاوي يمين الإجابة الصحيحة : (درجة)

١- قام محمد بوضع وردة بيضاء ذات ساق في وعاء الماء ثم أضاف قطرات قليلة من الصبغة الحمراء ، فأن ما سيحدث للنبتة هو ؟



يصبح لونها أزرق تموت يصبح لونها أحمر لا يحدث شيء

٢- خطط فيصل وجاسم للقيام باستقصاء



(أ) أي النبتتين ستتمو بشكل أفضل ؟ _____

(ب) ماذا سيحدث اذا وضعت النبتة رقم ٢ في مكان مظلم ؟

(٢ درجة)

تمنياتى لكم بالتوفيق و النجاح ...