

تم تحميل هذا الملف من موقع المناهج العُمانية



*للحصول على أوراق عمل لجميع الصفوف وجميع المواد اضغط هنا

<https://almanahj.com/om>

* للحصول على أوراق عمل لجميع مواد الصف السابع اضغط هنا

<https://almanahj.com/om/7>

* للحصول على جميع أوراق الصف السابع في مادة علوم ولجميع الفصول, اضغط هنا

<https://almanahj.com/om/7science>

* للحصول على أوراق عمل لجميع مواد الصف السابع في مادة علوم الخاصة بـ الفصل الأول اضغط هنا

<https://almanahj.com/om/7science1>

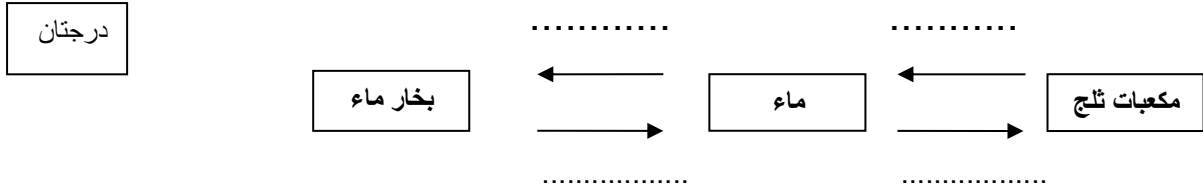
* لتحميل كتب جميع المواد في جميع الفصول لـ الصف السابع اضغط هنا

<https://almanahj.com/om/grade7>

للتحدث إلى بوت المناهج العُمانية على تلغرام: اضغط هنا

https://t.me/omcourse_bot

السؤال الاول : اكمل الفراغات بالعمليات المناسبة :



السؤال الثاني :

رتب المواد التالية من حيث سرعة انتشار جزيئاتها :

درجتان

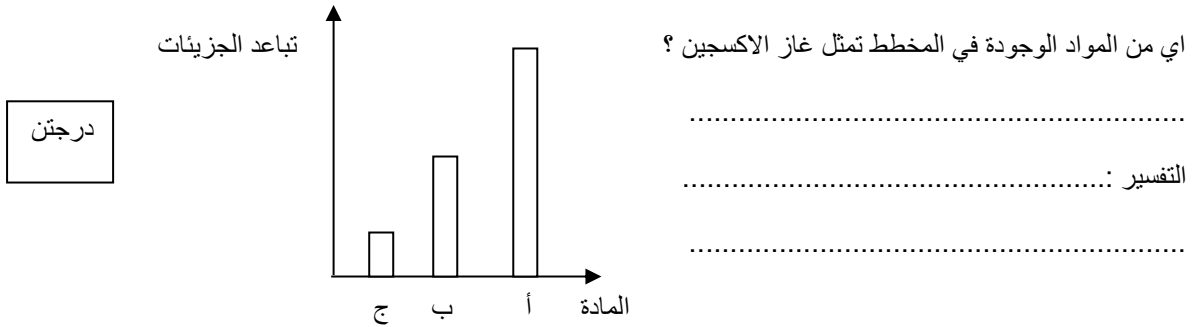
| | | |
|--------|--------|-------|
| الهواء | الحديد | الماء |
|--------|--------|-------|

.....

..... مع التفسير

السؤال الثالث:

الشكل التالي يمثل ثلاث أعمدة لمواد صلبة وسائلة وغازية



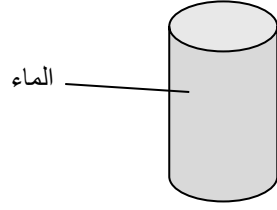
السؤال الرابع :

صل بخط بين العمود (أ) والعمود (ب)

درجة

| | |
|--------------|-------|
| الأكسجين | صلبة |
| ملح الطعام | سائلة |
| عصير الليمون | غازية |

درجتان



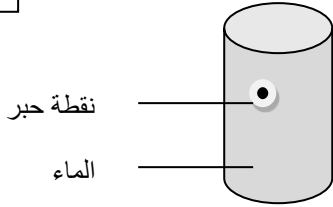
السؤال الخامس :

ما هي خصائص المادة الموجودة في الكأس من حيث :

1- الشكل :

2- الحجم :

درجة



السؤال السادس :

ماذا يحدث لسرعة انتشار نقطة الحبر عند تسخين الماء

(تزداد / تقل /)

التفسير :

.....

انتهت الاسئلة