

## شكراً لتحميلك هذا الملف من موقع المناهج العمانية



## اختبار قصير أول

موقع المناهج ← المناهج العمانية ← الصف السابع ← علوم ← الفصل الأول ← الملف

تاريخ نشر الملف على موقع المناهج: 2022-11-27 18:49:19 | اسم المدرس: إيمان البكاري

## التواصل الاجتماعي بحسب الصف السابع



## روابط مواد الصف السابع على تلغرام

[الرياضيات](#)

[اللغة الانجليزية](#)

[اللغة العربية](#)

[التربية الاسلامية](#)

## المزيد من الملفات بحسب الصف السابع والمادة علوم في الفصل الأول

[نشاط درس الصخور والمعادن والتربة مع نموذج الإجابة](#)

1

[نشاط الكائنات الدقيقة والتحلل مع نموذج الإجابة](#)

2

[نشاط الكائنات الدقيقة والأمراض مع نموذج الإجابة](#)

3

[نشاط درس الصخور النارية مع نموذج الإجابة](#)

4

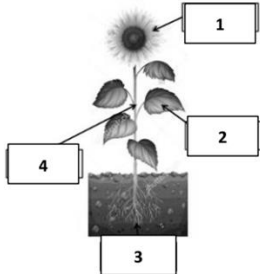
[ملخص شرح درس استخدام الطاقة](#)

5

اسم المتميزة: .....  
الصف: 7/.....

مدرسة فيض المعرفة للتعليم الأساسي (5-10)  
الاختبار القصير الأول للصف السابع في مادة العلوم

كوني صاحبة همة عالية  
تناطح السحاب



(1) يمثل الشكل أعضاء النبات.

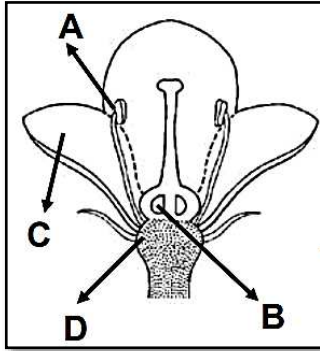
رمز العضو المسؤول عن امتصاص الطاقة من ضوء الشمس: (1)

1 2 3 4

(2) يوضح المخطط تركيب الزهرة.

صلي بين القائمة (1) والقائمة (2):

(2)



الوظيفة

الجزء

يحمي الزهرة

(A)

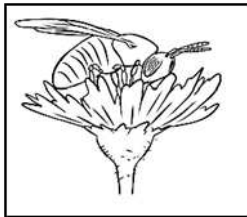
يحوي الأمشاج الذكرية

(B)

يحوي الامشاج الانثوية

(C)

يجذب الحشرات



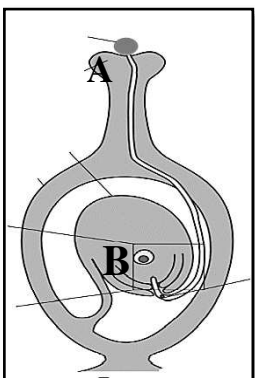
(3) أ. ما اسم العملية الموضحة في الشكل المقابل: (1)

.....

ب. اذكرين من طرق انتشار البذور. (2)

.....

.....



(4) الشكل المقابل يمثل عملية الاخصاب في الزهرة، ادرسي الشكل جيدا ثم أجيبي عما يلي:

أ. عند اندماج نواة الخلية (A) مع نواة الخلية (B) تتكون خلية جديدة تسمى (1)

.....

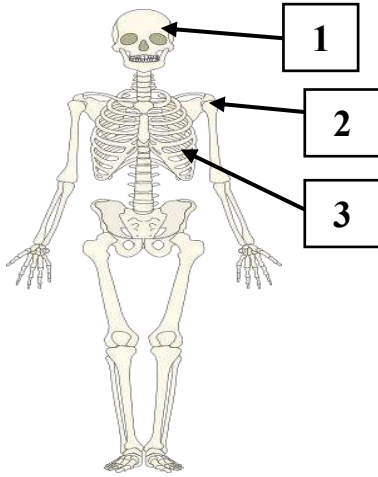
ب. اذا تم إزالة هذا الجزء من الزهرة، تنبأ بما قد يحدث لعملية الاخصاب؟ (1)

.....

(1)

(5) ضعي علامة (√) أمام كل عبارة من العبارات التالية:

م	العبارة	صح	خطأ
1	من أعضاء الجهاز الدوري، الرئتين والفم		
2	وظيفة الجهاز العصبي ارسال الإشارات الكهربائية إلى الدماغ		



(6) يوضح الشكل المقابل الجهاز العظمي للإنسان.

أ. رقم الجزء الذي يحمي الدماغ هو.....

ب. ما وظيفة القفص الصدري؟.....

ج. الجزء المشار إليه بالرقم (3) يعتبر مفصل:

(اختر الإجابة الصحيحة)

رزي كروي

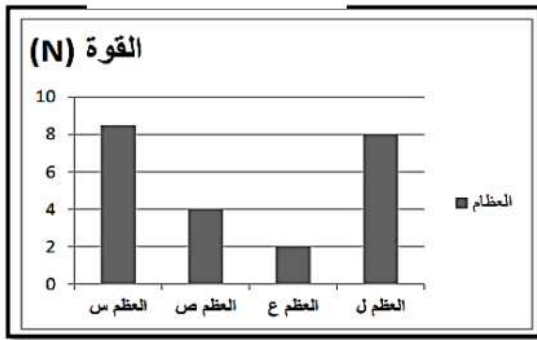
(7) يوضح الشكل المقابل القوة اللازمة لكسر مجموعة من العظام

(س، ص، ع، ل)

العظم الأطول من بين العظام هو:

(اختر الإجابة الصحيحة)

س ص ع ل



(8) الشكل المقابل يوضح تركيب المفصل المتحرك.

(1)

أ. مكان التقاء عظمتين يسمى:

(اختر الإجابة الصحيحة)

العضلة المفصل الوتر العظم

(1)

ب. ماذا سيحدث إذا لم تحتوي المفاصل على الغضاريف والسائل الزلالي؟

.....

كل التوفيق أرجوه لك يا متميزة  
معلمتك: إيمان البكري