

شكراً لتحميلك هذا الملف من موقع المناهج العمانية



أسئلة موضوعية لدرس حضارة مصر القديمة

موقع المناهج ← المناهج العمانية ← الصف السابع ← اجتماعيات ← الفصل الثاني ← الملف

التواصل الاجتماعي بحسب الصف السابع



روابط مواد الصف السابع على تلغرام

[الرياضيات](#)

[اللغة الانجليزية](#)

[اللغة العربية](#)

[التربية الاسلامية](#)

المزيد من الملفات بحسب الصف السابع والمادة اجتماعيات في الفصل الثاني

[الامتحان الرسمي النهائي بمحافظة الداخلية](#)

1

[الاختبار النهائي الرسمي في محافظة مسقط](#)

2

[نموذج إجابة الاختبار النهائي الرسمي في محافظة شمال الشرقية](#)

3

[الامتحان الرسمي النهائي لمحافظة الشرقية](#)

4

[الامتحان الرسمي النهائي لمحافظة الداخلية](#)

5

## الوحدة الخامسة (حضارات مصر والهلال الخصيب) حضارة مصر القديمة

١- عاش الانسان في مصر في ظل ظروف قاسيه بسبب /

أ- الحروب ب- الجفاف وقلة المطر ج- تعدد الالهة د- الفيضانات

٢- يشير الرقم (١) في الخريطة الى نهر /

أ- النيل ب- دجلة ج- الفرات د- العاصي

٣- هيرودوت صاحب مقولة مصر /

أ- منارة النيل ب- فتاة النيل ج- قنديل النيل د- هبة النيل

٤- امتدت حضارات وادي النيل من /

أ- أعالي النيل جنوبا الى البحر المتوسط شمالا ب- أعالي النيل جنوبا الى بحيرة قارون شمالا

ج- أعالي النيل جنوبا الى البحر الاحمر شمالا د- أعالي النيل شمالا الى البحر المتوسط جنوبا

٥- اعتقد المصريون القدماء أن فيضان النيل يجلب لهم الحياة والثروة لذلك قدموا لها /

أ- السدود ب- القرايين ج- الالهة د- قصائد الشعر

٦- ترمز الصورة التي أمامك الى /

أ- تفكك مصر ب- حروب مصر ج- انقسام مصر د- وحدة مصر

٧- يقع الوجه البحري بالنسبة لمصر في جهة /

أ- الجنوب ب- الشمال ج- الغرب د- الشرق

٨- عرفت جهة الجنوب من مصر باسم /

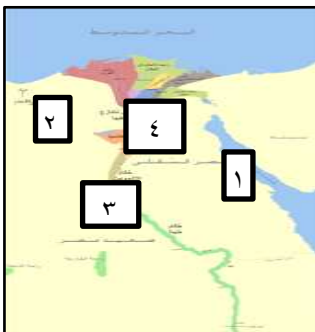

أ- الوجه البحري ب- واجهة مصر ج- الوجه القبلي د- أرض المعابد

٩- الصورة التي أمامك ترمز الى توحيد المملكتين في عهد

أ- تحتمس ب- امنحوتب الرابع ج- أحمس د- مينا

١٠- الرقم الذي يشير الى مدينة ممفيس (منف) رقم /

أ- ١ ب- ٢ ج- ٣ د- ٤



١١- مؤسس أول سلالة حاكمة في مصر هو /

أ- رمسيس ب- خوفو ج- مينا د- خفرع

١٢- بداية العصر التاريخي لمصر القديمة ضم حكم الاسرات

أ- الاولى - الثانية ب- الاولى - الثالثة ج- الاولى - الرابعة د- الاولى - الخامسة

١٣- عرف المصريون الكتابة منذ الالف /

أ- السابعة ب- السادسة ج- الخامسة د- الرابعة

١٤- عرف الخط الهيروغليفي باسم /

أ- النقش الالهي ب- النقش المقدس ج- النقش المتقن د- النقش الفرعوني

١٥- استخدم المصريون في كتاباتهم /

البردي
الخشب
الحجر

البردي
الخشب
الجلود

الخشب
الطين
الكتان

الحرير
الخشب
الحجر

د

ج

ب

أ


١٦- كتب المصريون كتاباتهم بأقلام البوص مستخدمين اللونين /

أ- الاسود والاحمر ب- الاحمر والازرق ج- الازرق والاسود د- الازرق والاخضر

١٧- الصورة التي أمامك تشير الى حجر /

أ- فرعون ب- الاسود ج- الرشيد د- الروماني

١٨- من اختصاصات الملك ( فرعون )



الرئاسة العليا
ادارة شؤون الحكم
التشريع
الجيش والدين

الرئاسة العليا
تفقد الاسواق
التشريع
مراقبة النيل

ترأس الجيش
حماية النيل
بناء الاهرامات
سن القوانين

التشريع
حماية الالهة
كتابة النصوص
تعين الموظفين

د

ج

ب

أ

١٩- برعو لقب للفرعون ويعني /

أ- خادم الالهة ب- ساكن البيت العظيم ج- مراقب فيضان النيل د- قائد الجيش

٢٠- استمر حكم عصر الدولة القديمة /

أ- ٣ قرون ب- ٤ قرون ج- ٥ قرون د- ٦ قرون

٢١- عبد الاله رع في عهد الدولة /

أ- الحديثة ب- الوسطى ج- القديمة د- عصر الهكسوس

٢٢- عرفت الدولة القديمة بعصر بناءة /



أ



ب



ج



د

٢٢- السبب في بناء الاهرامات /

أ- اعتقادهم بالبعث والحساب ب- لاتخاذها قصور لهم ج- لتمجيد الالهة د- دور عبادة

٢٣- حفظ المصريين جثث موتاهم عن طريق /

أ- الدفن ب- التحنيط ج- الحرق د- التجميد

٢٤- توجد الاهرامات في مصر في منطقة /

أ- الفيوم ب- دمياط ج- اسوان د- الجيزة

٢٥- ادرجت الاهرامات ضمن عجائب الدنيا السبع بسبب /

أ- ضخامة بنائها وتصميمها ب- عظمة ملوكها ج- ارتفاعها الشديد د- المواد التي شيدت بها

٢٦- تعود الاهرام الثلاث في مصر الى الملوك

تحتمس
احمس
خوفو

د

خوفو
خفرع
منقرع

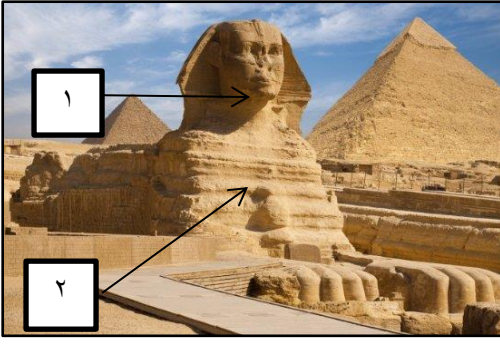
ج

منقرع
خفرع
اخناتون

ب

خوفو
احمس
منقرع

أ



٢٧- الصورة التي أمامك تجسد شخصية الملك /

أ- خوفو ب- منقرع ج- توت عنخ آمون د- خفرع

٢٨- في الصورة التي أمامك يرمز الرقم ( ١ ) ، ( ٢ ) مرتبه الى /

د	
١	الصبر
٢	القلب

ج	
١	القوة
٢	الحكمة

ب	
١	العقل
٢	القوة

أ	
١	القوة
٢	العقل

٢٩ - حكمت الاسرة ( الحادية عشر ) في عهد الدولة /

أ- القديمة ب- الوسطى ج- الحديثة د- الهكسوس

٣٠- الانجاز الذي يسند الى عهد الدولة الوسطى /

١- الاهرامات ب- المسلات ج- استغلال المناجم د- ارسال حملة الى بونت

٣٢- تعرضت مصر في عهد الدولة الوسطى الى غزو من /

أ- المغول ب- الفرس ج- الحيثيين د- الهكسوس

٣٣- الاسرات التي حكمت مصر الحديثة /

أ- ( ٢٠ - ١٦ ) ب- ( ٢٠ - ١٧ ) ج- ( ٢٠ - ١٨ ) د- ( ٢٠ - ١٩ )

٣٤- طرد الهكسوس من مصر على يد /

أ- تحتس الثالث ب- أحمس ج- امنحوتب الرابع د- امنحوتب الثاني

٣٥- حكمت حتشبسوت مصر لمدة

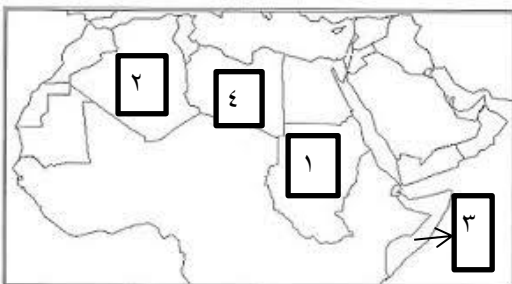
أ- ٢١ سنة ب- ٢٢ سنة ج- ٢٣ سنة د- ٢٤ سنة

٣٦- انتصر الهكسوس في مصر بسبب /

أ- العجلات الحربية ب- المنجنيق ج- الانفاق د- الدبابات

٣٧- بلاد بونت التي ارسلت حتشبسوت حملتها يشير إليها رقم /

أ- ( ١ ) ب- ( ٢ ) ج- ( ٣ ) د- ( ٤ )



٣٨- جلبت حتشبسوت من بلاد بونت المواد التالية /

أ- النحاس واللبان ب- الحديد واللبان ج- الذهب واللبان د- الماس واللبان

٣٩- خاض تحتمس الثالث في فلسطين معركة /

أ- قادش ب- مجدو ج- عمورية د- نينوى

٤٠- خلدت رحلة الملكة حتشبسوت في معبد /

أ- الكرنك ب- أبوسمبل ج- تل العمارنة د- الدير البحري

٤١- الملك الذي أهتم بالاسطول البحري /

أ- رمسيس الثاني ب- أحمس ج- توت عنخ آمون د- تحتمس الثالث

٤٢- اعتقد بوجود إله واحد /

أ- أخناتون ب- توت عنخ آمون ج- رمسيس الثاني د- امنحوتب الثاني

٤٣- أعاد عبادة الإله آمون /

أ- مينا ب- رمسيس ج- توت عنخ آمون د- اخناتون

٤٤- عبد أخناتون إله /

أ- القمر ب- نجم الثريا ج- كوكب زحل د- الشمس

٤٥- اكتشفت مقبرة توت عنخ آمون عام /

أ- ١٩١٠ م ب- ١٩٢٢ م ج- ١٩٣٠ م د- ١٩٤٠ م

٤٦- اخناتون يعني عند الفراعنة /

أ- شبيه آتون ب- عدو آتون ج- شريك آتون د- المخلص لآتون

٤٧- توجد مقبرة توت عنخ آمون في /

أ- طيبة الشرقية ب- طيبة الغربية ج- منف الشرقية د- منف الغربية

٤٨- آخر فراعنة الدولة الحديثة /

أ- اخناتون ب- توت عنخ آمون ج- تحتمس الثالث د- رمسيس الثاني

٤٩- أقدم معاهدة سلام كانت بين المصريين والطرف الآخر /

أ- الهكسوس ب- المغول ج- الحيثيين د- الرومان

٥٠- حكم رمسيس مصر لمدة /

أ- ٥٠ عام ب- ٦٥ عام ج- ٦٧ عام د- ٧٠ عام

٥١- بناء المسلات من إنجازات الملك /

أ- أحمس ب- رمسيس ج- اخناتون د- امنحوتب الثاني

٥٢- شيد رمسيس الثاني عاصمة جديدة لمصر في /

أ- شمال الدلتا ب- جنوب الدلتا ج- شرق الدلتا د- غرب الدلتا

٥٣- الصورة التي أمامك تشير الى الملك /

أ- أحمس ب- مينا ج- توت عنخ آمون د- رمسيس الثاني

٥٤- تعبر الصورة عن حرب المصريين ضد

أ- الحيبثيين ب- الهكسوس

ج- التتار د- الفرس

٥٥- تعرف الكتابة في الصورة المقابلة بـ /

أ- المسمارية ب- الفينيقية

ج- الهيروغليفية د- اللاتينية

٥٦- الشخصية التي تعبر عنها الصورة /

أ- نفرتيتي ب- حتشبسوت

ج- مينا د- رمسيس

انتهت الاسئلة

إعداد الاستاذة / وفاء العلوي

