

تم تحميل هذا الملف من موقع المناهج العُمانية



*للحصول على أوراق عمل لجميع الصفوف وجميع المواد اضغط هنا

<https://almanahj.com/om>

* للحصول على أوراق عمل لجميع مواد الصف السابع اضغط هنا

<https://almanahj.com/om/7>

* للحصول على جميع أوراق الصف السابع في مادة علوم ولجميع الفصول, اضغط هنا

<https://almanahj.com/om/7science>

* للحصول على أوراق عمل لجميع مواد الصف السابع في مادة علوم الخاصة بـ الفصل الأول اضغط هنا

<https://almanahj.com/om/7science1>

* لتحميل كتب جميع المواد في جميع الفصول لـ الصف السابع اضغط هنا

<https://almanahj.com/om/grade7>

للتحدث إلى بوت على تلغرام: اضغط هنا


https://t.me/omcourse_bot

أختبار قصير الأول لصف السابع في مادة العلوم

الأسم: الصف: السابع | زمن الاختبار: ٢٠ دقيقة

١-مصنع الغذاء في النبات هو.....

الزهرة الساق الأوراق الجنور (ظلي الأجابة الصحيحة) (درجة)



٢- يوضح الشكل المقابل ثمرة نبات الهندباء .

طريقة انتشار بذور هذه الثمرة هي.....

الماء الرياح (ظلي الأجابة الصحيحة)

فسري أجايتك؟..... (درجة)



٣- في الشكل المقابل يستطيع لاعب كرة التنس تحريك ذراعه دورة كاملة لضرب الكرة.

فسري ذلك؟..... (درجة)

٤- ضع علامة () أمام كل من العبارات التالية في الموقع المناسب: (درجة)

العبارة	صح	خطأ
عالم التشريح هو العالم الذي يدرس الأجسام الحية باستخدام الأشعة.		
عالم الأعصاب هو العالم الذي يدرس طريقة عمل الجسم.		



٦- الشكل المقابل يوضح طفل يقوم برفع ثقل بيده. (درجة)

ماذا يحدث للعضلة ذات الرأسين في حالة رفع الثقل؟.....

٧- صلي كل مفردة مع ما يناسبها من العمود الأيسر: (درجتين)



العمود الأيسر
نواة خلية جنسية مثل خلية بويضة أو حيوان منوي
اندماج نواة المشيج المذكر مع نواة المشيج المؤنث
خلية تنتج عند اندماج نواتي خليتين جنسيتين معا.
انتقال حبة اللقاح من المتك إلى الميسم

موقع المناهج العمانية almanahj.com/om

العمود الأيمن
التلقيح
الأخصاب
الزيجوت

(درجة)

٧- جميع ما يلي تعتبر ثمارا ما عدا:

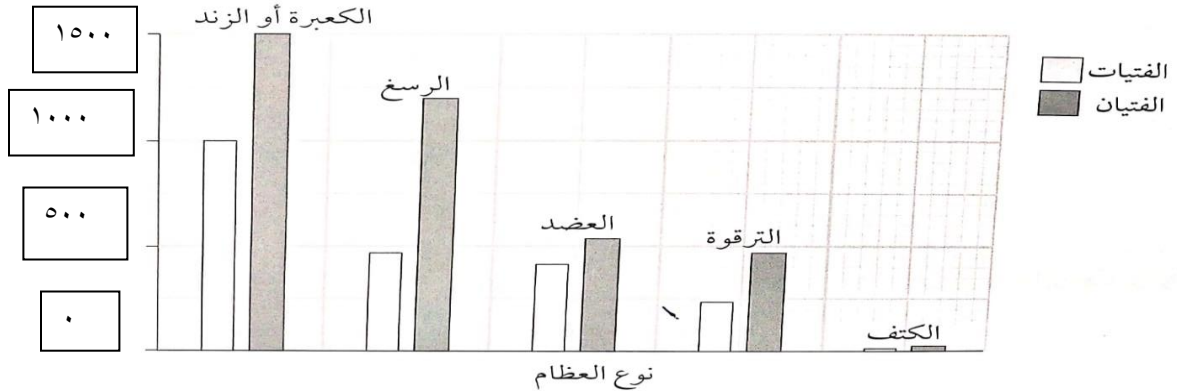


(ظلل الأجابة الصحيحة)



٨- يوضح التمثيل البياني بالأعمدة التالي معلومات عن العظام المكسورة في سلطنة عمان خلال عام في الأشخاص الذين تقل أعمارهم عن ١٨ عام.

استخدم التمثيل البياني للإجابة عن الأسئلة التالية:



(درجة)

أ. ما نوع العظام التي كسرت بشكل أقل؟

.....

ب. بكم يقل عدد مرات كسر الرسغ عن العضد التي تعرضت لها الفتيات؟ وضح خطوات الحل؟

(درجة)

.....

نموذج إجابة الاختبار القصير الأول للصف السابع

موقع المناهج العُمانية almanahj.com/om

رقم السؤال	المفردة	الإجابة	الدرجة	معلومات أخرى	رقم الهدف	مستوى التعلم	موضوع الدرس				
١	-	الأوراق	١	-	7Bp1	معرفة	اعضاء النبات				
٢	-	الرياح لأنها خفيفة الوزن	١	# درجة عندما يكون الاختيار والتفسير صحيحان # صفر للاختيار الصحيح والتفسير الخاطئ والعكس	7Bp2	معرفة	الثمار				
٣	-	لأن مفصل الكتف مفصل كروي	١	# درجة عند إجابة الطالب إجابة صحيحة # صفر عند الإجابة الصحيحة	7Bh1	تطبيق	المفاصل				
٤	-	<table border="1" style="display: inline-table; vertical-align: middle;"> <tr> <td>√</td> <td>١</td> </tr> <tr> <td>x</td> <td>٢</td> </tr> </table>	√	١	x	٢	١	# درجة عند الإجابة الصحيحة على العبارتين # صفر عند الإجابة على عبارة واحدة أو الإجابتين خطأ	7Bh3	معرفة	دراسة جسم الإنسان
√	١										
x	٢										
٥	-	تنقبض	١	# درجة عند الإجابة الصحيحة # صفر عند الإجابة الخاطئة	7Bh1	تطبيق	العضلات				
٦	-		٢	# درجتان عند توصل كل جزء من أشكال صحيح مع ما يقابله من العمود ب # درجة واحدة عند توصيل جزئين فقط # صفر عند توصيل جزء واحد فقط	7Bp2	معرفة	التلقيح والاختصاص				
٧	-	الجزر	١	-	7Bp2	تطبيق	الثمار				
٨	أ	الكتف	١	# درجة عند الإجابة الصحيحة # صفر عند الإجابة الخاطئة	7Ec1	استدلال	الهيكل العظمي للإنسان				
	ب		١	# درجة عند الإجابة الصحيحة # صفر عند الإجابة الخاطئة							